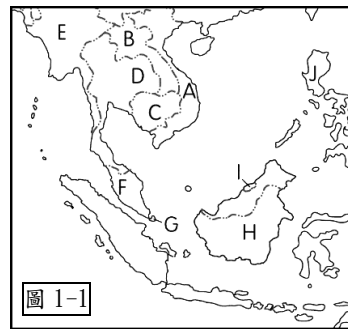


本試卷分地理、歷史、公民 3 個部份，請依序作答，並按照題號畫卡。  
各部份題目配分及試卷頁數請參見說明，總分為 100 分。請謹慎作答。

班級： 座號：  
姓名：

第 1 部份：地理（共 17 題，每題 2 分，共 2 頁）

**圖 1-1**為東南亞政區圖，A~J 為各國代號。請回答 1~3 題



- 針對圖 1-1 國家的描述何者『錯誤』？(A)A 國精華區位於河口三角洲 (B)B 國河流源自中國的雲貴高原 (C)J 國位於環太平洋火山地震帶上 (D)H 國因首都出現人口過於集中及海水倒灌等問題故決定遷都
- 政府在 2016 年推動「新南向政策」，擴大與東南亞國協、南亞等國的經貿、產業等往來，希望為臺灣的經濟開創新局面。請問圖 1-1 中哪一個國家，由於風俗習慣及文化和臺灣較為接近，派遣過去的員工適應情況良好，早已成為臺商投資重鎮？(A)A 國 (B)B 國 (C)C 國 (D)D 國
- 根據中華民國交通部觀光局數據顯示，國人至東南亞國家旅遊的人數逐年提升，最主要的原因即是東南亞國家的物價低廉，且處於熱帶地區，擁有豐富的海洋自然景觀、特殊島嶼文化等因素。請問下列景點照片與圖 1-1 東南亞國家的配對何者正確？

(A) E 國

(B) I 國



(C) D 國

(D) F 國



- 下面針對東南亞國家的宗教敘述何者『有誤』？  
(A)印尼峇里島盛行印度教 (B)菲律賓北部盛行天主教 (C)緬甸以佛教為主 (D)柬埔寨信奉伊斯蘭教

**圖 1-2**是東南亞兩個都市氣候圖。

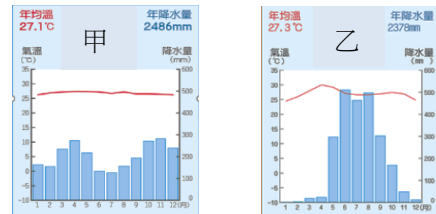


圖 1-2

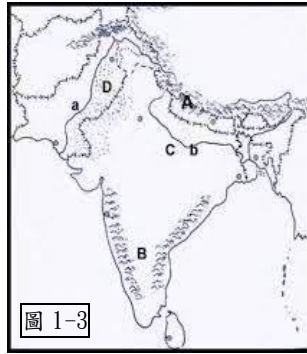
- 請問下列敘述何項正確？  
(A)降雨類型：甲圖是對流雨、乙圖是地形雨  
(B)分布區域：甲是中南半島、乙是馬來半島  
(C)氣候類型：甲是熱帶季風、乙是熱帶雨林  
(D)氣候特色：甲是乾濕分明、乙是年溫差大
- 越式河粉、泰式炒粿條、肉骨茶等這些具有南洋風味的異國料理對臺灣人來說並不陌生，如同臺灣在地的傳統小吃一般，這些料理的背後也蘊含著國家的特色與歷史發展的軌跡...請問下列敘述何項『有誤』？(A)菲律賓曾受西班牙殖民帶來燉飯料理 (B)泰國受中國米食文化影響有多樣米製食品 (C)汶萊因受印度文化影響故多食用咖哩 (D)印尼因宗教關係故不吃豬肉相關品

**【2023 經濟大預測】**30 年來第一次，東南亞經濟成長超越中國，也是支撐全球成長的主力。受惠貿易戰、中國防疫政策，科技業紛紛前來設廠。但對於「淨零減排」的全球主旋律，仍停留在喊目標，恐是未來發展隱憂。(摘自天下雜誌第 763 期)

- 請問下列對東南亞國家的產業特性描述何者正確？(A)利用技術優勢發展高科技產業 (B)大部分國家以農、礦產品等原料輸入為主 (C)泰國、馬來西亞、印尼、新加坡有『亞洲四小虎』之稱 (D)近年於馬來西亞、印尼、汶萊發現石油及天然氣而帶動經濟發展。
- 東南亞在經濟發展過程出現不同隱憂，請問下列敘述何者『有誤』？(A)印尼熱帶雨林因過度開墾而有消失的危機 (B)大量鄉村人口湧入都市因而外圍形成貧民窟 (C)熱帶栽培業因種植糧食作物導致市場風險高 (D)交通衛生公共設施不足

圖 1-3 是南亞地形簡圖

(A~D 為地理區，a 與 b 為河流)請問

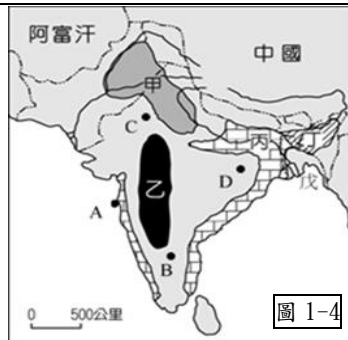


9. 對於圖上地理區的特性描述何者正確?

- (A) A 區為古老陸塊、礦產豐富 (B) b 為印度河，印度教徒視為聖河 (C) B 區為德干高原，地勢西高東低 (D) D 區因距海遙遠形成熱帶沙漠

新聞報導--印度遭到攝氏 40 度以上高溫熱浪衝擊，民眾幾乎被烤到要昏倒，有城市溫度甚至來到攝氏 50 度，炎熱天氣加上比往常少 60%到 70%的降雨，造成印度可望豐收的小麥作物變成一場農業災難。因此印度還宣布禁止小麥出口，進一步推高全球小麥價格...

圖 1-4 中甲~戊區為作物區，A~D 為重要都市。請回答第 10~12 題



10. 請問上述新聞報導的發生時間最有可能下列哪一個月份?(A)2 月

- (B)5 月(C)8 月(D)11 月

11. 印度小麥主要產區應該是圖 1-4 中的何區?

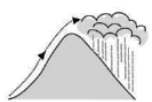
- (A)甲區(B)乙區(C)丙區(D)戊區

12. 請問下列針對圖 1-4 中特色描述何者正確?

- (A)甲與丙作物不同的主要原因是因地形差異 (B)B 市高科技工業集中,有『印度矽谷』之稱 (C)c 市為印度首都,也是電影製片業發展重心 (D)戊區與斯里蘭卡都是世界著名的紅茶產地

13. 位於印度的乞拉朋吉有『世界雨極』之稱，請問其主要降雨類型為何者?

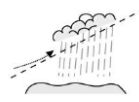
(A)



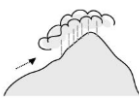
(C)



(B)



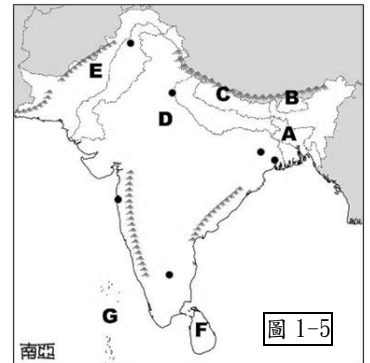
(D)



14. 印度是世界上最大的企業後勤中心，全球大量跨國企業將客戶服務和技術支援等「後勤服務」外包給印度，在印度接近有 450 萬人從事此工作。請問：下列何者『不是』跨國企業考量到印度發展的優勢條件？

- (A)科技人員眾多且薪資低廉 (B)英語是官方語言溝通方便 (C)人口結構年輕是經濟優勢 (D)基礎建設完善產業結構佳

南亞地區人口眾多、族群複雜、宗教多元，各國家除了社會問題外，也因自然環境異異，出現不同的環境災害...。圖 1-5 為南亞政區圖(A~G 為國名)。



請回答 15~17 題

15. 請問下列哪一組國家

其主要信奉的宗教是相同的?

- (A)A 國和 E 國 (B)B 國和 D 國 (C)D 國和 F 國 (D)A 國和 C 國

16. 請問下列對南亞各國環境問題的敘述何者『有誤』?

- (A)A 國因地勢低窪，每逢豪雨容易形成水災 (B)C 國因經濟快速發展，空氣品質惡化嚴重 (C)E 國乾燥地區因過度灌溉出現土壤鹽鹼化 (D)G 國因全球暖化使大量國土遭受淹沒危機

17. 『外界常以大象形容印度，不僅是步伐緩慢，也是比喻其大。印度除了地大人多的特質外，因時空因素與發展背景使得語言、宗教、人種皆具有高度的多樣性。所以有人形容印度文化就像是綜合香料，其實是不同小元素所集合而成的...』。請問對印度的敘述，何者『有誤』?

- (A)因過去實施種姓制度導致社會發展不均 (B)因喀什米爾問題常與巴基斯坦發生爭執 (C)為 ASEAN 會員國享有關稅優惠有助經濟 (D)會超越中國成為世界人口數最多的國家

※地理試題結束，請換頁繼續作答

本試卷分地理、歷史、公民 3 個部份，請依序作答，並按照題號畫卡。  
各部份題目配分及試卷頁數請參見說明，總分為 100 分。請謹慎作答。

班級：            座號：  
姓名：

第 2 部份：歷史（18~34 題，每題 2 分，共 34 分，共二頁）

18. 新文化運動時期的「德先生」和「賽先生」指的是下列何者？ (A)民族、理性 (B)民主、工業 (C)民主、科學 (D)民族、科學。
19. 袁世凱死後，各地軍人在地方上強徵稅收、爭奪地盤，甚至以經濟利益換取列強支持，以鞏固勢力範圍，形成民國史上的哪個時期？ (A)軍閥割據 (B)洪憲帝制 (C)南北分裂 (D)北伐時期。
20. 民國初年，一些新知識分子認為中國必須進行思想文化的改革，才能成為現代化的國家，而有「新文化運動」的展開。請問下列關於新文化運動的敘述，何者正確？  
(A)陳獨秀擔任北京大學校長期間，鼓勵自由學風  
(B)魯迅在文中使用新式表點符號，有助於教育普及  
(C)蔡元培引進西方學說共產主義，成立中國共產黨  
(D)胡適於新青年雜誌上，發表白話文小說狂人日記
21. 民國八年，一張令中國人聞之熱血的傳單上寫著：「中國的土地可以征服而不可以斷送！」「中國的人民可以殺戮而不可以低頭！」。面對巴黎和會對中國主權的出賣，青年學子們走向街頭表達自己的訴求，他們喊出口號，例如：「外爭主權，內除國賊」、「拒絕合約簽字」、「取消二十一條」等。請問：上文所述是指哪一改革運動？ (A)護法運動 (B)立憲運動 (C)新文化運動 (D)五四運動。
22. 民國建立後，代表新的時代來臨，有許多不同於以往的新氣象，下列何者為民國初年的社會新氣象？ (A)傳統士紳取代新知識分子 (B)婦幼與長輩的地位獲得提升 (C)學校教育提倡男女分學 (D)婦女開始就業與參政。
23. 清末民初，人們開始意識到兒童教育的重要性，除了受到世界潮流的影響外，也有國內的因素。請問：當時重視兒童權利，與中國的哪一事件有關？ (A)武昌起事 (B)立憲運動 (C)二次革命 (D)新文化運動。

24. 第一次世界大戰結束，中國以戰勝國之姿參與巴黎和會，當時的中國外交團隊期望能從德國收回在中國某地區的權益，但會議最後卻將該地權益移交給日本。根據內容判斷，上述地區應為附圖中何處？ (A)甲 (B)乙 (C)丙 (D)丁。



25. 清末新知識分子面臨內憂外患，紛紛尋求救國途徑。有人主張：「現今中國同時遭到滿清殘害與列強壓迫，唯一的救國之道就是號召群眾推翻滿清，並提倡民生主義，將中國社會、政治等問題一次解決。」請問上述是何人的主張？ (A)孫中山 (B)袁世凱 (C)梁啟超 (D)段祺瑞。
26. 清廷為了向英、法、德、美四國銀行團借款，宣布「鐵路國有」政策，試圖將川漢、粵漢等鐵路收歸國有，因未給予合理補償，引起各省人士反對，尤以四川省的抗爭最激烈，為革命起事製造有利的機會。上述在四川地區引發的動亂應該是指哪一事件？ (A)保路運動 (B)武昌起義 (C)二次革命 (D)黃花崗之役。
27. 一篇文章中提到：「他是民國初年組建國民黨的實際負責人，因國民黨在首屆國會選舉中獲得絕對多數，當他從上海赴北京準備依法組織責任內閣時，在上海火車站遭槍手暗殺。」文中被暗殺的應該是下列何人？ (A)袁世凱 (B)梁啟超 (C)宋教仁 (D)段祺瑞。

28. 西元 1917 年以來，中國同時出現北方與南方兩個政府組織。請問民初中國形成南北分裂的原因為何？  
 (A)袁世凱暗殺了宋教仁 (B)段祺瑞毀棄臨時約法  
 (C)袁世凱策動帝制復辟 (D)黎元洪擁護溥儀復辟。
29. 一份文件中的部分內容如下：「中國允許日本繼承德國在山東的一切利益；山東省內及其沿海土地島嶼不得讓與或租與他國，煙臺或龍口至膠州鐵路，由日本建造……。」由文件的內容判斷，此份文件應該是指下列何者？ (A)馬關條約 (B)臨時約法  
 (C)二十一條要求 (D)對德和約。

◆以下為西元 1915 年 8 月 20 日，古德諾於北京每日新聞所發表「共和與君主論」的內容：

「……中國數千年以來，習於君主專制體制，各地學校短缺，大多數之人民智識不甚高尚，人民更缺乏參與政治之能力，四年以前，由專制一變而為共和，此番變動太快，難望有良好結果……中國將來必因總統繼承問題「釀成禍亂」……如一時不立即撲滅禍亂，可能導致敗壞中國之獨立……中國如用君主制，較共和制為宜，此殆無可疑者也。」

30. 上述文章發表後，最可能為下列何人引用，為其政治野心鋪路？ (A)梁啟超 (B)袁世凱 (C)段祺瑞  
 (D)孫中山。

◆請閱讀下列資料後，回答問題：

資料一：1915 年 8 月 14 日，楊渡等人籌組「籌安會」，聲言「共和不適用於中國」。要求變更國體。他們認為中國人文化程度低下，共和難以實施，故應恢復前朝舊制，並採憲法立國。

資料二：我雖暫時旅居海外，但依然對中國的情勢感到憂慮，如果袁氏繼續堅持下去，則中華民國將不保。我既然主張討伐，正在和其他的革命友人一起積極尋找一個有效的辦法，能阻止這件事的發生。

資料三：梁啟超發表《異哉所謂國體問題者》，謂欲變更政體，而必須以變更國體為手段，天下寧有此理論？他主張只要政體屬於「立憲」，則國體為「君主」或「共和」皆可。

31. 根據上述三則資料，請問下列敘述何者正確？  
 (A)資料一主張民主共和 (B)資料二支持君主立憲  
 (C)資料三認為國體是君主或共和皆可 (D)三則資料

皆反對君主立憲。

◆題組：附圖為清末民初的中國地圖。請根據附圖，回答第 32-34 題。



32. 清末以來，革命黨人為團結力量，陸續成立興中會、同盟會，並多次策動推翻清廷的行動，最後趁機在湖北防務空虛之際起事，得到各省響應，揭開革命成功的序幕。請問上述武裝起義的地點位於附圖中何處？ (A)甲 (B)乙 (C)丙 (D)丁。
33. 下文為孫中山擔任中華民國臨時大總統時所宣布的誓詞：「……至專制政府既倒，國內無變亂，民國為列邦公認，斯時文當解此職，謹以此誓於國民。」請問當時孫中山在附圖中何地宣誓就職？  
 (A)甲 (B)乙 (C)丙 (D)丁。
34. 民國 6 年時，南北分裂的兩方政府分別以哪二地為首都？ (A)甲乙 (B)甲丙 (C)乙丙 (D)丙丁。

※歷史試題結束，請換頁繼續作答。

本試卷分地理、歷史、公民 3 個部份，請依序作答，並按照題號畫卡。  
各部份題目配分及試卷頁數請參見說明，總分為 100 分。請謹慎作答。

班級：            座號：  
姓名：

第 3 部份：公民(共 16 題，每題 2 分，共 2 頁)

35.關於附圖中此份契約書的說明，下列何者正確？

契約書	
立約人 林大世(以下簡稱甲方)	
黃小敏(以下簡稱乙方)	
茲因借貸事宜，經雙方同意訂立本約，其協議事項如下：	
甲方借壹仟萬元給乙方。	
乙方將於民國108年1月1日歸還。	
借款期間，不需支付利息。	
立約人	
姓名：林	
身分證號碼：X X X	
戶籍地址：X X X	
姓名：黃小敏	
身分證號碼：X X X	
戶籍地址：X X X	

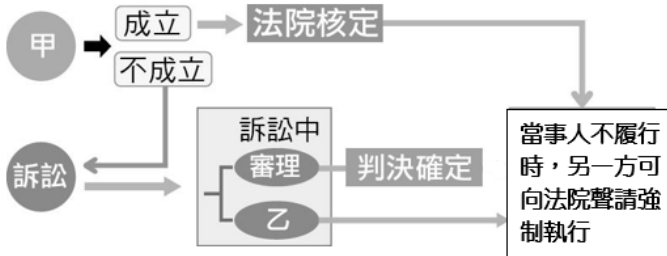
- (A)依據契約書的內容，林大世是債務人，黃小敏是債權人 (B)契約書上當事人雙方都必須簽名，所以此份契約書無效 (C)這是借貸契約，必須經過登記程序，才會具有法律效力 (D)若甲方到了民國124年才催討債務，乙方可以拒絕償還。
- 36.下列關於「無行為能力人」的敘述，何者正確？  
(A)民法規定，未滿十二歲者為無行為能力人  
(B)民法規定，店家不得販賣商品給無行為能力人  
(C)無行為能力人自行買餅乾的行為沒有法律效力  
(D)無行為能力人損壞他人物品，不須負賠償責任
- 37.以下行為皆是需要負起民事責任的案例，請問何者屬於「侵權行為」？(甲)裝修房子時造成樓下天花板漏水 (乙)一時情緒失控辱罵鄰居三字經 (丙)在迴轉壽司店惡搞轉盤上的食物 (丁)沒有按時繳交手機的通話費用。  
(A)甲乙丙 (B)乙丙丁 (C)甲丙丁 (D)甲乙丁。
- 38.當私人間發生民事糾紛時，除了提出訴訟外，還可以透過和解、調解解決衝突。下列關於民事糾紛解決途徑的相關敘述，何者正確？ (A)私下和解只具有契約的效力，不能聲請法院強制執行 (B)訴訟上的和解由於沒有法官在場，不具有法院判決效

力 (C)民眾可向各縣市政府的調解委員會免費聲請調解 (D)上法院提出民事訴訟，一定能獲得自己想要的結果。

- 39.日前小新從購物網站上以市價一半的價錢購得遊戲機一台，但最後賣方居然以標錯價格、價格過低不符合成本為由，拒絕出貨。根據民法的契約規範，下列敘述何者正確？  
(A)基於契約自由原則，網路交易也具有法律效力  
(B)基於權利濫用禁止原則，買方不能強迫賣家出貨  
(C)賣方以不符成本拒絕出貨的行為，屬於侵權行為  
(D)賣方以標錯價拒絕出貨的作法違反了權利濫用禁止原則。
- 40.《民法》主要規範財產和身分的權利及義務關係，下列何者的行為屬於《民法》規範的身分上的權利義務關係？  
(A)小巴書寫遺囑，交代遺產全部留給母親  
(B)文文用智慧型手機買了最新的line貼圖  
(C)阿勳將舊家租給阿哲，每月收取房租2萬元  
(D)大天因為開車時恍神，意外撞毀路旁的民宅。
- 41.『 10 歲的彤彤在路邊打棒球，結果砸中路邊汽車玻璃，導致一面車窗玻璃碎裂。』  
請問：依據上文判斷，下列哪一項敘述正確？  
(A)彤彤是不小心的，所以不用負民事責任  
(B)車主可以要求彤彤負起債務不履行責任  
(C)彤彤未成年，父母應負起連帶賠償責任  
(D)車主可以要求把車子的玻璃全部換新的。
- 42.公民老師在課堂上舉例說到：「不少房東擔心房屋家具被破壞、氣味衛生等問題，在租屋契約上明定『禁止飼養寵物』，此項約定只要雙方同意，是有效力的，租客必須遵守。」請問：公民老師應該正在說明下列何項法律概念？ (A)契約自由原則 (B)誠實信用原則 (C)權利濫用禁止原則 (D)時效消滅原則。



- 43.附圖是一種民事紛爭解決管道的流程圖。甲、乙應分別填入何者？ (A)訴訟外和解、訴訟上和解 (B)調解、訴訟外和解 (C)訴訟上和解、調解 (D)調解、訴訟上和解。



- 44.南韓影集《魷魚遊戲》講述一群欠下巨額債務而走投無路的人，為了高額獎金，參加以生命為賭注的生存遊戲。影片中，參賽者會收到一名男子所給的名片，表示只要他們有意願參與這項遊戲，撥打名片上的電話，就會有人將他們載到比賽場地參賽。該遊戲的最終獲勝者可以獨得 456 億韓元(約新台幣 10.7 億元)的獎金，但若比賽失敗則當場失去生命。上述劇情若依據我國《民法》契約的相關規範來判斷，下列敘述何者正確？ (A)因借貸簽訂債務契約，會使簽約雙方產生身分上的權利義務關係 (B)主辦單位與參賽者沒有簽訂書面契約，故雙方不具有契約關係 (C)如果是具有完全行為能力的參賽者所簽訂的契約，就具有法律效力 (D)契約內容以生命為賭注，違反法律與善良風俗，因此該契約無效。
- 45.18 歲的玲玲向銀行申請信用卡，但銀行調查申請人的個人資料後，以「玲玲是無行為能力人」為由，拒絕玲玲的申請。請問：玲玲應該是基於下列哪一狀況，成為「無行為能力人」？ (A)玲玲還未達成年的年齡 (B)玲玲不具備我國國籍 (C)玲玲受到法院的監護宣告 (D)玲玲被法院判處褫奪公權。
- 46.彌豆子與經紀公司簽下2年的模特兒工作，但後來生病無法履行契約。請問：依照《民法》的規定，經紀公司可以如何主張自己的權利？ (A)唱片公司得解除契約，即使無損失仍可要求彌豆子賠償 (B)唱片公司得解除契約，並且可依損失要求彌豆子賠償 (C)公司不得主張解除契約，但可依損失要求彌豆子賠償 (D)公司得解除契約，但沒有權

利要求彌豆子賠償其損失。

- 47.15歲的伊之助與炭志郎兩人為了激勵自己要勤奮練武，雙方進行一場比武大賽，兩人在比賽前以口頭約定好，落敗的一方必須在大街上裸奔。比賽結果，炭志郎輸了比賽，伊之助要求炭志郎履行裸奔的約定。請問：炭志郎是否需要履行約定？ (A)需要，未成年人的有些行為已經具有法律效力 (B)不需要，契約內容違反善良風俗故不具有效力 (C)需要，基於誠實信用原則應依照契約履行義務 (D)不需要，雙方只有口頭約定，沒有作成書面契約。
- 48.小睿是名十六歲的高中學生，家境並不富裕。請問小睿做下列哪些行為應得到法定代理人的同意，才具有法律效力？ (甲)看鬼滅之刃電影版 (乙)領取影城的摸彩贈品 (丙)花5000元儲值遊戲點數 (丁)跟速食店簽訂打工契約。正確的是 (A)甲乙 (B)丙丁 (C)甲乙丙 (D)乙丙丁。
- 49.夏小雪欠了花無月500萬元，花無月多次催討無效，非常苦惱。花無月的隔壁住了一名法官，花無月決定請教法官鄰居，希望能獲得一些建議。請問，下列何者最可能是法官鄰居給的建議？ (A)你可以向法院提出民事訴訟，行使《憲法》保障的受益權 (B)夏小雪太可惡了，這個案子就讓我這個法官幫你主動開庭審理 (C)依據法律規定，你必須先聲請調解，調解失敗才能提出民事訴訟 (D)這個案子金額較大，你必須雇用律師，才能提出民事訴訟
- 50.後來花無月向法院提出民事訴訟，法院開庭時，就讀八年級的阿勝剛好去旁聽，並將所觀察到的法庭人物與課本知識加以連結，他聯想到的內容如下，但只有一項是正確的。請問，唯一正確的知識是下列何者？ (A)法官會主動介入案件的調查與蒐證 (B)幫花花進行辯論的人又稱為檢察官 (C)在法庭中負責擔任記錄的人是通譯 (D)花花是提出訴訟的人，所以稱為原告。

