

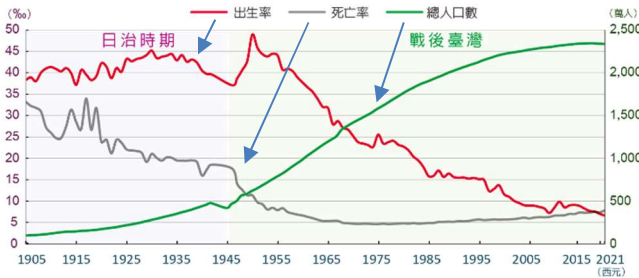
臺北市立萬芳高級中學國中部 111 學年度第 2 學期社會領域 七 年級第 1 次定期評量試卷

本試卷分地理、歷史、公民 3 個部份，請依序作答，並按照題號畫卡。
各部份題目配分及試卷頁數請參見說明，總分為 100 分。請謹慎作答。

班級： 座號：
姓名：

第 1 部份：地理（每題 2 分，共 16 題）

◎下圖為臺灣近百年來的人口統計圖，因臺灣歷年的社會增加率趨近於 0%，故未呈現於圖中，請問：



1. 哪一個年代人口成長速度最快？
(A)1905~1915 年 (B)1920~1930 年
(C)1950~1960 年 (D)2010~2020 年。
2. 臺灣在下列哪一個年代人口進入負成長階段？
(A)1905 年 (B)1915 年 (C)1940 年 (D)2020 年。

◎就讀小學四年級的野比大雄，家中有以下的成員，請問：

大雄 11 歲	爸爸 42 歲	媽媽 40 歲
爺爺 70 歲	奶奶 64 歲	哆啦 A 夢
叔叔 36 歲	舅舅 30 歲	

3. 以上述大雄家中的成員而言，性別比為何？
(A)40 (B)100 (C) 250 (D)300。

4. 以上述大雄家中的成員而言，扶養比為何？
(A)40% (B)75% (C)133% (D)250%。

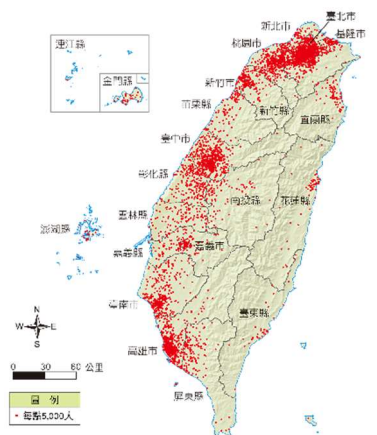
◎下表為臺灣民國 110 年六都的人口數據統計資料，請問：

	出生率 (%)	死亡率 (%)	社會增加率 (%)	人口總數(萬人)	土地面積(km ²)
新北市	6.0	6.7	-5.0	400.8	2,052.6
臺北市	6.5	7.3	-29.7	252.4	271.8
桃園市	8.9	6.2	-1.1	227.2	1,221.0
臺中市	6.5	6.6	-2.5	281.3	2,214.9
臺南市	5.2	8.5	-3.5	186.2	2,191.7
高雄市	6.6	8.3	-5.9	274.5	2,951.9

5. 哪一個行政區人口密度最大？
(A)新北市 (B)臺北市 (C)臺南市 (D)高雄市。
6. 哪一個行政區當年的人口總數較前一年增加最多？
(A)新北市 (B)臺南市 (C)臺中市 (D)桃園市。
7. 哪一個行政區人口外移的狀況最嚴重，而被稱為「外溢效應」？
(A)臺北市 (B)桃園市 (C)臺南市 (D)高雄市。

◎右圖為臺灣民國 109 年的人口分布點圖，請問：

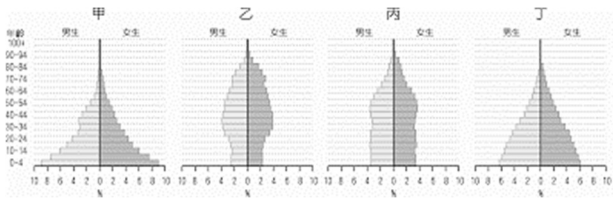
8. 下列哪一項敘述最符合臺灣人口分布的特徵？
(A)離島人口密度較大
(B)西部人口多於東部
(C)農業吸引人口聚集
(D)各地人口平均分布。



9.南投、花蓮、臺東等地在圖上出現的「點」較稀疏，主要原因為何？

- (A)地形阻隔 (B)無人居住
(C)房價太高 (D)氣候條件差。

◎人口金字塔是依照一地的性別及年齡組成繪製而成，供我們了解當地的人口結構。下列為某地不同時代的人口金字塔圖，請問：



10.若依照一般人口的人口成長情形變化，按年代的先後順序排列上圖的人口金字塔，依序為何？

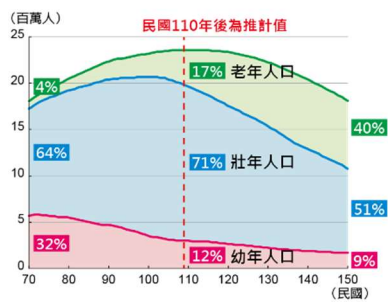
- (A)丙乙甲丁 (B)甲丁丙乙
(C)乙丙丁甲 (D)丁甲乙丙。

11.右圖呈現出當前臺灣社會的人口議題，哪一個人口金字塔圖最能反映此人口議題？

- (A)甲 (B)乙
(C)丙 (D)丁。

◎移民經常會帶來原鄉的宗教信仰，

在臺灣小小 3.6 萬平方公里的土地上，因多元的族群組成，有高達 20 種以上的宗教，提供人民安頓身心的力量。請問：



12.臺灣的原住民族部落，經常可見到教堂，因此上圖中耶穌所說「臺灣教堂密度最高的地方」可能為下列何者？

- (A)臺南市 (B)雲林縣 (C)新北市 (D)臺東縣。

13.臺灣近年有部分新住民人口或國際移工為「穆斯林」，他們的信仰中心為下列何地？

- (A)公廨 (B)寺廟 (C)教堂 (D)清真寺。

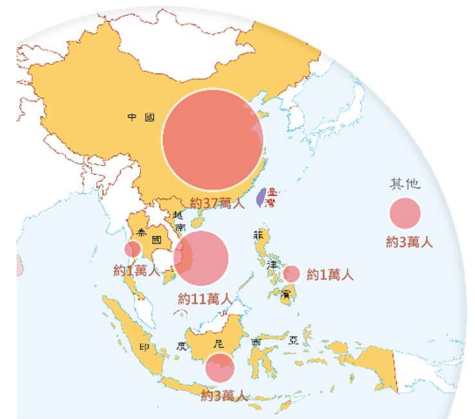
◎我們將從國外來到臺灣結婚、移民而定居的人士稱為「新住民」，來自不同國家的新住民在臺灣組成家庭，帶來家鄉的文化、美食也讓我們的社会有了更多元的風貌。請問：

14.國際移工來到臺灣，主要是源於下列何種人口遷移的拉力？

- (A)環境品質佳 (B)消費水準高
(C)工作機會多 (D)教育資源豐富。

15.右圖為臺灣新住民主要來源地分布圖，從圖中判斷，目前臺灣的新住民最主要來源地為下列何者？

- (A)中國
(B)印度
(C)日本
(D)美國。



16.臺灣的街道上

可見各式各樣的美食料理，下列哪一項飲食為新住民對臺灣飲食文化的影響？

- (A)阿拜 (B)生春捲 (C)炸醬麵 (D)珍珠奶茶。

【請繼續換頁作答】

本試卷分地理、歷史、公民 3 個部份，請依序作答，並按照題號畫卡。
各部份題目配分及試卷頁數請參見說明，總分為 100 分。請謹慎作答。

班級： 座號：
姓名：

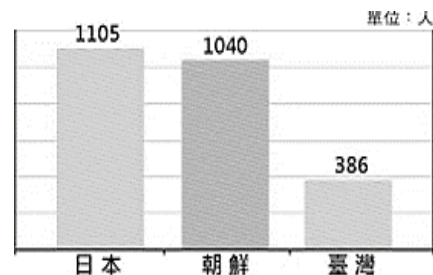
第 2 部份：歷史（17~33 題，每題 2 分，共 34 分，共二頁）

17. 為了增加財政收入，總督府將下列哪些物品列為專賣商品，豐厚的利潤由政府獨占？ (A)鴉片、樟腦 (B)樟腦、蔗糖 (C)鴉片、烏龍茶 (D)烏龍茶、蔗糖。
18. 日治時期臺灣總督可以制定具有法律效力的行政命令，主要淵源於哪一條法令的授予權力有關？ (A)三一法 (B)法三號 (C)六三法 (D)匪徒刑罰令。
19. 日本統治臺灣初期，總督府全力鎮壓漢人的武裝抗日行動，對山區原住民則採取安撫、防堵政策。請問：下列何者不是日治初期總督府對原住民所採取的策略？ (A)設置學校教育原住民 (B)架設隘勇線圍堵原住民 (C)派漢人管理原住民 (D)開發山林資源。
20. 臺灣在 1920 年代深受世界民族自決和民主自由思潮的影響，人民發起政治社會運動。日本人為了安撫人心，在殖民政策上改採何種政策，標榜日臺融合？ (A)無方針主義 (B)內地延長主義 (C)皇民化運動 (D)五年理蕃計畫。
21. 附圖是臺灣某一時期對外代表的國旗。下列關於這面國旗的敘述，何者正確？ (A)臺紳表示願意接受日本的統治 (B)臺人想脫離清朝的統治 (C)臺灣建立民主共和國得到英美等列強承認 (D)臺紳企圖反對臺灣割讓給日本。

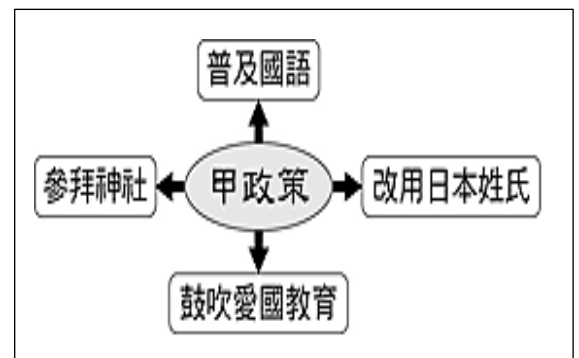


22. 日本殖民統治時期，臺灣總督府為了推動殖民經濟所做的措施，不包括下列何者？ (A)成立中央銀行，發行新貨幣 (B)戶口調查，建立完整戶籍制度 (C)調查臺灣土地、山林 (D)加強海運與通訊。

23. 下圖是 1924 年，日本國內及其統治的朝鮮、臺灣，每名警察的管轄人數。根據附圖資料顯示，下列敘述何者正確？ (A)臺灣治安良佳警察比例最低 (B)警察為地方最高的行政首長 (C)日本內地派駐警察比例最高 (D)日本透過警察來鎮壓臺人反抗。

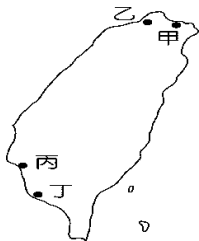


24. 附圖中的「甲」政策，最可能發生在日本統治臺灣的哪一時期？



- (A)無方針主義 (B)內地延長主義 (C)五年理蕃計畫 (D)皇民化運動。
25. 西元 1930 年代中後期，日本積極對外擴張，並計畫將臺灣建設為對外擴張的前進基地，此時日本政府在臺的施政原則，包括下列哪些政策？
甲、警察政治；乙、皇民化運動；丙、南進政策；丁、五年理蕃計畫；戊、工業臺灣，農業南洋
(A)甲乙丙 (B)甲丙戊 (C)乙丙戊 (D)丙丁戊。
26. 歷代統治臺灣的政權對原住民族曾實施不同的政策，下列哪一件事後，臺灣原住民與山林地被迫全面納入當時政府的管轄範圍？ (A)開山撫番 (B)五年理蕃計畫 (C)霧社事件 (D)西來庵事件。

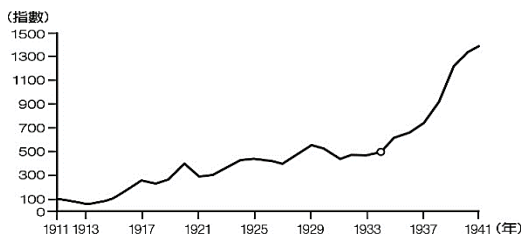
27. 日治時期，總督府為了加強殖民統治和經濟活動的進行，在交通方面進行了多項的建設。其中在附圖中的哪兩個地方，整建了港口，成為貨物進出口的重要門戶？(A)甲丁 (B)乙丙 (C)乙丁 (D)丙丁。



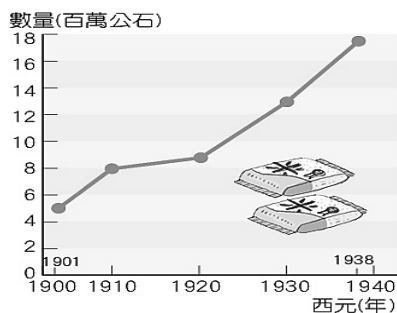
28. 附圖為諷刺日治時期某項不合理對待的漫畫。請問：這幅漫畫主要在主要反映日治時期的何事？



- (A)保正過勞，以致體重不足 (B)製糖會社秤重不實，壓榨蔗農 (C)興建嘉南大圳，缺乏人力種甘蔗 (D)獎勵種植水稻，導致甘蔗產量不足。
29. 附圖是臺灣輕工業生產指數表，在圖中可清楚看到1930年代以後輕工業生產指數快速增高。這種情形與哪項建設的完成有關？



- (A)嘉南大圳 (B)日月潭水力發電所 (C)新式糖廠 (D)縱貫鐵路。
30. 附圖為日治時期臺灣稻米生產量的曲線圖。根據此圖判斷，西元1930年以後，臺灣稻米生產量增加，下列何者**非主要原因**？(A)實施「工業臺灣，農業南洋」(B)興建嘉南大圳 (C)蓬萊米改良成功 (D)推行「工業日本，農業臺灣」政策。



◆請閱讀以下三則資料，並回答問題：

資料一：森川在催繳嘉義百姓的稅金時，發現他們連溫飽都成問題，於是向上級陳情此事，卻被長官視為教唆百姓抗稅，百口莫辯的森川最後死諫殉身。當地百姓受到感召，將其神化供奉。

資料二：查大人這幾日來總有些憤慨。因為今年年底，照例的新年禮物意外減少，而且又是意外輕薄。……查大人憤憤之餘，似覺有恢復他的威嚴的必要，於是這幾日，查大人對於攤販嚴格取締，一動手就是人倒擔頭翻；或是民家門口，早上慢一點掃除，就被告發罰金。

資料三：洪攀桂曾題序言如下：「是時再編立保甲法五十餘條，皆是輕微事項而罰金數十以上、數百以下。一家犯法，罪及一甲十餘家。其法是由日本人捏造，而強令百姓蓋印，說是民間自治法。」

31. 根據上述三則資料，請問下列敘述何者正確？

- (A)資料一的森川應是保正 (B)資料二的查大人應是總督 (C)資料三的洪攀桂對警察制度的規定心生不滿 (D)三則資料顯示總督透過警察與保甲來統治臺灣。

◆題組：臺灣割讓給日本後，臺灣人不願落於異族統治，在臺灣各地興起了大大小小的抗日活動。請根據附圖來回答第32-33題。

32. 西元1915年他到處散布消息：『神明指示，日本統治臺灣二十年，氣數已盡，臺灣即將出現「神主」，幫助臺灣驅逐日本人，建立「大明慈悲國」，未來將減輕稅賦，現在參與革命者可論功行賞。』請問：上文所述事件的地點位在附圖中何處？(A)甲 (B)乙 (C)丙 (D)丁。

33. 西元1930年，賽德克頭目率領族人襲殺日人，總督府出動軍警鎮壓，並使用大炮、飛機等武器，造成原住民死傷慘重。請問：上述事件發生的地點位於附圖中何處？(A)甲 (B)乙 (C)丙 (D)丁。



※歷史試題結束，請換頁繼續作答。

本試卷分地理、歷史、公民 3 個部份，請依序作答，並按照題號畫卡。
各部份題目配分及試卷頁數請參見說明，總分為 100 分。請謹慎作答。

班級： 座號：
姓名：

第 3 部份：公民(共 17 題，每題 2 分，共 2 頁)

34. 參與不同形式的文化活動，可以帶給我們不同的生活經驗，但下列何者「不屬於」文化的範疇？
(A) 觀看棒球賽幫中華隊加油 (B) 欣賞阿里山的日出美景 (C) 「珍惜自我、尊重他人」的觀念
(D) 到士林夜市吃有名的藥燉排骨。
35. 在日本，吃麵需要發出聲響表示對廚師的敬意；但在臺灣，吃麵發出聲響反而是沒有禮貌的行為。因此，當我們造訪不同的國家時，應抱持哪種態度較具有公民素養？
(A) 沿用台灣做法，以免沾染惡習
(B) 善意提醒當地人要改掉壞習慣
(C) 嗤之以鼻，因為當地比較落後
(D) 入境隨俗，尊重當地生活習慣。
36. 下表關於各種社會規範的比較，請問哪些是正確的？ (A) 甲乙 (B) 丙丁 (C) 甲丙 (D) 乙丁。

項目	法律	風俗習慣、倫理道德、宗教信仰
(甲) 形成方式	國家依一定程序制定	社會中長期累積而形成
(乙) 約束力	可約束人的內在良心	可約束人的外在行為
(丙) 違反的後果	以公權力處罰	受輿論批評與良心譴責
(丁) 是否有強制力	不具有	具有

37. 日常生活中，個人行為常受到內在良心與外在環境的影響，其中有些規範具有強制力。下列情境當中，何者具有強制力？
(A) 縣市長選舉時返鄉投票
(B) 就讀國中接受義務教育
(C) 過年時返鄉跟家人吃團圓飯
(D) 看電影時將手機關機或改為震動。
38. 某名工程師在社群網站上，提到自己與越南籍配偶的跨國婚姻，卻引來網友的熱烈討論，許多網友質疑這是一樁缺乏真愛的買賣婚姻。不少人認為跟歐美人士結婚是浪漫的戀愛結果，跟東南亞人結婚則是基於金錢的考量，這樣的想法，呈現了下列何種

現象？ (A) 文化衝突 (B) 文化融合 (C) 文化位階 (D) 文化多元。

39. 日本人講話非常委婉，過了很久好像都聽不到重點，這其實是他們為了避免得罪人，或是擔心自己在團體中和別人不一樣；而台灣人的個性傾向有話直說，例如一場會議就想盡量把所有重點交代完畢。有趣的是，許多日本人都知道這樣的溝通方式會浪費很多時間，但礙於長久以來的民族習慣，也只能摸摸鼻子跟著照做，繼續成為團隊中和諧的一份子。請問：畫線部分文字展現了文化的何種特性？ (A) 普遍性 (B) 差異性 (C) 累積性 (D) 制約性。
40. 電影《辛德勒的名單》講述一個德國商人辛德勒拯救猶太人的故事，辛德勒花了大量的錢財賄賂德國納粹黨官員，將猶太人召集到他的工廠裡面工作，藉此拯救猶太人逃離德國避難。如果將辛德勒的行為以附圖的象限圖說明，其行為應該標示於哪一個象限？ (A) 甲 (B) 乙 (C) 丙 (D) 丁。



41. 下列四人行為與社會規範的配對何者「錯誤」？
(A) 小新騎機車佩戴安全帽——法律
(B) 正男待人有禮、友愛同學——倫理道德
(C) 身為穆斯林的妮妮佩戴頭巾——風俗習慣
(D) 風間相信善有善報惡有惡報——宗教信仰。
42. 關於社會規範，下列敘述正確的是？ (A) 遵守社會規範會使得個人失去原則與特色，不利人格發展 (B) 只要是不違反法律的行為，就是社會大眾允許的行為 (C) 有些重要的倫理道德會被制定成法律規定(例如扶養年邁的父母) (D) 只要人人守法，其他的社會規範就沒有存在的必要性。

- 43.炭志郎週末和同學一起出遊，在火車上看到了下圖標示。請根據此圖判斷下列何者正確？
- (A)此規範和「基督徒做禮拜」屬於相同類型
 (B)此標示的規範是強調群己關係的「第六倫」
 (C)若違反此標示將會受到公權力制裁
 (D)此標示是由立法機關依一定程序制定



- 44.「注音文」就是以注音符號代替文字的表達方式，例如：「ㄉㄞ」表示「不要」，「我ㄉ」表示「我的」，也有以「ㄋ」表示「呢」、「ㄌ」表示「了」等語助詞，請問：下列有關「注音文」的意涵，何者正確？
- (A)是被大多數人認同接納的主流文化
 (B)是網路使用者之間流行的次文化
 (C)僅少數人使用，所以稱不上是文化
 (D)會造成人際溝通上的誤解，應該禁止。
- 45.下列文化特性與其舉例的配對，何者正確？
- (A)普遍性：台灣人過年有許多節慶活動，其他國家也都會舉辦各種活動迎接新年。
 (B)差異性：巴布亞新幾內亞的原住民雖過著原始生活，仍舊擁有自己的文化。
 (C)制約性：古今中外，每個社會都會為了計畫人類的活動及維持民間活動週期，而發明自己的曆法來計算時間。
 (D)累積性：在臺灣，禮金要用紅色信封裝，不能像日本那樣用白色信封袋。
- 46.新住民陸續來到臺灣、定居臺灣，也將其文化風格融入到臺灣社會之中，因此在臺灣隨處可見日本、美國、越南、印尼、泰國等外來文化，我們應該以何種態度面對這種現象？
- (A)為了避免文化衝突，應該減少彼此的接觸
 (B)要求新住民放棄原有文化，協助其融入台灣社會
 (C)對外來文化進行評比，推廣比台灣進步的文化
 (D)以尊重包容的態度，面對各式各樣的外來文化。

- 47.小桐：南韓音樂就是厲害，女團跳舞都很好看。
 小云：劇配的主題曲都超好聽，很多首我都會唱。
 小萱：大家都在聽韓文歌，聽臺語歌、客家歌謠的應該是異類吧！
- 從以上的聊天內容，可觀察到何種文化現象？
- (A)本土歌謠的品質不如韓國音樂
 (B)強勢文化藉由傳播媒體向外擴張
 (C)文化之間的差異造成彼此的誤解
 (D)崇拜外來文化可以建立自我認同感。
- 48.全台廟宇吹起環保風潮，有200多年歷史的艋舺龍山寺停止供香，香客也不能自行攜帶，龍山寺成為繼行天宮之後第二座不燒香拜拜的廟宇，禁止焚香後空氣品質也有大幅改善。廟方要求信眾改變祭祀的方式，這樣的做法以下列何者解釋最為適宜？
- (A)社會規範會隨時代變遷而轉變
 (B)宗教藉超自然力量約束信徒行為
 (C)不同的文化形成各自的社會規範
 (D)宗教信仰具有安定人心的功用。
- 49.今年的台灣燈會終於又在台北舉辦，元宵節賞花燈是流傳已久的節慶文化，以前的花燈裡面放的是燭火，現在的花燈裡面則是燈泡，提升其安全性，而且伴隨科技的進步，花燈還有聲光效果。請問：從上述例子可以看出文化的何種特性？ (A)普遍性 (B)差異性 (C)累積性 (D)制約性。
- 50.元宵節賞花燈，屬於何種社會規範？ (A)風俗習慣 (B)宗教信仰 (C)倫理道德 (D)法律規定。

111 學年度第二學期七年級第一次段考社會領域試題答案

答案：(1~17 題地理；18~34 題歷史；34~50 題公民)

1	2	3	4	5	6	7	8	9	10
C	D	C	A	B	D	A	B	A	B
11	12	13	14	15	16	17	18	19	20
B	D	D	C	A	B	A	C	C	B
21	22	23	24	25	26	27	28	29	30
D	A	D	D	C	B	A	B	B	A
31	32	33	34	35	36	37	38	39	40
D	D	C	B	D	C	B	C	D	D
41	42	43	44	45	46	47	48	49	50
C	C	B	B	A	D	B	A	C	A