

本試卷分地理、歷史、公民 3 個部份，請依序作答，並按照題號畫卡。  
各部份題目配分及試卷頁數請參見說明，總分為 100 分。請謹慎作答。

班級：                    座號：  
姓名：

第 1 部份：地理（第 1-17 題為地理科單選題，每題 2 分。）

1. 阿祐搭飛機出國旅遊，在經過某地區時從高空俯瞰並拍下圖 1-1 的照片。照片裡是當地一望無盡的沙漠中




圖 1-1

開闢出一圈圈綠地農田。他查詢資料後瞭解這是該地區的灌溉技術，長條狀的噴灌機像是圓規，噴灌機繞一圈的灑水範圍形成一個圓形農場。請問：圖 1-1 的位置最可能是哪一個地形區？

- (A)撒哈拉盆地 (B)阿拉伯高原  
(C)安納托力亞高原 (D)美索不達米亞平原。

2. 小楷到朋友家拜訪時吃到一種被稱為「沙漠麵包」的食物，它主要產自北非和西亞的綠洲一帶，熱量和營養價值都很高，同時又是製糖、釀酒的原料，其樹的乾葉子可以編織成帽子、竹籠、掃帚等日常生活用具。請問：小楷所吃到的農產品最可能是下列哪一種？

- (A)葡萄 (B)可可 (C)椰棗 (D)橄欖。

3. 2021 年「長賜號」巨型貨輪在蘇伊士運河擱淺 6 天後才脫困，每天經過蘇伊士運河的商船運載佔全球貿易至少 12% 商品，此航運的中斷衝擊全球的商品供應鏈。請問：蘇伊士運河主要是溝通下列哪兩個海域間的交通要道？

- (A)紅海、地中海 (B)黑海、地中海  
(C)大西洋、印度洋 (D)波斯灣、印度洋。

4. 新聞快訊：「昨日下午，愛琴海地區發生規模 7.0 強震，並且引發了小規模的海嘯，搜救隊徹夜持續在瓦礫中尋找生還者，在土耳其、希臘共造成 26 人罹難，預計數字還會持續上升。過去因為爭奪能源開採權而關係不睦的兩國家領導人，強調雙方必須站在一起度過難關。」請問：該地區發生上述災害和下列何者關係最大？

- (A)高原遍布，地勢較高 (B)地層古老，岩層脆弱  
(C)板塊接觸，地殼不穩 (D)盛行西風，海浪侵蝕。

5. 「中東」是一個地理區域，和西亞地區大致重疊，並包含部分北非，當地戰事不斷，因此素有火藥庫的稱號。請問：該地區的紛爭原因中，下表中的舉例說明何者「錯誤」？

紛爭原因	舉例說明
(A)宗教衝突	有基督教、猶太教與伊斯蘭教的不同信眾。
(B)族群紛爭	南、北蘇丹因族群與宗教不同而衝突不斷。
(C)石油爭奪	1990 年伊拉克因石油利益糾紛攻打科威特。
(D)領土爭議	猶太人與庫德族人爭奪約旦河西岸的領土。

6. 各國鈔票上的圖像就像「國家名片」，具有象徵的意義。圖 1-2 是非洲國土面積最大的國家阿爾及利亞的一張鈔票，紙幣正面人們拿著一本經典在一起誦經，背面圖案是清真寺與國花夾竹桃。請問：圖 1-2 中人們在背誦的經典最可能為何？



- (A)聖經 (B)佛經 (C)古蘭經 (D)希伯來聖經。

7. 「貝都因」在阿拉伯語意指「居住在沙漠的人」，主要分布在西亞和北非廣闊的沙漠和荒原地帶。貝都因人的財產很少，主要就是牲畜與帳篷，他們善於追蹤動物與人跡，在沙漠中不靠羅盤、地圖也能辨別方向。上述民族的傳統生活方式應該為何？

- (A)放牧 (B)游牧  
(C)綠洲農業 (D)地中海型農業。

試題尚未結束，請繼續換頁作答



8. 地理老師上課時分享圖 1-3

西亞地區傳統建築的照片，並說明此種平頂的土磚建築是受到自然條件影響。請問：該地區出現此種建築形式與當地氣候呈現哪一種特徵最有關？

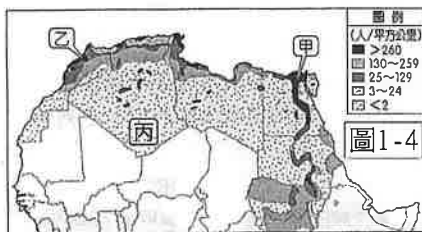


- (A)生長季與雨季並不一致
- (B)赤道經過太陽終年直射
- (C)夏熱冬寒導致年溫差大
- (D)副熱帶高氣壓全年籠罩。

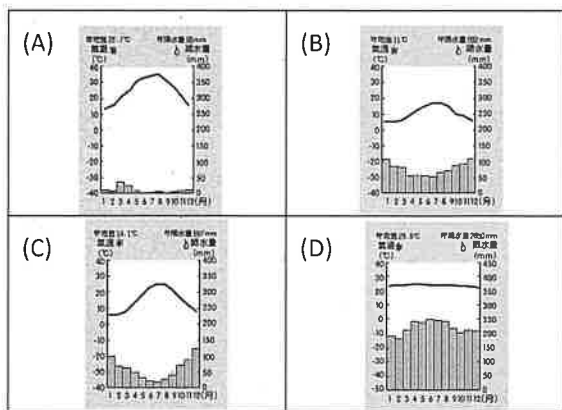
9. 阿翔到國外旅遊，聽到導遊介紹：「這裡是世界上唯一橫跨歐洲及亞洲的城市，歷史上是貿易、政治與宗教中心，充滿豐富的人文遺跡。特別是聖索菲亞清真寺是人類極為寶貴的歷史遺產，從教堂又變成清真寺再變成博物館，所以現在教堂內可以看到伊斯蘭教與基督教物件並存的樣貌。」請問：阿翔是參加下列哪一個城市的旅遊行程？

- (A)麥加 (B)巴格達 (C)伊斯坦堡 (D)耶路撒冷。

◎題組(一)：圖 1-4 為北非地區的人口密度圖，由圖中可以發現人口分布不均現象。請依圖回答第 10-12 題。



10. 圖中人口多集中在甲、乙兩地，丙地卻人煙稀少。此現象是因為丙地多屬於下列何種氣候類型？



11. 圖中甲地區是人口最密集的区域，請問造成此現象的最主要原因為下列何者？

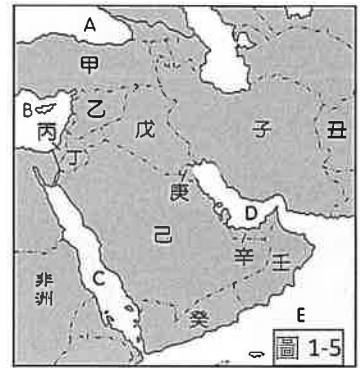
- (A)冬季降水，蒸發量少 (B)礦產豐富，工業發達
- (C)地形平坦，降水充沛 (D)河流經過，取水便利。

12. 乙地區利用春、夏時高山積雪融化，匯流成地下水，在山麓下形成點狀的綠洲。請問：此地的高

山為下列何者？(A)高加索山 (B)亞特拉斯山 (C)阿爾卑斯山 (D)喜馬拉雅山。

◎題組(二)：圖 1-5 為西亞各國家及海域位置圖。請依據圖回答第 13-17 題。

13. 西亞的產業活動早期以傳統的農牧業為主，生活方式相當純樸。近年來利用當地所盛產的石油資源，一艘艘載運石油



的輪駛向世界各地，為西亞帶來龐大的財富。請問：圖 1-5 中哪一個海域附近的石油蘊藏量最多？(A)A (B)B (C)C (D)D。

14. 以西亞為主的產油國，為了抗衡歐美為主的石油公司，成立石油輸出國家組織(OPEC)。請問下列哪一國並非 OPEC 會員國？

- (A)戊 (B)己 (C)庚 (D)壬。

15. 農委會官員去某國家考察，他發現當地使用特殊的灌溉方式，在水管鑽孔直接把水送到植物根部。請問該官員最可能去下列那一個國家考察，並發現該灌溉方式有甚麼優點？

- (A)甲；利用冬雨以蓄水 (B)丙；避免土壤鹽鹼化
- (C)己；充分利用地下水 (D)子；避免水分被蒸發

16. 該地區的氣候特色使水資源成為兵家必爭之地，各國之間對於水權的爭奪便成為衝突的導火線。土耳其控制著幼發拉底河與底格里斯河的發源地和上游，並建設多個水壩和水力發電廠，造成下游國家面臨著嚴重的水流量減少，紛紛抗議其水資源權益受損害。請問：下列那一國家會對土耳其表達抗議？(A)戊 (B)己 (C)辛 (D)子。

17. 2019 年九月底，己國宣布開放讓非宗教性質的外來旅客入境觀光。開放觀光屬於「願景 2030」計畫，使觀光業收入從目前占國內生產毛額 (GDP) 3% 提升至 10%。請問：到該國旅遊時最「不可能」看到下列何種景象？

- (A)穆斯林在餐廳吃牛排大餐
- (B)女性穿著黑紗袍開車外出
- (C)在齋戒月結束後飲酒慶祝
- (D)教徒每日朝聖地禮拜五次。

試題尚未結束，請繼續換頁作答



臺北市立萬芳高級中學國中部 110 學年度第 2 學期社會領域八年級第 3 次定期評量試卷

本試卷分地理、歷史、公民 3 個部份，請依序作答，並按照題號畫卡。  
各部份題目配分及試卷頁數請參見說明，總分為 100 分。請謹慎作答。

班級：            座號：  
姓名：

第 2 部份：歷史（共 16 題，每題 2 分，共 2 頁）

18. 右列這張漫畫，反映了冷戰時期美國政府常說的「骨牌理論」，認為必須設法阻止共黨勢力的擴展。骨牌上寫著「HERE LIES ANOTHER INDEPENDENT NATION」



（譯：這裡存在著另一個獨立的國家），而美國就在最後面幫忙撐著，不讓骨牌全面傾倒。就冷戰的局勢而言，你認為圖中動手推倒骨牌的國家，應是下列何者？

- (A) 美國 (B) 日本 (C) 蘇聯 (D) 中國。
19. 承上題，美國堅守此一理念的時期，與臺灣政府之間最有可能發生的歷史事件，應是下列何者？  
(A) 臺灣關係法的制定 (B) 中美共同防禦條約的簽定 (C) 中華民國退出聯合國 (D) 中美斷交。
20. 1950 年代起，美國因應共黨國家在東亞的擴張，聯合友好國家採取圍堵政策。請問：下列選項中，何者是美國圍堵政策下的直接產物？(A) 雅爾達密約 (B) 不結盟運動 (C) 東南亞國家協會 (D) 東南亞公約組織。
21. 『電影《光陰的故事》中，有一幕 1960 年代臺灣家庭裡的客廳場景：電影中的電視畫面先是出現「披頭四」在日本東京武道館演唱的新聞片段，下一則卻播報出美軍 B-52 針對越共進行轟炸的影像。可能連電影導演都沒有意識到的是，這架名為「同溫層堡壘」的轟炸機從沖繩基地起飛，中途停靠了臺中清泉崗基地，然後才開往越南，對當地實施高密度的空襲。當時臺美聯合擴建而成的清泉崗基地，往北連結沖繩基地，往南連結菲律賓賓基地，使美國在東亞有了完整的空防體系。』請問，這段短文中出現的日本、沖繩、臺灣、菲律賓等地，在冷戰時期的共同特徵應是下列何者？  
(A) 皆為東協的會員國 (B) 同為「不結盟運動」

的參與者 (C) 作為亞太反共圍堵體系的一環 (D) 「造反有理、革命無罪」口號的擁護者。

22. 毛澤東曾在某場會議上表示：「亞洲人的事務應該由亞洲人自行負責，○○對亞洲的出兵行動，將視為是對亞洲國家的挑釁行為，只能由亞洲人堅決抵抗，我們必須成立志願軍來阻撓侵略。」而約莫同時，1952 年 6 月，○○艦隊司令訪臺，在會議中致詞也說道：「目前本艦隊雖負有作戰任務，好在與臺灣距離不遠，如能預知有軍事侵犯臺灣之行動，至少兩日即可趕來協助。」請問，以上兩則資料中的○○，最有可能是下列哪個國家？  
(A) 美國 (B) 法國 (C) 日本 (D) 蘇聯。
23. 承上題，這場戰爭應是下列何者？(A) 太平洋戰爭 (B) 國共內戰 (C) 韓戰 (D) 越戰。
24. 某場會議在 20 世紀中期召開，關於這場會議，記者形容：「這是亞洲和非洲國家以主權平等原則來解決國際問題的一次嘗試，首屆亞非會議是由亞非地區國家主導，且無殖民主義者參加的一次歷史盛會，在當時對不願加入美、蘇陣營的國家具有團結意義。」請問：這場會議最重要的歷史意義為何？(A) 確定冷戰兩大陣營的形成 (B) 突顯中共扮演的角色 (C) 促成東亞經貿合作的開端 (D) 促成不結盟運動的開展。
25. 有一段新聞提到：「在某一段時期，中國人瘋狂投入一場運動，紛紛將家裡可以燒的門窗拆下來，將家裡的鍋碗瓢盆往屋外送，就是希望可以為國家的偉大遠景貢獻自己微薄之力。」請問：這則報導所描述的，是哪個時代的中國？(A) 中日戰爭期間 (B) 國共內戰時期 (C) 大躍進運動時期 (D) 文化大革命時期。
26. 承上題，在此政策進行的同時，中國在外交政策方面有什麼發展走向？(A) 堅持向蘇聯一面倒的策略，以接受蘇聯的援助 (B) 與蘇聯爭辯共產

主義發展路線，而導致兩國關係決裂（C）成功取得聯合國席次，成為中國唯一的「合法」政府（D）與美國締結邦交關係，共同抗衡蘇聯。

27. 根據內容判斷，下圖所描繪的中國歷史情景，最有可能是下列何者？

- (A) 義和團事件  
(B) 五四運動  
(C) 六四天安門事件  
(D) 文化大革命。



28. 承上題，中國發生此事的同時，世界上正發生下列何事？(A) 第一次世界大戰 (B) 太平洋戰爭 (C) 韓戰 (D) 越戰。
29. 中國歷史上有一位人物：「取得區域戰爭的不敗，竟能形成與美國對峙的局面，並順利完成了第一個5年計畫的目標。……第一個5年計畫的成功，使他充滿樂觀主義，認為憑藉群眾運動可以使中國走入先進國家之列，進而推動大躍進，違背經濟發展模式，終導致中國的大災難。」請問：上文所描述的人物應是指下列何人？(A) 毛澤東 (B) 蔣中正 (C) 劉少奇 (D) 鄧小平。
30. 以下資料分別敘述了中共建政以來所發生的情事：
- 〔資料一〕一群大學生聚集在天安門廣場，向政府提出政治改革與民主自由的訴求。但是，後來政府卻動用軍隊鎮壓了這場學生運動。
- 〔資料二〕改革開放政策帶動了經濟的快速發展，政府那年開始在沿海設置「經濟特區」，吸引外資進駐，國家領導人表示，要先讓一部份的人先富起來，再尋求全體人民的均富。
- 〔資料三〕中共幹部大力宣傳「人有多大膽，地有多大產；生活集體化，食堂如我家。」聲稱人民力量無窮必能開創社會主義的天堂，卻造成三年大饑荒，讓無數人民真的魂歸天堂。
- 〔資料四〕在當局號召的政治運動下，福貴燒掉了他心愛的皮影戲偶，以免惹禍上身。沒想到當時連救人性命的醫院也遭到學生奪權。醫生們在「打倒學術權威」的口號下被清算批鬥，連吃住都成問題，何況看診。福貴的女兒臨盆時因血崩送醫，醫院卻因沒有專業的醫生能施予急救，竟然因此送命。
- 請問，這四個資料所描述的歷史情境，如按照先

後順序排列，下列何者正確？

- (A) 資料三→資料四→資料一→資料二；  
(B) 資料三→資料四→資料二→資料一；  
(C) 資料四→資料三→資料二→資料一；  
(D) 資料一→資料二→資料三→資料四。

31. 課堂上，老師與同學討論某時期中國的社會情形時說道：「這個時期的中國剛走出一場大饑荒，眼看著亟需重建，卻又爆發另外一場血腥的政治鬥爭，影響範圍遍及全國，甚至海外各地。」請問：關於這段時期的敘述，下列何者正確？
- (A) 當時「超英趕美」的口號響遍雲霄  
(B) 「抗美援朝」是當時的外交與軍事行動  
(C) 這波浩劫起因於毛澤東欲重新鞏固權力  
(D) 此事因為鄧小平成功發動政變而得以結束。
32. 歷史書上的一段敘述如下：「中華人民共和國建立後，通貨膨脹並未因此停止。中國政府決定採行大膽的土地政策，並將民營企業收歸國有，政治上則是黨的權威高於政府和軍隊。通貨膨脹問題，終於在1950年3月起才告趨緩。」請問，上文敘述中的土地政策，應是下列何者？
- (A) 三七五減租 (B) 土地歸公  
(C) 耕者有其田 (D) 人民公社。
33. 某位中共領導人在面對蘇聯解體所造成的衝擊時，發表了以下談話：「我們要堅持黨的基本路線不動搖，經濟建設為中心的基本路線不動搖。廣東深圳的基本任務，就是在全國殺出一條血路，做一個表率，率先追過四小龍！」關於以上談話的內容，下列敘述合者正確？(A) 為1940年代中共建立政權時，毛澤東的開國演講 (B) 為1970年代鄧小平宣示改革開放政策的精神喊話 (C) 為1990年代冷戰結束之際鄧小平不斷重申肯定的政策方向 (D) 2010年代中國與美國相互對抗，習近平的表態說明。

**歷史試題結束，請換頁作答**

臺北市立萬芳高級中學國中部 110 學年度第 2 學期社會領域八年級第 3 次定期評量試卷

本試卷分地理、歷史、公民 3 個部份，請依序作答，並按照題號畫卡。  
各部份題目配分及試卷頁數請參見說明，總分為 100 分。請謹慎作答。

班級： 座號：  
姓名：

第 3 部份：公民（共 17 題，每題 2 分，共 2 頁）

34. 根據附圖情境，下列敘述何者正確？



(A) 行政機關平時依法行使職權，但必要時可違反法律以保障人民權利 (B) 行政法規的目的在於限制人民權利的行使 (C) 行政法規只約束人民，不約束行政機關 (D) 修法後若違反該法規，環保局可依法處以罰鍰。

35. 公民老師請同學以生活中的新聞為題材，搜尋與行政救濟相關的資料於上課時討論。根據附表內容判斷，哪位同學找到的資料正確？

(A) 愛羅 (B) 海納 (C) 張萬 (D) 慶美

姓名	新聞標題
愛羅	臺灣水泥子公司金昌石礦訴願被駁回
海納	LINE 群組罵員工「像豬」，員工提出訴訟
張萬	用 LINE 租屋也算契約，房東告贏房客
慶美	某網紅受到網路霸凌，委任律師向法院提出自訴

36. 下列關於附圖中的少年事件，何者敘述正確？



(A) 安置至少年之家，是依據《兒童及少年福利與權益保障法》做出的裁處 (B) 少年所受到的處置為刑罰的一種 (C) 由檢察官起訴 (D) 屬於少年保護事件。

37. 根據以下訊息，關於此事件的敘述，何者正確？

聊天中...  
阿柳：聽說小彩和別人進行性交易被抓到。  
奇奇：對啊，現在由父母帶回管教。

(A) 此事件將依《兒童及少年福利與權益保障法》處理 (B) 小彩年齡應在 18 歲至 20 歲之間 (C) 性交易的對象將受到刑罰的處罰 (D) 審理的機關為警察局。

38. 小青在網路上看到一個網站，只要網友登錄會員，就可以看到色情影片，不需要任何證明。網站負責人未能防範未滿 18 歲的少年下載收看色情影片，此行為已經觸犯下列何法？ (A) 《兒童及少年性剝削防制條例》 (B) 《少年事件處理法》 (C) 《兒童及少年福利與權益保障法》 (D) 《社會秩序維護法》。

39. 幼珊的工作負責處理「少年刑事案件」，下列哪一起案件屬於她的工作範疇？

(A) 劉X娟 12歲 竊盜罪

(B) 蔡X煌 15歲 擄人勒贖罪

(C) 許X妙 18歲 殺人罪

(D) 郭X映 13歲 贓物罪

40. 某市的少年警察隊舉辦微電影創作大賽，主題為「曝險少年」，期許透過投稿影片的傳播，能預防少年偏差行為。請問：下列關於影片中未成年人的行為的描述，何者不符合主題？ (A) 文英無正當理由經常攜帶棍棒、西瓜刀 (B) 尚泰施用毒品咖啡包而尚未觸犯刑罰法律 (C) 鋼太計畫偷竊物品，準備好相關工具 (D) 朱里經常逃學、逃家，出入少年不當進入之場所。

41. 這次讀書會的主題是《兒童及少年性剝削防制條例》的相關規定，下列哪位組員的說明最正確？

(A)



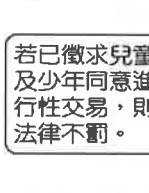
制定目的在於確保兒童及少年從事性交易時，能得到合理的對待。

(B)



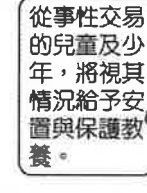
若散布、播送、販賣有關兒少的猥褻影像，將受到行政處分。

(C)



若已徵求兒童及少年同意進行性交易，則法律不罰。

(D)



從事性交易的兒童及少年，將視其情況給予安置與保護教養。

42. 關於「行政訴訟」的敘述，下列何者正確？

- (A)這是針對行政處分不當或違法，而使自己的權利或法律上的利益遭受損害時所提出的行政救濟 (B)原則上可不提起訴願，直接提起訴訟 (C)可對立法機關或法院提出救濟 (D)人民須向司法機關提出「訴願」，請求救濟。

43. 15歲的俊憲和同學打賭輸了，輸的人必須到夜市偷一件T恤，所以他帶14歲的表弟幫他把風，打烊後老闆檢查攝影機發現遭竊，因此報警處理，警方循線將他們依竊盜罪移送法辦。根據上述，他們將面對的法律責任，下列敘述何者正確？ (A)依《刑法》加重處罰 (B)僅需負擔刑事責任 (C)將交由少年法院(庭)審理 (D)可由校規代替法律處罰。

44. 小夫因經常炫耀昂貴的玩具，因此受到15歲學長A夢綁架勒索，請問針對A夢學長犯罪行為的敘述何者正確？(A)會根據《兒童及少年福利與權益保障法》處理 (B)A夢學長屬於曝險少年，以少年保護事件處理 (C)屬少年刑事案件，須由檢察官起訴後，由少年法院(庭)審理 (D)因A夢學長未滿18歲，受保護處分。

### 【題組一】

因應新冠肺炎疫情升溫，所有自外國入境民眾皆須配合居家檢疫14天。民眾須留在住宿地點，隨時佩戴口罩且不得外出。北市衛生局表示：有居家檢疫之民眾未遵守規定趴趴走，將依《傳染病防治法》裁處1萬元罰鍰。請問：

45. 根據上文判斷，下列敘述何者正確？ (A)自外國入境民眾採抽選制進行居家檢疫 (B)此居家檢疫規定限制人身自由，屬違憲行為 (C)居家檢疫者若未遵照規定隔離，則須負起刑事責任 (D)居家檢疫規定屬於行政管制。

46. 根據文末所述，未遵守居家檢疫規定所應負起的法律責任類型與下列何者相同？ (A)不小心弄壞出租店的漫畫 (B)開車時手持使用行動電話 (C)欠繳房東半年房租 (D)在吃到飽店吃霸王餐，未付錢即離場。

### 【題組二】

老徐(甲)無照駕駛，為逃避警方攔檢，失控撞入路邊一家超商，(乙)造成大量超商物品毀損。請問：

47. 老徐在(甲)、(乙)兩事件中所須負擔的法律責任依序最可能為何？ (A)刑事責任、行政責任 (B)民事責任、刑事責任 (C)行政責任、民事責任 (D)民事責任、道義責任。

48. 關於上文中老徐因無照駕駛受到的處罰，下列敘述何者正確？ (A)因犯罪行為而須承擔法律責任 (B)屬於行政罰 (C)由法院審判後進行裁罰 (D)若認為處分過當，可向法院提起訴願。

### 【題組三】

去年五月疫情爆發時，多校採線上上課，卻有一名高中生在課堂使用與該校校長相同的名字進入線上課程，並與課堂上的老師、同學進行對話，導致師生誤以為校長進入線上會議室巡堂。事件曝光後，學生遭記大過，學生不服此懲處，於校內求助未果後，便向教育部提起「          」，教育部日前決議撤銷大過，並要求學校60天內重作處分。

49. 請問文中的「          」應填下列何者？ (A)申訴 (B)行政訴訟 (C)訴願 (D)請願。

50. 關於此事件的敘述何者錯誤？(A)60天後學生若不服新作出的處分，可向行政法院提出救濟 (B)學生被記大過後，需先提起訴願，方可提出訴訟 (C)關於此事的懲處，基於依法行政，學校可依據校規處理 (D)學校可斟酌該生品行，對其行保護處分。



萬芳高中國中部 110 學年度第 2 期社會領域  
八年級第三次定期評量試題解答

1	B	2	C	3	A	4	C	5	D
6	C	7	B	8	D	9	C	10	A
11	D	12	B	13	D	14	D	15	B
16	A	17	C	18	C	19	B	20	D
21	C	22	A	23	C	24	D	25	C
26	B	27	D	28	D	29	A	30	B
31	C	32	B	33	C	34	D	35	A
36	D	37	C	38	C	39	B	40	D
41	D	42	A	43	C	44	C	45	D
46	B	47	C	48	B	49	C	50	D

