

本試卷分地理、歷史、公民 3 個部份，請依序作答，並按照題號畫卡。
各部份題目配分及試卷頁數請參見說明，總分為 100 分。請謹慎作答。

班級： 座號：
姓名：

第 1 部份：地理（共 17 題，每題 2 分，共 2 頁）

1. 若欲判斷甲、乙兩地何者為都市，何者為鄉村，最好應根據下表中哪項資料？

| 項目 | (A)交通 | (B)人口數 | (C)職業結構 | (D)面積 |
|----|-------|--------|--------------|---------------------|
| 甲地 | 公路 | 10,500 | 農 85% 非農 15% | 200 km ² |
| 乙地 | 鐵路 | 12,800 | 農 20% 非農 80% | 500 km ² |

2. 下面兩張照片為嘉南和宜蘭兩個平原的聚落型態分布圖。請問下列何者敘述正確？
(A)甲為嘉南平原、乙為宜蘭平原
(B)乙平原早期因治安較佳而形成集村
(C)甲平原早期因水源較充足而形成散村
(D)甲平原出現左營地名、乙平原出現頭城地名



照片甲



照片乙

3. 圖 1-1 是空運、水運、鐵路、公路等四種交通方式距離與時間的比較圖。請問如果要將荷蘭生產的鬱金香運送到臺灣，應該選擇哪條線比較適合？(A)甲(B)乙(C)丙(D)丁
4. 根據行政院主計處統計資料顯示，臺灣都市化程度約為 79%。請問：79% 所代表的意思為何？(A)都市產值占全國總產值的 79%(B)都市面積占全國面積的 79%(C)都市人口為全國人口的 79%(D)都市就業機會占全國就業機會的 79%

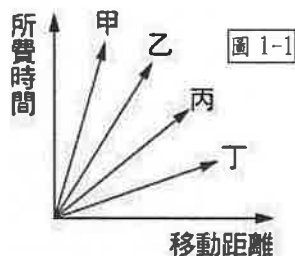


圖 1-1

5. 地理老師整理了一張交通運輸類型的特色表格。請問下列何者敘述『有誤』？

| 類型 | 特色 |
|--------|------------------|
| (A) 海運 | 載運量大，運費低，基隆港腹地廣大 |
| (B) 公路 | 適合短途運輸，機動性強，密度最高 |
| (C) 鐵路 | 適應地形能力較差，無交通阻塞問題 |
| (D) 空運 | 速度快，運費高，適合時效性的運輸 |

6. 臺灣大眾運輸便利，捷運更是通勤族不可或缺的交通工具，在臺灣人眼裡習以為常的捷運日常，對於不少外國人而言卻是世界第一...請問下列針對捷運的敘述何項『有誤』？(圖 1-2 為縣市圖)



- (A)目前未有捷運行駛的都市為己(B)目前臺北捷運的標誌是 (C)可紓解都市內部交通壅塞問題 (D)捷運大量興建有助於都市擴張
7. 下列對於臺灣目前交通方式敘述何項『有誤』？
(A)花蓮及臺東目前仍未有高速公路連結經過
(B) 2 此為南北向國道編號，俗稱二高
(C)臺灣河運較不發達，只有淡水河部分通行
(D)高雄港吞吐量最大，為臺灣最大的國際商港
8. 只要遇到連假，國道 5 號南下方向常出現嚴重塞車情況，之前還創下最長壅塞時段紀錄，連續 32 小時處於時速低於 40 公里的壅塞狀態...依上文敘述車潮移動方向可能為何？(A)臺北盆地往桃園台地(B)彰化平原往嘉南平原(C)蘭陽平原往花東縱谷平原(D)臺北盆地往蘭陽平原
9. 下列選項中的圖表，何者『無法』判斷臺灣區域發展不均衡的資訊？(A)臺灣進出口貿易值比例圖(B)臺灣各鄉鎮市區家戶平均所得統計圖(C)臺灣各縣市大學分布圖(D)臺灣醫院分布圖

※圖 1-3 為臺灣區域

劃分圖(甲~戊分區；

A~D 為縣市請回答第 10~12 題

10. 地理老師請同學規劃臺灣縣市兩日遊行程，請問下列哪位同學報



告的旅遊縣市，其所在區域位置『有誤』？

(A)伯嘉：甲區--龜山島賞鯨豚·十分老街賞天燈兩日遊

(B)羽容：乙區--客家播茶 DIY·森呼吸阿里山兩日遊

(C)子嫻：丙區--府城美食漫遊·澎湖雙心石滬打卡兩日遊

(D)亞筑：丁區--三仙台·八仙洞·雲山水夢幻縱谷兩日遊

11. 臺灣五大區域各有其發展特色，請問下列關於各區域的敘述何者正確？

(A) 甲區內的 B 市是目前東南亞移工最多的都市

(B) 乙區是花卉蔬果專業區及精密機械生產重鎮

(C) 丙區因重工業發達促使經濟產值居全臺之冠

(D) 丁區經濟發展較落後所以第三級產業比例低

12. 下列關於各區域的發展差異描述何者『有誤』？

(A)甲區第一級產業就業者比例是全臺各區最低

(B)丙區目前的教育資源及教育程度為全臺最高

(C)丁區家庭平均所得偏低且區域內城鄉差異大

(D)戊區雖交通不便且公設不足但觀光資源豐富

※觀光局推出「臺灣觀光年曆」活動資訊平台，其中包括臺灣北中南東與離島地區最有人氣的多元特色活動。假設萬芳高中的外籍交換學生想要參加下列活動來進一步認識探索臺灣之美，請你協助回答第 13~15 題(甲~辛為縣市代號)



13. 每年 7/20 至 8/20 左右登場的「英仙座流星雨」，是年度三大流星雨之一，臺灣即將在 8/13 迎來極大期，預估當日凌晨 3 至 4 點甚至可觀

賞到近百顆流星從天空劃過！若欲觀賞這場精彩可期的流星雨，可選擇低光害、空中無遮蔽物的地點，如合歡山、日月潭、溪頭、杉林溪等，皆是海拔高、視野遼闊、低光害污染的絕佳觀星旅遊景點...請問你會建議外籍生到圖 1-4 中何縣市參加此活動？(A)乙(B)丁(C)戊(D)己

14. 中秋博狀元餅活動在金門地區已是三百多年歷史的民俗文化活動，以科舉進程及追求人上人為博狀元餅遊戲之寄寓發展，透過遊戲普及民間。亦藉由此活動，吸引國際觀光客一起來金門體驗閩鄉傳統民俗之趣味...請問若外籍生到金門觀光，你還會推薦他去參觀金門的下列何處景點？(A)逗趣造型的風獅爺(B)芹壁村的花崗岩石聚落(C)南竿鐵堡軍事體驗(D)桶盤嶼的柱狀玄武岩

15. 善盡地主之誼的你，也想贈送外籍生一些縣市的特色名產，但是在介紹這些名產與主要縣市的配對敘述中，出現了錯誤，請問何項敘述『有誤』？(A)庚縣的大湖盛產可口的草莓 (B)乙縣的太陽餅老少皆宜 (C)丙縣玉井種植的芒果非常美味 (D)丁縣池上的稻米遠近馳名

※圖 1-5 為臺灣國土空間規畫架構圖。打破以往行政界線，強調跨區域、跨部門整合發展與治理方式，將全國分為『三軸、海環、離島』...請回答下列

16~17 題

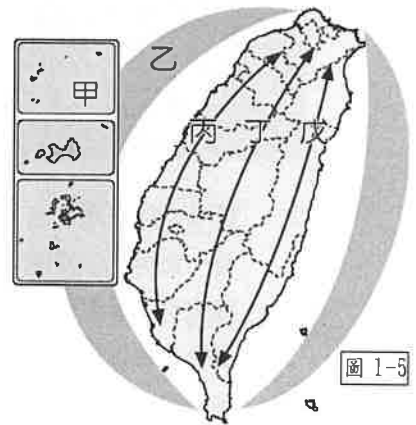
16. 請問「以生態環境資源保育為重心，優先保護國家珍稀資源及維護原住民文化為主要功能」為圖 1-5 中的何軸線？

(A)乙(B)丙(C)丁(D)戊

17. 「將酒廠改為多元展

覽空間及文創市集等文化創意園區」、「將古蹟老房子改造為民宿、咖啡廳等以吸引觀光客體驗」...請問上文所描述的建設更新與創新內容應是圖中哪條軸線的發展重點？(A)甲(B)丙(C)丁(D)戊

※地理試題結束，請換頁繼續作答。



臺北市立萬芳高級中學國中部 110 學年度第 2 學期社會領域 七年級 第三 次定期評量試卷

本試卷分地理、歷史、公民 3 個部份，請依序作答，並按照題號畫卡。
各部份題目配分及試卷頁數請參見說明，總分為 100 分。請謹慎作答。

班級： 座號：
姓名：

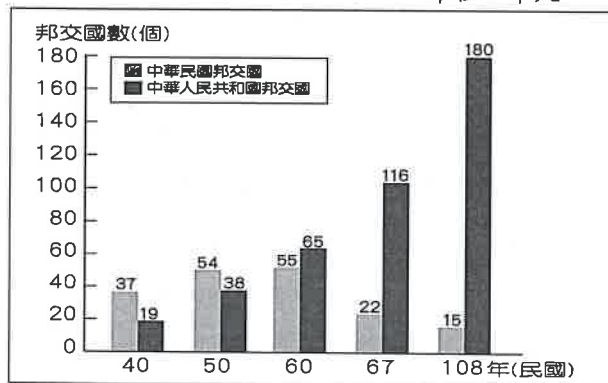
第 2 部份：歷史（18~34 題，每題 2 分，共 34 分，共二頁）

18. 民國 60 年代，我國在外交上面臨如退出聯合國、美國與我斷交等挫敗，但也因此造成一些轉變。請問下列何者不是發生在民國 60 年代？(A)校園民歌 (B)鄉土文學 (C)十大建設 (D)社會運動。
19. 「新政策」導致臺灣大量引進國際移工（如北捷自泰國引進人力，補充勞工人數的缺口），並投資東南亞國家。請問「新政策」是指政府要推動的何項政策？(A)進口替代 (B)出口導向 (C)產業升級 (D)新南向政策。
20. 由於臺灣農技團、醫療團年長者居多，於是政府開始招募外交替代役。當時念陽明大學醫學系的連加恩覺得當兵既能出國，又能學法文，便自願報名，成為布吉納法索服第一屆外交替代役的先鋒。他在當地發起二次「垃圾換舊衣」，幫助當地小孩有衣可穿；花 15 萬元挖了三口井，讓婦女省下去打水的時間，有餘裕照顧家庭；創立孤兒院「霖恩小學」，收容父母雙亡或單親貧窮的孩子。請問：「外交替代役」應該是屬於何種外交型態？(A)務實外交 (B)彈性外交 (C)統戰外交 (D)鞏固外交。
21. 戰後臺灣與美國關係密切，連帶傳入美國流行文化，如西餐廳、酒吧、喇叭褲和牛仔褲都深受民眾喜愛，年輕人之間更流行美國熱門音樂。請問下列何者為當時美國流行文化的歌手？(A)小虎隊 (B)貓王 (C)林強 (D) BTS。
22. 民國 74 年美國杜邦公司提出在彰化鹿港設置二氧化鈦工廠的請求，因當時臺灣及國際間正好發生好幾起環境污染事件，引起鹿港居民恐慌，加上彰濱工業區外海長達 64 公里的海岸線是臺灣重要的養殖漁業和漁場，更引起在地漁民和居民對於工業污染影響生計的高度關切。經鹿港居民一年的抗爭後，杜邦宣布撤廠。後來杜邦公司轉往桃園觀音設廠。請問：鹿港居民的作為，代表何種議題的抬頭？(A)環保 (B)原住民 (C)女權 (D)勞工。
23. 政府面對中共領導人鄧小平提出「和平統戰、一國兩制」的策略，請問蔣經國總統所採取的「因應之策」是？(A)提出反攻大陸 (B)開放兩岸探親活動 (C)主張三不政策 (D)成立海峽交流基金會。
24. 西元 2000 年 4 月 5 日，我國政府頒布〈離島建設條例〉，其中第十八條規定，賦予金門、馬祖與澎湖地區得先試辦之法源基礎；同年 12 月 25 日，行政院公布實施辦法，並決定自翌年元旦起開辦。」由上文內容判斷，這個政策為何？(A)小三通 (B)大三通 (C)成立海協會 (D)新南向政策。
25. 下列關於戰後臺灣經濟的發展演變下列敘述何者正確？(A)四十年代為出口導向，設立加工出口區 (B)五十年代為進口替代，發展紡織業 (C)六十年代為產業升級，成立新竹科學園區 (D)民國八十年代為國際化，積極參與國際性經濟組織。
26. 關於臺灣文化的演變，下列敘述何者正確？(A)二戰前，政府為清除日本文化而提倡中華文化 (B)爆發韓戰，使本土文化與原住民文化受到重視 (C)因臺灣退出聯合與臺美斷交等，鄉土文學興起 (D)實施解嚴後，美國流行文化大量傳入臺灣。
27. 「戰後，政府規定地主只能保留部分的田地，其餘皆交予佃農；政府將所發行的臺灣水泥、臺灣紙業、臺灣工礦、臺灣農林等公營股票等實物債券給地主，作為補償，部分地主於是將政府的補償投資於工業生產，由農業轉型為工商業，例如戰後掌有臺泥的鹿港辜家，後來發展為和信集團，就是一個明顯的例子。」請問：上述的歷史發展，主要與戰後政府實施哪一項的土地改革政策有關？(A)三七五減租 (B)公地放領 (C)耕者有其田 (D)平均地權。

28. 2021年8月1日的臺灣原住民族日，原民會在圓山飯店舉辦「八一原住民族日：正名27周年回顧與前瞻」，並邀請拿下東奧舉重金牌的郭婞淳、柔道銀牌的楊勇瑋等原住民族的優秀青年錄影致詞。原民會主委夷將·拔路兒回顧歷史：「1984年成立的台灣原住民族權利促進會，首先以『原住民族』取代當時的『山胞』名稱。經歷十年抗爭，1994年4月10日故前總統李登輝於屏東三地門舉辦的原住民文化會議，首度以國家元首的身分稱呼「原住民」，當年8月1日以「原住民」入憲。」根據上文所述，請問與下列哪一原住民運動有關？(A)還我土地 (B)正名運動 (C)立法保障 (D)反核廢料。
29. 附表是臺灣各大都市人口分布的數據。請問哪二個都市會產生人口老化問題、人口外移及隔代教養等問題？(A)台北市、新北市 (B)桃園市、臺中市 (C)雲林縣、嘉義縣 (D)臺南市、高雄市。

| 民國 縣市名 | 59年 | 89年 | 109年 |
|------------|-------|-------|-------|
| 臺北市 | 1,770 | 2,647 | 2,643 |
| 新北市(臺北縣) | 1,241 | 3,568 | 4,021 |
| 桃園市(桃園縣) | 727 | 1,733 | 2,251 |
| 臺中市(原臺中縣市) | 1,235 | 2,461 | 2,816 |
| 雲林縣 | 801 | 744 | 681 |
| 嘉義縣 | 850 | 563 | 503 |
| 臺南市(原臺南縣市) | 1,410 | 1,843 | 1,881 |
| 高雄市(原高雄縣市) | 1,659 | 2,726 | 2,775 |

單位：千人



30. 這一年，是海峽兩岸外交力量的分水嶺。因為這一年的某事件後，中華民國在許多國際組織遭到排擠，許多邦交國也轉與中華人民共和國建交(如上附表)，加深中華民國的孤立。請問：下列哪一事件是造成海峽兩岸國際地位轉變的關鍵？

(A)中共參與韓戰嶄露實力 (B)中華民國退出聯合國 (C)日本與中華民國斷交 (D)美國與中華人民共和國建交。

31. 以下為某一報紙刊載〈迎接中國歷史發展劃時代的一年〉的年度回顧報導：今年(民國77年)是中華民國歷史發展劃時代的一年。這是解除(甲)後，憲政邁向政黨政治變革的一年。這也是海峽兩岸在(乙)後，展開新競爭的一年，我們的大陸政策與中共的統戰政策，都面臨局勢演變的挑戰與考驗。請問：根據上文，下列敘述何者正確？(A)(甲)是李登輝總統宣布的法令 (B)(乙)是蔣中正總統宣布的政策 (C)(甲)是指《戒嚴令》 (D)(乙)是指辜汪會談。

【題組】：請回答第32~34題：

資料一：毛共的六百多門大炮，噴火吐煙，塵土飛揚，兩個多小時，落下了五萬多發炮彈……炮戰延續了四十四天，平均每一千平方英尺，落彈十三發，地表皮給炮彈打得翻起來了，樹被打得只剩樹根，湖下村全沒了……後來毛共下令『單打雙不打』……再後來偶爾零星數炮，直到中華人民共和國與美建交後，當地的炮聲才完全歇止。

資料二：美國總統發表聲明：「對於共產黨軍隊可能占領臺灣，將直接威脅到太平洋區域與在該區活動的美軍安全，因此，本人已命令第七艦隊前往臺灣海峽，協助臺灣巡防。」

資料三：西元1949年10月25日凌晨，共軍占領廈門，此地岌岌可危，國軍陸續調來駐防。共軍登陸後，雙方激戰五十六個小時，國軍大獲全勝。這一仗，打壯了國軍的士氣，也打擊了共軍「七小時打下□□，七天打下臺灣」的想法。

32. 請問：資料一與資料三的戰役發生於附圖中的何處？

(A)甲 (B)乙 (C)丙 (D)丁。

33. 請問：資料二指的是哪一場戰役？

(A)國共內戰 (B)韓戰 (C)古寧頭戰役 (D)八二三炮戰。



34. 關於上述的三則資料，依照發生的先後順序是：

(A)資料一→資料二→資料三 (B)資料二→資料一→資料三 (C)資料二→資料三→資料一 (D)資料三→資料二→資料一。

※歷史試題結束，請換頁繼續作答。

本試卷分地理、歷史、公民 3 個部份，請依序作答，並按照題號畫卡。
各部份題目配分及試卷頁數請參見說明，總分為 100 分。請謹慎作答。

班級： 座號：
姓名：

第 3 部份：公民(共 16 題，每題 2 分，共 2 頁)

- 35.各直轄市、縣(市)政府針對身心障礙者，辦理身體照顧服務、家務服務、友善訪視、送餐到家等居家服務。上述屬於何種社會福利政策？ (A)社會救助 (B)福利服務 (C)社會津貼 (D)居住正義。

行政院結合政府各部門力量，建構一張綿密的防護網，扶持社會中每一個人，當面臨生活危機時，仍能保有生存所需的基本能力，進而面對並處理各種問題。

- 36.小豪在網路上瀏覽政府推行的某項計畫，上圖為部分內容。請問：政府推行該計畫的目的，是為了達成下列哪一種目的？ (A)促進社會流動 (B)縮小城鄉差距 (C)提升國民素質 (D)建構社會安全。
- 37.國內的外籍移工數量目前以印尼籍比例最高，由於印尼移工大多信奉伊斯蘭教，因此政府近年主動建立穆斯林友善環境，包括增設清真認證餐廳、在火車站及旅遊勝地設立祈禱室；政府也提醒雇主在齋戒月期間，應同意移工禁食並彈性安排工作。上述做法有助於改善移工哪一方面的處境？ (A)利益分配 (B)需求滿足 (C)責任承擔 (D)貢獻程度。
- 38.下列四人都希望能為建立公平正義的社會盡一份心力，其中哪些人的行為實現了這種想法？ (甲)胡蝶忍到育幼院陪伴需要關愛的兒童 (乙)富岡在網路發文，希望大家重視醫療資源分配不均的問題 (丙)杏壽郎出手教訓對老人家不禮貌的人 (丁)香奈乎捐款給「街友關懷協會」。正確的是 (A)甲乙丙 (B)乙丙丁 (C)甲乙丁 (D)甲丙丁。
- 39.今年 26 歲正在就讀博士班的小寶，最近收到政府寄來的國民年金繳費單。因為還是學生身分，想說不要理會這通知，就不用繳費。但上網查詢資料後得知，國民年金是政府依法強制實施的制度，符合資格的民眾就必須參加並繳交費用。請問：國民年金屬於哪一項社會福利政策？ (A)社會救助 (B)福利服務 (C)就業安全 (D)社會保險。

- 40.為了體諒孕婦挺著大肚子騎車、開車的不方便，各縣市與計程車業者合作推出的車資補貼，讓孕婦們輕鬆搭車去產檢。以新北市為例，市民分娩前提出申請經審核通過，政府會發給好孕專車E化電子乘車券，民眾搭乘指定車隊往返產檢醫療院所，每趟次補貼最高新臺幣200元，至多得補貼28趟次，且每次懷孕以申請1次為限。上述做法屬於何種社會福利政策？ (A)福利服務 (B)社會救助 (C)社會保險 (D)居住正義。
- 41.拿下奧運舉重金牌的郭婞淳，生長在單親、隔代教養的貧困家庭，家裡最苦的時候，全家住在工寮，更經常沒錢買早餐吃。天生愛運動的她，用舉重翻轉命運，從高中開始拚獎金養家，也替自己舉起一片天。請問，下列相關敘述，何者「不正確」？ (A)人人平等，每個人具有相同的社會地位 (B)「單親的貧困家庭」是與生俱來的地位 (C)「舉重金牌」是後天努力而得的地位 (D)郭婞淳的例子可以用來說明「社會流動」。
- 42.下列關於社會福利觀念的敘述，何者正確？ (A)社會福利的運作有助於維護人性尊嚴 (B)社會福利資源是免費的，不用白不用 (C)弱勢團體才是社會福利政策要照顧的對象 (D)社會福利是為了讓每個人都過著富裕的生活。
- 43.高雄某餐飲店在店門口掛布條「誠徵洗碗歐巴桑」，被人檢舉涉就業歧視，高市勞工局調查後，認定該店家違反了就業服務法「禁止招募性別及年齡之歧視」的相關規定，依法開罰 30 萬元。請問：就業服務法規定「禁止招募性別及年齡之歧視」，是為了達成何種目標？ (A)人人有權利過著有尊嚴的生活 (B)人人可以自由追求理想的生活方式 (C)社會應確保人人有公平的機會取得地位或資源 (D)在機會均等下，給予弱勢群體更多照顧與利益

※ 背面尚有試題，請翻頁繼續作答

44.台灣大學林明仁教授與學生沈暉智的論文「論家戶所得與資產對子女教育之影響」，這篇論文使用財政部的報稅資料，對照子女的就學資料，分析1993~1995年出生的學生，入學與家庭所得之關係。此篇論文研究發現，「台灣家庭所得最高的5%家庭的小孩，他們進台大的機率，是台灣所得最低的5%家庭小孩的6倍」。論文的資料分析結果，最能顯示下列何種現象？

(A)弱勢群體應與其他人一樣，在法律上享有相同的權利 (B)都市化發展擴大了城鄉差距，造成教育資源分配不均 (C)不同的社會地位，會影響個人取得教育資源的能力與機會 (D)隨著人權觀念興起，民眾對待弱勢群體的態度變得較為尊重。

45.我國社會福利政策的實施項目相當多元，下列何者的配對正確？

(A)發放身心障礙者福利津貼——健康與醫療照護
(B)成立職業訓練中心——就業安全
(C)開設新住民生活適應課程——社會救助
(D)推動無障礙空間——居住正義與社區營造。

46.四位同學針對「社會安全之發展」發表看法：

善逸：「18世紀之前，主要是由宗教組織提供物資救濟貧病殘疾的人士」；

炭治郎：「工業革命後，勞動權益問題、貧富差距擴大，促使國家建立社會安全制度」；

彌豆子：「現代的社會安全強調，由政府全權負起照顧民眾的責任，民間團體不應介入」；

伊之助：「只要政府提供夠多的經費，就能建立完善的社會安全制度」。

以上四位同學的敘述，正確的是？

(A)善逸、炭治郎 (B)炭治郎、彌豆子
(C)彌豆子、伊之助 (D)伊之助、善逸。

題組：

新冠肺炎疫情對人們的健康造成重大威脅，也對日常生活造成重大衝擊。政府為了因應新冠肺炎疫情，採取了許多措施，以防治疫情擴大、維持民眾的正常生活。

為了防治新冠肺炎，政府積極鼓勵民眾施打疫苗，除了透過宣導、對於65歲以上施打疫苗者還發放獎勵金，但卻沒有強制人民必須施打疫苗。

47.請問：政府積極提高疫苗注射率，以防制新冠肺炎的作為，屬於哪項社會福利政策？ (A)社會津貼 (B)社會救助 (C)居住正義與社區營造 (D)健康與醫療照護。

48.請問：政府沒有強制人民施打疫苗的原因，應該是基於下列何種原因？ (A)政府的公權力不彰，沒有強制人民的力量 (B)社會不能以整體利益為由，侵犯個人的權利 (C)社會必須確保每個人都公平的，可以取得資源或地位 (D)為了落實公平正義，政府對於弱勢群體應該提供更多的資源。

49.疫情期間，為了照顧生活不能自理之受隔離或檢疫者而請無薪假，或無法從事工作者，政府給予防疫補償。政府的做法屬於何種社會福利政策？ (A)社會救助 (B)福利服務 (C)社會保險 (D)健康與醫療照護。

50.為了落實防疫工作，醫護人員、消防人員、清潔人員都投入大量心力，但是新聞卻著重報導醫護人員的辛勞。台南市長日前特地慰勞執勤的清潔人員，向這群默默守護全市的無名英雄致上最高謝意。感謝台南市各區清潔隊員不分平時、假日，24小時全天候竭盡全力，完成各項防疫清消。市長的做法有助於促進哪一層面的公平正義？ (A)利益分配 (B)責任承擔 (C)需求滿足 (D)貢獻程度。

110 學年度第二學期七年級第三次段考社會科試題答案

答案：(1~17 題地理；18~34 題歷史；35~50 題公民)

| | | | | | | | | | |
|----|----|----|----|----|----|----|----|----|----|
| 1 | 2 | 3 | 4 | 5 | 6 | 7 | 8 | 9 | 10 |
| C | C | D | C | A | A | B | D | A | B |
| 11 | 12 | 13 | 14 | 15 | 16 | 17 | 18 | 19 | 20 |
| B | B | D | A | D | C | B | D | D | A |
| 21 | 22 | 23 | 24 | 25 | 26 | 27 | 28 | 29 | 30 |
| B | A | C | A | D | C | C | B | C | B |
| 31 | 32 | 33 | 34 | 35 | 36 | 37 | 38 | 39 | 40 |
| C | B | B | D | B | D | B | C | D | A |
| 41 | 42 | 43 | 44 | 45 | 46 | 47 | 48 | 49 | 50 |
| A | A | C | C | B | A | D | B | A | D |

