

臺北市立萬芳高級中學國中部 110 學年度第 2 學期社會領域八年級第二次定期評量試卷

本試卷分地理、歷史、公民 3 個部份，請依序作答，並按照題號畫卡。  
各部份題目配分及試卷頁數請參見說明，總分為 100 分。請謹慎作答。

班級： \_\_\_\_\_ 座號： \_\_\_\_\_  
姓名： \_\_\_\_\_

第 1 部份：地理（第 1-16 題為地理科單選題，每題 2 分。）

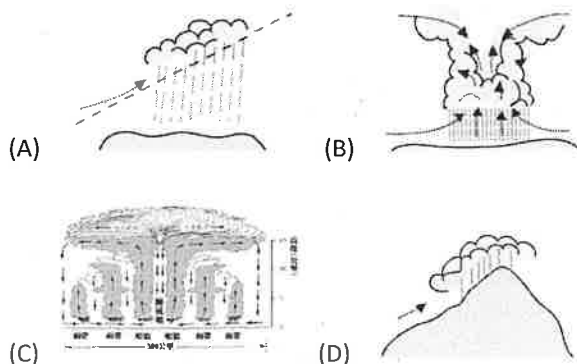
1. 印尼位於地質活動活躍的地帶，全國境內有 127 座活火山，火山灰為周圍的田地帶來天然優質肥料，但居民卻要時刻面對火山爆發的風險，接受大自然的生存挑戰。請問印尼大部分的火山成因，與下列哪兩個板塊間的活動最有關？  
(A)歐亞板塊、太平洋板塊  
(B)歐亞板塊、印度 - 澳洲板塊  
(C)菲律賓海板塊、太平洋板塊  
(D)菲律賓海板塊、印度 - 澳洲板塊。
2. 上地理課時，同學上臺報告有關「印度半島」的自然特色，下列哪一位同學的報告內容最正確？  
(A)小翔：「全年日照強烈且多雨，屬熱帶雨林氣候。」  
(B)阿婕：「德干高原地殼不穩定，時常有地震災害。」  
(C)阿澤：「印度大平原的降水大致由東往西遞減。」  
(D)小凱：「喜馬拉雅山為古老地質因此礦產豐富。」
3. 新聞報導：「為拓展伊斯蘭教徒的觀光市場，六合觀光夜市首創全台『清真標章』攤商掛牌，成為全台第一個清真夜市，可望吸引國際伊斯蘭教的觀光客青睞，打開清真餐飲市場的廣大商機。」請問來臺灣的觀光客中，下列哪個國家以信仰伊斯蘭教為主，清真認證的夜市美食能讓他們能安心享用？  
(A)越南 (B)印度 (C)菲律賓 (D)馬來西亞。
4. 熱浪通常是指一段時間內該地持續出現較平均溫度異常高溫狀況。根據印度氣象局定義，正常氣溫最高溫度通常超過攝氏 40 度的地區，只要氣溫比正常高出 4 到 5 度時，就會記錄為熱浪。印度在某些月份氣溫甚至會超過攝氏 50 度，2015 年更出現近 2000 人死於熱浪之中，創下 20 年來新高紀錄。根據上述，印度的熱浪最可能發生在下列哪個月份？  
(A)11 月 (B)1 月 (C)4 月 (D)7 月。
5. 世界資源研究所稱，全球近三分之一人口—26 億人生活在「高度缺水」的國家。水資源短缺可能導致數百萬人流離失所，引發各國衝突和政治不穩。在全球最缺水的國家中印度名列第十三，與鄰國巴基斯坦為了水源問題時有紛爭。請問：上述的兩國主要會爭奪下列哪一條河的水源？  
(A)恆河 (B)印度河 (C)湄公河 (D)昭披耶河。
6. 萬芳旅行社推出「越南五日旅遊行程」，下列有關這趟旅遊的行程說明，何者「有誤」？  
(A)欣賞水田中翠綠的稻秧  
(B)參觀佛寺並虔誠的參拜  
(C)品嚐在地生產的香醇咖啡  
(D)探索植物茂密的熱帶雨林。
7. 印度是世界上人口第 2 多的國家，出現「失控的人口爆炸」危機，政府開始呼籲採取計畫生育措施。請問：下列何者「不是」印度人口過多所引發的問題之一？

- (A)阻礙社會的人才流動  
(B)都市交通過度的擁擠  
(C)汗水導致河川的汙染  
(D)都市的醫療資源不足。

8. **圖 1-1**是位於印度東北方地區的告示牌，標示上寫乞拉朋吉是世界上最潮濕的地方。該地曾創下一年降水量 26461 毫米的紀錄。根據乞拉朋吉的地理條件判斷，該地區的主要降水類型應該為下列何者？



圖 1-1

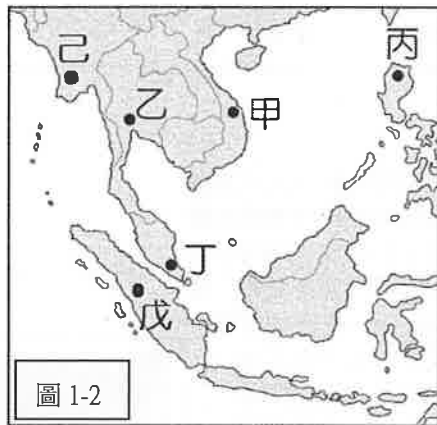


9. 農業仍然是印度的主要產業，但是近年來經濟增長的主要推動力是快速發展的高科技業、服務業等，吸引全球大量跨國企業將客戶服務和技術支援等「後勤服務」外包給印度。請問：上述的跨國企業是考量到印度有下列哪些優勢？  
(A)薪資低廉、英語溝通較無障礙  
(B)資金充足、港口眾多交通便利  
(C)礦產豐富、氣候濕熱生長季長  
(D)技術先進，公共基礎建設完善。
10. 雜誌報導：「棕櫚油被用於烹飪、加工食品、清潔產品、化妝品、生物燃料和其它產品，印尼是最大生產國，佔世界供應量的一半以上。在新冠疫情肆虐兩年之際，因東南亞種植園的移民勞工減少，全球棕櫚油產量已經下滑。」請問：關於印尼油棕樹栽種的背景與現象，下列敘述何者「錯誤」？  
(A)受到昔日殖民歷史的影響  
(B)以出口為導向的商業性農業  
(C)大量種植單一的熱帶經濟作物  
(D)不容易受到市場價格波動影響。

試題尚未結束，請換頁繼續作答

題組(一)：

圖 1-2 是東南亞各國的地理位置圖，請依據圖回答第 11-14 題。



11. 東南亞的宗教十分多元，下列哪一個組合的人民主要宗教類型是「不一樣」的？  
(A)甲、乙  
(B)乙、己  
(C)甲、丙  
(D)丁、戊。
12. 東南亞國家的海上交通對其經濟發展的影響相當重要，丁和戊國之間的麻六甲海峽位於哪兩個海洋之間的交通必經之地？  
(A)紅海、地中海  
(B)太平洋、印度洋  
(C)大西洋、印度洋  
(D)太平洋、大西洋。
13. 全球許多製造業者紛紛提出市場調查報告，以尋找尋下一個能成為「世界工廠」的國家，以降低生產成本。根據圖 1-3 的報告內容，這個國家最可能是圖 1-2 中哪一國家？  
(A)甲 (B)乙 (C)丙 (D)丁。

優勢：

圖 1-3

1. 人口超過 1 億人是龐大的消費市場
2. 人口年輕，有充足而廉價的勞動力
3. 有兩種官方語言，英語為其中一種

劣勢：

1. 常年飽受地震與颱風的侵襲
2. 貧富差距較大，貪污問題仍嚴重

14. 為強化本區競爭力，東南亞國家透過結盟成立東南亞國家協會(ASEAN)，加強區域經濟合作與發展。下列有關東南亞國協多數會員國的經濟發展特色，何者敘述正確？  
(A)消費市場龐大，電子商務的發展有潛力  
(B)工業技術先進，以高科技業為發展主力  
(C)國內資金充沛，不需要外國來投資設廠  
(D)基礎設施完善，都市內的通勤交通順暢。

題組(二)：

圖 1-4 是南亞各國的地理位置圖，請依據圖回答第 15-16 題。



15. 己國為地勢低平的群島構成，旅遊業與漁業為其經濟重心。該國最引以為傲的熱帶海洋生態，適合潛水，是知名的蜜月旅行聖地。請問：臺灣下列那一島嶼的成因與己國一樣？  
(A)綠島  
(B)金門烈嶼  
(C)澎湖群島  
(D)東沙群島。
16. 下列關於圖中南亞各國的描述，何者完全正確？  
(A)乙國地勢低窪，每逢夏季豪雨常有嚴重水災  
(B)丙國地勢高聳，位於板塊接觸帶會有地震  
(C)丁國以信仰印度教為主，自古實施種姓制度  
(D)戊國東北部迎風坡丘陵多雨，種植黃麻為主。

試題尚未結束，請換頁繼續作答歷史題目

臺北市立萬芳高級中學國中部 110 學年度第 2 學期社會領域八年級第二次定期評量試卷

本試卷分地理、歷史、公民 3 個部份，請依序作答，並按照題號畫卡。  
各部份題目配分及試卷頁數請參見說明，總分為 100 分。請謹慎作答。

班級： 座號：  
姓名：

第 2 部份：歷史（共 17 題，每題 2 分，共 2 頁）

17. 報章雜誌是近代以來十分重要的大眾傳播媒體，其中對於新聞時事的報導與評論，更是具有提供當時社會觀點的重要意義，例如以下幾則新聞報導與論文標題：

〔資料 1〕「我們什麼時候才可有憲法？對於〈建國大綱〉的疑問：為什麼訓政時期不可以有憲法？為什麼憲法之下不能訓政？」

〔資料 2〕「張楊昨發動對蔣兵諫。通電全國發表救國主張八項。改組南京政府，容納各黨各派。」

〔資料 3〕「元旦快樂！大日本帝國南京行軍。百人斬超紀錄：向井 106 對野田 105，將進行延長賽。」

〔資料 4〕「望國民鎮靜以救國難！日軍於昨晨突佔瀋陽，同時佔領長春營口安東。瀋陽損失重大、長春死傷眾多。我軍全未抵抗，中央已提抗議」

請問，就以上 4 個新聞報導的主題，按照各自針對的事件按照先後順序排列，下列何者正確？

- (A) 標題 1→標題 4→標題 2→標題 3  
(B) 標題 1→標題 2→標題 4→標題 3  
(C) 標題 4→標題 2→標題 3→標題 1  
(D) 標題 2→標題 4→標題 3→標題 1。

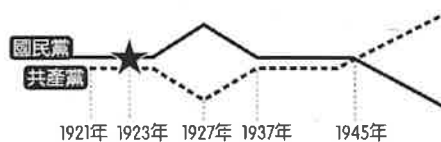
18. 以下是一位旅行者到訪上海後的見聞：「此區工廠地帶可以看到日本戰機轟炸的痕跡，但是如果來到租界區，興盛的商業中心立即映入眼中。在此，歐、美國家的主要銀行林立，國民政府的官方銀行—中央銀行，以及中國銀行、交通銀行等仍然繁忙地繼續營業，處理租界區內的金融交易。」請問，此人最可能是在下列何時參訪上海？(A) 1840 年代 (B) 1860 年代 (C) 1930 年代 (D) 1960 年代。

19. 下文為民國 22 年 7 月 30 日，上海《申報》的文章：「我國由農本主義，一轉而為工業之國；然我國之工業化，對於技術與資產，今日已不成問題，唯一的障礙即缺乏原料。蓋我國產的重要工業原料，除生絲外，均感不足。今欲求原料供給於安全地帶，全賴亞洲大陸，就中滿蒙之於我國所以稱為生命線者；由國防方面言之，適當皇道宣揚之要衝；他如人口食糧問題、工業原料問題、物業市場問題等經濟問題，在在與我國存亡相關。

換言之，平時為解決國內問題之地域，戰時為供給帝國資源不足之地域是也。」請問，此篇報導中的「我國」是應為下列何者？(A) 日本 (B) 中國 (C) 蘇聯 (D) 美國。

20. 承上題，該國於報導中所提到的「平時為解決國內問題之地域，戰時為供給帝國資源不足之地域」應該不包括下列哪些地方？①滿洲國 ②內蒙古 ③中國華北各省 ④夏威夷珍珠港 ⑤印度尼西亞 (A) ①②③ (B) ④⑤ (C) ②④⑤ (D) ①③。

21. 中國現代史上，中國國民黨與中國共產黨的關係有過數次的分合。關係大致如附圖所示，圖中的「★」是為雙方第一次合作。請問：此次合作的主要目的為何？



- (A) 共同抗日 (B) 討伐軍閥  
(C) 實施訓政 (D) 實行憲政。

22. 「國民政府宣布將遷都□□，以西南各省做為抗戰大後方，並利用中國廣土眾民的條件，制定長期抗戰方針。」請問：□□是指哪一個都市？(A) 南京 (B) 廣州 (C) 重慶 (D) 北平。

23. 蔣中正曾說：「現在我們國家正是內憂外患相逼之時，一方面國內有狂暴的土匪，天天拼命的殺人放火；一方面國外有日本帝國主義，天天向我們猛烈的侵略。日寇敢來侵略我們的土地，甚至公然要來滅亡我們整個國家，就是因為我們國內有土匪擾亂，不能統一。」下列哪一場行動即與前述考量的情形最有直接關係？  
(A) 以空間換取時間，作為對日抗戰的策略  
(B) 頒布訓政時期約法，建立以黨治國方針  
(C) 積極展開剿共戰爭，圍剿追剿中共黨員  
(D) 發動西安事變，爭取團結對抗日軍侵略。

24. 1930 年代日本的軍國主義昂揚，促使該國積極以軍事力量展開對外擴張行動。下列何者可能是當時助長日本軍國主義高漲的箇中原因之一？

- (A) 日本開始推行明治維新，力圖脫亞入歐
- (B) 共產主義興盛，日本朝野一致投入共產革命
- (C) 中國日益強大，威脅日本在東亞的領導地位
- (D) 全球性經濟危機，使日本經濟面臨嚴重困境。

25. 美國總統羅斯福曾發表一篇演說，當中提到：「昨天，西元 1941 年 12 月 7 日，美利堅合眾國遭到了日本帝國海空軍預謀的突然襲擊。美國當時與日本處於和平的狀態，而且應日本的請求，與其政府進行對話，希望維持太平洋的和平。……不論要用多長的時間才能戰勝這次預謀的侵略，美國人民與正義之師必將贏得徹底勝利。……」羅斯福發表此演說的背景為何？

- (A) 日軍攻入南京，殘殺軍民行為缺乏正義
- (B) 日本成功占領臺灣，阻礙美國勢力擴張
- (C) 日本攻擊珍珠港，破壞太平洋地區和平
- (D) 日本終止美國石油進口，引發商貿衝突。

26. 以下是某一部歷史劇中出現的劇情與台詞：

萬萬：「剛剛政府發布了『財政經濟緊急處分令』，說是要發行金圓券取代法幣，而且金圓券 1 元竟然折合法幣 345 萬元。」

小芳：「欸欸，聰明人都要在拿到薪水的那一刻就先去市場搶購物資了，要不然市場價格一天漲三次，你手上的鈔票永遠不夠買東西。」

小高：「盼中央，望中央，中央來了更遭殃。你沒看見部份政府官員金子、女子、房子、車子、銀子，無一不備嗎？」請問，這歷史劇所搬演的情境，應是下列哪個時期的社會狀態？(A) 圍剿追剿中共時期 (B) 對日八年抗戰期間 (C) 皇民化運動時期 (D) 抗戰結束後的國共內戰期間。

〔題組 1〕以下為中國現代史的一份文獻：「… 帝國主義者既使軍閥竊取政權，又使軍閥盜賣國家；既使軍閥永演鬪牆之爭，令吾民受盡兵刀之苦，更嚇使軍閥壓迫革命運動，欲吾民永無自決之日；… 近者北方軍閥混戰經年，北京政府已不存在，我中國中部及北部人民，不但無好政府，而且亦無惡政府；不但無從減少既有之痛苦，亦且無法減輕新痛苦增加之速度。… 本黨至此，忍無可忍，乃不能不出於出師之一途矣。」

— 〈國民革命軍北伐宣言〉，民國 15 年。

27. 該篇宣言中的「本黨」，應指下列何者？

- (A) 中國國民黨 (B) 中國共產黨
- (C) 臺灣民眾黨 (D) 民主進步黨。

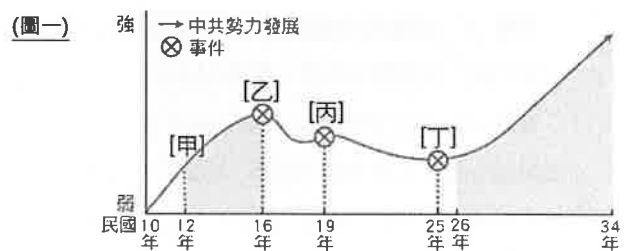
28. 該黨在宣布「北伐」的時刻，其所建立的政府位於下列

- 何處？(A) 江西瑞金 (B) 江蘇南京 (C) 湖北武漢
- (D) 廣東廣州。

29. 該黨宣言所聲討的對象，應是下列何者？① 中國共產黨 ② 北方軍閥 ③ 袁世凱政府 ④ 帝國主義者 (A) ①② (B) ①④ (C) ②④ (D) ②③。

30. 在該黨「北伐」的過程中，曾達成下列哪項外交成就？(A) 透過談判協商，收回關稅自主權 (B) 與世界列強共同創建聯合國 (C) 利用群眾運動，收回漢口等地租界 (D) 發表開羅宣言，聲明臺灣澎湖應歸還中華民國。

〔題組 2〕圖(一)是中國共產黨勢力的發展趨勢示意圖。請判讀其勢力起伏及其對應時間，回答下列問題：



31. 從[甲]這個時間點開始，可見中共的勢力向上攀升不少。請問應是與哪一個國家的協助與指導有關？

- (A) 日本 (B) 蘇聯 (C) 英國 (D) 美國。

32. 在[乙]到[丁]這段時間裡，中共勢力整體而言有向下跌落的趨勢。關於當時這個現象的解讀，下列敘述何者正確？(A) 圖中的[乙]事件使中共勢力首次向下跌落，應是中國國民黨發動西安事變的緣故 (B) [丙]事件之後的發展曲線，應是中國國民黨清黨分共的行動使然

(C) 圖中[丙]事件後的發展趨勢，應與國民政府在統一全國之後所開始的大規模軍事剿共行動有關 (D) 圖中[丁]事件的發生使中共的勢力止跌反彈，這現象加速太平洋戰爭的爆發時間。

33. 小芳在撰寫一份中國現代史的報告，內容包括她在目次頁(如右圖)所列出的項目。請問，小芳所報告的主題內容，其最大涵蓋的時間，應是落在(圖一)中哪個時間跨度內？

- (A) [甲]到[乙]之間 (B) [乙]到[丙]之間
- (C) [乙]到[丁]之間 (D) [丁]以後。

目次	
一、政治發展	1
● 訓政時期	2
● 訓政時期約法	3
二、經濟建設	5
● 廢兩改元	6
● 發行法幣	8
● 收回國家主權	10
三、交通建設	12
● 修建推公路	13

歷史試題結束，請換頁繼續作答

臺北市立萬芳高級中學國中部 110 學年度第 2 學期社會領域八年級第二次定期評量試卷

本試卷分地理、歷史、公民 3 個部份，請依序作答，並按照題號畫卡。  
各部份題目配分及試卷頁數請參見說明，總分為 100 分。請謹慎作答。

班級：                    座號：  
姓名：

第 3 部份：公民（第 34-50 題為公民科單選題，每題 2 分。）

34. 附圖是瑀晴在個人社群網站上發文，依照發文內容，下列對於她的行為的描述，何者正確？

動態更新

我下個月才滿 18 歲，為了考駕照，昨天騎車到馬路上練習，沒想到就被警察攔下來說我違反《道路交通管理處罰條例》，並訓斥我無照駕駛很危險，這樣我算不算犯罪？

(A)不僅違法，而且屬於犯罪 (B)只有犯罪，沒有違法 (C)並不違法，也不屬於犯罪 (D)只有違法，沒有犯罪。

35. 刑罰中的「徒刑」是將人隔離於監獄中。監獄會安排獄中表現良好的受刑人學習一技之長，協助將來重返社會後能正常生活。由上述可知監獄中所安排的技能訓練，其主要目的為下列何者？

(A)處罰犯罪 (B)預防犯罪 (C)矯正犯罪 (D)防止濫用刑罰。

36. 法官審理侵入住宅罪的案件時說：「李○○犯第 306 條侵入住宅罪，處罰金五千元。」請問：上述為刑事訴訟的哪一階段程序？

(A)偵查 (B)起訴 (C)審判 (D)執行。

37. 明倫和班上同學參觀法院並進行模擬法庭，下列是同學們所扮演的角色，其中扮演檢察官的是何人？

宜靜：「我必須依法獨立審判，根據雙方證據和當事人證詞做公正判斷。」

明倫：「我協助委任人進行訴訟，處理相關法律事務。」

健庭：「我代表國家偵查犯罪，並於法庭中擔任原告。」

偉豪：「我在法庭中出庭作證。」

(A)宜靜 (B)明倫 (C)健庭 (D)偉豪。

38. 新聞報導：「某市議長與市府官員涉嫌聯手貪汙 3 億元，經地檢署偵查終結，認為罪證充分，將 2 人提起○○。」請問：上述○○應為下列何者？

(A)告訴 (B)告發 (C)自訴 (D)公訴。

39. 附圖是千慧正在訴說她所目擊的刑事案件。依照附圖情境判斷，千慧的作法應屬於下列何者？



(A)告訴 (B)告發 (C)自首 (D)公訴。

40. 附圖中的宣萱和姐姐正在看新聞，兩人所討論的新聞事件應為下列何者？



(A)名人離婚撫養權糾紛 (B)債務糾紛引發綁架案件 (C)國中生無照駕駛 (D)富商遺產繼承爭議。

41. 新聞報導：「一名女子偷超市的飲料，店員發現後報警處理，女子當場想用 500 元與超市負責人和解，但即使負責人不追究，警方趕到現場還是得將她移送法辦，這名女子為了 50 元飲料吃上官司！」上述新聞中，女子所面臨的「官司」應該是下列何種案件？

(A)調解事件 (B)民事糾紛事件 (C)告訴乃論的刑事案件 (D)非告訴乃論的刑事案件。

42. 亦嬌因為貪圖同學的網路遊戲虛擬寶物，透過木馬程式獲得同學的遊戲帳號與密碼，並成功移轉虛擬寶物至自己的遊戲帳戶。上述亦嬌的行為可能觸犯何種罪行？

(A)竊盜罪 (B)毀損罪 (C)妨害名譽罪 (D)妨害電腦使用罪。

43. 郁美想運用最近學習的《刑法》，解讀新聞內容，下列敘述何者正確？

新聞快報

經營網路直播拍賣的店家負責人，為了打擊競爭對手，於直播時散播競爭廠商賣假貨的不實言論。散布謠言的行為，遭被害廠商提告，最後，該名造謠的負責人被依妨害名譽罪判決確定。

- (A)負責人的行為已經侵犯社會法益 (B)負責人的行為既屬於違法也屬犯罪 (C)負責人的行為不屬於違法但屬於犯罪 (D)根據罪刑法定原則，將無法可罰。
44. 一名 19 歲男子突然在路上隨機攻擊民眾，造成多人受傷，但法院裁判不以刑罰處罰。依《刑法》的資格判斷，該名男子最可能屬於下列何者？  
(A)完全責任能力人 (B)無責任能力人  
(C)無行為能力人 (D)完全行為能力人。
45. 請根據我國《刑法》，判斷此則新聞主旨最接近下列何者？

新聞快訊

警方獲報得知數名民眾在家登入賭博網站下注，但法官認定不符合《刑法》中的「公開場合」要件，因此判其無罪。為了避免民眾鑽法律漏洞從事賭博活動，政府已著手修法規範新型賭博型態。

- (A)倫理道德不允許的行為，均會受到《刑法》處罰  
(B)人民倫理道德敗壞，因此政府必須嚴格執行公權力  
(C)必須符合《刑法》明文規定，才能判處有罪，因此法律要與時俱進修改  
(D)我國法令建構已很完善，所以不需要太常修正，避免人民無所適從。
46. 佳佳和幾名網友討論明年即將上路的國民法官制度。請根據以下談話內容中所提及的刑罰，判斷屬於哪一種類的刑罰？

佳佳：明年《國民法官法》開始施行，我們當中有人可能會被選中去法庭參與審判案件。  
其其：適用的案件之一是當事人犯了被處 10 年以上有期徒刑的罪。  
艾咪：哇，10 年，刑罰真的很嚴厲，我有點擔心自己是否能勝任，做出正確的判斷。

- (A)從刑，剝奪自由 (B)主刑，剝奪自由  
(C)從刑，剝奪資格 (D)主刑，剝奪資格。

47. 宜珊在學習法律時，針對是否為犯罪，與同學進行討論，下列哪一位同學的解釋最為正確？  
(A)瑋瑋：當然是由執法的檢察署做決定  
(B)明輝：只要違反任何法律都是屬於犯罪  
(C)明峰：須在行為時《刑法》有明文規定者  
(D)宇翰：通常是符合社會主流民意來推定。
48. 嘉芳在新聞看到一則詐欺犯人家屬受訪的報導。由以下談話內容推論，針對犯人所受的處罰，下列敘述何者正確？

記者：「請問孫女平常是一位怎麼樣的人？」  
阿公：「我孫女才 17 歲，她都很乖很有禮貌，一定是朋友帶壞她的。」

- (A)不以刑罰處罰 (B)由法官執行刑罰  
(C)依規定得減輕處罰 (D)依規定法定代理人連帶受罰。
49. 曜義家陽台的盆栽因為沒固定好，不幸被大風吹落砸到行經樓下的路人康弘，導致康弘頭部重創昏迷不醒，康宏的兒子憤而委任律師向地方法院提出訴訟，請求法院竹持公道。上述康弘兒子的行為在刑事訴訟上稱為什麼？  
(A)上訴 (B)告訴 (C)自訴 (D)公訴。
50. 附圖中的明哲和曉慧正在做媒體識讀的作業，發現若根據我國《刑事訴訟法》來看，報導中內容有些問題。請問，這篇報導內容違反《刑事訴訟法》的哪一原則？



- (A)無罪推定原則 (B)誠實信用原則  
(C)契約自由原則 (D)罪刑法定原則。

試題結束

萬芳高中國中部 110 學年度第 2 期社會領域

八年級第二次定期評量試題解答

1	B	2	C	3	D	4	C	5	B
6	D	7	A	8	D	9	A	10	D
11	C	12	B	13	C	14	A	15	D
16	B	17	A	18	C	19	A	20	B
21	B	22	C	23	C	24	D	25	C
26	D	27	A	28	D	29	C	30	C
31	B	32	C	33	C	34	D	35	C
36	C	37	C	38	D	39	B	40	B
41	D	42	D	43	B	44	B	45	C
46	B	47	C	48	C	49	C	50	A

