

本試卷分地理、歷史、公民 3 個部份，請依序作答，並按照題號畫卡。
各部份題目配分及試卷頁數請參見說明，總分為 100 分。請謹慎作答。

班級： 座號：
姓名：

第 1 部份：地理（共 17 題，每題 2 分，共 2 頁）

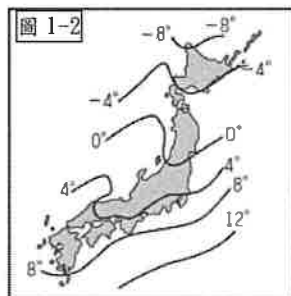
1. **圖 1-1** 是亞洲分區圖。請問下列敘述何者正確？

(A) 庚區為西亞地區
(B) 己區隔北極海與非洲為鄰
(C) 乙、丙、丁區有熱帶季風氣候
(D) 甲區為俄羅斯國土的一部份



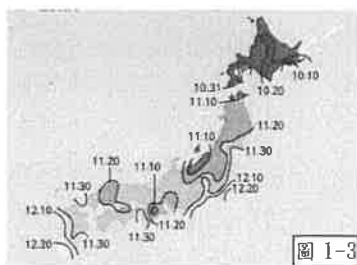
2. 臺灣與日本在自然環境上有許多相似之處，請問下列何者敘述為兩地區共同的現象？
(A) 洋流：黑潮親潮流經 (B) 河川：缺乏河運價值
(C) 平原：多分布於西部 (D) 氣候：季風方向相同

3. **圖 1-2** 為日本冬季氣溫分布圖。請問此等溫線的排列方式跟下列何者因素『較無關』？
(A) 緯度 (B) 地形
(C) 經度 (D) 洋流



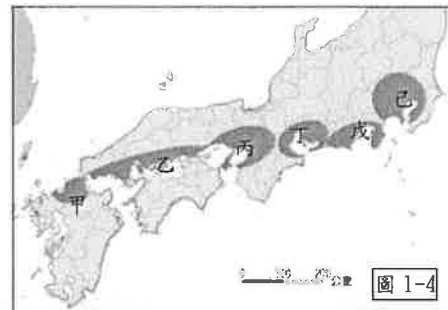
4. 日本因漁業活動相當發達，生魚片遂成了當地的飲食特色，請問日本漁業發達的原因與下列哪一項關係『最小』？
(A) 氣候溫暖，降水豐沛
(B) 附近海面有寒、暖流相會
(C) 海岸線曲折
(D) 因耕地不足，故積極向海洋發展。

5. **圖 1-3** 是 2018 年日本氣象單位發布的某種現象的發生時間預報，根據圖中資料推



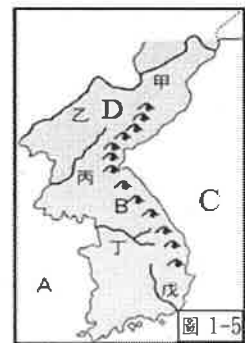
論，該預報內容應為下列何者？
(A) 櫻花盛開時間 (B) 颱風過境時間
(C) 楓葉轉紅時間 (D) 地震發生時間

- ★**圖 1-4** 是日本主要工業區分布圖。請回答 6、7 題



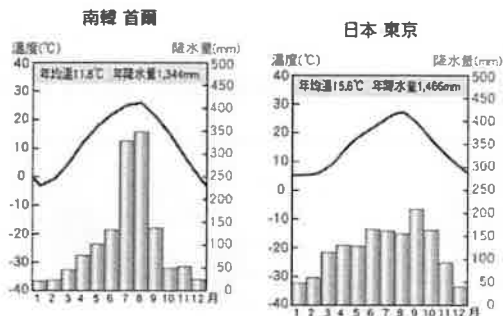
6. 從圖中可看出日本的工業區分布所考慮的區位因素與臺灣哪一工業相同？
(A) 高雄石化工業
(B) 宜蘭魚罐頭工廠
(C) 臺中潭子加工出口區
(D) 新竹科學工業園區
7. 下列對於日本工業特色描述，何者『有誤』？
(A) 高度依賴國際貿易 (B) 出現產業空洞化的危機
(C) 戊區為工業產值最大的地區 (D) 國內以技術研發及文創產業為發展重點

8. **圖 1-5** 是朝鮮半島地形圖。請問下列針對地形敘述何者正確？
(A) 甲、乙河是北韓與俄羅斯的界河
(B) B 山是長白山脈，為半島的脊樑
(C) C 海域為黃海，與日本相隔
(D) D 高原為蓋馬高原，朝鮮半島整體地勢呈現東北向西南低降



9. 聯合國糧食及農業組織在近期的一份報告中預測北韓今年將短缺約 86 萬噸糧食，約為 2 個月的消費量。世界糧食計劃署估計，北韓約 40% 人口營養不良。請問造成北韓糧產不足以及饑荒的問題，除了政治制度的影響外，與下列何項自然因素關係最密切？
(A) 年降水量少於 500mm (B) 生長季短、平原少
(C) 火山活動與地震頻繁 (D) 颱風侵襲次數多

10. 下面為東北亞兩個都市的氣候圖，請問下列對兩者氣候的比較敘述中何項是正確的？
 (A)首爾的年溫差較小 (B)東京年雨量分布較不平均 (C)南韓冬季較溫暖 (D)日本主要降水季節為夏季

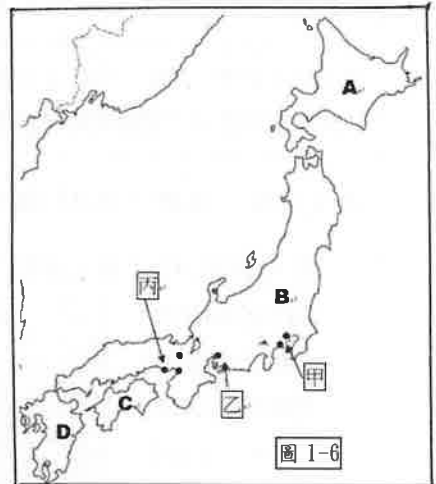


11. 南韓網紅金針菇在影片中介紹南韓文化，下列哪一種活動較『不可能』出現在影片中？
 (A)逛首爾北村體會韓劇場景(B)到札幌欣賞冰雕展(C)坐溫突體驗炕上取暖(D)到釜山參加電影展
12. 南韓有句俗話說：「泡菜是半個糧食」。身為韓國家庭的桌邊小菜，泡菜不只是一種食物。泡菜與韓國人的生活型態有著密切關係。韓國醃泡菜的文化與社會重要性，也讓它於 2013 年躋身聯合國教科文組織非物質文化遺產名錄。請問：韓國泡菜文化主要是受何項環境特色而形成？ (A)冬季嚴寒，缺乏新鮮蔬菜 (B)梅雨季長，食物保存不易 (C)降水量稀少，無法種植蔬菜 (D)夏季酷熱，食物容易敗壞
13. 近年來，日本、南韓推動智慧型農業政策，如農業產銷輔助人工智慧、無人駕駛耕耘機等，這項政策的推動除了因應未來市場需求以外，還主要受到什麼因素的影響？ (A)氣候寒冷導致收穫次數少(B)地形多山地及高原影響種植面積 (C)農業勞動人口減少及勞力老化(D)受國際制裁須提升技術。

★根據新聞報導--日本九州櫻島火山於 2022/1/28 下午噴發，噴出的火山灰竄升至距火山口約 3400 公尺高度，是去年 4 月以來最高，這也是櫻島火山今年以來被觀測到的第 4 次噴發。此外鹿兒島縣的諏訪之瀨島火山近期也蠢蠢欲動，火山口不斷竄火。日本專家研判這 2 座火山近期活動頻繁，可能與日前東加海底火山爆發有關，今後恐會再引發更大規模的噴發，當局正密切關注，包括富士山、箱根山等火山活動…請回答第 14 及 15 題

圖 1-6 中的 A~D 為島嶼 甲~丙為平原

14. 文中提及的櫻島火山位於圖 1-6 的日本哪一個島上？ (A)A (B)B (C)C (D)D
15. 日本因於歐亞、北美、太平洋、菲律賓海板塊交會處，故



- 火山地震活動活躍。請問下列敘述何者正確？
 (A)火山為日本帶來豐富的礦產資源(B)若富士山噴發，丙平原因位置最靠近，故影響最大(C)因地震多，所以北部山區及傳統民宅屋頂斜度較大 (D)因溫泉廣布，泡湯成為民眾日常生活

《魷魚遊戲》全球爆紅 文化輸出 提升軟實力

《魷魚遊戲》在全球市場大獲成功，討論度居高不下，再次印證南韓的文化輸出，同時很大程度上歸功於韓國政府的扶植和全球化浪潮。在經濟全球化、文化全球化及資訊科技全球化之下，韓劇、電影及 K-POP 在全球流行，讓更多人認識韓國，有助提升其國際知名度，通過各類型文化輸出加強軟實力。據韓國基金會的報告，2018 年全球韓流粉絲激增至 8,920 萬人，覆蓋 113 個國家地區，估計韓流產業帶來的出口額為 94.8 億美元。

【節錄自 2021/11/01 新聞】 請回答第 16 題

16. 請問關於南韓的產業發展特色，下列敘述何者『有誤』？ (A)工業區鄰近太平洋，產品出口方便(B)娛樂影視產業蓬勃發展(C)政府採取扶助大型財閥的經濟政策(D)南韓目前的發展重心為高科技產業
17. 若觀察朝鮮半島的夜間衛星影像圖，會發現北韓除了首都平壤之外，其餘地方多呈現一片黑暗的景象。請問：導致該國出現此一特徵最主要的原因可能為何？ (A)缺乏礦產資源，工業基礎薄弱 (B)忽略民生工業，基礎建設不足 (C)位居高緯地區，終年低溫寒冷 (D)屬於乾燥氣候，缺乏水力資源。

※地理試題結束，請換頁繼續作答。

臺北市立萬芳高級中學國中部 110 學年度第 2 學期社會領域八年級第 1 次定期評量試卷

本試卷分地理、歷史、公民 3 個部份，請依序作答，並按照題號畫卡。
各部份題目配分及試卷頁數請參見說明，總分為 100 分。請謹慎作答。

班級： 座號：
姓名：

第 2 部份：歷史（共 17 題，每題 2 分，共 2 頁）（範圍：第 3 冊第 6 章、第 4 冊第 1、2 章）

◎ 題組（第 18~20 題）：小芳在歷史書中讀到一首《勉女權歌》，全文如下：「吾輩愛自由，勉勵自由一杯酒。男女平權天賦就，豈甘居牛後？願奮然自拔，一洗從前羞恥垢。若安作同儕，恢復江山勞素手。」「舊習最堪羞，女子竟同牛馬偶。曙光新放文明候，獨立佔頭籌。願奴隸根除，智識學問歷練就。責任上肩頭，國民女傑期無負。」

18. 根據同學們在歷史課所學，請問這首歌的創作者，最有可能是下列何人？(A)胡適 (B)秋瑾 (C)魯迅 (D)孫文。

19. 下列哪些主張是歌詞內容所批評的「舊習」？

(甲)婦女應該接受教育追求學問，衝出家庭，參與公民政治；(乙)婚姻自主，身體自主，是上天賦與的基本人權，無論男女，方為男女平權；(丙)家族倫理是維繫社會秩序的基本價值，女性自當在家相夫教子，女子無才便是德；(丁)纏足是文明開化的產物，能讓婦女遠離體力勞動，實行男耕女織、男主外女主內的家庭分工。

(A)甲、乙 (B)乙、丙 (C)丙、丁 (D)甲、丁。

20. 這首歌詞的作者，曾在 1904~1906 年間赴日本留學。就歌詞的內容敘述、以及同學對歷史課所學來判斷，作者的政治立場與活動，應會是下列何者？

(甲)認同立憲運動的主張，是君主立憲制的追隨者；(乙)認同民族主義的看法，認為推翻滿清統治是漢族人民不分男女應盡的義務；(丙)認同革命理念、支持創建民國的主張，加入中國革命同盟會；(丁)政治主張與梁啟超相近，認為應該創建共和政府，加入興中會。

(A)甲、乙 (B)乙、丙 (C)丙、丁 (D)甲、丁。

21. 徐志摩(1897~1931)，二十世紀初中國新月派現代詩人及散文家，以浪漫主義風格創作，成就了華文現代文學史上的崇高地位。他也是個走在時代前端的新潮人物，在他所處的那個年代，雖然傳統觀念如媒妁之言等依然盛行，但他卻不顧家人的反對與外界異樣的眼光，與原配妻子張幼儀離婚，執意追求自由的愛情。請問：徐志摩的婚姻，與哪一種時代風潮最有關係？(A)救亡圖存 (B)推翻帝制 (C)思想解放 (D)白話文運動。

22. 歷史老師要求同學們分組討論，研究清朝末年以來，中國的幾場改革。同學們經過整理筆記之後發現，中國改革的層面，隨著時間的推進有不同的深度。請問：下列哪場改革的層面與其他改革不同？(A)戊戌變法 (B)預備立憲 (C)庚子後新政 (D)新文化運動。

23. 受到清末甲午戰敗的刺激，部分人士希望透過制度的改革來挽救晚清的危局，但亦有人主張用武力手段推翻清廷，建立共和體制。主張後者作為救國途徑的代表人物，應是以下何人？(A)孫文 (B)康有為 (C)梁啟超 (D)袁世凱。

◎ 題組（第 25~27 題）請在閱讀以下資料後回答問題：

資料一：「大清皇帝統治大清帝國，以其後代為合法繼承人；皇帝是神聖且不可侵犯的；法律雖經議院議決而未獲皇帝批准不可施行；皇帝握有用人之權，而大臣作為輔助，議院不得干涉。」（資料來源：欽定憲法大綱）

資料二：「中華民國之主權屬於全體國民；中華民國人民一律平等，無種族、階級、宗教之區別。中華民國以參議院、臨時大總統、國務院、法院行使其統治權；中華民國之立法權由參議院行使。總統總攬政務，統率陸、海軍，任命文武職員；但制定官制、官規，任命國務員、大使、公使，以及宣戰、媾和、訂立條約則須經參議院同意。總統提出法律案，公布法律及命令，均須國務員副署。」（資料來源：中華民國臨時約法）

24. 資料一是為了回應什麼訴求而頒布的？(A)立憲運動 (B)革命運動 (C)戊戌變法 (D)新文化運動。

25. 資料一和資料二，分別試圖要確立何種國家體制？(甲)總督專制 (乙)君主立憲 (丙)民主共和 (丁)一黨專政 (A)甲、乙 (B)乙、丙 (C)丙、乙 (D)甲、丁。

26. 資料二關於政府運作的條文內容，其制定的目的與最終實行結果分別為何？(甲)支持孫中山 (乙)制衡袁世凱 (丙)民主憲政得以成功推展 (丁)民主體制不久即遭破壞 (A)甲、丙 (B)乙、丙 (C)甲、丁 (D)乙、丁。

27. 以下是 1910 年代，某國向中華民國政府所提出要求的部份內容：
- ①須承認我國與德國政府協定之德國在中國山東等地特權。山東省內及其沿海土地島嶼不得讓與或租與他國。煙台或龍口至膠州鐵路，由我國建造。
- ②中國須承認我國在南滿、東蒙的優越地位，並享有土地租借權及所有權。中國在該地向外借債，聘請政治、軍事、財政顧問，均需得到我國同意。
- ③中國政府須聘用我國人民作為政治、軍事、財政顧問。中國警察改為與我國合辦。中國所需軍械的半數以上，只能向我國採辦，軍械廠亦須與我國合辦。
- 關於以上要求的相關敘述，下列何者正確？
- (甲)文中的「我國」指的是俄國 (乙)該國提出這些要求的時候，正值第一次世界大戰期間 (丙)當時中華民國的元首是袁世凱 (丁)中華民國政府最後被迫對這些要求照單全收 (A) 甲、乙 (B) 乙、丙 (C) 丙、丁 (D) 甲、丁。
28. 大中在他的歷史報告中寫道：「北京大學等十三所院校三千餘名學生聚集天安門，舉行了聲勢浩大的示威活動，並宣讀北京全體學界通告：『中國的土地可以征服而不可以斷送！中國的人民可以殺戮而不可以低頭！國亡了！同胞起來呀！』」請問，這篇報告的主題應為下列何者？
- (A) 二次革命的背景論述 (B) 洪憲帝制與民主思潮 (C) 五四運動的發展始末 (D) 立憲運動的民意支持
29. 下列為美國學者古德諾於西元 1915 年所發表的文章節錄：「中國數千年以來，習於君主專制體制，各地學校短缺，大多數之人民智識不甚高尚，人民更缺乏參與政治之能力，四年以前，由專制一變而為共和，此番變動太快，難望有良好結果… 中國將來必因總統繼承問題『釀成禍亂』… 如一時不立即撲滅禍亂，可能敗壞中國之獨立… 中國如用君主制，較共和制為宜，此殆無可疑者也。」請問，此篇文章發表後，最可能為下列何人引用，為其政治理念鋪路？(A) 梁啟超 (B) 陳獨秀 (C) 孫中山 (D) 袁世凱。
30. 承上題，此篇文章在發表後，有利於下列何種政治情勢的出現？(A) 辛亥革命成功 (B) 爆發二次革命 (C) 出現洪憲帝制 (D) 造成五九國恥。
31. 1911 年，由於清廷的政策不妥，在四川爆發了激烈的群眾運動，人民以各種形式集會演說，呼號奔走，引起

了政府的震恐，不但撤換四川總督，還調度湖北新軍入川鎮壓。請問：這群抗議民眾的訴求可能為何，而此一情勢又為何事提供了機會？

- (A) 「驅除韃虜，恢復中華」、辛亥革命
(B) 「創立民國，平均地權」、二次革命
(C) 「反對國有，侵奪私產」、武昌起事
(D) 「外爭主權，內除國賊」、五四運動。
32. 以下是一本民國初年所發行的雜誌所提出的「答辯書」內容節錄：「本誌經過三年，發行已滿三十冊，所說的都是極平常的話，社會上卻大驚小怪，八面非難。」「他們所非難本誌的，無非是破壞孔教，破壞禮法，破壞國粹，破壞貞節，破壞舊倫理（忠、孝、節），破壞舊藝術（中國戲），破壞舊宗教（鬼神），破壞舊文學，破壞舊政治（特權人治），這幾條罪案。」「這幾條罪案，本社同人當然直認不諱。但是追本溯源，本誌同人本來無罪，只因為擁護那德莫克拉西（Democracy）和賽因斯（Science）兩位先生，才犯了這幾條滔天的大罪，要擁護那德先生，便不得不反對孔教、禮法、貞節、舊倫理、舊政治；要擁護那賽先生，便不得不反對舊藝術、舊宗教；要擁護德先生又要擁護賽先生，便不得不反對國粹和舊文學。」就文章內容來判斷，這本雜誌最有可能是以下何者？(A) 《新青年》 (B) 《申報》 (C) 《自由中國》 (D) 《中國女報》。
33. 承上題，文中所指的「那德莫克拉西（Democracy）和賽因斯（Science）兩位先生」，應是下列何者？
- (A) 兩位知名思想家的名字 (B) 民主與科學 (C) 立憲與共和 (D) 倫理與道德。
34. 軍閥割據造成民國初年政局不安，使民國建立後各項建設無法順利展開，下列關於民初軍閥政治的特色，及其存在的時間，下列何者為非？
- (甲)軍閥常依附外國勢力，相互依存，擴充軍備
(乙)軍閥以實施民主憲政為目標，發揮個人理想抱負
(丙)軍閥習以武力解決政治糾紛，導致戰禍不斷
(丁)實力較強的軍閥派系以奪取南京政府做為取得中央政權的象徵
(戊)軍閥割據的時間為民國元年到民國 17 年之間
(己)軍閥割據的時間為民國 5 年到民國 17 年之間
(A) 乙、丁、戊 (B) 乙、丁、己
(C) 甲、丙、己 (D) 甲、乙、丙。

歷史試題結束，請接續下頁作答

臺北市立萬芳高級中學國中部 110 學年度第 2 學期社會領域八年級第一次定期評量試卷

本試卷分地理、歷史、公民 3 個部份，請依序作答，並按照題號畫卡。
各部份題目配分及試卷頁數請參見說明，總分為 100 分。請謹慎作答。

班級： 座號：
姓名：

第 3 部份：公民（第 35-50 題為公民科單選題，每題 2 分。）

35. 在校園生活中，同學的某些行為具有法律意義。依照附圖對話判斷，下列何項說明正確？



- (A) 小萱口頭答應小璐後即成立借貸契約 (B) 兩人具有私人間身分上的權利義務關係 (C) 若小璐不還錢，小萱只能提民事訴訟討回欠款 (D) 根據法律規定，小萱在身分上屬於債務人。
36. 小億在看串流平台的影集時，看到戲劇中老闆與員工間發生勞資糾紛，下列哪一位老闆的說法最符合我國《民法》「誠實信用原則」？
- (A) 謝老闆：契約內容除了依法規定外，薪資、待遇記載明確，雙方按照契約才不會產生誤會 (B) 伍經理：簽訂契約時雖註明週休二日，但實際上為配合公司運作，員工應配合全年無休 (C) 侯主任：徵才廣告上的薪資只是為吸引人才，契約上的薪資只是參考，錄取後看你的表現再給薪 (D) 黃社長：為了保護公司機密，工作契約中關於薪資、福利變動我們不會告知受僱人員。
37. 附圖是在資訊公司任職的李麗，於法律諮詢網上詢問契約的問題。下列何者的回答最正確？

法律諮詢論壇

李麗：為了遠距上班需求，我向廠商訂購一批筆記型電腦，雙方只在契約上簽名，約定好一個月後交貨，這樣是否已成立買賣契約？

- (A) 翊翔：雙方只簽名而沒有蓋章，效力不足 (B) 浩慶：簽約當下，必須還要有兩名證人簽名 (C) 湘琴：書面契約僅供參考，口頭約定才是重點 (D) 小瑤：契約已成立，而且簽訂書面契約更有保障。
38. 小櫻剛從國中畢業，依照《民法》規定，她從事下列何種行為，必須取得父母的同意才算有效？
- (A) 使用悠遊卡搭乘公車 (B) 暑假簽下飲料店打工契約 (C) 領取學校獎學金 (D) 拿父母給的零用錢買雜誌。

39. 12 歲的露西亞想自己購買手機，但是店員卻說：「這支手機價錢破萬並不便宜，要不要請你的爸媽帶你來買？」根據《民法》規定，下列何者最可能是店員這樣回答的原因？〔改編 103.會考〕
- (A) 露西亞是無行為能力人 (B) 露西亞是完全行為能力人 (C) 露西亞是限制行為能力人 (D) 露西亞是受監護宣告之人。

40. 附圖中的房東先生發生租賃糾紛，根據我國《民法》是因為基於下列哪一項權利行使的概念？



- (A) 誠實信用原則 (B) 禁止權利濫用 (C) 消滅時效 (D) 契約自由原則。
41. 依據附圖對話內容判斷，發生糾紛的當事人，一開始應該是以何種方式解決問題？



- (A) 私下和解 (B) 提起民事訴訟 (C) 聲請調解 (D) 訴訟上和解。
42. 附圖是宜珊在社群網頁上發表一則貼文，根據《民法》規定，下列說明何者正確？

動態分享

為了賺些零用錢，決定利用暑假打工，但是因為沒有工作經驗，老闆只給我時薪 120 元，雖然不符《勞基法》最低時薪，但已經口頭上跟老闆說定了，明天開始上班。

- (A) 依契約自由原則，雙方只要同意契約內容即為有效的契約 (B) 依誠實信用原則，宜珊只能服從老闆沒有權利要求薪資待遇 (C) 雖是依契約自由原則同意，但若契約內容違反法律規定會被認定為無效 (D) 勞僱關係屬於要式契約，若未以書面簽訂契約，則不具有效力。

43. 13 歲的孝賢將近期熱賣的電影角色圖片，印在 T 恤、明信片、徽章上，透過拍賣網站販售。不久被網站管理員下架，並被告知電影商將對他提出販賣盜版商品的訴訟。根據我國法律規定，針對上述內容，下列說明何者正確？ (A) 孝賢製造並販售的商品已屬智慧財產權的侵權行為 (B) 由於孝賢尚未成年，電影廠商將無法獲得賠償 (C) 若孝賢被廠商提告，可採取回復原狀表達歉意 (D) 孝賢可主張有標示圖片來源不需負擔賠償。

44. 根據附圖判斷，房東小梅依《民法》可以採取何種行為來保障自己的權益？



- (A) 要求房客將房間的布置回復原狀 (B) 解除契約並強制扣留房客的財物 (C) 強制房客打掃完才能離開房間 (D) 解除契約並加收十倍租金。
45. 附圖中發生一起民事紛爭，依據他們處理紛爭的方式判斷，下列敘述何者正確？



- (A) 是由公正第三人協調 (B) 調解書不具強制力 (C) 調解書由調解委員會核定 (D) 調解書核定後，不服者仍能提起民事訴訟。
46. 附圖是小廣整理公民課「甲案件」的和解流程圖，根據此圖判斷，甲案件應為下列何者？



- (A) 租賃糾紛 (B) 竊盜案件 (C) 詐欺案件 (D) 違規停車案件。

47. 祥祥社區的某一名住戶購買 50 個車位，打算出租給社區外的民眾賺取租金，但社區管理委員會認為出租車位給非社區民眾，很可能影響社區安全，同時也造成社區的公共利益損害，因此否決住戶出租車位。根據我國《民法》判斷，上述管理委員會的作為，是認為該住戶的行為已經違反下列何項權利行使的概念？ (A) 契約自由原則 (B) 誠實信用原則 (C) 禁止權利濫用 (D) 消滅時效。
48. 新佑寫了一部關於民事糾紛處理的劇本，附表是新佑將劇本拆成四份，分給負責演出的同學背臺詞。依據我國法律判斷，請依序排列這四位同學的演出先後順序？

柔柔	律師告訴我既然決定進入法院審理，就必須在審理前蒐集並提出對自己有利的證據。
大毅	昨天調解委員建議很好，可惜對方不答應，只好採取最後的手段了！
建霖	收到判決書了，若對方不按照判決結果履行，再請法院強制執行吧！
瑞恬	審理已進行一半，您要不要考慮就在法院上和解吧？

- (A) 大毅、建霖、柔柔、瑞恬 (B) 柔柔、瑞恬、大毅、建霖 (C) 大毅、柔柔、瑞恬、建霖 (D) 柔柔、建霖、大毅、瑞恬。
49. 針對民事訴訟中參與人員的敘述，下列何者正確？ (A) 原告一定要委任律師才能向法院提起訴訟 (B) 穿著黑袍裹紫邊的書記官，負責法庭內審判過程的記錄 (C) 法官會主動介入訴訟案件的調查與蒐證工作 (D) 必須由當事人主動提出，法院才會審理。
50. 附表中關於兩種和解的比較，下列何者正確？

項目	訴訟上的和解	私下和解
(甲) 進行場所	法院外	法院上
(乙) 特色	民事糾紛中最省時、省錢	民事糾紛處理的最後手段
(丙) 效力	等同法院判決，具強制力	等同法院判決，具強制力
(丁) 參與人員	法官、雙方當事人	雙方當事人

- (A) 甲 (B) 乙 (C) 丙 (D) 丁。

試題結束

