

本試卷分地理、歷史、公民 3 個部份，請依序作答，並按照題號畫卡。
各部份題目配分及試卷頁數請參見說明，總分為 100 分。請謹慎作答。

班級： 座號：
姓名：

第 1 部份：地理（第 1-16 題，每題 2 分）

題組一：請閱讀下篇文章，回答第 1-3 題。

巴西狂歡節舉世聞名，熱情洋溢的嘉年華會於每年 2 月時展開。狂歡節是為了迎接當地主要宗教的「四旬齋期」到來，信徒在齋期前幾天縱情歡樂，男女老少盛裝打扮，盡情地唱歌，大跳森巴舞。但是由於當地新冠肺炎致命疫情再起，里約熱內盧市長宣布，2021 年將不會主辦嘉年華會。他表示：「在 2022 年當所有人都接種疫苗後，我們將得以盡情慶祝生活和我們的文化。」

- 巴西嘉年華舉辦時，里約熱內盧當地的天氣最可能是下列何種情況？
(A)颶風來襲 (B)炎熱高溫
(C)低溫降雪 (D)乾旱缺雨。
- 請問：巴西主要的宗教信仰為何？
(A)東正教 (B)印度教 (C)天主教 (D)伊斯蘭教。
- 巴西是個民族大熔爐，原住民、各地移民相互影響融合成豐富的文化，尤其以森巴舞為代表。請問：巴西文化融合主要是受到以下那些民族的影響？
(A)西班牙人、非洲黑人、印第安人
(B)葡萄牙人、非洲黑人、印第安人
(C)西班牙人、亞洲移民、印第安人
(D)葡萄牙人、因紐特人、印第安人。

題組二：請閱讀下篇文章與圖 1-1，回答第 3-6 題。

尼加拉瓜(Republic of Nicaragua)去年宣布與臺灣斷絕邦交。該國國旗為一面由藍白藍三條橫條組成的旗幟，藍色象徵該國位於兩個海洋之間。白色代表和平。中間有國徽，國徽則以火山及湖泊構成。

尼加拉瓜為中美地峽面積最大的國家，天然資源豐富，但是在天然災害、內戰摧殘之下，經濟發展程度較低。出口產品以農產品為主，咖啡、蔗糖為該國最主要經濟作物之一，享有中美洲穀倉盛譽。



- 文中提到尼加拉瓜常有天然災害的發生，請問以下何者最可能是該國會發生的天然災害？
(A)地震 (B)龍捲風 (C)沙塵暴 (D)暴風雪。
- 尼加拉瓜為了增加經濟收入，曾計畫與中國合作興建圖 1-1 中的尼加拉瓜運河，以連通甲、乙兩個海洋，後來因故沒有開啟工程。請問圖中兩個海洋分別為何？
(A)甲：太平洋；乙：大西洋
(B)甲：大西洋；乙：印度洋
(C)甲：大西洋；乙：太平洋
(D)甲：太平洋；乙：印度洋。
- 根據尼加拉瓜出口的主要經濟作物判斷，該國的農業型態有下列何種特色？
(A)價格易受國際市場波動影響
(B)適合大規模機械化耕作方式
(C)農業技術領先並科技化耕種
(D)因勞力不足而採取粗放耕作。

題組三：圖 1-2 是中南美洲國家位置圖，請依圖回答第 7-9 題

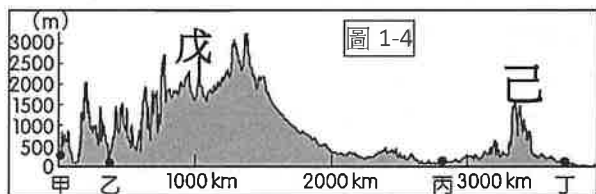


- 美洲的古文明獨具特色，若想參觀中南美洲三大古文明之一的阿茲提克的神廟遺址，應該要前往下列那一國？
(A)甲 (B)戊 (C)己 (D)庚。
 - 圖 1-3 是某旅行社的行程宣傳，該旅行社的旅遊地點應該是哪一個國家？
(A)甲 (B)戊 (C)己 (D)辛。
- ~ 中南美洲自然文化體驗之旅 ~

 - 深入熱帶雨林去探險
 - 前往咖啡莊園體驗採果
 - 欣賞壯觀的伊瓜蘇瀑布

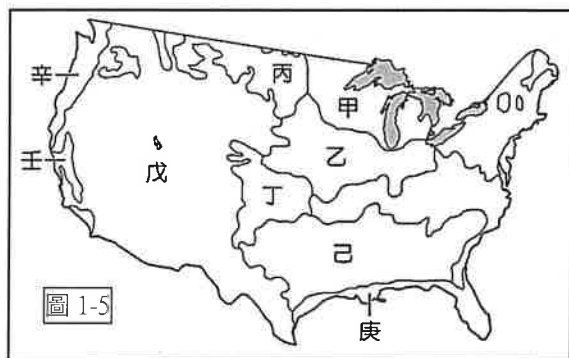
圖 1-3
- 受到自然與人文條件的影響，中南美洲人口明顯分布不均。請問下列對各國人口與都市的描述，何者正確？
(A)甲的首都受殖民影響而設在沿海港口
(B)庚因氣候悶熱而人口集中於南部高原
(C)己因高山嚴寒而人口集中在沿海平原
(D)戊為平衡區域發展將首都遷移到內陸。

題組四：圖 1-4 是北美洲沿 35°N 的地形剖面圖。請依圖回答第 10-12 題。

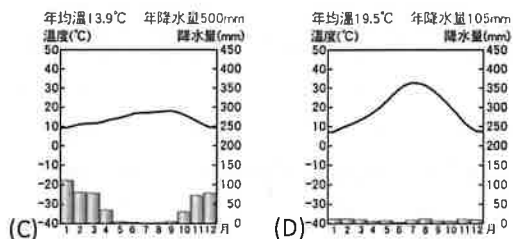
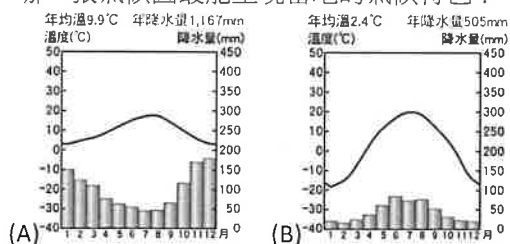


- 乙地因為位於西風背風側，是圖中年降水量最少的地方，形成溫帶沙漠。以下那一個地區的沙漠氣候和乙地成因相同？
(A)智利北部 (B)墨西哥北部
(C)秘魯沿海 (D)巴塔哥尼亞高原。
- 新聞報導：「美國六個州 10 日晚間遭到 30 個龍捲風襲擊！美國總統拜登下令全力協助救援，並形容這起天災是美國史上最大龍捲風暴之一。」。請問上述發生龍捲風的州最可能是位於圖中何處？
(A)甲 (B)乙 (C)丙 (D)丁。
- 下列為圖中各地區的描述，何者正確？
(A)甲是歐洲移民最先登陸發展地
(B)丙主要為密西西比河沖積而成
(C)戊的地質古老並且有豐富礦產
(D)己受板塊擠壓而火山地震頻繁。

題組五：圖 1-5 為北美洲專業化農作帶分布圖。請依圖回答第 13-14 題。







- 中國是全球的棉花生產國之一，其中大部分都在新疆維吾爾自治區種植。2021 年開始，因為有強迫人民從事勞動的人權爭議，部分國家下令禁止進口以此生產方式製造的商品，因此多家成衣企業轉而使用美國、印度等地區的棉花。請問：美國的棉花主要在圖中何地種植？
(A)甲 (B)乙 (C)戊 (D)己。
- 王區由於適當的氣候、地形土壤等條件，所產的葡萄酒占美國葡萄酒產量的近 90%。請問：下列哪一張氣候圖最能呈現當地的氣候特色？

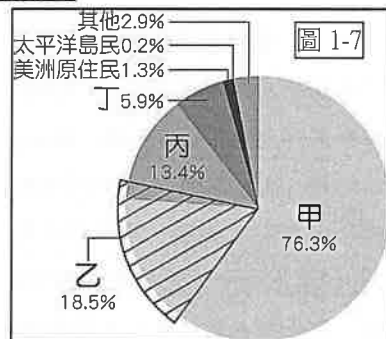


- 北美洲的工商業高度發達，圖 1-6 為美國四個重要城市圖。下列圖 1-6 中的城市與主要產業或企業總部位置的圖片配對，何者正確？



(A) 甲：汽車工業 	(B) 乙：高科技產業 
(C) 丙：航太工業 	(D) 丁：電影產業 

- 圖 1-7 是 2019 年美國居民的種族比例構成。請問下列有關美國族群的描述，何者「錯誤」？
(A)甲是歐洲白人後裔
(B)乙是拉丁裔民族
(C)丙是非洲裔黑人
(D)丁是印第安人。



試題尚未結束，請換頁繼續作答

本試卷分地理、歷史、公民 3 個部份，請依序作答，並按照題號畫卡。
各部份題目配分及試卷頁數請參見說明，總分為 100 分。請謹慎作答。

班級： 座號：
姓名：

第 2 部份：歷史（17~33 題，每題 2 分，共 34 分，共二頁）

17. 每年 1 月 26 日是澳洲的國慶日，為首批歐洲人殖民澳洲的日子。近年來，澳洲的國慶日往往出現抗議的集會遊行，希望更改國慶日的日期；原住民則提出「要殖民者哪來的回哪去」。請問：上述的「殖民者」指的是？ (A)英國 (B)荷蘭 (C)西班牙 (D)葡萄牙。
18. 大航海時代之前，從印度洋到東南亞海域的往來一直被某些「群體」掌握，甚至建立許多貿易根據地。試問，應該是下列哪一組群體？ (A)猶太人、阿拉伯人、西班牙、荷蘭人 (B)印度人、阿拉伯人、中國人、馬來人 (C)法國人、義大利人 (D)伊朗人、阿拉伯人、義大利人、印度人。
19. 西元 1600 年 12 月 31 日，英格蘭女王伊莉莎白一世授予東印度公司皇家特許狀，給予它在印度貿易的特權，其壟斷印度貿易，長達兩個世紀。隨時間的變遷，東印度公司從一個商業貿易企業變成印度的實際主宰者。附圖是英國東印度公司曾在印度使用的徽章，外圈是公司的英文名稱，內圈則是波斯文。請問：此一物品最能夠呈現下列哪一個時代背景？



- (A)16 世紀末期，英國開始從事海外擴張，爭奪殖民地
(B)17 世紀初期，英國女王授權成立英國東印度公司
(C)18 世紀中期，英國東印度公司對蒙兀兒帝國產生威脅
(D)19 世紀中期，英國派任總督，印度成為英國殖民地。

20. 子睿於 17 世紀初期隨著荷蘭聯合東印度公司的貨船來到亞洲，在他的行程中不可能遇到下列何事？
(A)參與公司在巴達維亞營運總部的建立 (B)與葡萄牙、英國船隻競爭 (C)為奪取東印度群島而發生戰鬥 (D)在印度擴張殖民活動。

題組一：請根據以下這三則資料回答第 21~23 題：

資料一：他透過改良的望遠鏡進行天文觀測，發現太陽上有黑子、月亮表面的坑洞，銀河是由許多的恆星組成等。這些研究成果驗證了「日心說」，並在西元 1632 年出版專書表示支持。隔年卻因「反對教宗、宣傳異端」的罪名，被押送到宗教法庭進行審判，在火刑的威脅下，被迫承認自己學說的錯誤，遭到終身軟禁。

資料二：「根據他反覆的推算，發現原來太陽才是宇宙的中心，這真是個驚人的發現。他害怕引起各方的攻擊，直到去世前，他才將自己著作—《天體運行論》出版，並在書的序中寫明將他的著作獻給教宗保祿三世……。」

資料三：「他思索蘋果會掉下來，但月球為什麼不會掉下來？根據伽利略的慣性定律：『不受外力作用的物體，沿一直線作等速度運動。』他把它運用在地球與月球的系統上，於是找到答案：月球一直沿著圓形軌道的切線方向飛出，但地球的引力一直把月球拉著，結果，月球永遠在圓形軌道上運動。」

21. 請問資料一與資料二分別是哪二位科學家所提出的？ (A)牛頓、伽利略 (B)笛卡兒、培根 (C)哥白尼、托勒密 (D)伽利略、哥白尼。
22. 資料三的敘述指的是？ (A)演繹法 (B)歸納法 (C)槓桿原理 (D)萬有引力。
23. 請問上述三則資料依出現時間的先後順序是？
(A)資料一→資料二→資料三
(B)資料二→資料一→資料三
(C)資料三→資料一→資料二
(D)資料三→資料二→資料一。

題組二：請由以下資料一～四的內容來判斷，並回答第 24～27 題：

資料一：我們每個人都把自身和一切的權利交給領導者；而領導者的權利也是來自於我們授予的，而非過去的神授觀念，而這就是一種社會契約的表現。

資料二：主張政府應採行政、立法、司法等分權原則，以既合作又制衡的雙重關係來避免政府專制。

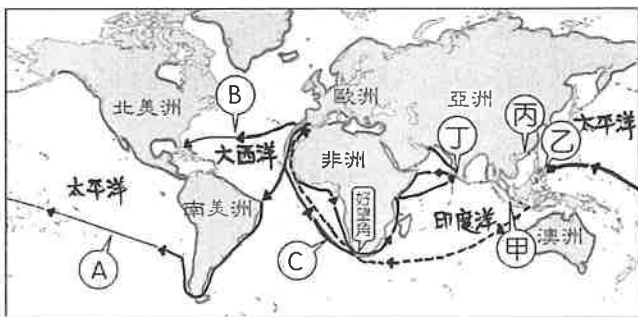
資料三：任何人都生而平等，均由上帝賦予不可侵犯的圖生存、求自由與謀幸福的權利。

資料四：反對君主制度，提倡自然神論，批判天主教會，他把天主教教宗比作『兩足禽獸』，傳教士是『文明惡棍』，天主教是『一些狡猾的人布置的一個最可恥的騙人羅網』。

24. 請問資料一與資料二分別是啟蒙運動思想家哪二人的主張？ (A) 洛克、盧梭 (B) 盧梭、孟德斯鳩 (C) 孟德斯鳩、亞當斯密 (D) 伏爾泰、狄德羅。
25. 請問指資料三的是啟蒙運動思想家的哪一項主張？ (A) 天賦人權 (B) 三權分立 (C) 君權神授 (D) 主權在民。
26. 請問資料四是蒙運動思想家何人提出的看法？ (A) 孟德斯鳩 (B) 亞當斯密 (C) 伏爾泰 (D) 狄德羅
27. 資料一～四的主張對十九世紀所造成的影響，下列何者為非？ (A) 中南洲獨立運動 (B) 法國大革命 (C) 美國獨立 (D) 科學革命。

題組三：請根據下文與附圖一，回答第 28-30 題：

歷史學者艾弗瑞·克羅斯比 (Alfred W. Crosby) 在 1972 年出版的著作《哥倫布大交換：1492 年以後的生物影響和文化衝擊》，在該書中，作者提到地理大發現後，哥倫布得到贊助國的支持，發現了新大陸。從此，開啟了舊大陸與新大陸之間的聯繫，造成不論是生物、農作物、人種、文化甚至可怕疾病的交流。



圖一

28. 請問附圖一哪一條航線是哥倫布發現的新航線？

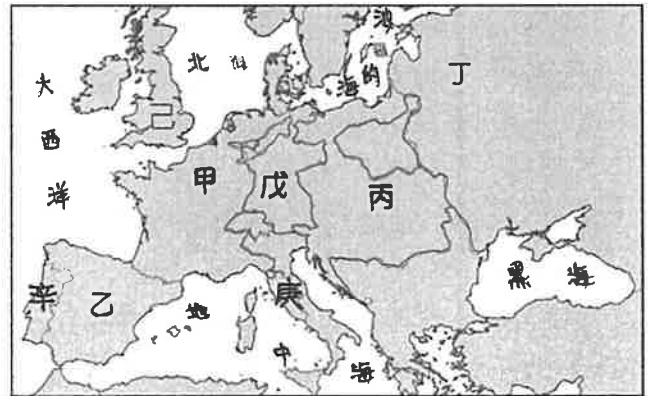
- (A) A (B) B (C) C (D) D。

29. 關於“哥倫布大交換”，下列敘述何者正確？

- (A) 非洲奴隸大量輸入歐洲，改變當地的人口結構
(B) 發現新航線，導致胡椒、丁香等香料傳至亞洲
(C) 傳染病傳入美洲造成印尼文明古國的消失
(D) 美洲白銀大量流入中國，使中國改以銀來徵稅。

30. 大航海時代以前，歐洲人的世界觀和地理知識，僅涵蓋圖上哪幾大洲？

- 甲. 亞洲；乙. 美洲；丙. 非洲；丁. 澳洲；戊. 歐洲
(A) 甲乙丙 (B) 甲乙丁 (C) 甲丙戊 (D) 甲丁戊。



圖二

◆題組四：附圖二為近代歐洲的形勢圖，請根據此圖，回答第 31-33 題。

31. 啟蒙運動的重鎮位於圖二中的何處？

- (A) 甲 (B) 乙 (C) 丙 (D) 丁。

32. 歐洲商人在中古後期，積極想要介入獲利豐厚的香料事業，卻被哪個地區商人團體壟斷香料生意？

- (A) 庚 (B) 辛 (C) 戊 (D) 己。

33. 最早從事新航路的探險，並在印度建立貿易中心，打破阿拉伯人對東方貿易路線壟斷的是哪一個國家？ (A) 甲 (B) 乙 (C) 辛 (D) 己。

※歷史試題結束，請換頁繼續作答。

本試卷分地理、歷史、公民 3 個部份，請依序作答，並按照題號畫卡。
各部份題目配分及試卷頁數請參見說明，總分為 100 分。請謹慎作答。

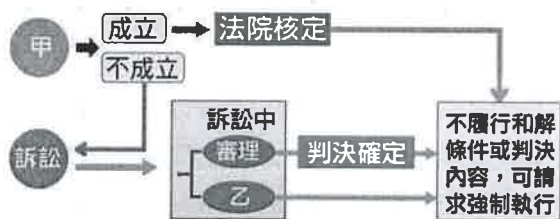
班級： 座號：
姓名：

第 3 部份：公民

34. 曾小楷透過房屋仲介公司的介紹，看中了王老五欲販售的小套房，今天雙方要進行契約簽訂。請問，關於此契約的相關敘述，下列何者正確？
- (A) 曾小楷跟王老五兩人要簽定的是房屋租賃契約
(B) 雙方只要意思一致，口頭約定就具有法律效力
(C) 雙方須作成書面契約，並完成所有權移轉登記
(D) 沒有按照契約履行義務，必須負起刑事責任。
35. 依據《民法》，下列何人的行為具有法律效力？
- (A) 剛滿 5 歲的小明自己到超商買了一顆茶葉蛋
(B) 剛滿 14 歲的阿盛偷偷買了本偵探推理小說
(C) 剛滿 16 歲的小香瞞著父母與唱片公司簽約
(D) 剛滿 18 歲的阿倫不顧父母反對買了輛機車。
36. 公民老師在課堂上舉例說明某法律觀念：「某電子購物網上，先前出現標錯價的烏龍，三星手機原本售價為 27,900 元，竟少標一個 0，打一折賣 2,790 元。在業者發現錯誤之前，已經有不少網友下單訂購。業者表示，會按照標錯的價格出貨給已訂購的消費者。業者的行為是重視商譽的表現，也符合了□□」。請問：公民老師應該是在說明何種法律觀念？
- (A) 契約自由原則 (B) 誠實信用原則
(C) 不告不理原則 (D) 行為能力與法律效力。
37. 莊董跟廠商簽訂契約，結果廠商無法如期交貨，造成莊董不小的損失，廠商卻拒絕依照莊董提出的金額進行賠償，雙方發生糾紛。莊董某日跟鄰居泡茶聊天時聊到此事，鄰居們紛紛給了建議。請問，哪位鄰居的說法正確？
- (A) 新一：你可以試著跟對方私下和解，如果對方耍賴，你可以向法院聲請強制執行
(B) 小蘭：你可以先調解，調解書經法院核定後，你如果後悔，還是可以提出訴訟
(C) 圓子：你可以交付仲裁，仲裁庭的仲裁結果，跟法院的確定判決具有同等效力
(D) 服部：你可以考慮報警處理，由檢察官幫你提出訴訟，你就不用花錢雇用律師。
38. 以小客車提供載客服務的陳姓男子，搭載一名酒醉的女大學生，陳男竟將車開到汽車旅館性侵得逞。男子被逮後承認犯行，並賠償女大學生損失雙方達成和解，但仍遭到法院判處徒刑。上述陳姓男子與女大學生達成和解，以及被法院判罰的部分，依序屬於下列何種類型？
- (A) 民事事件、告訴乃論的刑事案件
(B) 民事事件、非告訴乃論的刑事案件
(C) 行政案件、告訴乃論的刑事案件
(D) 行政案件、非告訴乃論的刑事案件。
39. 大峰向小華借了 500 元，過了約定的時間卻遲遲未還。小華今天跟大峰說：「我心情很鬱悶，你讓我打 5 巴掌，500 元就不用還，如何？」大峰真的還不出錢，就答應說好。請問：關於兩人的約定，下列敘述正確的是？
- (A) 大峰還不出錢答應被打，符合誠實信用原則
(B) 依據契約自由原則，此約定具有法律效力
(C) 契約內容違反公序良俗，兩人的約定無效
(D) 如果打傷大峰，小華也不須負擔法律責任。
40. 台北一名王姓小三偷偷生下私生子，涂姓正宮於 2019 年 12 月經朋友提醒羅姓老公外遇、有私生子，她一查戶籍謄本發現確有其事，小三竟還在 IG 嗆正宮「快點告我」，正宮如她所願提告，最後法院判決王女需支付涂姓正宮 40 萬元。【東森新聞 2021-03-08】
- (A) 王女支付給涂姓女子的 40 萬元屬於罰鍰
(B) 法官認定王女必須負起債務不履行的責任
(C) 此案件必須由涂姓女子提出後，法院才能審理
(D) 為了做出正確判決，法官可以主動介入調查。

※ 請翻頁繼續作答

- 41.「陳姓藝人過世後，家人為了遺產繼承問題，不惜鬧上法院。」請問：陳姓藝人的家屬之間發生的糾紛，與下列何種情境屬於同一類的法律糾爭？
- (A)技安開設的超商遭到歹徒持刀搶劫
 (B)A 夢向智慧財產局申請專利權未獲得核准
 (C)大雄深夜在家狂歡喧鬧，被鄰居檢舉
 (D)阿福訂購的環島旅行團被旅行社無故取消。
42. 19 歲的小芙買了新房子，並完成相關手續，父母知情後雖不同意，但買賣契約仍然有效；15 歲的雯雯買了昂貴的名牌包，但因某些原因，此交易行為無效。請問：會造成這兩種不同的結果，原因最可能是下列何者？ (A)小芙的婚姻狀況為已婚 (B)小芙具有完全責任能力 (C)雯雯屬於限制責任能力人 (D)雯雯屬於完全行為能力人。
- 43.違反民法規定時，必須負起「民事責任」，而生活中須負擔民事責任的行為，最常見的是侵權行為和債務不履行。下列關於民事責任的敘述，何者正確？
- (A)損害賠償責任是以金錢賠償為原則
 (B)東西被 3 歲小孩弄壞，無法要求賠償
 (C)如果對方是故意損壞，可以要求賠償雙倍的金額
 (D)租房子未按時繳付租金，須負起債務不履行責任。
- 44 附圖是一種民事紛爭解決管道的流程圖。



請問：甲、乙應分別填入以下何者？

- (A)仲裁、訴訟上和解 (B)仲裁、調解
 (C)調解、訴訟上和解 (D)訴訟外和解、調解。
- 45.附圖是歡喜城在 12 月中所發生的各類紛爭事件統計結果。根據圖中資料判斷，下列哪一項推論最為合理？
- | | |
|------------|-------|
| 各類紛爭案件統計結果 | |
| 民事案件 | 123 件 |
| 刑事案件 | 67 件 |
| 行政案件 | 8 件 |
- (A)可以和解的案件可能為 150 件
 (B)可以調解的案件可能為 100 件
 (C)提出訴願的案件可能為 10 件
 (D)提起公訴的案件可能為 70 件。
- 46.剛滿十四歲的林姓國中學生騎乘父親的機車，疑似操控不慎，把巷口擺攤的歐老闆撞得鼻青臉腫，

歐老闆決定追究林姓學生的法律責任。依據我國法律的規定，下列對林姓學生所須承擔的法律責任之敘述，何者正確？

- (A)林生將被依《少年事件處理法》中的少年刑事案件程序處理
 (B)依據《刑法》，林生的年齡未滿十五歲，不能施以刑罰
 (C)依據《道路交通管理處罰條例》，無照駕駛將被處以罰金
 (D)依據《民法》，林生的家長須負起連帶的損害賠償責任。

※刑法第284條：因過失傷害人者，處一年以下有期徒刑、拘役或十萬元以下罰金。

題組：請根據題目敘述，回答47-50題

桃園一名 9 歲男童於 2019 年間到超商 i-bon 多媒體事務機花 1 萬多元購買遊戲點數，家長氣得對遊戲公司提告，法院以男童未成年、家長不同意購買，判決遊戲公司返還 1 萬元。

- 47.下列關於此事件的敘述，正確的是
- (A)此糾紛必須透過訴訟方式解決
 (B)家長是向法院提出刑事訴訟
 (C)家長向法院提告的舉動，稱為告發
 (D)此訴訟案件是在普通法院進行審理。

48.在本訴訟中，會出現的法律人物分別是

- (A)「原告」：男童家長
 (B)「被告」：超商店員
 (C)「檢察官」：協助調查和蒐證
 (D)「大法官」：審理案件、進行判決。

49.依據法律規定，9 歲男童的行為能力為何？

- (A)可以自己決定要不要購買手搖飲料
 (B)領取獎學金，必須經法定代理人同意
 (C)任何行為都必須由法定代理人代為行使
 (D)任何行為都必須經過法定代理人同意。

50. (甲) 80 歲的爺爺友藏

- (乙)受監護宣告的佐佐木爺爺
 (丙) 18 歲的姊姊男友
 (丁) 13 歲的鄰居哥哥
 (戊) 6 歲的堂弟廣明。

上述人物中，與 9 歲男童具有相同行為能力的人數有幾人？

- (A) 1 人 (B) 2 人 (C) 3 人 (D) 4 人。

萬芳高中國中部 110 學年度第 1 期社會領域

九年級第三次定期評量試題解答

1	B	2	C	3	B	4	A	5	C
6	A	7	A	8	B	9	D	10	D
11	C	12	B	13	D	14	C	15	C
16	D	17	A	18	B	19	C	20	D
21	D	22	D	23	B	24	B	25	A
26	C	27	D	28	B	29	D	30	C
31	A	32	A	33	C	34	C	35	B
36	B	37	C	38	B	39	C	40	C
41	D	42	A	43	D	44	C	45	A
46	D	47	D	48	A	49	A	50	B

