

臺北市立萬芳高級中學國中部 110 學年度第 1 學期社會領域八年級第 3 次定期評量試卷

本試卷分地理、歷史、公民 3 個部份，請依序作答，並按照題號畫卡。
各部份題目配分及試卷頁數請參見說明，總分為 100 分。請謹慎作答。

班級： 座號：
姓名：

第 1 部份：地理（第 1-17 題，每題 2 分）

1. 下表關於南極洲的自然與人文特徵描述，何者「錯誤」？

(A)地形	主體是平均高度 2000 多公尺的高原。
(B)氣候	為寒帶氣候，是全球地表上最冷的地方。
(C)人文	有原住民因紐特人居住，他們會建造冰屋以度過寒冬。
(D)發展	有科學家在當地進行天文觀測與天氣變遷等研究。

2. 陶波湖位於紐西蘭的北島，形狀似一顆心臟，湖水覆蓋著幾座火山口。湖泊四周有多地熱溫泉，到現在湖底仍可見到冒熱氣的噴口。請問：陶波湖附近的環境特色最有可能是受到下列哪一項因素的影響所造成？

(A)河川侵蝕 (B)冰河侵蝕
(C)西風吹拂 (D)板塊擠壓

3. 大堡礁（Great Barrier Reef）是全球最大的熱帶珊瑚礁系統。大堡礁其實由約 3000 個獨立珊瑚礁組成，這裏是世界上生物多樣性最為豐富的生態系統之一。它還為沿海地區提供保護，以抵禦大浪及風暴。大堡礁位於圖 1-1 中的哪一海域附近？

(A)甲 (B)乙 (C)丙 (D)丁。

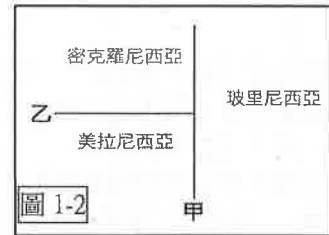


4. 承上題，珊瑚白化是氣候變暖引發海水溫度上升，導致珊瑚及體內的共生藻死亡，僅剩下透明的珊瑚蟲或白色骨骼的現象。自 1995 年以來，全球氣候變暖已經導致大堡礁損失了一半珊瑚。請問：下列何者並非「非」是加速全球暖化的原因之一？

(A)大量砍伐森林影響溫度調節
(B)大氣中的二氧化碳含量減少
(C)工廠、汽車排放的溫室氣體
(D)人造建物大面積的覆蓋地表。

5. 圖 1-2 為大洋洲簡圖，大洋洲的島嶼主要分成三大島群，圖中甲、乙代表其分界線。請問：甲、乙界線分別大致與下列哪一條線相符？

(A)甲：0 度經線；乙：北回歸線
(B)甲：180 度經線；乙：北回歸線
(C)甲：0 度經線；乙：赤道
(D)甲：180 度經線；乙：赤道。

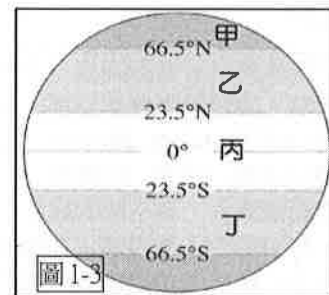


6. 「受到全球 COVID-19 疫情的持續影響，紐西蘭作為 2021 年亞太經濟合作會議(APEC)的主辦國，已宣布所有相關會議都將改以線上視訊會議方式召開，希望能在嚴峻的疫情下持續推展國際交流的脚步。」請問：以下那一個國家，「沒有」會員資格參加上述的視訊會議？

(A)英國 (B)美國 (C)澳洲 (D)臺灣。

7. 隨著氣候暖化的變遷，生物的棲息地也將隨之改變。「登革熱」原本流傳於熱帶地區，引成登革熱的病媒蚊由於暖化影響，逐漸擴散到了溫帶地區。在圖 1-3 中哪一個氣候區的登革熱病例會最少？

(A)甲 (B)乙 (C)丙 (D)丁。



8. 阿祥參加「全球氣候變遷的衝擊」知識競賽活動，必須根據以下提示，找出氣候異常造成的環境問題。阿祥應該如何回答才完全正確？

甲：平均氣溫上升，歐洲有更多的熱浪侵襲。
乙：部分地區降水量減少，沙漠化範圍擴大。
丙：極區的海冰增加，造成船隻航行的困難。
丁：海面上升，使沿海地區地層下陷嚴重。
戊：降水過度集中，造成洪水或土石流災害。

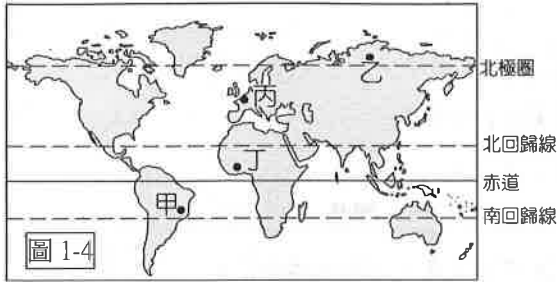
(A)甲丙丁 (B)甲乙戊 (C)乙丙戊 (D)乙丙丁。

9. 紐西蘭有「綿羊王國」之稱，為全球第 1 大羊毛出口國，第 2 大乳製品出口國。近年來隨著科技進步，有牧民開始運用機械狗、無人機等協助牧羊。請問：上述的畜牧方式主要與紐西蘭何種特色最相關？

(A)機械工業發達 (B)地形崎嶇多山
(C)勞動力較短缺 (D)電力充足廉價

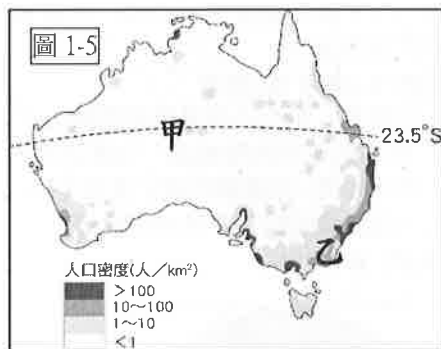
試題尚未結束，請翻頁繼續作答

題組一：圖 1-4 為世界簡圖，請依地理位置判斷，回答第 10-11 題。

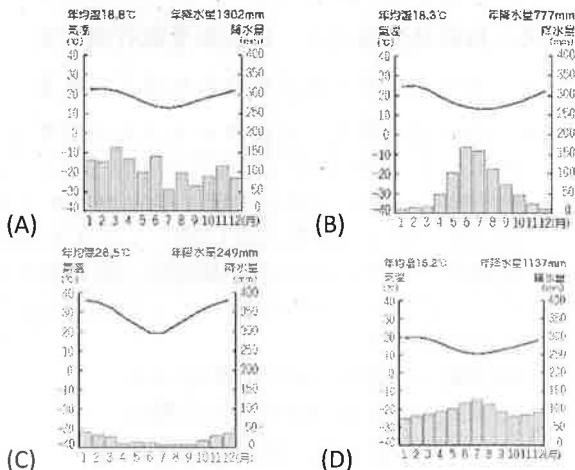


10. 極光為地球上相當特殊的自然景觀，這種特殊的景觀最常出現在圖 1-4 中哪一個地區附近？
 (A)甲 (B)乙 (C)丙 (D)丁。
11. 熱帶雨林對於世界的環境影響甚大，被稱之為「地球之肺」。請問：若想見到熱帶雨林要前往圖 1-4 中哪一個地方？
 (A)甲 (B)乙 (C)丙 (D)丁。

題組二：圖 1-5 為澳洲人口密度圖，請依地理位置判斷，回答第 12-14 題。



12. 若有一架飛機延著南回歸線「由西往東」飛越澳洲的上空，請問依序會見到那一些主要地形？
 (A)高原→平原→山地 (B)平原→山地→高原
 (C)山地→高原→平原 (D)高原→山地→平原
13. 澳洲的面積廣大，有不同的氣候類型，人口分布不均，有明顯的區域差異。在圖 1-5 的乙區因為降水較多，產業發達是澳洲的精華區。請問：乙區的降水主要是因為位於下列那一種風的迎風坡？
 (A)西風 (B)東風 (C)東南信風 (D)東北信風。
14. 圖 1-5 的甲所在地有塊巨大的圓形柱石烏魯汝 (Uluru)，是澳洲原住民的聖地。請問以下何者是甲附近的氣候圖？



題組三：請依據下列文章回答第 15-17 題。

帛琉共和國是臺灣 14 國邦交國之一，去年由於提供臺灣民眾入境後免隔離的政策，曾引爆到帛琉共和國打疫苗的風潮。帛琉共和國全國人口僅 2 萬人的，位置界於北緯 2 至 8 度之間，東經 131 至 135 度間，由一個大堡礁和無數小島組成的群島。擁有藍天白雲、珊瑚島嶼、潔淨沙灘、黃昏落日的美景，有潛水天堂美譽，被 CNN 評選為 2022 年最佳旅遊目的地。

不過，觀光業為帛琉共和國帶來的不僅是經濟效益，也會帶來環境破壞，因此 2017 年起，所有外國旅客在入境通關時其護照內頁會蓋上「帛琉誓詞 (Palau Pledge)」戳章，旅客須於欄位上簽名，才能獲准入境，以作為在帛琉共和國旅遊期間「願共同維護環境生態及尊重帛琉文化的承諾」。

15. 小語參加過到帛琉共和國打疫苗的旅遊團，他從桃園機場搭飛機出發，只飛行 4 小時就抵達帛琉。請問：小語搭乘的飛機主要向哪一個方向飛行？
 (A)東北方 (B)東南方 (C)西北方 (D)西南方。
16. 以下臺灣那一個島嶼與帛琉共和國的珊瑚礁島嶼成因相同？
 (A)蘭嶼 (B)金門烈嶼 (C)澎湖群島 (D)琉球嶼。
17. 根據美國國家海洋暨大氣總署發布全球最新數據，顯示 2021 年 7 月已成為過去 142 年以來，地球最熱的 7 月。請問在全球氣溫不斷升高的趨勢下，帛琉共和國最可能面臨下列何項環境災害？
 (A)颱風威力減弱且侵襲頻率減少
 (B)地震變多且火山噴發機率增高
 (C)水災頻率增加且國土面積縮小
 (D)降水日漸稀少導致長期的乾旱。

試題尚未結束，請換頁繼續作答歷史題

臺北市立萬芳高級中學國中部 110 學年度第 1 學期社會領域八年級第 3 次定期評量試卷

本試卷分地理、歷史、公民 3 個部份，請依序作答，並按照題號畫卡。
各部份題目配分及試卷頁數請參見說明，總分為 100 分。請謹慎作答。

班級： 座號：
姓名：

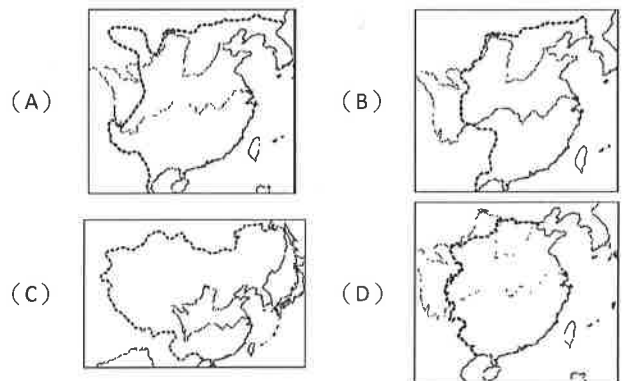
第 2 部份：歷史（共 16 題，每題 2 分，共 2 頁）

18. 一份歷史文告寫道：「自宋朝覆亡，北方外族入主中原，百年不到，天下大亂。我本是平民，被眾人推舉，率軍攻占金陵（今南京），再北上驅逐胡虜。色目等雖為異族，但若衷心歸順，仍是中華子民。」以上敘述與下列哪一史事關係最密切？(A) 朱元璋起兵反元 (B) 孫中山創建中華民國 (C) 吳三桂引清兵入關 (D) 鄭成功反清復明。
19. 明帝國的外患內亂頻仍，使其長期處於戰禍之中。請問：明帝國曾受下列何者的侵擾？
甲、蒙古；乙、女真；丙、日本；丁、朝鮮
(A) 甲 (B) 甲乙 (C) 甲乙丙 (D) 甲乙丙丁。
20. 「明帝國與其說亡於清兵，不如說亡於□□。災民與飢兵的結合，使帝國從內部受到侵蝕，最後會被外族取代，也不是不可能的事。」請問：□□應為下列何者？
(A) 蒙古 (B) 女真 (C) 倭寇 (D) 流寇。
21. 「凡外夷者，我朝皆設市舶司以領之。……許帶方物，官設牙行與民貿易，謂之互市。是有貢船，即有互市，非入貢即不許其互市。」請問：以上敘述指的是下列何種貿易型態？而對這種貿易型態特別的堅持，又是從哪個朝代開始的？請在以下選出正確的答案配對：
(A) 邊市貿易—宋朝 (B) 走私貿易—明鄭
(C) 朝貢貿易—明朝 (D) 開港通商—清朝。
22. 「所有的洋人，除了在京師通曉技藝的人員外，一律送往澳門安置，各地天主堂全部沒收，改為祠堂或義學。」請問，上述政策的實行，根據引文內容判斷，應是發生於下列哪個時期的史事？(A) 16 世紀的明朝 (B) 17 世紀的清朝 (C) 18 世紀的清朝 (D) 19 世紀的清朝。
23. 中國文化深厚、淵遠流長，有其自身的穩固傳統。為此，耶穌會到中國宣揚天主教教義時，曾採取哪些辦法而順利傳教？甲、允許教徒祭天祭祖祭孔，認為此為慎終追遠的風俗，與天主教義並不抵觸；乙、試圖找到儒家思想與天主教義相近相通之處加以闡述，提升中國人對基督教義的接受度；丙、向市井小民傳播福音，以永生得

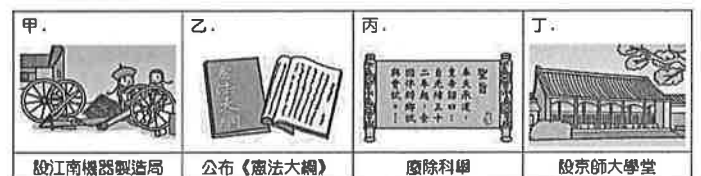
救作為傳教解說的重要議題；丁、向士大夫介紹天文曆法、數學兵器等西洋學問，以此作為重要的傳教手段。
(A) 甲乙丙 (B) 甲乙丁 (C) 甲丙丁 (D) 乙丙丁。

24. 承上題，首先以這些方式成功在中國傳教的耶穌會士，應是下列何人？(A) 曾國藩 (B) 徐光啟 (C) 湯若望 (D) 利瑪竇。

25. 歷史課堂上，同學們在討論某一朝代盛世的特色：
甲同學：「此時君主的權力達到極盛，但在盛世的表象下，有一股嚴厲的政風。」乙同學：「朝廷表面上支持學術事業，不少讀書人卻因文字獄慘遭迫害。」丙同學：「這長達一百多年的盛世，在平定反清復明的勢力與叛亂事件後，內部的統治愈見鞏固；對西北多次用兵，將今日的蒙古、新疆、西藏納入帝國版圖。」請問：同學們所討論的朝代，其疆域範圍應為下列何者？



26. 以下四張圖卡，分別代表滿清末年清廷曾推動的幾個改革運動其中的部份內容。若依這些措施出現的順序排列，下列何者正確？(A) 甲→乙→丙→丁 (B) 甲→丁→丙→乙 (C) 丙→丁→甲→乙 (D) 乙→丙→丁→甲。



27. 承上題，促發這些改革措施的戰爭，下列配對何者正確？
(A) 甲：鴉片戰爭 (B) 乙：甲午戰爭
(C) 丙：八國聯軍 (D) 丁：英法聯軍。

28. 小芳同學在研究清朝某一場戰爭時，在報告中放入了一張形勢圖（如右）。從圖中內容判斷，她應是在研究哪一場戰役？

(A) 八國聯軍 (B) 甲午戰爭
(C) 鴉片戰爭 (D) 英法聯軍。



29. 清朝末年，中國在多場對外戰爭中失利，因而簽訂各種條約以平息兵禍。然而許多條約的內容，卻對中國的主權與內部社會的安定造成相當大的危害，也在外交上面臨前所未有的變局。下列幾張圖卡，代表了不平等條約對中國的戕害：



請問，圖卡內容所敘述清廷喪失的主權，是哪一場戰爭戰敗之後的結果？(A) 中英鴉片戰爭 (B) 英法聯軍之役 (C) 八國聯軍之役 (D) 中日甲午戰爭。

30. 下表是清朝中葉以後，白銀與銅錢的兌換數額：

時間	1兩白銀可兌換的銅錢
1795年	700文銅錢
1830年	1200文銅錢
1840年	2000文銅錢

請問，造成表中比值變化的主要因素為何？

(A) 每年支出歲幣日益增加，導致白銀大幅跌價
(B) 中國對外貿易呈現大幅出超，造成銅錢升值
(C) 清廷對外戰爭屢履失敗，給付他國賠款數額過大，致使銀價大幅上漲 (D) 鴉片大量走私進口中國市場，導致白銀大量外流，銀貴錢輕。

31. 以下短文是慈禧太后的一段自述：「我本來執定不同洋人破臉的，中間一段時期，因洋人欺負太甚了，也不免有些動氣。雖是沒攔阻『他們』，始終沒叫『他們』十

分盡意的胡鬧。火氣一過，我也就回轉頭來，處處都留著餘地。我若由『他們』盡意的鬧，難道一個使館有攻不下來的道理？」請問，短文中關於『他們』以及『他們』所造成的影響，下列說明何者正確？

甲：『他們』指的是「義和團」，活動範圍從山東轉移到北京

乙：『他們』所造成的動亂，是清朝末年規模最大的民變

丙：『他們』殺洋滅教的行為，導致八國聯軍入侵中國

丁：『他們』促成了清廷成立「總理各國事務衙門」專職對外事務

(A) 甲、乙 (B) 甲、丙 (C) 甲、丁 (D) 乙、丙

32. 一篇 20 世紀初關於中國時事的報導指出：「何謂『畫虎不成反類犬』？今天，日本以小國擊敗強權俄國，名震國際。我大清在十年前同樣慘敗於日本，可見該國變法的成功。如今朝廷雖說要學習日本從事變法，但新任內閣成員上下十三名當中，滿洲貴族即佔九人，漢族官僚僅有四人，這怎麼能說是有誠意改革？說穿了，這只不過是滿洲皇族想繼續攬權集權的幌子而已。」關於這篇報導的內容，下列解析何者正確？

甲、該報導批評中國的戊戌維新缺乏整體規畫，且過度側重器物層面的改革，因而慘遭失敗

乙、該報導指出中國的立憲運動慘遭保守勢力的反對，因而在戊戌政變之後輒然而止

丙、該報導所說日本變法的成功，指的是日本的明治維新，其為日本朝野合力推動現代化改革的結果

丁、該報導的評論立場，說明了部份時人對清廷改革失望，因而轉向支持革命，加速清帝國的滅亡。

(A) 甲、乙 (B) 乙、丙 (C) 丙、丁 (D) 甲、丁。

33. 「鄭和七次下『西洋』是中國史上盛大而特殊的對外活動。鄭和的船隊雖配備強大的武裝，但並不用武力，而是利用瓷器、絲綢、金屬貨幣等，交換各國的珍珠寶石、香料及珍禽異獸，藉此贏取各國的信任。許多國家在鄭和訪問後，派遣使團甚至是搭乘鄭和的船隻到中國朝貢，並與中國建立邦交及貿易關係，使中國的聲威一度可與唐太宗的天可汗制度媲美。」關於鄭和的事跡、以及他所身處的年代，下列敘述何者正確？

(A) 鄭和的航海事業象徵清朝全盛時期的發展成果

(B) 鄭和成功完成明太祖朱元璋所欲宣揚國威的任務

(C) 鄭和所處的清帝國在其所建立的宗藩關係中位居天朝上國的地位 (D) 鄭和所航行的「西洋」指的是今天的東南亞與印度洋一帶，最遠曾航行到非洲東岸。

歷史試題結束，請接續下頁作答

臺北市立萬芳高級中學國中部 110 學年度第 1 學期社會領域八年級第三次定期評量試卷

本試卷分地理、歷史、公民 3 個部份，請依序作答，並按照題號畫卡。
各部份題目配分及試卷頁數請參見說明，總分為 100 分。請謹慎作答。

班級： 座號：
姓名：

第 3 部份：公民（第 34-50 題為公民科單選題，每題 2 分。）

34. 我國某縣的縣政府，因為地方建設經費不足，因此廣邀縣民提供意見。附圖中的建議應屬於哪一類的地方自籌財源？



- (A) 地方稅收 (B) 企業捐款 (C) 中央補助
(D) 公共造產。
35. 我國中央與地方政府依據事務性質分工，中央政府主管全國一致事務，而地方政府主管因地制宜事務。下列何者屬於地方政府所處理的事務？
- (A) 中小學營養午餐計畫 (B) 彈劾公務人員
(C) 地方法院的訴訟審判 (D) 主辦專門職業及技術人員考試。
36. 蕭閔在認識地方政府的單元，玩九宮格遊戲，只要是同層級的三個行政區，就能連成直線、橫線或斜線，因此附表空格中填入哪一個縣市才能連成一線？

嘉義市	花蓮縣	高雄市
新北市	?	彰化市
馬公市	宜蘭市	基隆市

- (A) 苗栗市 (B) 臺東市 (C) 花蓮市
(D) 新竹市。
37. 為因應新型冠狀病毒 (COVID-19) 防疫措施，教育部公告新型冠狀病毒 (COVID-19) 停課標準。全國各縣市政府教育單位，依照教育部公告的標準，針對停課補課方式，研擬應對措施。根據上述內容，教育部和各縣市政府教育單位的分權方式屬於下列何者？
- (A) 分權制衡 (B) 權力分立 (C) 均權制度
(D) 水平分權。

38. 小新自學校畢業後，與幼稚園同學舉辦同學會，其中幾位同學恰好在政府部門工作。請就附表的職權範圍判斷，哪位同學最可能在地方政府的行政機關任職？

姓名	職權範圍
風間	制定《〇〇市垃圾處理自治條例》
正男	審查全國的明年度預算
阿呆	質詢〇〇行政院長與文化部長
妮妮	委辦中央政府的幼兒托育政策

- (A) 風間 (B) 正男 (C) 阿呆 (D) 妮妮。
39. 由附圖中兩人的對話判斷，討論內容應屬於地方政府的哪方面職權？



- (A) 安全衛生 (B) 社會福利 (C) 經濟發展
(D) 教育文化。
40. 公民老師讓同學觀看台北市議會開會的線上轉播。看完後，同學們紛紛表達對議會開會的想法。下列何者的說法最正確？
- (A) 阿光：台北市長有權制定地方法規 (B) 阿義：台北市議員正在編列明年地方的預算 (C) 阿亮：台北市議員必須接受台北市政府的官員質詢 (D) 阿明：我終於見到台北市議員質詢台北市長的實況。
41. 臺北市政府為了達成全民參與市政決策的願景，推出 i-Voting 系統，讓民眾可以透過網路提案、討論、意見表達後進行線上投票。上述政府的做法，有助於落實下列何種目標？
- (A) 提供多元的政治參與管道 (B) 強化台北市議員的監督機制 (C) 完全取代公民投票決定地方事務 (D) 增進媒體教育文化的功能。

42. 英國電影《女權之聲：無懼年代》(Suffragette) 靈感來自於英國 1912 年婦女尚未有投票權的年代。劇情描述部分英國婦女對女性缺乏參政權感到失望，選擇離開家庭與職場，積極透過抗爭行動，爭取婦女選舉權。上述內容與下列哪一項選舉原則相關？(A)普通原則 (B)平等原則 (C)直接原則 (D)無記名原則。

43. 附圖是楊青針對即將到來的立委選舉，與兩位朋友討論如何投政黨票。由附圖朋友的反對論點來看，應是基於下列何種原因？



- (A) 政黨票得票比例高於 3% 才能成為執政黨
- (B) 政黨票將影響區域立委的席次分配
- (C) 按得票率 19 號政黨較難獲得不分區立委席次
- (D) 應改投其他得票率低的政黨。

44. 我國立法院於民國 92 年制定《公民投票法》，主要是讓人民可以直接參與公共政策的決策與法案的制定，展現直接民主的精神。《公民投票法》可以落實《憲法》保障的哪些權利？

- (A) 自由權、創制權 (B) 創制權、複決權
- (C) 自由權、平等權 (D) 平等權、複決權。

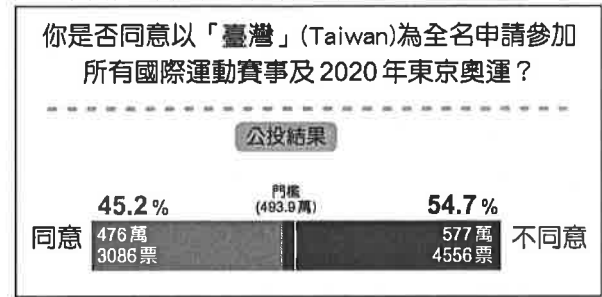
45. 附表是我國辦理台北市長選舉時，四位台北市民的相關資料。根據資料判斷，下列哪一個人最可能在本次選舉中具有投票資格？

姓名	年齡(歲)	在選區設籍時間	備註
瀧瀧	21	七個月	褫奪公權中
妙妙	25	三個月	曾有竊盜罪前科
丁丁	18	五個月	長年在海外留學
奇奇	65	九個月	受法院監護宣告

- (A) 瀧瀧 (B) 妙妙 (C) 丁丁 (D) 奇奇。

46. 我國於某年同日舉行二項公職人員選舉，蓓蓓進了投票所後，依法領取了三張選票。下列何者最可能是此次選舉所產生的公職人員？〔改寫 103. 會考〕(A)鄉長、鄉民代表 (B)總統、立法委員 (C)縣長、縣議員 (D)直轄市市長、直轄市市議員。

47. 2018 年舉辦的全國性公民投票案數共計 10 案，附圖為其中某一主題的投票結果。根據附圖內容判斷，下列敘述何者正確？



(A) 本案提案通過將以「臺灣」為名參加國際運動賽事 (B) 本案公投結果由各縣市地方政府公告 (C) 此次投票展現間接民主的精神 (D) 此議題於 2 年內不得再提出公投。

48. 亦睿對政治參與有濃厚的興趣，總統大選時，依據選舉相關法律，他必須從臺北趕回嘉義市老家才能行使投票權。請根據我國選舉相關法規判斷，下列敘述何者正確？(A)亦睿至少年滿 18 歲 (B)亦睿至少設籍嘉義市半年以上 (C)凡有我國國籍者，均享有選舉權 (D)人民有選舉權為《民法》保障的權利。

49. 為保護臺灣瀕臨滅絕的石虎，苗栗縣議會三讀通過《苗栗縣石虎保育自治條例》，達成石虎保育與自然生態保育之目標。依據上述，下列敘述何者正確？(A)通過自治條例的機關為苗栗縣民代表會 (B)其他縣市不受該自治條例的規範 (C)苗栗縣政府受行政院委辦石虎保育措施 (D)此法的制定代表地方政府擁有監察權。

50. 緯群第一次參加選舉投票，興奮地在社群網站上，向親友分享一張如附圖所示的照片。依照我國選舉相關法律規定，緯群的行為已違反哪一項選舉原則？



- (A) 普通原則 (B) 直接原則 (C) 無記名原則 (D) 平等原則。

試題結束

萬芳高中國中部 110 學年度第 1 學期

社會領域八年級第三次定期評量試題解答

1	C	2	D	3	A	4	B	5	D
6	A	7	A	8	B	9	C	10	B
11	D	12	A	13	C	14	C	15	B
16	D	17	C	18	A	19	C	20	D
21	C	22	C	23	B	24	D	25	C
26	B	27	C	28	D	29	A	30	D
31	B	32	C	33	D	34	D	35	A
36	D	37	C	38	D	39	D	40	D
41	A	42	A	43	C	44	B	45	A
46	B	47	D	48	B	49	B	50	C