

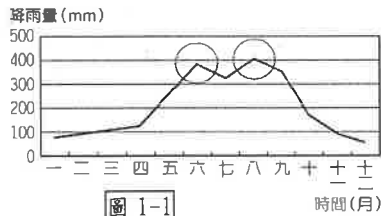
本試卷分地理、歷史、公民 3 個部份，請依序作答，並按照題號畫卡。
各部份題目配分及試卷頁數請參見說明，總分為 100 分。請謹慎作答。

班級： 座號：
姓名：

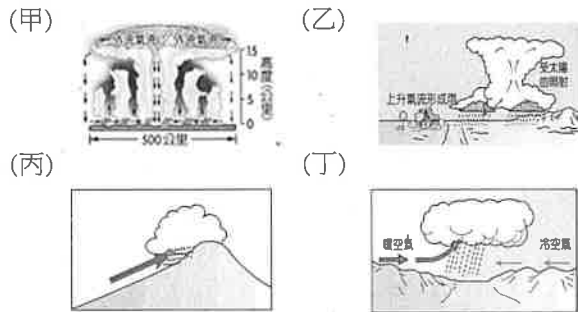
第 1 部份：地理（共 17 題，每題 2 分，共 2 頁）

1. 下列有關天氣要素的敘述，何者「錯誤」？
(A) 氣溫通常用攝氏(°C)或華氏(°F)為度量單位
(B) 風向是指風的去向 (C) 氣壓會受高度影響
一高度越高，氣壓就越低(D) 降水會因氣流上升及移動方式影響而出現不同的類型。

2. 圖 1-1 是臺灣月平均降雨量資料。請問圖中兩次高峰期的形成，分別依序與下列何種降雨類型關係最密切？



- (A) 甲、乙 (B) 乙、丙 (C) 丙、丁 (D) 丁、甲



3. 臺灣氣候條件對產業活動有深遠的影響，請問下列敘述何者正確？

- (A) 鹽田分布在夏乾冬雨，乾溼季分明的西南部
(B) 北部山區適合種植熱帶水果 (C) 恆春因受冬季落山風的影響能夠盛產品質優良的洋蔥(D) 夏季吹東南季風，適合風力發電

4. 下列哪一段文字最適合說明圖 1-2 的天氣狀況？



- (A) 氣溫過低可能導致農漁業損失慘重 (B) 此時的西南氣流容易造成水災(C) 此時台灣北部容易出現乾旱(D) 上午炎熱高溫，下午則出現雷陣雨

5. 小楷是名氣象主播，他將利用圖 1-3 的衛星雲圖判斷並做臺灣天氣預報，請問：他應該下什麼結論比較適當？



- (A) 南部容易在這個季節出現旱災
(B) 今年冬天將會特別寒冷(C) 今天天氣陰雨綿綿
(D) 未來幾天颱風侵襲機率率高。

6. 圖 1-4 為臺灣某月份的等溫線圖。請問下列何者敘述是正確的？(A) 此季節可能為七月份
(B) 南部溫度較高是受緯度影響 (C) 此時山區溫度多在 16°C 以上(D) 嘉義溫度高於玉山是因緯度關係。



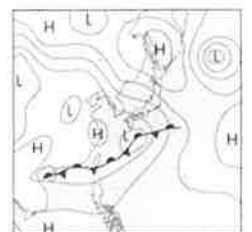
7. 圖 1-5 為臺灣年平均等雨量線圖。請問下列敘述何者「有誤」？

- (A) 山區降水多於平地
(B) 東部雨量較多跟地形有關(C) 東北部雨量較多的原因是受季風及緯度影響
(D) 西部平原的年雨量較東岸少



8. 圖 1-6 為臺灣某時間的地面天氣圖。請問臺灣此時的降雨類型特徵應該為下列何者？

- (A) 雨時長、雨區大
(B) 迎風坡少雨、背風坡多雨
(C) 雨時短、強度大
(D) 強風豪雨



9. 圖 1-7 為某地區的氣候圖。

請問下列敘述何者正確？

(A) 圖中黑色曲線代表年均溫

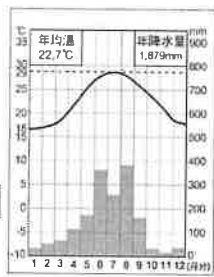
(B) 圖中全部灰直方圖表示年

雨量

(C) 此圖年溫差約為 15°C

(D) 此地區集中冬季降雨

圖 1-7



10. 「北極熊真的要

沒有家了！科學家警告：全球暖

化在加速，未來

夏天北極將看不到冰山... (節錄自

2021/6/21 愛地球新聞)。」根據上文敘述判

斷，圖 1-8 的全球水量分布比例示意圖中，哪

一種水資源比例將會快速下降？

(A) 甲 (B) 乙 (C) 丙 (D) 丁。

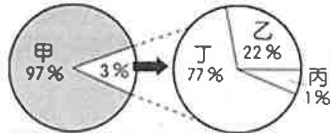


圖 1-8

11. 「2016 年 1 月 24 日，一場『霸王級』的寒流發威，使得當時臺灣北部有些地區罕見出現了銀白世界，讓往常不下雪的大屯山、陽明山等地皆出現雪景，許多台北市民，也趁機前往賞雪。」請問：上文所描述的天氣現象屬於水循環哪一部分？(A) 降水 (B) 蒸發 (C) 蒸散 (D) 入滲。

12. 圖 1-9 為淡水河流域圖。請由圖中判斷，下列敘述何者正確？

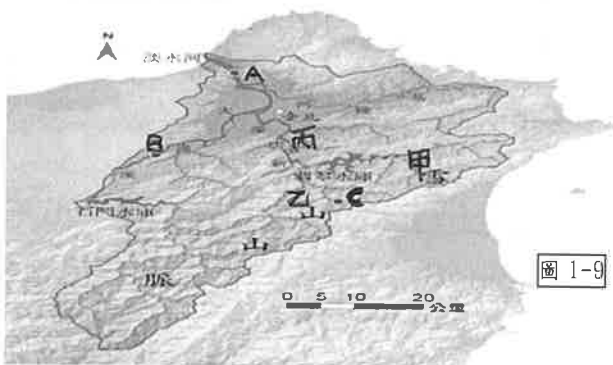


圖 1-9

(A) A 的地勢最高 (B) C 的河水汙染可能最嚴重

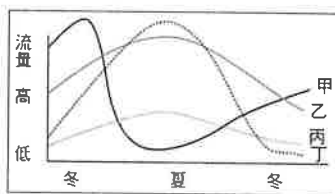
(C) 丙的集水區比乙的集水區大 (D) 甲區侵蝕作用較微弱

13. 附圖中是四條不同的河流在一年之中流量變化

圖。請問哪一條曲線最可能接近

臺灣高屏溪的水位變化情況？

(A) 甲 (B) 乙 (C) 丙 (D) 丁



14. 下列關於臺灣河流特徵的敘述，何者正確？

(A) 因降雨時空分布不均，北部多荒溪型河川

(B) 臺灣河川水力充沛且富有航運價值

(C) 因地質脆弱，導致河水含沙量偏高

(D) 因山脈位置導致河流東西分流且長河偏東

15. 下列針對臺灣水資源的開發與保育，何者的敘述正確？

(A) 為了延長水庫壽命，會在河流的下游建立攔沙壩

(B) 臺灣因年降水量不足，導致平均每人每年可得水量較世界平均值低很多

(C) 下游應做好水土保持、上游應保留疏洪的空間

(D) 超抽地下水容易導致土壤鹽化

16. 臺灣哪一條河川流域較有可能具有如圖 1-10 的降雨特徵？

(A) 蘭陽溪 (B) 濁水溪

(C) 高屏溪 (D) 大甲溪

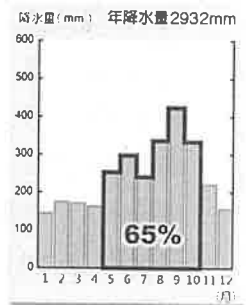


圖 1-10

★附圖是臺灣河川(甲-己)及水庫(ㄅ-ㄟ)分布圖。



17. 請問下列對於圖中地區的特色描述何者正確？

(A) 乙河是臺灣最長的河川且上游水力資源豐富

(B) 戊河下游因養殖漁業盛行出現地層下陷現象

(C) ㄅ水庫是石門水庫為桃園地區提供了水資源

(D) ㄆ水庫是日月潭水庫是臺灣海拔最高的水庫

※地理試題結束，請換頁繼續作答。

本試卷分地理、歷史、公民 3 個部份，請依序作答，並按照題號畫卡。
各部份題目配分及試卷頁數請參見說明，總分為 100 分。請謹慎作答。

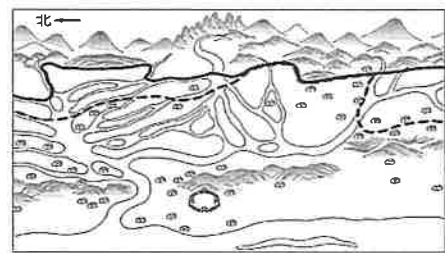
班級： 座號：
姓名：

第 2 部份：歷史（18~34 題，每題 2 分，共 34 分，共二頁）

18. 清代早期的來臺的移民，須先合法獲得土地，以利開墾。下列關於合法取得土地的方式，何者有誤？
(A)可與原住民承租土地 (B)須先向官府申請墾照，才可開墾 (C)自行占據無主地，自由開墾 (D)先購買土地所有權。
19. 「臺灣茶葉之父」李春生為清帝國時期「買辦」出身，在臺灣開港通商後崛起，成為富甲一方的商人。關於當時的社會情形，下列敘述何者正確？
(A)清帝國在清法戰爭中戰敗，被迫簽約開港通商 (B)買辦又稱「郊商」，指臺灣從事貿易的商人 (C)李春生對臺灣茶葉的經營，帶動南臺灣的發展 (D)洋行雇用買辦協助外商和本地人之間的商務。
20. 敬軒為清帝國時期的郊商，他所開的許多店都會掛上米郊、糖郊等木匾。請問：「米郊」、「糖郊」是依據下列何者來區分？ (A)商人祖籍 (B)貿易區域 (C)貿易商品 (D)商品產地。
21. 清帝國早期，從中國大陸冒險渡海來臺的移民以哪兩個省籍人士最多？ (A)廣東、廣西 (B)福建、廣東 (C)江西、福建 (D)廣西、福建。
22. 臺灣諺語：「有唐山公，無唐山媽」，是在說明當時男女人口比例失調的社會情形。請問造成這樣的現象，主要是受到哪一政策的影響？ (A)鎖國政策 (B)海禁政策 (C)渡臺禁令 (D)劃界封山。
23. 清代雍正年間，當時發生的「大甲西社事件」。請問爆發該事件的主因是？
(A)清初平埔族大片的土地被來臺漢人侵佔
(B)平埔族群與漢人長期接觸而逐漸漢化
(C)因漢人越界移墾，中部平埔族遷往宜蘭
(D)中部原住民不堪清廷壓迫，憤而起事
24. 清初臺灣地區文風不盛，教育文化不發達，到了清代後期教育機構卻不斷增加，文化教育迅速發展，主要是因下列哪一項因素？ (A)原住民被同化 (B)政府提倡 (C)經濟發展 (D)西方文化的刺激。
25. 采潔翻閱臺灣史看到如下的古地圖，發現地圖上有

實線與虛線兩條不一樣的界線，請問：下列關於二條界線改變的敘述，何者有誤？

- (A)實線是原先的番界，虛線則是改變後的新番界
(B)因漢人越界拓墾，番界逐漸向內山地區移動
(C)清初實施劃界封山，所劃出的番界為實線
(D)清廷推行開山撫番，引發原住民群起反抗。



◆請閱讀下文，並回答問題。

「甲在五股傳福音時，曾貼出告示，若有 12 歲以上年輕人願意來讀書者，每個月要發 1 元白銀（當時 1 斗白米大約是 2 角錢）。因為讀書可以賺錢，就有百餘人來報名，甲教他們讀白話字，也做禮拜敬畏上帝，其中有一位叫蔥仔的女孩書讀得最好，領了 3 元的獎勵。後來蔥仔受洗，甲給她改名為聰明，（臺語「蔥」與「聰」同音），並於西元 1878 年，和她於淡水英國領事館完成終身大事。婚後夫妻倆經常帶門徒四處遊行布道，數年間先後在臺灣北部開設五十餘間教會，亦深入到平埔族群的區域。」

26. 請問上文所述的「甲」為哪一位西方傳教士？

- (A)馬太 (B)馬偕 (C)馬修 (D)馬雅各。

27. 請閱讀下列資料，判斷「頂下郊拼」發生的主要原因為何？

「十八世紀後期，移民至艋舺的泉州人以從事海峽兩岸貿易維生。十九世紀，艋舺的泉州移民漸多，並發展出下郊（同安人移民組成）與頂郊（晉江、惠安、南安三縣移民合組）兩大打郊。兩大商業團體為了爭奪艋舺碼頭的貨運，時常發生衝突。」

- (A)祖籍不同 (B)爭奪田地 (C)爭奪水源
(D)商業競爭。

◆請閱讀以下資料，並回答問題。

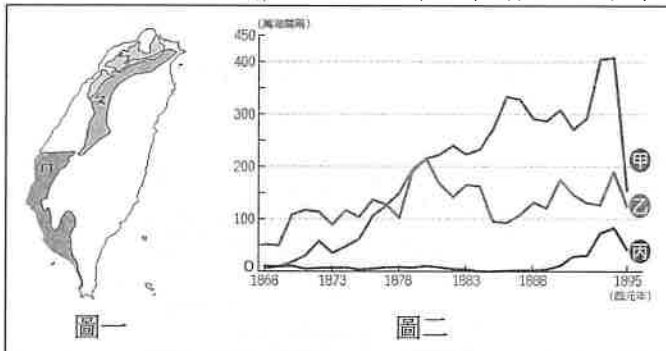
「西元 1781 年(乾隆 46 年)成立「陳五八祭祀公業」，由三十五名祖籍漳州府的陳姓移民共同出資組成，供奉他們在漳州的祖先陳五八。」

28. 關於上文中所述，其祭祀對象應為下列何者？

(A)唐山祖 (B)開臺祖 (C)有應公 (D)媽祖。

◆題組一：簡老師在上課時，提供資料一～三與附圖，請根據以下三則資料來回答第 29-32 題。

資料一：附圖為臺灣某時期的產業分布圖與主要外銷



資料二：臺灣山林盛產樟樹，工匠除採伐樟木造船，也生產樟腦。1869 年，第一種人工合成材料塑膠的前身賽璐珞問世，其主要原料樟腦遂一躍而為世界性的重要工業原料，外商競相向臺灣收購樟腦，因製腦獲利豐厚，吸引為數眾多的腦丁到接近山地的「番界」，從事伐樟熬腦的工作，也侵擾了原住民領域，竊奪物品、欺辱婦孺時有所聞。19 世紀中葉後，外商不願清廷禁令來台購買樟腦，因此數次引發衝突。禁令廢除後，清廷更是無法遏止樟腦的私製及外商勢力的介入。1890 年，臺灣樟腦的產量已位居世界第一位。

資料三：本市港口在開港通商後，漸漸自漁港轉型為商港。1863 年，正式開放成為國際貿易港，出口貨物以蔗糖為主。1879 年，英國政府在港口北側山丘，興建領事館處理商務。1880 年代前期，臺灣蔗糖產量與對出口量達到高峰。不料因被法國海軍封鎖港口一段時間，導致糖價暴跌，使得臺灣糖業受挫。

29. 請根據圖二來作判斷，請問：下列關於臺灣主要外銷商品的敘述，何者錯誤？

(A)甲地所產商品是開港後最大宗輸出品
(B)乙地所生產的商品出口歷史最為悠久
(C)丙地商品的產地主要分布於丘陵地區
(D)甲、乙主要由淡水出口，外銷到全球。

30. 下列關於資料一與資料二的敘述，何者正確？

(A)文中的「禁令廢除後，……」是指渡台禁令的

廢除 (B)圖二甲的出口值為樟腦

(C)樟腦只盛產於圖一的乙區

(D)腦丁到山地伐樟熬腦導致原漢衝突愈演愈烈。

31. 請根據資料一與資料三的內容來判斷，下列敘述何有誤？

(A)蔗糖產地為圖一的甲區 (B)文中的港口為安平 (C)蔗糖出口值為圖二的乙 (D)「被法國海軍封鎖港口……」是指爆發中法戰爭，導致糖價暴跌。

32. 請由這三則資料來作判斷，最有可能是描述臺灣哪一時期？

(A)清領後期 (B)清領前期
(C)鄭氏治台 (D)荷西時期。

◆題組二：請閱讀資料一～二，並回答第 33-34 題。

資料一：18 世紀初，年輕的張達京自家鄉廣東大埔，來到福建的泉州搭船，橫渡黑水溝，最後成功在臺灣上岸。登岸後的張達京一路北上，來到今臺中市神岡區一帶，發現平埔族巴宰族群岸裡社瘟疫蔓延，熟悉草藥的他，為當地人診治，救活不少人命，原住民頭目為了表示感激，將女兒許配給他，他成為「原住民駙馬」。他又是官方的通事，順理成章地成為原漢之間糾紛的調解者。

資料二：張達京到臺中平原後，發現此地廣闊卻雜草叢生，荒蕪閒置，因此希望興修水利，以利開墾土地。為此，張達京採取割地換水的方式與岸裡社協調，以八二比例分配水資源換取岸裡社的地權，攔截大甲溪溪水，建成水圳。竣工之後，有千餘甲土地蒙利，荒埔變為良田，稻米豐收，嘉惠當地百姓。不過，後來張達京把持水權，迫使平埔族讓出更多的地權，也造成平埔族最後只得往山區遷徙的局面。

33. 根據資料一所述「張達京自家鄉廣東大埔，來到福建的泉州搭船，橫渡黑水溝，最後成功在臺灣上岸」，請問他會在台灣哪一港口登陸？

(A)鹿港 (B)艋舺 (C)淡水 (D)雞籠。

34. 根據資料二張達京所建成的水圳是指附圖中的何處？

(A)甲 (B)乙 (C)丙 (D)丁。



※歷史試題結束，請換頁繼續作答。

本試卷分地理、歷史、公民 3 個部份，請依序作答，並按照題號畫卡。
各部份題目配分及試卷頁數請參見說明，總分為 100 分。請謹慎作答。

班級： 座號：
姓名：

第 3 部份：公民

35. 近年來，許多網友會在網路上以匿名方式宣洩情緒與攻擊他人，但往往後續事件的延燒，是所有人始料未及也無法掌控的。請問，如果校園內出現類似問題，下列哪項敘述正確？ (A) 網路是虛擬世界，無法追查發文者身分 (B) 只要不講出對方名字，就不會有法律責任 (C) 只要我說沒惡意，就不會構成網路霸凌 (D) 除發文者外，按讚、留言附和者也可能有法律責任。
36. 高同學撰寫原住民族的研究報告，可是不小心出錯了，請你幫他找出「錯誤」之處：
(A) 只要成員之間彼此高度認同，就可以成為一個部落 (B) 部落是原住民族傳統的生活空間以及信仰重心 (C) 即使都是阿美族，不同部落的文化仍各具特色與差異 (D) 原住民以部落為單位，進行農耕、採集、漁獵等生產行為。
37. 小新想要成立新社團—文山美食達人社，他列出三個成立社團的進行步驟：(甲) 訂定社員規範，包括社員之權利與應盡之義務；(乙) 向學務處登記成立「文山美食達人社」；(丙) 舉辦社團活動，品嚐文山美食。依據學生自治的實施步驟，正確順序應為下列何者？
(A) 甲乙丙 (B) 乙甲丙 (C) 丙乙甲 (D) 甲丙乙。
38. 據報載，行政院陸續核定花蓮、台東二縣的原住民聚會所興建計畫，聚會所對部落而言相當重要，除了是歲時祭儀的場地之外，也是部落用來舉辦各項教育研習、長者活動及婚喪喜慶的地方，因此對部落的發展具有重要意義。請問：成立聚會所對原住民族的重要性為何？ (A) 振興觀光產業 (B) 守護自然環境 (C) 回復共工共耕 (D) 傳承部落文化。
39. 恩宇本來是個沒有自信的學生，自從上了學校的幾次家政課後，他逐漸發現自己具有烹飪的才能，而變得更有自信；回家也會主動下廚，幫家人做飯。由上文可以看到學校教育能夠達成下列何者目的？
(A) 發掘潛能展現自我 (B) 追求適合自己的學習方法 (C) 培養人際互動能力 (D) 學習參與公共事務。
40. 南投縣魚池鄉邵族文化發展協會成立了「逐鹿桃花源-邵族傳統記憶連結工作坊」，透過辦理文化培力課程，孕育新生代部落工藝師與導覽人員，將部落原有的技藝結合旅遊行程，推廣觀光。請問：此耕作訪有助於推動「原住民族部落活力計畫」的哪一個目標？ (A) 營造民族生活環境，建構部落安全場域 (B) 發展部落經濟產業，促進部落就業機會 (C) 回復共工共耕文化，減少貨幣依賴 (D) 強化生活照顧功能，推動健康部落生活。
41. 學生受教育是盡義務，也具有相關的權利，因此在學校，除了行使自身的權利，也應尊重他人的權利。請問：下列何種不當行為，將侵害同學的「人格發展權」？ (甲) 告知同學事情哪裡沒做好 (乙) 隨意翻看同學的私人物品 (丙) 一直叫同學他不喜歡的綽號 (丁) 上課時發出聲響干擾同學聽課。正確選項為 (A) 甲乙 (B) 乙丙 (C) 丙丁 (D) 甲乙丙
42. 一名排灣族原住民在跟大家分享部落的特色時，提到：「狩獵本來就是原住民族文化的一部分，他們以『生態平衡者』自居，只取所需，從不貪婪濫捕濫殺，如此一來才能真正守護土地……。」請問：前述原住民對狩獵所秉持的態度，說明了原住民族的何種價值觀念？ (A) 族人共享生活資源 (B) 與大自然和諧共存 (C) 族人之間互相照顧 (D) 認同傳承部落文化。
43. 下列關於學生自治的相關敘述，何者正確？
(A) 學生自治要在遵守社會規範與校規的情況下進行
(B) 學校裡的所有事務都可以交由學生自行投票決定
(C) 學生可以投票決定定期評量(段考)的次數
(D) 學生可以投票決定要讓哪些人參加校外教學。

請翻頁繼續作答

44. 附圖為某一場部落會議時，主席發言的情景。



請由發言內容以及你學過的觀念，判斷下列敘述何者正確？ (A)召開部落會議，是由政府官員主持會議過程 (B)部落會議的決議，可以推翻法律的規定 (C)透過會議可以凝聚族人共識，決定公共事務 (D)現今的部落領袖是由各地地方政府指派

45. 同學之間一些帶有性意味的言語或行為，可能會構成性騷擾。下列關於校園性騷擾事件的處理程序，何項敘述正確？ (A)被害人或父母才能向學務處提出檢舉 (B)學校會根據性騷擾防治法調查處理 (C)由「學生申訴評議委員會」調查處理 (D)學校的調查報告須彙報教育主管機關。

46. 下列關於學生在校園中常碰到的情境，何者敘述「不正確」？
(A)學生有學習的權利，也有按時繳交作業的義務
(B)即使這個人我不喜歡，我還是要尊重他的權利
(C)當校規限制了自由，我有權利決定要不要遵守
(D)任意拍打、觸碰同學，是侵害身體自主權的行為。

47. 奇美部落位置跨越海岸山脈，面臨青壯人口外移，年輕人去外地工作，留下老人家獨居，或家中只有阿公阿嬤帶孫的祖孫家庭。因此一粒麥子基金會號召部落中有意願開放廚房空間的家庭或團體，來籌建「部落廚房」。每週兩次共食共享，除了能建立情感，更能溫飽。請問，上述「部落廚房」的建立，主要有助於下列何者？
(A)落實部落自治的精神 (B)部落族人的互助扶持
(C)保存部落的自然風貌 (D)振興部落的觀光產業

題組：

班會課中，大家正在選舉下學期的班長，同學先後提名了永澤、小玉、本田，也分別獲得同學附議，主席接著就要進行表決。

此時美環舉手發言：「主席，我提出■■問題，依據會議規範，表決之前應該先經過充分討論」。

主席：「對，是我疏忽了。現在請大家踴躍發言，進行討論」

大家紛紛舉手並徵得主席同意後發表意見

此時藤木舉手發言：「主席，我提出□□問題，小丸子在哼歌，害我聽不見花輪在說什麼」

主席：「小丸子，請你尊重會場秩序跟其他人的權益」大家繼續討論，過了一陣子

主席：「還有人要發表意見嗎？沒有的話，我們就進行表決」

……表決結果，永澤、小玉都是 7 票，本田 2 票。

「居然兩個人同票ㄟ」大家議論紛紛，不知應該如何處理。

此時一旁的老師說話了：「主席，依據會議規範，此時應該……」

請問：

48. 在進行投票時，應該由誰開始進行表決？ (A)由永澤開始表決 (B)由本田開始表決 (C)由主席裁決表決順序 (D)由老師裁決表決順序。

49. 美環與藤木提的問題依序是下列何者？

(A)權宜問題、權宜問題 (B)秩序問題、權宜問題
(C)秩序問題、秩序問題 (D)權宜問題、秩序問題

50. 永澤與小玉兩人的得票數相同，此時應該如何處理？ (A)由老師決定 (B)重新再表決一次
(C)主席決定是否加入表決 (D)抽籤決定。

110 學年度第一學期七年級第三次段考社會領域試題答案

答案：(1~17 題地理；18~34 題歷史；35~50 題公民)

1	2	3	4	5	6	7	8	9	10
B	D	C	A	D	B	C	A	B	D
11	12	13	14	15	16	17	18	19	20
A	C	D	C	D	A	B	C	D	C
21	22	23	24	25	26	27	28	29	30
B	C	D	C	A	B	D	A	D	D
31	32	33	34	35	36	37	38	39	40
B	A	A	B	D	A	B	D	A	B
41	42	43	44	45	46	47	48	49	50
B	B	A	C	D	C	B	A	B	D

