

臺北市立萬芳高級中學國中部 110 學年度第 1 學期社會領域九年級第 2 次定期評量試卷

本試卷分地理、歷史、公民 3 個部份，請依序作答，並按照題號畫卡。
各部份題目配分及試卷頁數請參見說明，總分為 100 分。請謹慎作答。

班級： 座號：
姓名：

第 1 部份：地理（第 1-17 題為地理科單選題，每題 2 分）

題組一：請閱讀下篇文章，回答第 1-4 題。

英國脫歐曲終幕落 「新黎明」給生活帶來哪些變化

自 2016 年全民公投開始，經歷兩次大選、考驗過 3 位首相，經過各種「截止期限」，英國脫歐列車抵達終點。2020 年 12 月 31 日格林尼治時間 23 點，倫敦大笨鐘敲響，過渡期結束，英國徹底脫離歐盟。

英國首相 Boris Johnson 宣稱「這個偉大國家的命運從此牢牢掌握在我們手裏」，支持者歡呼迎來「新時代新曙光」。英國脫離歐盟後會帶來諸多重大變化。在旅行、移民、商業、海外居住和生活等方面，兩邊的商家和民眾會遇到不少新情況。

人員自由跨境流動結束。英國人原來在歐盟自動享受的居住、學習、工作等權益終止，待遇將和其他非歐盟國家公民一樣。英國公司在歐盟經商投資，不再享受歐盟成員待遇，涉及到各種法規和專業資格認證等事項，須要遵守各國對非歐盟國家的相關法規。

作為歐盟歷史上第一個「退局」的成員國，英國踏上的是前人從未走過的路。

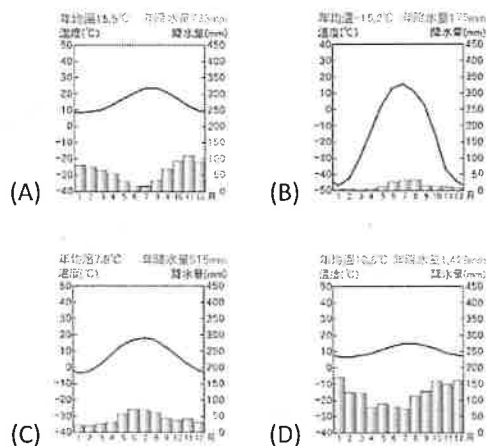
（資料來源：改寫自 BBC NEWS 中文網站 2021 年 1 月 1 日報導文章）

- 2020 年初由歐洲聯盟其他成員國組成的歐洲議會於總部召開會議，以 621 票支持、49 票反對的表決結果通過英國脫離歐盟協議，在場議員還手牽手齊唱《友誼地久天長》，感性送別英國。請問：上述會議舉辦的地點在哪裡？
(A)巴黎 (B)布魯塞爾 (C)柏林 (D)鹿特丹。
- 下列有關歐洲聯盟的敘述，何者正確？
(A)全體會員國皆必須統一使用歐元
(B)會員國之間貿易商品的關稅會增加
(C)境內商品可以自由流通的單一市場
(D)盟旗中的 12 個金星代表會員國數目。
- 歐元硬幣的背面圖案以各國最具特色的風土人情、政治歷史等設計，精緻細膩卻又各不相同。請依圖案推測圖 1-1 是哪個國家所發行的歐元硬幣？



圖 1-1

- (A)義大利 (B)西班牙 (C)比利時 (D)葡萄牙。
- 英國空氣濕潤，多雨霧，要到當地旅行時導遊會提醒遊客一定要打包雨衣、風衣外套等防水裝備。下列哪一氣候圖最能展現英國的氣候特徵？



題組二：圖 1-2 為俄羅斯主要地形分布圖。請依圖回答第 5-8 題：

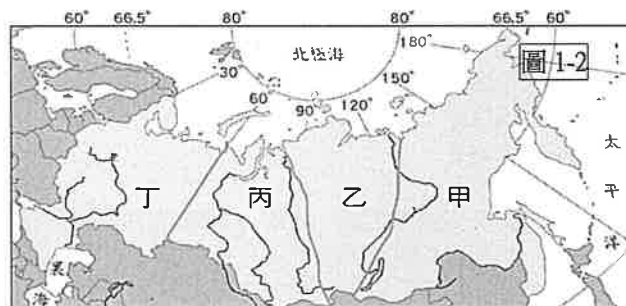


圖 1-2

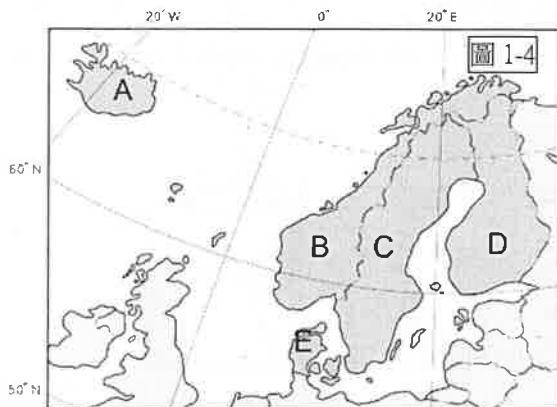
- 小毅到莫斯科聖瓦西里主教座堂參觀後買了圖 1-3 的磁鐵作為旅遊紀念品。依圖中洋蔥式圓頂建築特色判斷，俄羅斯的主要宗教信仰應該為何？
(A)基督教 (B)天主教
(C)東正教 (D)伊斯蘭教。
- 俄羅斯的克柳切夫火山在 2021 年 3 月 9 日噴發，漆黑夜裡看到火紅色的煙霧和熔漿噴發，相當壯觀。該火山海拔 4835 公尺，是歐亞大陸最高的活火山。請問該火山位於圖 1-2 中哪一個地區？
(A)甲 (B)乙 (C)丙 (D)丁。
- 南韓實境綜藝《西伯利亞先遣隊》找來 5 位演員參與，踏上世界上最長的「西伯利亞鐵路」之旅。請問：沿途中，下列何者為他們最常見到的窗外景色？
(A)高大的雨林 (B)廣大針葉林
(C)低矮的苔原 (D)青綠的橄欖樹。
- 由於地形及氣候條件較其他地區優良，俄羅斯人口、產業集中的精華區在圖 1-2 中何地？
(A)甲 (B)乙 (C)丙 (D)丁。



圖 1-3

題組三：

歐洲國家數量眾多，圖 1-4 為北歐地區 5 國芬蘭、丹麥、瑞士、冰島與挪威的位置圖。請依圖回答第 9-13 題



9. 某國因位於火山高度集中地區，而地熱資源豐富，也是全世界溫泉數量最多的國家。政府並利用地熱發電，佔總發電量的 26%，電廠還能將發電後的溫水送入家庭，代替煤氣提供溫暖來滿足民生使用，減少化石燃料的使用。上文所述的是圖 1-4 中哪一個國家？
(A)A (B)B (C)C (D)D。
10. 北歐沿海地區的緯度較高，但氣候卻較歐亞大陸的同緯度地區溫暖，港口冬季多不結冰，因此有利於漁業、航運活動的進行。請問：影響該地區氣候較溫暖的主要原因為下列何者？
(A)高山阻擋
(B)暖流經過
(C)板塊活動
(D)西風吹拂。
11. B 國擁有「峽灣王國」美稱，深邃的峽灣景色壯麗，吸引遊客搭乘郵輪欣賞沿岸的風光。且因港灣眾多，漁業也特別的發達。請問能形成峽灣的主要原因為何？
(A)板塊擠壓
(B)河川侵蝕
(C)雨水溶蝕
(D)冰河侵蝕。
12. 承上題，下列哪一個地形的成因和峽灣相同？
(A)寬廣的歐洲大平原
(B)義大利的維蘇威火山
(C)阿爾卑斯山的 U 型谷
(D)希臘曲折的谷灣海岸。
13. 不同地區的居民為適應當地氣候、地形環境與生活方式，建築的外觀與建材各有特色。下列敘述何者最可能是北歐建築的特色？
(A)窗戶較小，白牆與平頂的屋頂
(B)雙層窗戶，傾斜角度大的屋頂
(C)圓頂帳篷，較方便拆遷的建材
(D)房子架高，通風防潮的高腳屋。
14. 圖 1-5 為小傑在介紹他故鄉的氣候特徵。請問根據小傑所述，他的故鄉最可能位在圖 1-6 中何地？
(A)甲 (B)乙 (C)丙 (D)丁。



15. 英國衛報報導，荷蘭皇家殼牌公司 (Shell) 和英國石油公司 (BP) 聯合在附近海域生產石油和天然氣，每年產生逾 17 億噸溫室氣體，但其卻享有數十億英鎊的減稅和免稅優惠。請問：上文所提的石油產地最可能位在圖 1-7 何處？
(A) 甲 (B) 乙 (C) 丙 (D) 丁。



16. 新聞報導寫到：「□□有四分之一的土地是低於海平面，所以說先天良田其實並不多，但是利用填海造陸，以及發展科技溫室，每年為農產品創造了約 2 兆的產值。主要的農作物為小麥、玉米、馬鈴薯和花卉，而奶品、肉類出口量也不輸美澳等畜牧大國。」請問：報導中所寫的□□是那一個國家？
(A)瑞士 (B)法國 (C)荷蘭 (D)義大利。
17. 世界銀行公布了世界各國 2020 年總 GDP(國內生產毛額)排名，德國位居世界第四名，僅次於美國、中國、日本。以下關於德國經濟發展的敘述何者正確？
(A)魯爾擁有豐富的鐵礦
(B)位於萊茵河的出海口
(C)柏林號稱「時尚之都」
(D)BMW 等汽車聲譽卓著。

試題尚未結束，請換頁繼續作答

本試卷分地理、歷史、公民 3 個部份，請依序作答，並按照題號畫卡。
各部份題目配分及試卷頁數請參見說明，總分為 100 分。請謹慎作答。

班級： 座號：
姓名：

第 2 部份：歷史（18~34 題，每題 2 分，共 32 分，共二頁）

18. 目前盛行於世界各地的主要宗教有基督教、伊斯蘭教、猶太教、佛教等，請問它們有何共同特色？
(A)均屬一神信仰 (B)均起源於亞洲
(C)均有輪迴的觀念 (D)均有死而復活的觀念。
19. 「西元 2018 年希曼斯與相識 8 年的女朋友瓦席妮結婚，卻不敢告訴家人，並搬到距離雙方父母較遠的地方居住。這段婚姻曝光後，遭到女方的父母強力反對，女方父親的社會階級較高的吠舍，認為希曼斯為階級較低的「達利特」（賤民），雙方通婚是違反宗教與文化傳統的事情，因此不贊同這段婚姻。」請問這則新聞中敘述「雙方通婚是違反宗教與文化傳統的事情」，是指受到哪一觀念的影響？ (A)封建制度 (B)多神信仰 (C)因果報應 (D)種姓制度。
20. 佛教於西元前六世紀興起，並成為世界主要的宗教之一。佛教興起後逐漸向外傳播，下列有關佛教傳播的敘述，何者正確？ (A)阿利安人廣建寺廟，使佛教在印度廣泛傳佈 (B)佛教於兩漢之際由西域傳入中國 (C)唐朝因戰亂頻仍與君王提倡，佛教大為盛行 (D)釋迦牟尼曾積極派遣使者向外宣揚佛教。
21. 「聖誕節即將來臨，威寰出校門口拿到教會所發的平安夜活動傳單，介紹聖誕節的由來是慶祝耶穌的誕生，他出生在伯利恆的馬槽裡，遙遠的東方有三博士得到神的啟示，追隨天上的一顆明亮星星找到了他，俯伏拜他，揭開寶盒，拿出黃金、乳香、沒藥為禮物獻給他。在伯特利野地的牧羊人也聽到天使的聲音從天上發出，向他們報耶穌降生的喜訊。……」請問威寰若想要了解耶穌的生平，他應該閱讀下列哪一部宗教典籍？ (A)吠陀經 (B)聖經舊約 (C)聖經新約 (D)古蘭經。
22. 歷史老師讓同學分組上臺報告，承暉這組上網蒐集有關文藝復興的資料並做成簡報跟班上同學分享。請問關於文藝復興的報告，下列何者正確？ (A)研究古印度、埃及典籍 (B)講求以人為本的思維 (C)作家以拉丁文創作 (D)顯藝術發達有助傳播各地。
23. 益安剛看完一部電影，內容描述男主角 35 歲時誤

- 入一座黑暗的森林，在一座小山腳下，有三隻猛獸攔住去路。他在呼救時出現了古羅馬詩人維吉爾的靈魂，對他說：「你不能戰勝這三隻野獸，我指示你另一條路徑。」維吉爾帶著他走過了地獄，煉獄。最後由他暗戀的情人陪他前去天堂。請問：這部電影的最可能是何者的作品？ (A)但丁 (B)薄伽丘 (C)佩脫拉克 (D)莎士比亞。
24. 又恩透過線上英文學習同伴網，練習用英文跟其他人介紹自己的故鄉，認識新朋友及其文化。請問：下列哪位同學的敘述正確？ (A)希臘的阿芸：「我的家鄉是文藝復興的起源地。」 (B)德國的阿慶：「我們在 16 世紀開始有德文版的聖經。」 (C)阿拉伯的阿豪：「我們的祖先將所發明的數字系統廣傳到各地。」 (D)印度的阿澤：「種姓制度起源於佛教，發展出階級嚴明的制度。」
25. 文藝復興時期在繪畫方面成就顯赫，誕生了「文藝復興三傑」。下列何者不屬於「文藝復興三傑」的作品？

(A)



(B)



(C)



(D)



26. 有關中古時期教會所扮演的角色，下列敘述何者錯誤？ (A)教會附設學校的教育目的為服務世俗君主 (B)教堂成為中古歐洲藝術的典範 (C)教士負責傳教、抄寫古籍等工作 (D)教會是人們信仰中心，受洗禮、婚禮和喪禮多在教會中舉行。

27. 右圖是 11 世紀後期三個宗教的分布示意圖，請問圖中屬於政教合一的是？



- (A)乙 (B)甲、丙
(C)乙、丙 (D)甲、乙、丙。

28. 西元 2012 年馬拉拉 15 歲時，由於反對塔利班在家鄉限制女性受教育，放學回家時，在校車上被射中頭部重傷，後來被送往英國治療，康復後和家人遷居伯明罕，2017 年成為史上最年輕的諾貝爾和平獎得主。下列何者最有可能出現在馬拉拉的宗教生活中？

- (A)到寺廟膜拜神像，相信經由奉獻能獲庇佑
(B)平日靜坐禪修，期望經由苦行，超脫輪迴
(C)遵奉《古蘭經》，每日定時向聖地方向朝拜
(D)週末假日固定上教堂，讀《聖經》、做禮拜。

29. 歐洲的羅馬公教教會因腐敗，而引起許多人的不滿，進而西元 16 世紀初發生宗教改革。請問：下列關於宗教改革的敘述，何人的看法**錯誤**？

- (A)**暉硯**：喀爾文教派提出預選說的概念，主張人的得救與否，上帝早已決定
(B)**千毅**：羅耀拉創立長老教會，注重教士的紀律與素質
(C)**千惠**：英王亨利八世因婚姻問題與羅馬公教教會決裂，創立英國國教派
(D)**子瑄**：馬丁路德認為對上帝的信仰便會得救，透過閱讀聖經就能直接與上帝溝通。

◆**芷綾**對基督教感到興趣，故到網路上搜尋相關的資料，並整理出如下三則資料。請根據以下這三則資料回答問題：

資料一：有一次，他在軍中病倒，奄奄一息間受了基督教洗禮，竟然好了起來。他就這樣成為基督徒。他在西元 381 年舉辦的宗教會議，並正式把基督教定為羅馬帝國的國教。

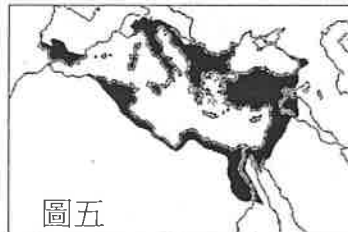
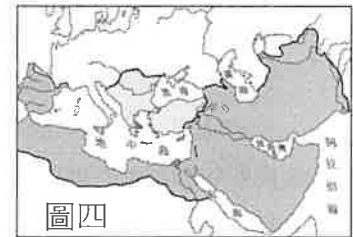
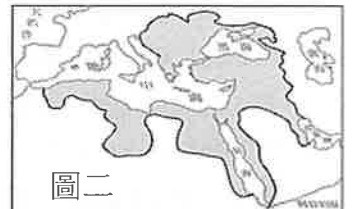
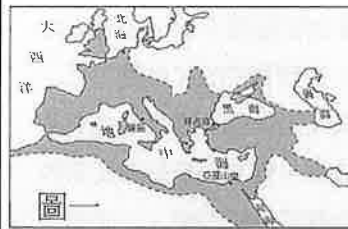
資料二：一切看似嚴厲且異於吾人之善意者，都將廢除。現今凡願意遵守基督徒之宗教者，得不受妨害如願而行。

資料三：公元 64 年，羅馬城發生大火，居民謠傳是皇

帝尼祿縱火，為消除百姓對他的疑慮，他將罪推到基督徒身上，並用殘忍的方法懲治他們。在競技場，基督徒被迫穿上獸皮，然後放出獵犬，將他們撕裂咬死。

31. 資料一到資料三為羅馬帝國政府對於基督教態度的轉變，請問這三則資料依發生的先後順序是？
- (A)資料一→資料二→資料三 (B)資料二→資料一→資料三
(C)資料三→資料一→資料二 (D)資料三→資料二→資料一。

題組一：請根據圖一～圖六，回答第 32-34 題：



32. 附圖一～圖六為建立橫跨歐、亞、非三洲的帝國疆域圖。請將這六張圖，按照帝國建立的時間依序排列是？
- (A)圖一→圖二→圖三→圖四→圖五→圖六
(B)圖三→圖一→圖四→圖五→圖六→圖二
(C)圖一→圖四→圖二→圖三→圖五→圖六
(D)圖三→圖六→圖一→圖五→圖四→圖二。

33. 若想要同時找到曾經被亞歷山大帝國、羅馬帝國、阿拉伯帝國和鄂圖曼土耳其帝國統治過，所留下的歷史遺跡，請根據附圖來判斷，應為下列哪個地區？

(A)阿爾幹利半島 (B)義大利半島 (C)伊比利半島 (D)阿拉伯半島。

34. 請問附圖中哪二個大帝國是信仰伊斯蘭教？
- (A)圖三與圖六 (B)圖四與圖六 (C)圖一與圖五
(D)圖二與圖四。

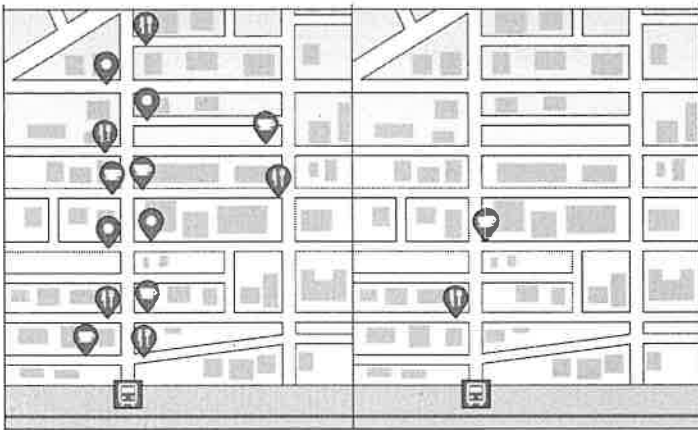
※歷史試題結束，請換頁繼續作答。

本試卷分地理、歷史、公民 3 個部份，請依序作答，並按照題號畫卡。
各部份題目配分及試卷頁數請參見說明，總分為 100 分。請謹慎作答。

班級： 座號：
姓名：

第 3 部份：公民（第 35-50 題為公民科單選題，每題 2 分）

35. 郝時在 google 地圖上，發現兩個長的很像的地理區塊，但這兩地的餐飲業密度完全不同。請問，郝時對此兩地的解析，何者正確？ (A)左圖的店家會調高售價以增加利潤 (B)右圖的餐飲價格由該店家所控制 (C)右圖的店家會採取行銷策略吸引消費者 (D)右圖的店家商品品質優於左圖店家。



36. 大金想了解貨幣歷史，以下是他在網路上查到的一段資料。「在中國的商代，已開始以貝殼作為貨幣使用了，隨著經濟活動的擴大，天然的貝殼作為貨幣漸漸不敷使用，於是出現人工貝幣，如石貝幣、骨貝幣、蚌貝幣等。到了商代晚期，出現了用銅質的金屬幣。」依據資料內容判斷，下列敘述何者正確？

- (A)以貝殼作為貨幣，是以物易物制度
- (B)當時的貝殼又稱為「商品貨幣」
- (C)當時的貝殼產量沒有受到管制
- (D)貝殼不易保存，所以出現人工貝幣。

37. 不少人去日本旅遊時，都會準備一張萬能交通卡「Suica 西瓜卡」，儲值後只要標示 Suica 標誌的地鐵、公車、販賣機和商店都能夠直接使用。下列有關「Suica 西瓜卡」的說法，何者正確？

- (A)當卡片內的金錢餘額不足時，就無法進行交易
- (B)是日本的「法定貨幣」，商家不得拒絕接受
- (C)卡片本身具有一定價值，又稱為「商品貨幣」
- (D)「先消費後付款」，使用時須避免過度消費。

38. 新聞報導：「新臺幣兌換美元的匯率屢創新高，但在新臺幣升值趨勢下，卻是幾家歡樂幾家愁」。請問：新臺幣升值，可能造成下列何種現象？

- (A)臺灣人到美國留學的費用降低
- (B)臺灣出口到美國的商品價格降低
- (C)進口商因成本增加而減少利潤
- (D)有利於美國人到臺灣消費、投資。

39. 下列何者是違反公平交易法的行為，可依法開罰？

- (A)網路商城販賣過期的寵物食品給消費者
- (B)服飾商家販賣瑕疵品又拒絕顧客退換貨
- (C)知名家具賣場販賣的商品成分標示不清
- (D)數家大型衛生紙廠商聯合調高商品售價。

40. 小禾在上完課後，對於生活中廠商間的競爭方式感到很有興趣，因此她將觀察到的現象整理如下表。請根據表中內容判斷，何組觀察屬於「非價格競爭」的方式？

選項	觀察一	觀察二
A	炸雞店推出「訂餐滿 888 元餐飲免費送到家」。	速食店與知名卡通明星合作，推出限量紀念杯。
B	鬆餅店推出每日限量波霸奶茶舒芙蕾厚鬆餅。	超商推出來店預購口罩享咖啡 20 元加購價。
C	超市推出即期商品一律特惠價 50 元活動。	飲料店推出消費滿 300 元送環保吸管的活動。
D	火鍋店推出消費滿 10 鍋送 1 鍋的活動。	量販店推出冰品折扣活動。

41. 小琪看到某則新聞報導：「歐盟與日本為了防止經濟問題惡化，紛紛大量印製鈔票，我國官員則表示不會跟進，因為印鈔不是萬靈丹，可能帶來更嚴重的後果。」請問，官員認為印製鈔票帶來的後果應該是下列何者？

- (A)貧富差距持續擴大，造成社會對立
- (B)貨幣持續貶值，民眾的生活開銷增加
- (C)商品價格下降，廠商獲得的利潤減少
- (D)受預期心理影響，民眾會減少生活支出。

42. 食品公司董事長舉行年度會議，討論明年的銷售規畫，下列何人的發言是考量「為誰生產」此項課題？ (A)林主任：選擇可信賴的上游製造廠，提升產品品質 (B)蔡襄理：與多家賣場洽談合作事宜，拓展銷售管道 (C)劉業務：愛貓愛狗人士越來越多，商品可做成貓狗樣式 (D)郭協理：銷售量排行榜顯示，巧克力口味商品銷售最佳。
43. 小文想在甲、乙、丙三景點中選擇一處販售冷飲，他的評估結果如附表所示。若小文僅考量總利潤，根據表中內容判斷，他選擇這三處景點的機會成本，其排序應為下列何者？
(A)丙 > 甲 > 乙 (B)甲 = 丙 > 乙
(C)甲 = 乙 > 丙 (D)乙 > 甲 > 丙。【改自 107 會考】

景點	一日， 販售數(杯)	每杯 售價(元)	營業日數 (天)	一日 營業成本(元)
甲	110	50	2	1000
乙	100	40	3	800
丙	90	30	4	600

44. 誠睿遇到購物問題，於是在網路上發問尋求解答，對話如附圖。依據網友答覆以及課本學到的概念，下列敘述何者正確？ (甲)只要商品有瑕疵，商家都必須提供退換貨服務 (乙)四名網友的答覆中，僅有阿駿的說法正確 (丙)關於網路購物的鑑賞期，可查閱消費者保護法的相關規定 (丁)如商家拒絕退換貨，誠睿可以撥打 1950 專線申訴。正確的是
(A)甲乙丙 (B)乙丙丁 (C)甲丙丁 (D)甲乙丙丁。



誠睿

問：我買了一支手錶送朋友，但是他不喜歡這個樣式，不知道可以退換貨嗎？

小敏：網路購物不接受商品瑕疵退換貨。

媛媛：網路購物有10天購物鑑賞期。

宏仔：實體商店有權拒絕商品瑕疵退換貨。

阿駿：實體商店無購物鑑賞期。

45. 「小安拿到期待已久的振興五倍券，決定發揮五倍券具有的貨幣(甲)功能，拿去購買他想要的彌豆子公仔。小安還注意到五倍券上有註明使用期限，立刻察覺五倍券不具備貨幣的(乙)功能」請問。請問上文中的(甲)、(乙)分別是指貨幣的哪些功能？
(A)交易媒介、價值衡量 (B)價值衡量、債務清償
(C)交易媒介、價值儲存 (D)價值儲存、債務清償。

46. 小紫開設了一家咖啡店，他使用自家的店面，並跟銀行借了30萬元購置機器設備。下列有關小紫開設咖啡店的相關敘述，何者正確？
(A)添購越多的機器設備，利潤就越高
(B)用來購買機器設備的錢稱為「薪資」
(C)跟銀行借的30萬元必須支付「地租」
(D)使用自己的店面，也要算入生產成本。
47. 下列是流川風整理的貨幣重點，但迷糊的他錯誤百出，只有一項是正確的，請問何者正確？
(A)法定貨幣的價值是由政府以法令賦予的
(B)貨幣印製得越精美，越能提升貨幣的價值
(C)顧客用大量零錢購買高價物品，店家有權拒收
(D)貨幣發行的數量愈多，代表經濟發展狀況愈好
48. 大學畢業工作一年後的佳偉，申辦人生第一張信用卡。下列關於他對於信用卡的理解，何項正確？
(A)預先將錢儲進卡片，並在特定場所使用 (B)信用卡可用來付帳，所以也算是貨幣 (C)使用信用卡償還債務時，對方不得拒絕 (D)未按期繳交消費款項，會產生高額利息。

題組：任天堂是森友國的國民，到歐洲工作兩年，存了一些錢，今年2月回到森友國。今年森友幣兌換歐元的匯率變動頗大(如附表所示)。

月份	歐元(元)	森友幣(元)
2月	1	28
5月	1	30
8月	1	33
11月	1	26

49. 根據附表所示，2月至8月森友幣兌換歐元的走勢為何？對於森友國的進出口貿易產生何種影響？
(A)升值；有利出口，不利進口
(B)升值；不利出口，有利進口
(C)貶值；有利出口，不利進口
(D)貶值；不利出口，有利進口。
50. 請問：如果任天堂欲將兩年的歐元存款兌換成森友幣，根據附表判斷，他應選擇在幾月份時兌換，最為有利？ (A)2月 (B)5月 (C)8月 (D)11月。

本社會科試題結束

萬芳高中國中部 110 學年度第 1 期社會領域

九年級第二次定期評量試題解答

1	B	2	C	3	A	4	D	5	C
6	A	7	B	8	D	9	A	10	B
11	D	12	C	13	B	14	D	15	A
16	C	17	D	18	B	19	D	20	B
21	C	22	B	23	A	24	B	25	A
26	A	27	C	28	C	29	B	30	D
31	D	32	D	33	C	34	D	35	B
36	B	37	A	38	A	39	D	40	A
41	B	42	C	43	B	44	D	45	C
46	D	47	A	48	D	49	C	50	C

