

本試卷分地理、歷史、公民 3 個部份，請依序作答，並按照題號畫卡。各部份題目配分及試卷頁數請參見說明，總分為 100 分。請謹慎作答。

班級： _____ 座號： _____
姓名： _____

第 1 部份：地理（共 16 題，每題 2 分，共 2 頁）

- 中國在實施經濟改革開放以後，對於傳統農、牧業活動的影響甚大。下列有關中國近年來農、牧業活動的轉變，何者『有誤』？

(A)對海產類及畜產品需求增加(B)由自給性轉型為商業性(C)人均可耕地面積逐漸高於世界平均(D)糧食作物生產面積比例逐漸減少。

- 圖 1-1 為中國高鐵路線



圖 1-1

高鐵總長度已居世界第一。請問：造成中國高鐵分布東部較西部密集的現象與下列哪一因素較『不』相關？(A)地形平坦(B)人口密集(C)工商繁榮(D)礦產豐富

★圖 1-2 為中國四大經濟區圖，請回答 3-5 題

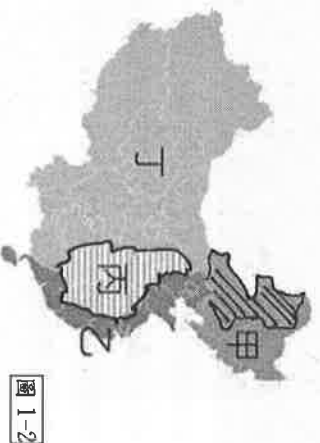


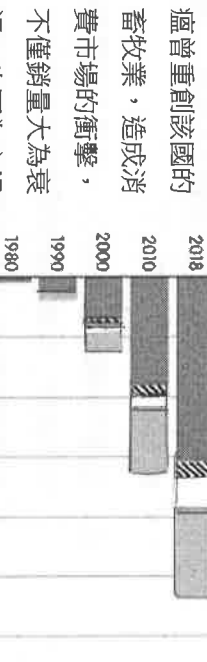
圖 1-2

- 圖中哪一個區域為中國傳統重工業中心，但隨著礦產枯竭、工廠設備老舊而由盛轉衰，因此目前的發展方向為協助該地區轉型，以振興當地的工業活動為主？(A)甲(B)乙(C)丙(D)丁。
- 圖中丙地區近年來具備下列何者有利條件，因此吸引東部的工廠遷移至此，成為未來發展潛力最被看好的地區，有利當地的經濟崛起？(A)市場廣大、技術進步(B)資源豐富、工資較低(C)位置優越、海運便利(D)地形平坦、氣候優良

- 中國在 2000 年後，開始讓部分都市推行『居住證』，此舉主要是讓流動的人口享有就業、教育保險等社會福利，請問圖中何處因人口大量流入最需要推行此政策？(A)甲(B)乙(C)丙(D)丁
- 寶成集團是全球製鞋龍頭，過去在中國有大規模的生產基地。但近年，隨著生產因素轉變，該集團已將工廠移往東南亞地區。請問：導致該集團遷離中國的主要因素，是因中國何項現象？

(A)技術落後、產量下降(B)原料缺乏、動力不足(C)工資提高、成本增加(D)共產體制、政治干預

- 中國境內非洲豬



中國農林漁牧產值變化圖

圖 1-3

瘟曾重創該國的畜牧業，造成消費市場的衝擊，不僅銷量大為衰退，也因為市場上供應量少而導致價格高漲。請問：圖 1-3 為中國農林漁牧產值變化圖，非洲豬瘟將對圖中何種產業影響最大？(A)甲(B)乙(C)丙(D)丁

- 農業活動中受到自然環境的影響



圖 1-4

- 相富大，其中灌溉水源為農業發展必要的條件。然而中國的水資源由於人口增加及工商業的使用，漸趨不足，其分布狀況如圖所示。請問：圖 1-4 中水資源嚴重短缺的地區大多位在何處？(A)長江三角洲(B)東北平原(C)內蒙古高原(D)華北平原
- 近年來中國企業逐漸在全球經貿中扮演重要的角色，並積極透過併購的方式取得所有權，如瑞典的富豪汽車、美國的摩托羅拉手機製造公

司等品牌。請問：中國企業採用上述方式，其主要為下列哪些目的？

(甲)快速拓展歐美市場(乙)減緩國內勞力短缺
(丙)均衡國內區域發展(丁)獲取產業生產技術
(A)甲丁(B)乙丙(C)甲丙(D)丙丁。

10. 有關近年中國經濟發展特色，下列哪一項敘述『有誤』？

(A)網路購物蔚興起，帶動電子商務蓬勃發展
(B)巨大的消費能力，使中國成為現今全球最大的經濟體(C)經濟發展差異導致都市化現象明顯
(D)企圖從勞力密集型轉為技術密集型產業

11. 深圳為中國都市中崛起最為快速者，設立經濟特區後，利用優惠的政策吸引國外資金及技術，目前已



轉型為新創產業中心，請問深圳位於圖 1-5 中何處？(A)甲(B)乙(C)丙(D)丁

12. 上海為中國的直轄市之一，也是中國經濟最繁榮的都市，有關上海的敘述何者正確？

(A)鄰近中關村的高科技產業發達(B)交通位置優越，位於珠三角經濟圈(C)居中國海岸線中點與淮河水運的交會點(D)積極開闢浦東地區，已成為中國工、商、金融中心

※圖 1-6 為中國一帶一路路線圖。請回答 13~14 題




13. 參與一帶一路計畫的國家普遍經濟發展程度不高，這些國家希望藉由引入中國資金促進國內經濟發展，但卻也面臨到許多變數與問題，其中『不包括』以下哪一項？(A)中國藉此左右參與國政治與經濟發展(B)參與國出現工業產能過

剩的問題(C)參與國出現龐大債務陷阱(D)參與國與中國發生主權、利益糾紛。

14. 一帶一路涵蓋 141 個國家地區，建設包含鐵路、港口、高鐵等交通設施，以及發電廠、核電廠等能源設施。根據美國企業研究院發布的「中國全球投資追蹤器」(CGIT)的資料顯示，一帶一路投資最大宗是能源領域；截至 2020 年，能源業占總投資超過三成。在推行一帶一路的同時，中國也設立「亞洲基礎設施投資銀行」(簡稱：亞投行)，作為向亞洲各國提供資金與支持基建之開發機構；而非洲是中國重點投資區域，合作成員國多達 46 個...《節錄自 2021 年 7 月 1 日公視新聞》請問根據上文，下列敘述何項正確?(A)合作建設多為輕工業(B)中國藉此可以獲得穩定的能源供給 (C)參與國的資金來源主要是由世界銀行投資 (D)『一帶』的路線會經過非洲。

15. 近年來中國經濟發展快速，然而也導致許多環境問題。下面的天安門廣場照片有中國某項環境問題，請問下列敘述何項『有誤』？



(A)此照片拍攝地為北京市(B)此地區的污染源多來自工廠燃燒的化石燃料及車輛廢氣(C)此環境問題稱為霧霾(D)臺灣最容易受到此環境問題影響的時間是梅雨季節

16. 中國自 1970 年代末推動的改革開放政策，帶動經濟快速成長，但也加深區域發展失衡現象。下列關於中國的新聞報導中，何者最能反映中國區域發展不均的現象？

(A)今年春運預估 10 億人次的龐大返鄉人潮
(B)超過 1 億人直接受益，南水北調成效顯著
(C)中國沙塵暴再現! 甘肅遭吞噬能見度剩 10m
(D)中國爆發缺電危機，暴亂能源調控出現失衡

※地理試題結束，請換頁繼續作答。

臺北市立萬芳高級中學國中部 110 學年度第 1 學期社會領域八年級第 2 次定期評量試卷

本試卷分地理、歷史、公民 3 個部份，請依序作答，並按照題號畫卡。
各部份題目配分及試卷頁數請參見說明，總分為 100 分。請謹慎作答。

班級： 座號：
姓名：

第 2 部份：歷史（共 17 題，每題 2 分，共 2 頁）

17. 學者對秦國從西周到戰國時期的發展有以下的論述：
『西周中期，由於秦國祖先擅長騎馬征戰，被認為是『戎狄』族群，而被中原的農業民族排斥在外。西周末年，秦國雖然在政治上開始依附周朝領導的中原農業民族，但是至春秋時代，秦國還是很難被納入所謂的『中原文化圈』。即使到戰國時代中期，秦國在中原農業民族的眼中，仍然帶有游牧族群的色彩。』請問以下關於該論述的解讀，何者有誤？(A) 從文中得知，當時對於中原農業民族與「戎狄」族群的區別，是以文化與生活方式為依據 (B) 當時中原的農業民族亦自稱為「華夏民族」(C) 所謂的「中原」指的是淮河中下游地區 (D) 春秋時期的政治口號「尊王攘夷」所稱的「夷」則是指游牧民族的意思。
18. 黃河流域以北的地區，因為氣候乾燥，逐漸發展為逐水草而居、以游牧為主要生活方式的草原文明。在中國歷史上，北亞的草原民族亦時常與中原的農業民族發生衝突，進而形塑了中國的歷史發展。請問，雙方會時常發生衝突的主因，應為下列何者？(A) 游牧民族因生活貧困、嚮往農業民族的生活，故常以劫掠的手段取得經濟利益 (B) 游牧民族天生嗜利貪婪、不講仁義，時常發動戰爭南下劫掠，是民族性的缺陷使然 (C) 草原物資不足以滿足生活所需，若與農業民族互市貿易受挫，即易生戰端 (D) 宗教信仰推動他們征服外族、向外傳播自身文化。
19. 中國歷史上，草原民族與農業民族經歷長久的競爭與融合。請問：兩者的分界線位於何處？(A) 秦嶺、淮河 (B) 長江 (C) 黃河 (D) 長城。
20. 《漢書》中記載，單于派遣使者給漢朝書信，其中寫道：
「南有大漢，北有強胡。胡者，天之驕子也，不拘小節。今欲與漢朝開啟和平之門，只要讓我娶漢朝女兒為妻，每年給我甜酒萬石，粟米五千斛，絲綢萬匹，其餘如過去兩國約定，則兩國邊界必不發生搶奪財物之事。」這段文字使人感受到寫信者飛揚跋扈的氣勢。請問，文中自詡為天之驕子的「胡者」，應是當時中國北方的那個民族？(A) 匈奴 (B) 鮮卑 (C) 突厥 (D) 契丹。
21. 漢武帝派張騫出使西域，原意是要他聯絡盟國夾擊敵國，雖然沒有達成結盟的目的，但是張騫的出使卻帶來了意外的結果和影響；這主要是指下列何者？
(A) 漢朝征服西域，將新疆納入漢朝版圖；
(B) 增進漢朝與西域之間文化、經貿交流；
(C) 漢朝與西域諸國維持和平直到魏晉時期；
(D) 促使歐洲的大食帝國派遣使節來中國。
22. 唐太宗曾說：「自古皆貴中華，賤夷狄，朕獨愛之如一。」請問以上論點所反映的史實與意義為何？
(A) 唐朝不論前期或後期，皆能以包容態度對待外族
(B) 此為唐太宗自誇，實際上胡人很少擔任唐朝官員
(C) 這是魏晉以來胡漢血統交融、文化長期交流的結果
(D) 後來的蒙元帝國便繼承了唐太宗所自豪的民族政策。
23. 佛教並非中國本土的宗教，其產生的社會背景和思想觀念也與中國傳統文化有所差異，若要在中國立足發展，必須要經過一番改造和調整。請問：佛教是在何時傳入中國，又是哪一個時期，才發展出屬於中國自己的宗派，達到佛教的鼎盛時期？(A) 西漢末年、魏晉南北朝
(B) 西漢末年、唐朝 (C) 魏晉南北朝、唐朝
(D) 東漢末年、宋朝。
24. 「這個時期的政權基本上是南北對峙，北方是胡人政權重複併吞與分裂的紛亂局面，不少北方人民為逃避戰亂而南遷。南方的執政者配合南遷人士所帶來的技術與人力，促成南北兩地的交流，也讓南方經濟日漸繁榮。」請問造成上述情況的關鍵事件，應為下列何者？
(A) 靖康之禍 (B) 永嘉之禍 (C) 安史之亂 (D) 但羅斯之役。
25. 「對馳騁在一片廣大草原的草原民族而言，眼前並無洲別的分野，歐亞大陸就是一塊可以銀飽馬匹的草地。他們與南方農業民族的傳統、文化等大相逕庭。沒有疆域分野觀念的他們，經常創造出令人驚嘆的帝國範圍，對於鄰近的國家，造成極大的影響。」「這些草原民族，對東亞地區有著極大的影響，像是曾與秦、漢兩大帝國擁有對等軍事實力，後來更曾攻陷洛陽的胡人。」在

進入中原的草原民族中，以北魏勢力對中國的影響最深，最後銜接了隋唐帝國，統治東亞長達五百多年。「不受既定地理概念拘束的他們，除了自身的輝煌文化之外，也促進了彼此間的文化交流。」請問，上文中曾攻陷洛陽的胡人，以及向後銜接隋唐帝國的北魏勢力，分別是何族群？(A) 契丹、女真 (B) 突厥、吐蕃 (C) 匈奴、鮮卑 (D) 蒙古、大食。

26. 14 世紀中期，朝鮮半島上的高麗國王派出使臣到鄰國拜訪，這位高麗使臣觀察到鄰國農民種植的棉花帶來許多民生與經濟利益，於是他偷偷將棉花種子帶回國內，並成功移植。請問：這位高麗使臣拜訪的鄰國，最有可能是下列何者？(A) 日本 (B) 新羅 (C) 唐帝國 (D) 元帝國。

27. 以下是中國某朝代首都的簡介：「這是一座依計畫興建的城市，城中可見基督教教堂、伊斯蘭教清真寺及佛教寺廟。朝廷聘用色目人擔任財政官員，並推行全國性貨幣政策，加上各地物資的集中，讓這座城市成為金融經濟中心。」上述城市最可能是指下列何者？

- (A) 隋朝大興 (B) 唐朝長安
(C) 北宋洛陽 (D) 元代大都。

28. 以下分別是兩部歷史電影的場景內容，在東西兩欄開拍中：

東棚作品：	場景 1：胡人軍隊進入首都洛陽，到處殺人放火，姦淫擄掠。城內遍地火光，到處是屍體，整座城市簡直是人間地獄。胡人君王命人放火燒皇宮，押著俘獲的漢人皇帝，揚長而去。
西棚作品：	場景 2：胡人君王大宴群臣，讓身著奴僕服裝的漢人皇帝給大家敬酒，漢人皇帝羞愧難當，低頭流淚。
場景 a：	胡人軍隊進入首都汴京，皇上與太上皇、后妃、親王、嬪妃、宗室、大臣等三千多人一併被俘。首都文物府庫為之一空。兩位皇帝被封為昏德公、重昏侯，王孫世族悉作奴婢使役，景況淒涼。
場景 b：	宗室諸侯稱帝延續國祚，南下建立政權。一面鼓舞武士將奮起殺敵，一面卻暗地尋求和談機會，令人扼腕。

請問，關於這兩部電影所要呈現的歷史時刻，下列解讀何者正確？(A) 東棚作品應為靖康之禍，西棚作品應為永嘉之禍 (B) 東棚作品的歷史場景為長安，西棚作品的場景應為洛陽 (C) 東棚作品描述的歷史時代為西晉末年，西棚作品描述的歷史時代為北宋末、南宋初 (D) 東棚作品中的胡人應為鮮卑，西棚作品中的胡人應為契丹。

29. 「此一朝代版圖遼闊，境內民族複雜，加上先前的軍事行動，曾經遠達西亞、歐洲、俄羅斯及東歐等地。上述情況使得此朝代族群繁多，遠遠超過其他時期，在中國史上可謂獨一無二。」請問此一朝代的創建者應是下列何者？(A) 匈奴 (B) 突厥 (C) 契丹 (D) 蒙古。

30. 右列是一張中國古代的地圖，可以看到這張地圖的中國版圖比前代縮小許多。這個現象應該與下列何者最為相關？(A) 因中國失去了長城屏障，造成抵抗外族的困難 (B) 由於深受外族威脅，這時代的商業貿易衰弱，經濟蕭條 (C) 此時中國以文成公主和親吐蕃，以獲得軍事援助 (D) 由於發生靖康之禍，雙方以澶淵之盟畫定國界，維持兩國和平。



31. 右圖是中國歷史地圖集中的一頁。若以周邊國家來判斷，下列關於甲、乙兩國的敘述，何者正確？(A) 甲國早在 10 世紀初建國時，便取得燕雲十六州此一軍事重地 (B) 兩國以澶淵之盟的訂定，建立平等的外交關係 (C) 乙國曾經藉由契丹國的協助方能順利建立政權 (D) 甲乙兩國最終皆因不敵蒙古，在 13 世紀相繼滅亡。



32. 「這個民族是中國歷代邊疆民族中，漢化程度較淺的民族之一。他們入主中國後，為了保持統治地位，以自己族群的傳統處理本族事務，以中國法度治漢地，同時，採取差別待遇的種族政策，更對『漢人』、『南人』採取高度控制的態度及手段，因而民變紛起，最終導致帝國滅亡。」請問，上文所介紹的應是下列哪一民族的歷史？(A) 鮮卑 (B) 契丹 (C) 蒙古 (D) 女真。

33. 以下是四個中國不同朝代的人民。請依他們的言論判斷，排列出他們身處朝代的先後順序：(甲) 從占城引進的稻種，真是好，耐旱又早熟，稻米的產量因此大幅提升 (乙) 四書集注是我們參加科舉考試的定本，因此必須認真研讀 (丙) 中國的絲綢開始銷往羅馬帝國，成為富豪貴族的流行衣著 (丁) 用來存放玄奘法師帶回來的佛教經典與文物的大雁塔終於完工了！(A) 甲→乙→丁→丙 (B) 乙→甲→丁→丙 (C) 丙→丁→甲→乙 (D) 丙→丁→乙→甲。

歷史試題結束，請接續下頁作答

本試卷分地理、歷史、公民 3 個部份，請依序作答，並按照題號畫卡。各部份題目配分及試卷頁數請參見說明，總分為 100 分。請謹慎作答。

班級： 座號：

姓名：

第 3 部份：公民（第 34-50 題為公民科單選題，每題 2 分。）


34. 有一位思想家提出，應將中央政府的權力分為行政、立法、司法權三種，並分別歸屬於不同的政府部門。他的這種主張被美國憲法所採用。根據上述所說的內容判斷，這位思想家最有可能為何人？ (A)洛克 (B)孟德斯鳩 (C)艾克頓爵士 (D)孫中山先生。
35. 小傑將以下兩位名人曾說的話，做為公民課報告的前言。請判斷小傑所報告的主題，最可能為下列何者？

■美國總統詹姆士·麥迪遜名言：「如果人是天使，將無需政府；如果天使統治人，將無需對政府進行任何限制。」

■英國歷史學家艾克頓爵士名言：「權力使人腐化，絕對的權力，絕對的腐化。」

(A)權力不能集中在特定人手中，應以權力分立為原則 (B)分散政府權力，會導致多頭馬車、效率下降 (C)政府應設立各種嚴格的法案，防止人民濫權，干涉政府施政 (D)人民應堅守特定政黨或團體，避免中央政府權力失衡。

36. 附圖中的兩人討論我國政府部門。根據對話內容判斷，該部門應隸屬下列哪一機關管轄？



(A)立法院 (B)行政院 (C)監察院 (D)考試院。

37. 關於我國司法院大法官職權的敘述，下列敘述何者正確？(甲)審理政黨違憲之解散案件(乙)提出總統、副總統罷免案(丙)審理各級法院案件(丁)審理法律、命令是否違反《憲法》(戊)審理總統、副總統彈劾案 (A)甲乙丙 (B)甲乙丁 (C)甲乙戊 (D)甲丁戊。

38. 我國中央政府官員選舉投票前夕，蕭蕭看到一位候選人的政見，如附圖所示。請問：此次選舉選出的公職人員應為下列何者？



- (A)總統 (B)審計長 (C)立法委員 (D)行政院院長。
39. 由以下新聞中可觀察到，美國政府體制的設計具有○○精神，根據以下新聞判斷，所謂○○最有可能是指何者？

國際新聞


美國國會掌握國家立法權，近期以全數票數通過《臺灣友邦國際保護及加強倡議法案》(簡稱為《臺北法案》)，接著，國會必須遞交法案給美國最高行政首長，總統川普簽署，法案才得以施行，這顯現行政權與立法權之間的相互制衡關係。

- (A)主權在民 (B)權力分立 (C)法治政治 (D)違憲審查機制。
40. 附圖為阿明和幾位朋友，針對我國中央政府的兩種彈劾方式進行討論。請根據附圖內容判斷，哪一人的說明最正確？



(A)阿峰 (B)阿坤 (C)阿玲 (D)阿珠。

41. 依照我國《憲法》規定，政府政策的制定與推動，必須交給中央政府官員執行。根據附圖新聞中所描述的官員異動內容，其官員產生的方式為何？



- (A)由總統提名，經立法院同意後由總統任命
(B)總統直接任命 (C)行政院院長提請總統任命 (D)由立法委員互選產生。
42. 我國中央政府依照《憲法》規定設計，具有彼此制衡的關係。請根據我國中央政府運作模式判斷，下列敘述何者正確？(A)遭遇重大天災，總統緊急與立法院的委員開會，向全國發布緊急命令，司法院也在 10 天內追認 (B)立法院委員發起總統彈劾案提案通過後，將辦理公民投票，由人民決定總統的去留 (C)行政院於 8 月底前彙整各部會預算，送至審計部審議預算，通過後方可執行 (D)總統提名司法院、考試院與監察院正副院長，經立法院同意後任命。
43. 新聞報導：「金門縣一家 4 名子女長期未入學受國民教育，這 4 名子女是全台唯一超過 10 年未入學案例，經監委葉大華、王榮璋調查發現，行政機關未依《兒童及少年福利與權益保障法》、《強迫入學條例》及《兒童權利公約》積極處理，且家長涉有教育忽視與濫用親權，致損害 4 名兒少受教權及發展權利。」(改編自 2021/1/17 中時新聞網)根據上述新聞判斷，監察院經過調查後，將對該機關提出什麼？ (A)糾舉 (B)彈劾 (C)審理 (D)糾正。
44. 老師為了讓同學認識不同職業的工作內容，請同學分別介紹家人的工作，其中曉玉提到：「我爸爸的工作，是負責辦理專門職業及技術人員資格的考試。」請問：曉玉爸爸服務的單位屬於下列哪一個部門？ (A)行政院 (B)立法院 (C)考試院 (D)監察院。
45. 每逢立法院會期，電視上總能看到立法院開會的新聞報導。小欣看到電視畫面上，是某立委正在進行質詢。請問：下列何者可能為電視畫面中，正被質詢的政府官員？ (A)總統 (B)大法官 (C)法務部部长 (D)台北市議員。

46. 奇奇與彬彬想了解我國法律的制定過程，因此走到○○機關附近碰面，他們決定在出發前先閱讀○○機關的相關資料，認識該機關的運作機制。下列描述內容，何者屬於○○機關職權？

- (A)同意總統任命行政院院長 (B)對行政機關行使糾正權 (C)擁有領土變更提案權 (D)審理政黨違憲解散案件。
47. 宋朝宰相王安石力圖變法，但因用人不當，導致變法失敗。若某部連續劇讓王安石以穿越時空的方式，意外成為我國最高法院院長首長，然而他的作風依舊不變，引發立法院朝野立委不滿。根據我國現行憲政體制判斷，下列何者最可能是穿越時空後，王安石將面臨的處境？〔改編自 108. 會考〕 (A)由憲法法庭審理 (B)被監察院提案糾正 (C)遭立法院提出彈劾案 (D)遭立法院提出不信任案。

48. 我國 2016 年總統、副總統選舉結束，在野黨獲勝成為執政黨，執政黨卻失去政權成為在野黨。我國選舉制度將政權交接的過程制度化，以確保政權的和平轉移。根據上述人民定期選舉制度，此為何種憲政精神的表現？ (A)權力分立 (B)無限政府 (C)人治政治 (D)主權在民。
49. 結衣想運用以下新聞內容，向學生解釋民主國家的憲政精神，她所要說明的觀念，最可能為下列何者？

外電消息

為因應新型冠狀病毒 (COVID-19) 疫情，英國政府緊急擬出三百多頁的立法草案，將國家所有防疫可能涉及的措施納入法案中，以確保在緊急狀況之下，政府的管制措施都有明確的法律依據。

- (A)主權在民 (B)權力分立 (C)法治政治 (D)違憲審查機制。
50. 聖傑發現我國的中央政府分權，與西方的三權分立不同，聖傑進而瀏覽資料，認識我國中央政府體制。下列敘述中，何者最可能是聖傑所看到的我國中央政府資料內容？
- (A)將立法權從監察權獨立出來，可避免政黨衝突
(B)將考試權從行政權獨立出來，可避免濫用私人
(C)將司法權從監察權獨立出來，可杜絕法官專制
(D)將行政權從考試權獨立出來，可避免濫用私人。

試題結束

110 學年度第一學期八年級第二次段考社會領域試題答案

答案：(1~16 題地理； 17~33 題歷史； 34~50 題公民)

1	2	3	4	5	6	7	8	9	10
C	D	A	B	B	C	D	D	A	B
11	12	13	14	15	16	17	18	19	20
C	D	B	B	D	A	C	C	D	A
21	22	23	24	25	26	27	28	29	30
B	C	B	B	C	D	D	C	D	A
31	32	33	34	35	36	37	38	39	40
D	C	C	B	A	B	D	C	B	A
41	42	43	44	45	46	47	48	49	50
C	D	D	C	C	C	D	D	C	B