

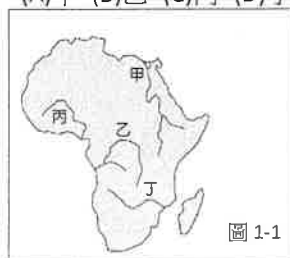
本試卷分地理、歷史、公民 3 個部份，請依序作答，並按照題號畫卡。
各部份題目配分及試卷頁數請參見說明，總分為 100 分。請謹慎作答。

班級： 座號：
姓名：

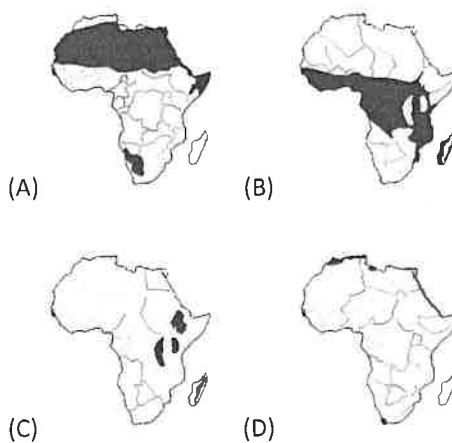
第 1 部份：地理（第 1-17 題為地理科單選題，每題 2 分。）

- 在 16 至 19 世紀中期間，非洲幾內亞灣沿岸地區遍布著奴隸買賣的貿易交易據點。根據統計約有超過 1250 萬名非洲人被交易，大約有 200 萬的人在前往美洲的路途中喪生。請問當時歐洲商人利用海運將黑奴載往美洲，船隻經過哪一個海洋的運輸距離會最短？
(A)北極海 (B)太平洋 (C)大西洋 (D)印度洋。
- 撒哈拉沙漠是世界上最大的荒漠，總面積超過 900 萬平方公里，接近於美國的國土面積。請問該地區位於下列哪一條經緯線附近，因而受到副熱帶高氣壓的影響，才會呈現乾燥的沙漠景觀？(A)赤道 (B)北回歸線 (C)本初經線 (D)南回歸線。
- 吉力馬札羅山是非洲的第一高峰，位在炎熱赤道，山頂卻終年積雪。被肯亞和坦尚尼亞的遊牧民族馬賽人稱為『上帝的居所』。其主要的成因和下列何者關係最大？(A)冰河作用 (B)河川侵蝕 (C)堆積作用 (D)板塊運動。
- 目前臺灣共有 15 個邦交國，其中位於非洲南部的是史瓦帝尼王國。該國的人口約 110 萬，官方語言是史瓦帝語和英語，約 82% 的人口為基督徒。請問下列何者為影響該國宗教與語言的主要因素？(A)曾受西方殖民勢力入侵 (B)受鄰國友邦的文化影響 (C)國民普遍崇尚西方文化 (D)曾與西亞商人貿易往來。
- 剛果河的流域面積及流量居世界第 2 位，僅次於南美洲的亞馬孫河。它同時也是世界上最深的河流，其河水變化莫測，流域內常有急流、高大瀑布。圖 1-1 中那一條為剛果河？

(A)甲 (B)乙 (C)丙 (D)丁。

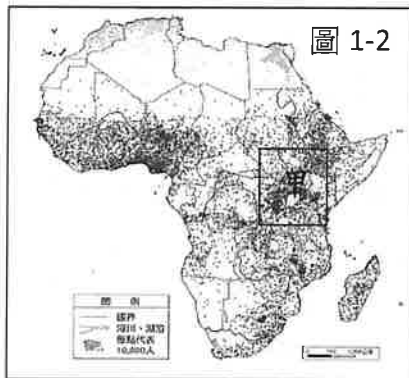


- 漠南非洲許多國家的境內社會動盪不安，常是因為國內各不同族群間因政治與利益分配時有紛爭，甚至造成戰亂不斷，對該地區的整體發展影響甚大。請問：造成這種族群問題的主因為何？
(A)多處國界是沿著經緯線劃設
(B)國家人口數量增加太過快速
(C)地形複雜造成語言文化不同
(D)外來宗教導致原始文化消失。
- 非洲礦藏資源豐富，其中金、鉻、鉑族、錳、鈷、鋁土礦、磷等礦產資源儲量在世界上占居首位，為該地區提供了充足的工業原料。請問：非洲礦藏豐富和該地區的哪一項因素關係最大？
(A)地形平坦 (B)氣候多元
(C)古老陸塊 (D)面積廣大。
- 游耕是人類最早的農耕型態，以刀斧砍伐森林，再以火焚林，此舉所產生的富含營養的草木灰能使土壤肥沃，闢種耕地後種植樹薯之類的作物。當地力枯竭時，再找尋新的耕地，是耕地和住所均不固定的一種原始農業形態。下列何者是游耕活動主要的地區？



- 承上題，關於游耕的特色，下列敘述何者正確？
(A)密集施肥屬於集約農業 (B)種植單一的經濟作物
(C)富拉尼人主要以游耕維生 (D)能長期維持生態環境的平衡。

10. 圖 1-2 是非洲人口密度圖，顏色愈深代表人口愈稠密。請問：下列何者是甲地區人口密集的主要原因？(A)平原廣大 (B)氣候涼爽 (C)四季分明 (D)礦產豐富。



11. 漠南非洲因為受到海岸地形和氣候因素的影響，產業發展時間相對較落後。在 15 世紀歐洲人進入本地後，逐漸轉為以熱帶栽培業為主，許多資本雄厚的公司來到此地，帶動了對外貿易的發展。在發展過程中，造成了下列何種現象？

- (A)農民收入豐厚而吸引外籍移民
(B)使用機械化耕作降低生產成本
(C)大企業掌握價格加大貧富差距
(D)糧食產量大增加可以轉而外銷

12. 非政府組織是一類不屬於任何政府、不由任何國家建立的組織，通常獨立於國家政府，通常是非營利組織，他們的基金至少有一部分來源於私人捐款。下列關於非政府組織在漠南非洲的活動，何者正確？(A)「Worldreader」捐贈食物以減少非洲饑荒 (B)「無國界醫生」從事醫療救助與防疫工作 (C)「國際公平貿易組織」主要幫助企業高價銷售產品 (D)電信公司提供低廉通話費給一般大眾。

題組一：非洲是目前世界上國家最多的一洲，但各國發展差異甚大。圖 1-3 是非洲國家分布圖，請依圖回答第 13-15 題。

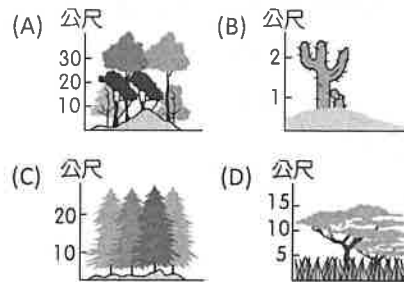


圖 1-3

13. 某國家礦藏豐富，採礦業為其重要產業之一，黃金估計佔世界儲量總額的 13%，拋光鑽石生產值佔全球近 5%，是非洲第二大的經濟體。請問：上文描述的國家最可能位在圖 1-3 中何處？(A)甲 (B)乙 (C)丙 (D)丁。

14. 全球巧克力市場估計價值超過 1000 億美元，卻掌握在少數跨國公司手中。某國種植的可可豆佔世界產量至少 20%，但是有一半以上的種植者都生活在貧窮線以下。請問：上文描述的國家最可能位在圖 1-3 中何處？(A)甲 (B)乙 (C)丙 (D)丁。

15. 丙國擁有被列為「人生必去旅遊清單」之一的「動物大遷移」觀光資源。每到 7 月底當地會迎來旱季，於是數以百萬計的斑馬、羚羊等野生動物，就會形成一支遷徙大軍，總是吸引大量旅客前往觀賞。請問：丙國最常見的植物景觀為下列何者？



題組二：

圖 1-4 是非洲氣候分布圖，請依圖回答第 16-17 題。

16. 「匹美人連成年男子的身高都低於 150 公分，根據人類學家研究，他們居住在雨林內，紫外線量極低，可能為身材較為矮小的成因。」請問：下列何者最接近匹美人的居住環境？(A)甲 (B)乙 (C)丙 (D)丁。

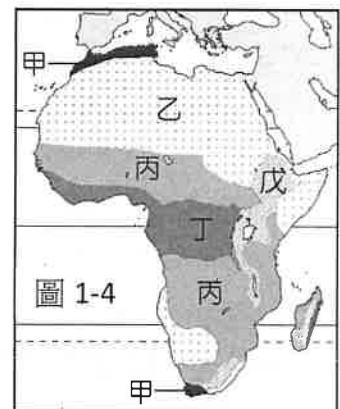
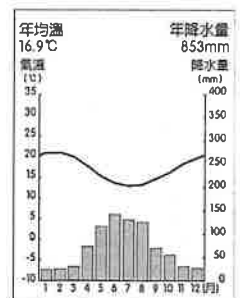


圖 1-4

17. 喬治和瑪莉預計婚後前往非洲蜜月旅行。右圖為他們查詢到蜜月地點的氣候圖。請問：他們預定前往的是哪一個氣候區？(A)甲 (B)乙 (C)丙 (D)丁。



請繼續換頁作答

本試卷分地理、歷史、公民 3 個部份，請依序作答，並按照題號畫卡。
各部份題目配分及試卷頁數請參見說明，總分為 100 分。請謹慎作答。

班級： 座號：
姓名：

第 2 部份：歷史（18~33 題，每題 2 分，共 32 分，共二頁）

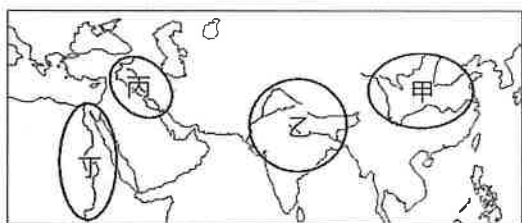
18. 古埃及人觀察到，天狼星和太陽同一天升起之後大約六十天，尼羅河開始河水暴漲，於是埃及人就以天狼星和太陽同天升起的那天作為一年的開始，制定了哪一曆法？ (A)太陽曆 (B)陰曆 (C)陰陽曆 (D)儒略曆。

19. 附圖是有關早期西亞某個民族的航海貿易路線。根據圖中的內容判斷，這個民族對世界最大的貢獻是下列何者？



- (A)制定漢摩拉比法典，強調報復原則
- (B)發明的楔形文字，為西亞民族所使用
- (C)創立一神信仰的宗教，影響後世的宗教
- (D)將象形文字改良後，傳到西方世界。

20. 「將死者的屍體製成木乃伊，並以死者之書作為陪葬品，為幫助死者通過陰間審判而得以復活。」上述話語，最可能出現在附圖中的哪一古文明？ (A)甲 (B)乙 (C)丙 (D)丁。



21. 「西元前六世紀，波斯帝國勢力不斷向西延伸，已統治地中海東岸與小亞細亞地區的許多希臘城邦，但是這些城邦聯合希臘半島上的其他反抗波斯統治。波斯皇帝為了切斷這些城邦的外援，於是進攻希臘半島。西元前 490 年，波斯軍隊橫渡愛琴海，占領許多土地後，揮兵直攻某城邦。在著名的馬拉松戰役中，此城邦軍隊成功抵抗波斯大軍，化解危

機。」請問上文所述的「某城邦」指的是？

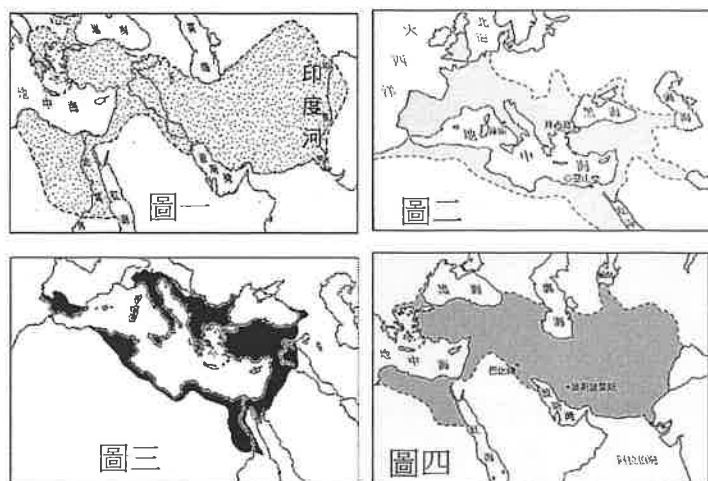
- (A)雅典 (B)斯巴達 (C)特洛伊 (D)奧林匹亞。

22. 下列為簡老師介紹的法典部分內容，由此法典的內容判斷，何者敘述正確？

196 條：如果一個人傷了貴族的眼睛，還傷其眼。
197 條：如果一個人折了貴族的手足，還折其手足。
203 條：如果貴族階層的人打了貴族出身的人，須罰銀一明納。
205 條：如果任何人的奴隸打了自由民出身的人，處割耳之刑。

- (A)以公平為原則，崇尚法治和民主
- (B)以寬恕為原則，強調法律之前人人平等
- (C)以暴力為原則，主張以暴制暴
- (D)以報復為原則，條文可見當時有階級概念。

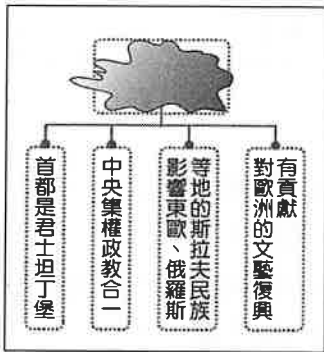
23. 下圖一~圖四為建立橫跨歐、亞、非三洲的政權疆域圖。請依照帝國建立的時間，將這四張圖作先後排序，依順序是？ (A)圖一→圖二→圖三→圖四 (B)圖一→圖四→圖二→圖三 (C)圖四→圖一→圖二→圖三 (D)圖四→圖一→圖三→圖二。



24. 西元 6 世紀時，某一部拜占庭帝國的法典保留了羅馬的法律觀念，成為今日西歐各國法學之重要淵源。請問：上文所述的法典為何？

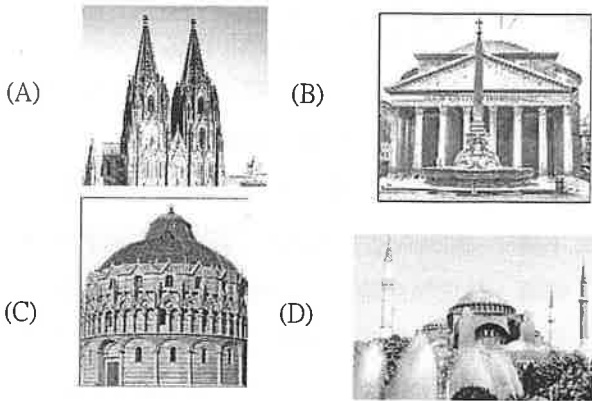
- (A)《烏爾納姆法典》 (B)《漢摩拉比法典》
- (C)《十二銅表法》 (D)《查士丁尼法典》。

25. 附圖是佑欣上完歷史課後，完成的概念構圖，卻不小心打翻墨水把主題弄髒了。請問：根據圖中的內容提示，此主題應該為下列何者？



- (A)西羅馬帝國 (B)拜占庭帝國 (C)波斯帝國
(D)鄂圖曼土耳其帝國。

26. 芷好參加歐洲旅遊團，導遊帶團員參觀以下四座教堂。請問下列何者為古羅馬帝國時期的建築代表？



◆昀珊在閱讀羅馬史時，整理了幾位重要統治者的事蹟，如下列資料所述。請根據以下資料回答問題：

資料一：他為整個羅馬世界所尊敬，在紀念碑上可看到尊稱他為「皇帝」或「奧古斯都」。他不但是大祭司，也是首席的元老院議員，更擔任護民官一職。

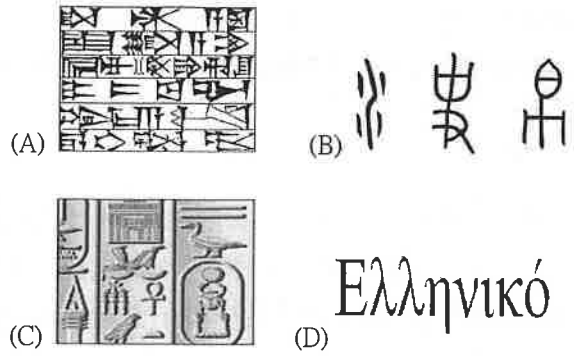
資料二：國王暴虐無道，且他的兒子因為強暴貴族的妻子而被羅馬公民驅逐出羅馬。

資料三：他掌握羅馬大權，曾擔任財務長、執政官、監察官等職，但最後卻被刺身亡。

27. 若將資料一到資料三的內容依發生先後排列，其先後順序應該為何？ (A)資料一→資料二→資料三 (B)資料二→資料一→資料三 (C)資料二→資料三→資料一 (D)資料三→資料二→資料一。

28. 「羅馬和平」是指羅馬史上哪一時期經濟繁榮，人民安居樂業的二百餘年強盛時代？ (A)城邦時期 (B)帝國時期 (C)共和時期 (D)王政時期。

29. 蘇美人將蘆葦桿以壓刻的方式書寫於泥板。請問下面的文字，何者最接近蘇美人的楔形文字？



30. 鎮旭在查閱某本著作資料時看到以下兩段描述，請問：這本著作應為下列何者？

資料一：希臘化時代的科學巨著，是後世幾何學的重要教材。

資料二：明末徐光啟與利瑪竇曾合譯內容為中文。

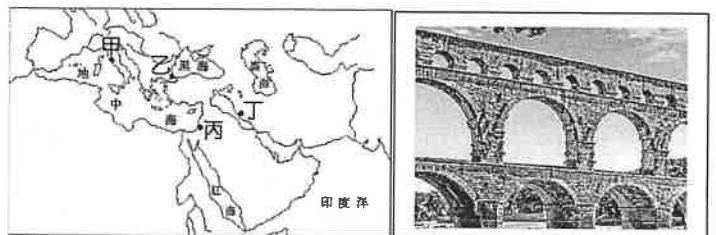
- (A)阿基米德—槓桿原理 (B)希羅多德—歷史
(C)歐幾里德—幾何原本 (D)荷馬—奧德賽。

題組一：請根據圖五，回答第 31-33 題：

31. 此民族原是游牧民族，早期定居於兩河流域，依聖經舊約的記載，西元前 1950 年左右，猶太人的始祖亞伯拉罕奉上帝耶和華之命，率領族人遷移至巴勒斯坦居住。請問：此民族是位於圖五中何處？ (A)甲 (B)乙 (C)丙 (D)丁。

32. 查士丁尼皇帝所修建聖索非亞大教堂，象徵著抵禦東方侵擾的基督教堡壘。請問它位於圖五中的何處？ (A)甲 (B)乙 (C)丙 (D)丁。

33. 祥奕在暑假參加了歐洲古蹟之旅，第一站參觀加爾橋引水道，如圖六。導遊介紹：它是當地人為輸送泉水至城市而建造。它是工程學上的一項宏偉工程，至今保存完好，1985 年，聯合國教科文組織將其列為世界文化遺產。請問：這一座「加爾橋引水道」的工程設計是出自附圖五中的何處？ (A)甲 (B)乙 (C)丙 (D)丁。



圖五

圖六

※歷史試題結束，請換頁繼續作答。

本試卷分地理、歷史、公民 3 個部份，請依序作答，並按照題號畫卡。
各部份題目配分及試卷頁數請參見說明，總分為 100 分。請謹慎作答。

班級： 座號：
姓名：

第 3 部份：公民

34.某縣的縣政府以快樂國中學生每年教育成本偏高等原因，打算停辦該校，引發各界爭議。教師團體認為，縣政府逕自將教育成本作為學校停辦標準，於法無據，也違背《憲法》賦予人民的受教權；學者則認為，教育成本雖可作為廢併校的參考之一，但非必要，在少子化趨勢下，地方政府的態度，扮演極關鍵態度。根據內容判斷，下列何項敘述較為正確？

- (A)教育經費的使用，不應該考慮機會成本
- (B)政府經費有限，應以效益作為規畫預算時的唯一考量
- (C)該縣政府對於國民教育的發展較不重視
- (D)國家財政資源有限，分配時須考慮公平與正義原則。

35.文文為了公民科的時事報告，蒐集了一則新聞，並從新聞內容歸納出結論與同學分享。

網路電商舉辦購物節活動，商品照原訂價的 3 折到 5 折出售，民眾購買的貨物包裹像小山一樣堆滿超商。店員表示，包裹量超過平常 2 倍

根據新聞內容，文文的結論應該是下列何者？

- (A)非價格因素會影響消費者的資源分配
- (B)電商是透過降低生產成本來增加利潤
- (C)同樣的商品，價格變低，民眾會增加購買量
- (D)同樣的商品，價格上漲，代表機會成本較小。

36.為了促進都市土地開發利用，並防止建物因老舊而造成居住的危險性，政府鼓勵民眾申請住宅都更重建，並提供重建後新房屋的容積獎勵與稅賦優惠，但重建工程耗日費時，牽涉甚廣，申請者很少。因此政府修法簡化都更申請程序，並擴大獎勵範圍，希望能提高民眾意願，加快都市更新的腳步。請問：以誘因的角度來看，政府藉由何種做法希望達到修法目的？ (A)增加正向誘因 (B)減少正向誘因 (C)增加負向誘因 (D)減少非金錢誘因。

37.因為資源的「稀少性」，使得我們必須以最有效的方式來運用資源，而下列關於「稀少性」的敘述，正確的是 (A)稀少性取決於資源總數量的多寡 (B)「稀少」與「貧窮」詞異義同 (C)相對於我們

所要做許多事情，時間就具有稀少性 (D)一般人會覺得金錢稀少，億萬富翁就不會有這種感受。
38.幾位在國外工作的網友在社群網站上聊天，討論新冠疫情帶來的影響，以及是否要回台灣過年。根據附圖內容所示，下列何者敘述正確？

- 夜楓：大家跟我一樣都選擇不回臺灣過年嗎？
- 浩子：回去要先隔離14天，再回來上班又要隔離14天，請假這麼多天，一個月的薪水都沒了。
- 皇玲：因為疫情關係，現在工作不好找，請假回國，老闆可能就把我辭退了。
- 夜楓：想要回家團聚，就得犧牲工作；選擇工作，就不能和家人相見，真是兩難啊！

- (A)因隔離請假被扣的薪水也須計入機會成本
- (B)回臺灣的機會成本小於留在國外的工作地
- (C)若決定留在工作地，就不須付出機會成本
- (D)機會成本較大的選擇，會是網友的最佳選擇。

39.台灣今年因為新冠肺炎疫情的衝擊造成經濟衰退，為了振興經濟、刺激消費，政府 10 月將陸續發放 5000 元的振興券供民眾消費使用。請問：政府發放振興券，是想藉由何種方式刺激民眾消費，達到振興經濟的目的？ (A)引導消費者的偏好 (B)增加消費者的所得 (C)降低生產成本 (D)塑造消費者的預期心理。

40.安安超想吃甜點，就帶了 100 元跑去甜點店。店內陳列的甜點中，有四種價格在 100 元內，安安決定列出他對此四樣商品的喜好程度，做出最佳選擇。

甜點品項	喜好程度	機會成本
抹茶甜甜圈	甲	乙
鳳梨冰沙	65	丙
草莓蛋糕	75	90
巧克力聖代	90	80

根據附表，甲、乙、丙的高低為下列何者？

- (A)乙 > 甲 = 丙
- (B)甲 > 乙 = 丙
- (C)乙 = 丙 > 甲
- (D)丙 > 甲 = 乙。

41. 請問下列何者符合「生產者」的定義？ (甲)「100 度 C 麵包店」的潘老闆；(乙)「絆腳石文具店」的店員阿寶；(丙)到「SoSo 飲料店」買飲料的小傑；(丁)「到市場租攤位賣菜」的陳阿姨。正確的是 (A)甲乙 (B)丙丁 (C)甲丁 (D)甲乙丁。

42. 政府推行任何政策，必須進行規畫、評估和檢討，若以經濟學中的誘因來理解附圖中三位政府官員的對話內容，下列說明何者正確？

施行限塑政策是為了環保，民眾會因必須付費而減少使用塑膠袋。

可是有些民眾認為那一點錢無所謂，甚至覺得自己只要付錢就能理所當然的使用，完全沒有考慮會對環境造成傷害。



我們如果請藝人拍宣導短片，推廣使用購物袋，可能效果會比較好。

(A)限塑政策屬於非金錢誘因的引導 (B)使用金錢誘因對每個人都會產生效果 (C)同樣的誘因，對每個人皆能達到相同的預期效果 (D)請藝人宣導使用購物袋，屬於正向誘因的引導。

43. 幸福社區大廈設有一間娛樂室，免費提供社區住戶在裡面聚會或辦活動，由於設備新穎，大家搶著預約，因此發生爭執。召開社區大會時有住戶建議，娛樂室改採小時計費，每小時 500 元，或許可以改善這個問題。由上述判斷，該提議的概念最接近下列何項敘述？ (A)以「使用者付費」方式決定資源的分配 (B)改採收費機制將導致社區的公共利益受到損害 (C)人們基於理性自利，會做出對公眾最有利的選擇 (D)如果妥善運作，社區也可以發展成為營利性組織。

44. 嘉玲存了一筆錢想投資做生意，站在生產者的立場，他應選擇哪一則新聞中的商品販售較為適合？

選項	新聞標題
(A)	米餅爆食安危機，家長不敢購買
(B)	香菜價格大崩盤！800 元天價暴跌剩 130
(C)	電烤盤買氣翻倍漲，人氣款一度熱賣到斷貨
(D)	生產成本增加，小吃店不敢調漲價格

45. 軍艦壽司店每日利潤可達 3000 元，是生產成本的二倍。請問：下列有關軍艦壽司店的銷貨收入、單位價格及銷售量的推算，何者錯誤？ (A)生產成本是 1500 元 (B)營業額是 4500 元 (C)利潤達 80% (D)若單位價格為 15 元，銷售量應是 300 份。

46. 新一想利用暑假打工，他看到一則徵人廣告：「免工作經驗，工作輕鬆，運送物品 2 小時就可賺進 3000 元」。他看了躍躍欲試，但是朋友小蘭聽了卻提醒他，這可能是詐騙集團誘騙人當車手所設下的陷阱。若以一句話代表高額薪資背後所須付出的代價，下列

何者最適切？ (A)選你所愛，愛你所選 (B)天下沒有白吃的午餐 (C)資源有限，慾望無窮 (D)金錢不是萬能。

47. 君君發布以下一則動態，若以機會成本的觀念判斷，下列何者說明正確？

原本今天要去打工，但同學約我去新開的日本知名零售店逛逛，現場人好多，光是排隊就花了 2 小時，只好跟公司請假，少賺了 500 元。進去看到很多好吃的零食，總共花了 600 元，超開心的，晚上可以跟家人分享囉！

(A)唯一付出的機會成本是買零食的 600 元
(B)排隊耗費的體力無法衡量，不計入機會成本
(C)沒打工沒錢領，少賺的薪水不計入機會成本
(D)以金錢計算的機會成本至少有 1,100 元。

48. 飯店業者會針對不同時段的來客數量設定不同的價格，藉此提高住房率。附表為某飯店原本房價及優惠後房價，根據表中資料判斷，該飯店原本的甲、乙、丙時段住房率高低應為下列何者？

時段	原本房價 (元)	優惠後房價 (元)
甲	5,000	2,500
乙	5000	4,500
丙	5,000	3,500

(A)甲 > 乙 > 丙 (B)乙 > 丙 > 甲 (C)丙 > 甲 > 乙
(D)甲 > 丙 > 乙 [修改自 104. 會考]

49. 派興在社群網站上發問如下，針對他的狀況，下列何項敘述最為正確？

派興：之前看大家都在搶購防疫用品，相關商品價格漲翻天，所以我的超市也開始販售乾洗手、清潔液等。但是，最近生意變差了。不知道有沒有什麼方法可以讓客人多買一些防疫商品？

(A)大家之前搶購防疫用品是因為價格因素
(B)派興跟著販賣防疫用品是因其價格下跌
(C)防疫用品漲價，派興將減少其販賣的數量
(D)調降商品價格應該有助於改善派興的問題。

50. 陳嘉明開了一家水果乾商店，老爸決定以過來人的經驗，傳授幾項生產者應具備的觀念。但是老爸有一項「說錯了」。請你幫他找出是哪一項？

(A)一般來說，生產者從事生產行為的最主要目的是獲取利潤 (B)多添購製作果乾的機器，增加果乾的產量，就可以增加利潤 (C)兩種果乾的生產成本一樣時，商品價格高的果乾可以帶來較多利潤 (D)兩種果乾的銷貨收入一樣時，生產成本低的果乾應該要增加產量。

(1~17 題地理；18~33 題歷史；34~50 題公民)

1	2	3	4	5	6	7	8	9	10
C	B	D	A	B	A	C	B	D	B
11	12	13	14	15	16	17	18	19	20
C	B	D	B	D	D	A	A	D	D
21	22	23	24	25	26	27	28	29	30
A	D	C	D	B	B	C	B	A	C
31	32	33	34	35	36	37	38	39	40
C	B	A	D	C	A	C	A	B	C
41	42	43	44	45	46	47	48	49	50
C	D	A	C	C	B	D	B	D	B

