
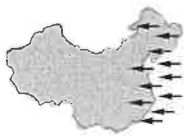





臺北市立萬芳高級中學國中部 110 學年度第 1 學期社會領域八年級第一次定期評量試卷

本試卷分地理、歷史、公民 3 個部份，請依序作答，並按照題號畫卡。  
各部份題目配分及試卷頁數請參見說明，總分為 100 分。請謹慎作答。



班級： 座號：  
姓名：

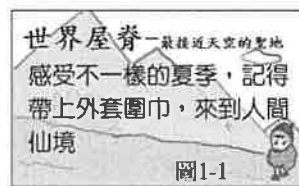
第 1 部份：地理（第 1-17 題為地理科單選題，每題 2 分。）

- 中國在 2008 年發生芮氏規模 8.2 的汶川大地震，造成約七萬人遇難。該地震是由於青藏高原地殼不斷被推移，當岩層無法承受時就會產生破裂，並以斷層活動的形式將累積的能量釋放。請問：上述地震是因為那兩個板塊相互作用而發生？  
(A)歐亞板塊、印澳板塊 (B)歐亞板塊、非洲板塊  
(C)歐亞板塊、太平洋板塊 (D)歐亞板塊、菲律賓海板塊。
- 新聞報導：「這是一群被喻為候鳥的中國老年人，每當天氣轉涼之時，身處北方的許多老人就會前往溫暖的南方城市度過漫長的寒冬。當春暖花開時，他們又興高采烈地北上消暑。這種隨著季節變化，選擇不同地域環境養老的新型養老方式被稱為『候鳥式養老』」請問：這些候鳥式養老的移動模式，與中國下列那一項地理特徵有關？  
(A)距海遠近的不同 (B)地形複雜落差大  
(C)緯度跨越範圍大 (D)經度東西變化大。
- 第 24 屆冬季奧林匹克運動會將於 2022 年 2 月在中國首都北京舉行，右圖是其吉祥物：冰墩墩。但是北京冬季時降水偏少，致使室外場地自然降雪量嚴重不足，需要大量依賴人工造雪以滿足比賽需求。請問：下列哪一張圖最符合該奧林匹克運動會舉辦時北京的盛行風風向？  
(A)  (B)   
(C)  (D) 
- 自 2020 年開始，中國、印度雙方邊境衝突不斷，兩國 3440 公里的邊界線有很多部分界定不清。中國在其西南方有爭議的邊界，沿線增加新的跑道、建築、防彈掩體等基礎設施。兩國邊界為下列何


種地形，才造就複雜的邊界關係？


- (A)山東丘陵 (B)華北平原  
(C)四川盆地 (D)喜馬拉雅山。


- 中國公布第七次全國人口普查結果：總人口數為 14 點 43 億人，總人口性別比為 105，65 歲以上人口占 13.50%。依據上文可知，下列敘述何者正確？(A)男性人口比女性少 (B)已邁入高齡化社會 (C)幼年人口比例減少 (D)人口開始呈負成長。
- 中國領土多位於中緯度地區，下列哪一條經緯線通過中國？(A)赤道 (B)北極圈 (C)北回歸線 (D)國際換日線。
- 為中國某旅行社的宣傳海報。該旅遊地點的旺季主要以夏季為主，氣溫涼爽宜人。上述地點最可能在圖 中哪一地形區？  
(A)ㄅ (B)ㄆ (C)ㄇ (D)ㄊ。



- 為中國五大地形面積比例圖。甲～戊代表不同地形類型。請問：佔比例最多的是那兩種地形？(A)山地、高原 (B)平原、盆地 (C)山地、丘陵 (D)平原、高原。



- 中國疆域遼闊，各地區的自然條件不一，為適應環境各地的建築也不盡相同。中的住屋型式稱為「窯洞」，最可能出現在中國哪一個地理區？ (A)四川盆地 (B)青藏高原 (C)東北平原 (D)黃土高原。



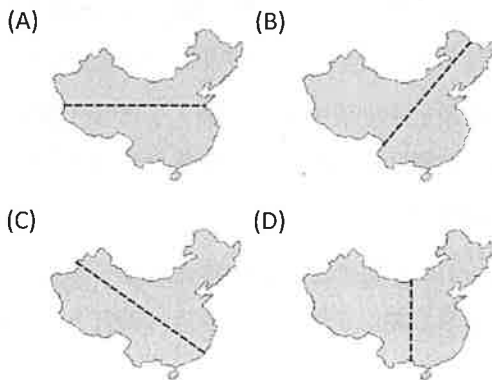
10. 右表是中國三個地區的年降水量數值。影響表中三個地區降水量高低的主要因素為何？

城市	年降水量(mm)
和闐	34
蘭州	316
廣州	1736

- (A)地勢高低 (B)距海遠近  
(C)緯度高低 (D)洋流性質。

11. 子虞看到中國某份統整資料，如下表。請問：甲乙兩區的畫分界線可能最接近下列哪一張圖？

區域	土地面積	人口比例
甲區	43.3%	94%
乙區	56.7%	6%



12. 華人的遷移對中國周圍國家的文化影響深遠，並將漢人的生活習俗、飲食習慣等帶到當地，稱為「文化擴散」。若學者欲前往這些國家進行早期華人文化擴散的研究，則選擇到下列哪一國家最為適合？(A)越南 (B)英國 (C)美國 (D)俄羅斯。

**題組一** 傳統農牧業活動多和大自然環境息息相關，形成各地方的區域特色。**圖 1-5** 為中國境內各地的傳統農牧業活動分布狀況，請依圖回答第 13-15 題：



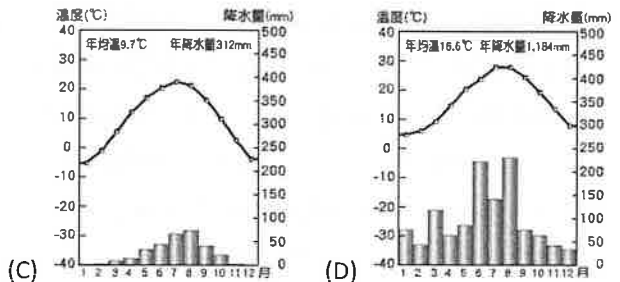
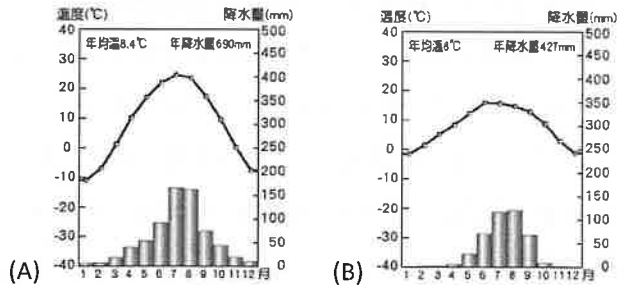
13. 小凱與小美各自分享暑假到中國旅遊的美食體驗。小凱說：「我在甲區吃到我最喜歡的麵食，有水餃、刀削麵等」小美說：「我到丙區吃到美味極了的烤全羊大餐，乳疙瘩也很特別」上述兩人所吃的當地美食差異甚大，與下列何者關係最密切？

- (A)地形高低差 (B)年均溫高低  
(C)降水量多寡 (D)年溫差大小。

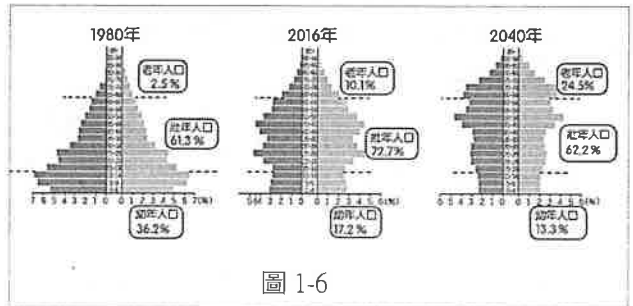
14. 甲、乙兩地素有「南船北馬」及「南稻北麥」的特色分布差異。請問：甲、乙的分界與下列哪一項的分布最相符？

- (A)降水量 500 mm (B)七月月均溫 18°C  
(C)降水量 250 mm (D)一月月均溫 0°C。

15. 甲地的氣候大部份最可能為下列一種氣候類型？



**題組二** **圖 1-6** 為中國於西元 1980、2016、2040 年(預估)之人口金字塔圖，請依據圖回答下列第 16-17 題：



16. 由圖可看出不同年代的中國人口結構呈現明顯變化，造成此變化主要的因素為何？

- (A)經濟改革開放 (B)一胎化政策  
(C)縮小城鄉差距 (D)傳統觀念影響，

17. 面對此人口變化，中國需要採取下列何種措施？

- (A)普及教育資源 (B)推廣性別平等  
(C)提升醫療水準 (D)完善老年福利。

請繼續換頁作答

本試卷分地理、歷史、公民 3 個部份，請依序作答，並按照題號畫卡。  
各部份題目配分及試卷頁數請參見說明，總分為 100 分。請謹慎作答。

班級： 座號：  
姓名：

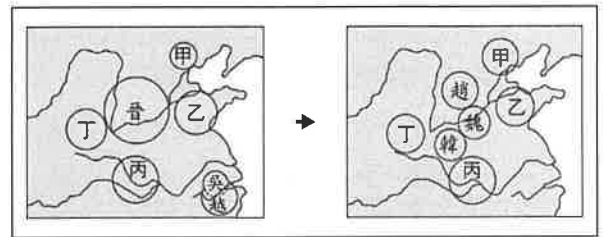
第 2 部份：歷史（共 17 題，每題 2 分，共 2 頁）

18. 在中國「有冊有典」的歷史時代中，常以朝代順序，作為歷史敘事的方式，此一現象亦是中國歷史的一大特色。以下是中國歷史長河中的重要朝代：（甲）隋唐（乙）魏晉南北朝（丙）商周（丁）宋元（戊）明清（己）秦漢。請在下列選項中，挑出**錯誤**的排序：
- (A) 乙→甲→丁→戊 (B) 丙→己→乙→甲  
(C) 丙→己→丁→甲 (D) 己→乙→甲→丁。
19. 阿萬應老師的要求，以曾存在現今中國境內的三千多年前的政權與文化為主題，繪製概略簡圖。請問：在他所繪製的簡圖中，可能會出現下列何種內容？(A) 此時期在黃河流域形成商王朝，長江流域形成周王朝 (B) 當時的黃河流域，僅有商王朝獨霸一方 (C) 商、周兩王朝先後出現於長江流域，兩者曾一度並立 (D) 除了黃河流域外，亦有其他文化在長江流域存在，呈現文化發展多元並立的現象。
20. 以下是某政治制度的特色：  
「**①**分封親戚功臣到重要的地方築城防守，進行武裝殖民與軍事占領，同時籠絡不同的族群，尋求合作；**②**以父系血緣關係為前提，透過世襲繼承的辦法，將同姓的人民連結為一個經濟與政治的共同體。」請問這應為下列何者的特色？
- (A) 西漢時期的郡縣制度  
(B) 西周時期的封建制度  
(C) 隋唐時代的科舉制度  
(D) 魏晉時期的察舉制度。
21. 從「春秋」到「戰國」的歷史發展，呈現出什麼樣的整體趨勢？
- (A) 國家數量越來越多，國君的權力越來越小  
(B) 國家數量越來越少，周王的實力越來越強  
(C) 國家數量越來越少，國君的權力越來越大  
(D) 國家數量越來越多，平民的地位越來越高
22. 回顧由商朝演進為周朝的時代興替過程，就地理

方位而言，周部族向外發展的方向為何？

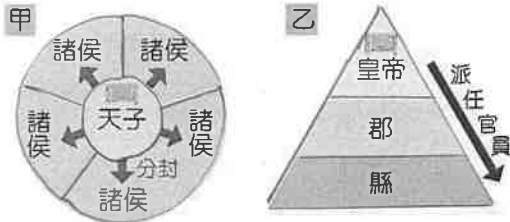
- (A) 由西向東 (B) 由東向西  
(C) 由北向南 (D) 由南向北。

23. 下圖，是中國史上某一時期政治局勢的轉變過程，請問，如此情勢發展到最後，是被圖中哪一國家所統一？(A) 甲 (B) 乙 (C) 丙 (D) 丁。



24. 承上題，在這個國家併吞各國之後，該國國君做了哪些劃時代的政治措施，深刻影響中國歷史的發展？請在以下敘述中選出正確的項目：**①**建立科舉制度，以相對客觀的方式選拔人才，在中國實行長達千餘年，影響深遠 **②**獨尊儒家思想，使之成為往後中國的學術思想主流 **③**統一文字、貨幣、度量衡、車軌等文物制度，有助於國家內部的整合 **④**重定君主稱號，不再稱王，改稱皇帝，以呼應前所未有的新局面 (A) **①②** (B) **②③**  
(C) **③④** (D) **④①**。
25. 魏晉南北朝時期政局雖然動蕩不安，但是世族在社會上仍然維持崇高的地位，不因政局改朝換代影響。下列哪一項是造成這個現象的**主要原因**？
- (A) 皇帝尊崇儒學，造就書香世家累世為官  
(B) 地方薦舉孝廉，鄉里評論造就世族名聲  
(C) 實施九品任官制度，人才評選重視家世  
(D) 科舉考試客觀公平，造成新的世族勢力。
26. 西漢初年，民生凋敝，國力虛弱。統治者採取無為而治的黃老思想作為基本國策，使人民得以休養生息，恢復社會經濟的運作。請問這樣的治國理念，應是以下列哪一派思想為基礎所發展出來的？
- (A) 儒家思想 (B) 道家思想  
(C) 法家思想 (D) 陰陽五行。

〔題組 1〕〔甲〕、〔乙〕兩張附圖分別呈現中國不同時期的政治制度樣態：



27. 以下是同學們針對兩張圖的內容所作的解析：
- 萬萬：中國政治制度的發展應是從〔乙〕發展為〔甲〕；  
小芳：中國政治制度的發展應是從〔甲〕發展為〔乙〕；  
阿高：〔甲〕圖表示地方諸侯逐漸擺脫中央政府控制的現象；  
阿國：〔乙〕圖意味著國家政權以中央集權的方式運行；  
大中：〔乙〕圖的政治體制以周朝時期的運作最為成熟。
- 請問，同學們的說法何者**錯誤**？
- (A) 萬萬、阿高、大中；(B) 小芳、阿國、大中；  
(C) 萬萬、阿國、大中；(D) 小芳、阿高、阿國。
28. 〔甲〕圖的政治體制，需要下列哪些制度的配合，才能得以維繫運作？**①統一文字貨幣度量衡等制度 ②採行九品任官制度 ③禮樂制度的運行 ④宗法繼承與血緣關係的確立** (A) ①② (B) ①④ (C) ②③ (D) ③④。
29. 〔乙〕圖政治制度的形成，與下列哪一個歷史事件關係**最為**密切？(A) 齊桓公號召天下諸侯，尊王攘夷；(B) 秦王嬴政兼併六國，統一天下；(C) 漢武帝推崇儒家思想，命郡國推舉孝廉為官；(D) 商鞅提倡富國強兵之道，為秦國變法有成。

〔題組 2〕請閱讀下列資料並回答問題：

一本書中指出：「商鞅變法後，◇國可能已經全面實行戶籍制度，在《商君書》中提到：『全國境內，不論男女，都有名籍在官府。初生者登錄，死者消除。』從許多資料中看來，漢代無疑已經有相當嚴密的戶口制度。在傳統的○○制度中，人民只直接與其領主接觸，除非是天子、諸侯的領民，一般人和天子、諸侯等上層貴族並無聯繫。但是隨著○○制度瓦解，中間貴族階層逐漸消失，天子直接領有萬民。為有效掌握人民及相關資源，戶籍制度提供統治者所需要的基本資料，國家對人民的賦稅或徵兵才有所依據。」

30. 引文中的◇國，應是下列何者？  
(A) 齊國 (B) 秦國 (C) 楚國 (D) 蜀國。

31. 引文中的○○制度，又應該是下列何者？  
(A) 郡縣制度 (B) 封建制度  
(C) 皇帝制度 (D) 宗法制度。
32. 由上文的内容來看，其主要在探討下列何主題？  
(A) 商鞅改革與秦國興衰的關係 (B) 封建制度的發展過程 (C) 戶籍制度實施的影響 (D) 宗法制度對人民地位的影響。

〔題組 3〕請閱讀下列資料並回答問題：

**資料 1** 「上車不落則著作，體中如何則祕書。」(註：著作，指的是編修史書的郎官；祕書，為管理皇家圖書的官員。整句話的意思是：年紀到了能獨自坐在車上不會掉下來，即可授與著作的官職，能寫出噓寒問暖的書信發語詞，就可以當上祕書郎。)

**資料 2** 「富家不用買良田，書中自有千鍾粟。安居不可架高堂，書中自有黃金屋。娶妻莫恨無良媒，書中有女顏如玉。出門莫恨無人隨，書中車馬多如簇。男兒欲遂平生志，五經勸向窗前讀。」(譯文：想要讓家庭富裕不需要買肥沃的土地，讀書就可以獲得許多糧米。想要生活安定，不需要建造高大堂皇的房子，書中就有黃金打造房子。出門不要怕沒有人跟隨，讀書做了官就能享受車馬的簇擁。娶妻不要害怕沒人說媒，考取功名後自然能擁有美人。男人如果想實現平生志向，就趕緊勤奮地在窗前讀書吧。)

**資料 3** 「非博士官所職，天下敢有藏詩、書、百家語者，悉燒之。有敢偶語詩書者，棄市。以古非今者，族。… 若欲有學法令，以吏為師。」(譯文：非官方學者敢私藏詩經、書經、諸子百家著作的，全部搜出來送到官府焚毀；有敢相聚討論詩書者，在市場處死；推崇古代、誹謗當代的，誅殺全家… 如果有人想學文字法令，就去向官府裡的官員、職員學習。)

**資料 4** 「陳群始立九品之制，郡置中正，評次人才之高下，各為輩目。」(譯文：官員陳群創立了九品任官制度，郡設中正官，在地方上評定人才品高下，區分品級。)

33. 以上資料的內容所欲探討的共同主題應為下列何者？(A) 政府的選拔與培養人才的方法 (B) 封建與郡縣制度的優劣 (C) 經學傳家的現象與影響 (D) 中央集權體制的建立。
34. 請依據此四則資料所描述的時代現象，依出現的先後次序，選出正確的排序：  
(A) 資料 1 → 資料 2 → 資料 3 → 資料 4  
(B) 資料 3 → 資料 1 → 資料 4 → 資料 2  
(C) 資料 3 → 資料 4 → 資料 1 → 資料 2  
(D) 資料 4 → 資料 3 → 資料 1 → 資料 2。

歷史試題結束，請接續下頁作答公民試題

臺北市立萬芳高級中學國中部 110 學年度第 1 學期社會領域八年級第一次定期評量試卷

本試卷分地理、歷史、公民 3 個部份，請依序作答，並按照題號畫卡。  
各部份題目配分及試卷頁數請參見說明，總分為 100 分。請謹慎作答。

班級：            座號：  
姓名：

第 3 部份：公民（第 35-50 題為公民科單選題，每題 2 分。）

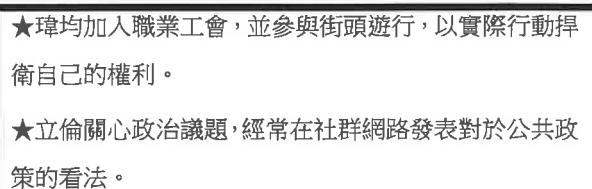
35. 宗宗大學畢業後，決定參加今年的公務人員考試。請問宗宗參加國家考試，屬於憲法賦予人民的何種權利？ (A)平等權 (B)自由權 (C)受益權 (D)參政權。
36. 2010 年苗栗大埔，發生政府違法拆遷民房的爭議事件，最後經法院判決，政府敗訴，還給人民公道。此事件恰好符合「當人民的權利受到政府或私人的不法侵害時，可以透過訴訟，請求法院依法維護自己的權益。」上述為《憲法》所規定的何種基本權利？ (A)平等權 (B)自由權 (C)受益權 (D)參政權。
37. 國立故宮博物院耗資 4 千多萬元，打造全世界第一支 3D 博物館動畫《國寶總動員》，將故宮裡五十多種國寶變成動畫，讓民眾多認識我國重要文物。請問國立故宮博物院製作動畫，是發揮現代民主國家的哪一項功能？  
(A)保衛國民安全 (B)推動社會福利  
(C)促進產業發展 (D)改善文化環境。
38. 我國已歷經政黨輪替三次，以下關於政黨輪替的描述，下列何者正確？  
(A)對在野黨而言，造成各黨間無法和平轉移政權  
(B)對執政黨而言，是施政對人民負責的表現  
(C)對人民而言，將促使專制政權的延續  
(D)對國家發展而言，有助主權在國際上的成長。
39. 綺綺參觀我國某一政府行政部門，導覽人員說明如附圖所示。請問導覽內容，最接近下列選項中，哪一種民主國家運作方式？  
(A)政府透過選舉、公民投票了解民意 (B)政府施政違背民意，官員下台負責 (C)政府根據選舉相關法律辦理定期選舉 (D)執政黨與在野黨透過選舉公平競爭。



40. 為辨別國家與政府的差別，同學們在公民課上進行討論，下列何人的說明完全正確？  
(A)晶晶：國家需要政府機關執行公權力加以貫徹  
(B)瑤瑤：國家是構成政府部門的數個要素之一  
(C)小志：國家主權通常會因政權轉移而改變  
(D)樂樂：國家是負責制定政策的行政單位。
41. 浩浩從報紙中，剪下兩個不同國家的社會狀況(如附圖所示)。請問浩浩能判斷國家屬於人治或法治，是根據下列哪一項原則？  
(A)在法治社會，法律只對政府產生影響力  
(B)在法治社會，政府執法須以法律為基礎  
(C)在人治社會，統治者依據《憲法》治理國家  
(D)在人治社會，統治者受法律限制。



42. 附圖是雅淇在公民課，以基本權利為主題，所做的部份報告內容。雅淇利用附圖中的舉例，說明某一基本權利概念。根據內容判斷，這是在探討我國《憲法》中，哪項人民基本權利？ (A)平等權 (B)自由權 (C)受益權 (D)參政權。



43. 政府曾有意修《戶籍法》條文，規定民眾要按指紋才可以領身分證，引發各界撻伐。後來經過大法官解釋，認定該條文牴觸《憲法》，於是政府刪除此條文，沒有實施這項政策。請問上述凸顯《憲法》具有哪一項特性？ (A)原則性 (B)最高性 (C)固定性 (D)技術性。

44. 附圖中對話所提到的法令，應與下列哪一個法律位階相同？



- (A) 《國民教育法施行細則》 (B) 《中華民國憲法增修條文》 (C) 《道路交通管理處罰條例》 (D) 《學生出國選修課程實施辦法》。
45. 佑佑的公民報告，內容是有關民意與政府政策形成之間的關係。下列選項中，何者較可能是佑佑使用附圖時，所做的文字說明？



- (A) 政府主導政府政策執行過程 (B) 宣示政府政策讓民眾接受 (C) 與民眾進行溝通以尋求共識 (D) 邀請公司企業贊助公共建設經費。
46. 南太平洋島嶼的布干維爾自治區，雖然擁有布干維爾島與鄰近島嶼的治理權，卻由於複雜的戰爭及政治因素，無法獨立建國，被國際視為巴布亞紐幾內亞的一部分。布干維爾自治區政府遂於 2019 年 12 月舉行獨立公投，投票結果自治區內 98% 以上的民眾贊成獨立建國，但最終尚須與巴布亞紐幾內亞政府進行溝通與談判。根據上述，布干維爾自治區的獨立建國尚缺哪一項國家組成要素？ (A) 人民 (B) 領土 (C) 政府 (D) 主權。
47. 我國《憲法》保障人民基本權利，其中第 7 條規定：「中華民國人民，無分男女、宗教、種族、階級、黨派，在法律上一律平等。」此《憲法》條文，強調人民的何種權利？ (A) 平等權 (B) 自由權 (C) 受益權 (D) 參政權。

48. 芽芽在個人社群網站上，發表一則貼文（如附圖所示）。從貼文內容可知，這國國民應該是缺乏哪一種自由權？

更新：3 小時前

這次出國待的國家，人民不能出國，居住地也是國家決定，因此他們十分羨慕我能往來世界各地，自由旅行、遷居。

- (A) 秘密通訊自由 (B) 信仰宗教自由 (C) 居住及遷徙自由 (D) 集會遊行自由。
49. 因全球新冠疫情持續壟罩，導致國際整體經濟環境遭受影響。附圖中的柯先生，同樣遭受不景氣波及，而來尋求程先生協助。附圖對話中，程先生所提及的權利，應是指下列哪一種？



柯先生 程先生

- (A) 平等權 (B) 自由權 (C) 受益權 (D) 參政權。
50. 萌萌與小豪是男女朋友，有一天他們因想法不同發生爭執，萌萌決定和小豪溝通，表達她的不滿讓小豪知道。萌萌與小豪的對話如附圖，對話內容所牽涉的自由權，應是指下列何者？



- (A) 人身自由 (B) 言論自由 (C) 秘密通訊自由 (D) 集會及遊行自由。

試題結束

萬芳高中國中部 110 學年度第 1 期社會領域

八年級第一次定期評量試題解答

1	A	2	C	3	B	4	D	5	B
6	C	7	C	8	A	9	D	10	B
11	B	12	A	13	C	14	D	15	A
16	B	17	D	18	C	19	D	20	B
21	C	22	A	23	D	24	C	25	C
26	B	27	A	28	D	29	B	30	B
31	B	32	C	33	A	34	C	35	D
36	C	37	D	38	B	39	C	40	A
41	B	42	B	43	B	44	C	45	C
46	D	47	A	48	C	49	C	50	C

