

本試卷分地理、歷史、公民 3 個部份，請依序作答，並按照題號畫卡。
各部份題目配分及試卷頁數請參見說明，總分為 100 分。請謹慎作答。

班級： 座號：
姓名：

第 1 部份：地理（共 16 題，每題 2 分，共 2 頁）

- 萬芳高中常有國際教育學生來參訪。如果外國學生想要認識臺灣的『絕對位置』，請問你該如何正確介紹呢？(A)臺灣位於中國的東南方 (B)臺灣位在東半球及北半球 (C)臺灣位在 120°E~122°E，22°S~25°S (D)臺灣位於日本及菲律賓中間。
- 下表為經緯線比較表，上課時，迷糊的小芳因為不專心抄寫而出現了錯誤，請你幫忙把『錯誤』的敘述找出來(A)甲 (B)乙 (C)丙 (D)丁

項目	(甲)方向	(乙)長度	(丙)度數	(丁)型式
經線	南北向	一樣長	東西各 180°	圓圈線
緯線	東西向	由赤道往兩極縮短	南北各 90°	半圓弧線

- 「旅行，就從地圖開始。首先找一張世界地圖，看看所要到的地方，先找到它的 (甲)經度了解目的地和臺灣的時差，再看 (乙)緯度推測當地的氣候特色。接著閱讀當地 (丙)小比例尺的街道圖，並且研究(丁)圖例所代表的景點符號.....。」上列敘述中，何者『有誤』？
(A)甲 (B)乙 (C)丙 (D)丁。
- 圖 1-1 是世界簡圖。全球主要有三大洋和七大洲，且海陸分布不均。請問：下列針對全球海陸分布的特性描述何者正確？ (A)北極海被亞洲、歐洲、北美洲所圍繞 (B)大西洋位於美洲及亞洲之間 (C)南極洲的面積大於非洲 (D)北半球的陸地面積大於海洋面積。

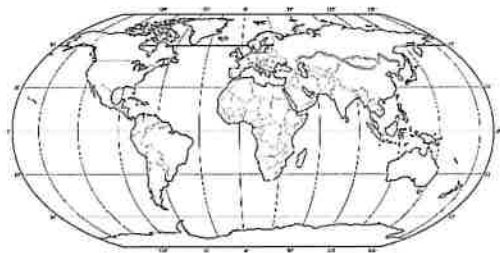


圖 1-1

- 氣象局發布消息：「有一颱風目前位於東經 119.5 度、北緯 22.5 度的海面上，請在附近作業的船隻特別注意安全。」請問：該颱風的位置最可能在圖 1-2 中的何處？ (A)甲 (B)乙 (C)丙 (D)丁。

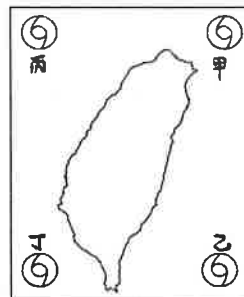


圖 1-2

- 圖 1-3 為地球緯線分布圖，關於圖中緯線的特色敘述，何者正確？ (A)甲為北極圈，是太陽直射的北界 (B)甲乙線間為溫帶氣候

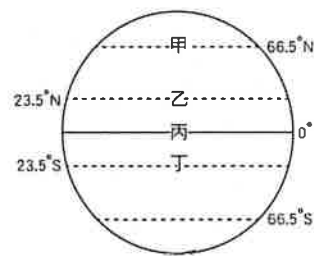


圖 1-3

- (C)丙是赤道，通過英國倫敦 (D)丁為南回歸線，夏至時太陽會直射。
- 在交通革新之後，人類生活產生許多改變。若美國洛杉磯(120°W)總公司的員工，在下午五點下班時，將工作資料傳送到印度分公司，請問此時印度(75°E)當地時間為幾點？ (A)早上六點 (B)晚上六點 (C)早上五點 (D)晚上八點
- 圖 1-4 為某個島嶼的地圖，根據此島的經緯度位置，請問下列選項何者正確？ (A)此島嶼位於東半球 (B)氣候比臺灣平地寒冷 (C)季節與臺灣相反 (D)此島嶼橫跨兩個時區。

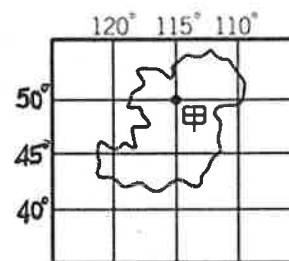


圖 1-4

- 因冰河時期的來臨及消退，加上臺灣島嶼的孤立位置，此現象造成臺灣自然生態呈現何種特色？ (A)植物景觀呈現垂直分布 (B)沿海海域魚群種類多樣 (C)寒帶動物分布廣泛 (D)孕育出許多特有的物種。

10. 根據統計，黑面琵鷺全世界不超過一千隻，飛來七股過冬的黑面琵鷺居然超過七百隻。請問：黑面琵鷺以臺灣做為南北遷徙路線上的重要棲地，與臺灣的哪項自然環境特性有關？
 (A)地形起伏落差大(B)寒暖流的交會
 (C)處溫帶與熱帶交界 (D)處於板塊接觸帶。
11. 釣魚台因為位置的關係，主權問題常成為紛爭，請問釣魚台的位置最接近圖 1-5 的何地？
 (A)甲 (B)乙 (C)丙 (D)丁

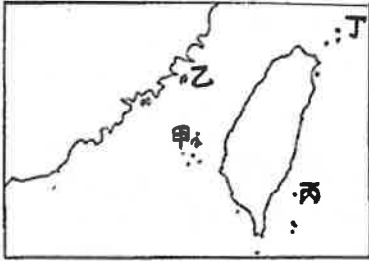


圖 1-5

12. 臺灣漁船常因誤闖鄰國經濟海域而出現漁業糾紛，而經濟海域是指可合法開發、探勘的權利範圍。圖 1-6 是某國海底剖面示意圖，請問下列哪個選項屬於此國的經濟海域地點範圍？
 (A)甲乙 (B)乙丙 (C)丙丁 (D)甲丁

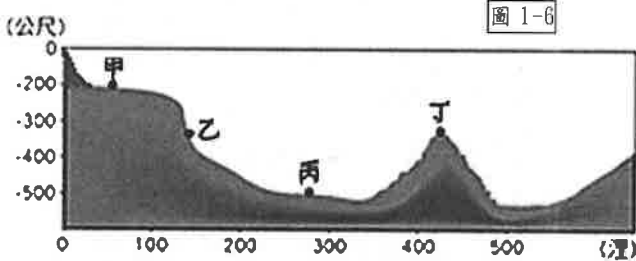


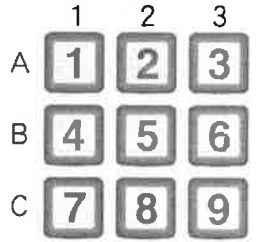
圖 1-6

13. 請問圖 1-7 中哪兩地的行政地位一樣大？
 (A)甲和丁
 (B)乙和戊
 (C)乙和丙
 (D)丙和己



圖 1-7

14. 小萬和朋友到夜市玩棒球九宮格，遊戲規定一局的球數只有 6 顆球，若連成三條直線或斜線，就可以換一個大龍貓娃娃，現在小萬投中 1、2、3、4、7，若再投中哪個網格座標內的數字，便可連成三條線？
 (A)(2, C) (B)(2, B) (C)(3, C) (D)(3, B)。
15. 表中關於相同圖幅內兩個比例尺的比較說明，表中何項敘述『有誤』？



項目	比例尺 1/50000	比例尺 1/2000
(A)比例尺大小	小比例尺	大比例尺
(B)涵蓋範圍	較大	較小
(C)內容資訊	較詳細	較簡略
(D)地圖範例	台北市全圖	文山區全圖

16. 外國遊客若要來臺北參加跨年活動，下列哪一位比較沒有日夜顛倒的時差，以及冬夏相反的天氣差異等問題？
 (A)來自北京(39°N,118°E)的小紅
 (B)來自南非(34°S, 24E)的 Eric
 (C)來自雪梨(33°S,150°E)的 Mary
 (D)來自阿根廷(34°S,58°W)的 Tom。

※地理試題結束，請換頁繼續作答。

本試卷分地理、歷史、公民 3 個部份，請依序作答，並按照題號畫卡。
各部份題目配分及試卷頁數請參見說明，總分為 100 分。請謹慎作答。

班級： 座號：
姓名：

第 2 部份：歷史（17~33 題，每題 2 分，共 32 分，共二頁）

17. 世界各地有很多種歷史紀年方式，常見的方式有「西元」、「干支紀年」、「帝王紀年」、「民國紀年」。請問關於上述四種的歷史紀年方式，下列的敘述何者正確？

- (A) 「干支紀年」以君主在位年次作為紀年方式
- (B) 「帝王紀年」是中華民國頒布的紀年方式
- (C) 「民國紀年」以六十年作為一周期
- (D) 「西元」是以耶穌誕生年作為紀年的開始。

18. 請問史前時代與歷史時代以何者發明與否作為劃分的依據？(A)文字 (B)農業 (C)陶器 (D)鐵器。

19. 某一語系族群廣泛分布於太平洋島嶼，當此民族遷徙時，將可當織布材料的「構樹」雌株樹種攜帶到新的島嶼，以扦插方式種植。科學家發現臺灣構樹葉綠體 DNA 中含有特殊的 CP-17 基因型，而太平洋島嶼的構樹葉綠體也都帶有同樣的基因型，顯示太平洋島嶼構樹與臺灣構樹親緣關係十分接近，此研究提供了語言學所建立該語族「出臺灣說」一個論證的依據。請問：根據上文所述，指的是哪一語族？(A)閃米語族 (B)南島語族 (C)漢藏語族 (D)印歐語族。

20. 布農族的傳說中提及：「遠古時期曾有巨蛇堵塞溪水，使得洪水氾濫，族人只好到玉山頂避難。後來大螃蟹剪斷巨蛇身軀，族人才得以返家。」透過原住民的傳說故事，可理解其歷史。請問藉由原住民的傳說故事，無法解釋下列哪一現象？(A)原住民的起源與階級 (B)原住民的文字演變 (C)原住民的遷徙歷程 (D)原住民的早期的生活與文化。

21. 臺灣地區的原住民，依其主要生活區域的不同，可分為平埔族和高山族。其中有關平埔族的敘述，下列哪一項是正確的？(A)其漢化的時間較高山族稍晚 (B)早期生活在東部平原、丘陵一帶 (C)代表族群如西拉雅族、凱達格蘭族等 (D)與漢人接觸較早，因此能保有原有文化。

22. 臺灣原住民因著統治政權轉變而有不同的稱呼，如下：(甲)山地同胞與高山族 (乙)熟番與生番 (丙)原住民 (丁)平埔族與高砂族，請將以上名稱依出現的先後順序排列是？(A)丁乙甲丙 (B)丙甲乙丁 (C)乙丁甲丙 (D)甲乙丙丁。

23. 某部歷史書籍記載了漢人在臺灣、澎湖的活動，書中的內容會提到下列哪一種現象？

- (A)12 世紀時，已有漢人在臺灣活動
- (B)明朝為了防備日本海盜，實施渡臺禁令
- (C)因明代實施海禁，海商將據點從澎湖轉至臺灣
- (D)顏思齊、鄭芝龍曾招募漢人在雲林、嘉義開墾

24. 地理大發現後，歐洲人為了取得亞洲資源，循著新航路陸續東來，其中荷蘭人的根據地，位在附圖中何處？(A)甲 (B)乙 (C)丙 (D)丁。



25. 十六世紀起，歐洲人陸續來到東亞，將中國、日本、東南亞的特產商品運往世界各地，全球經濟貿易網開始成形。當時荷蘭占領臺灣，作為國際轉運站。請問：下列何者並非當時臺灣的特產商品？(A)茶葉 (B)稻米 (C)蔗糖 (D)鹿皮。

資料一：「甲國在呂宋的馬尼拉與北美洲的殖民地墨西哥之間每年有大帆船航行，進行貿易，從北美洲墨西哥運來的白銀換回中國的絲綢、瓷器等。其航路是從馬尼拉出發到呂宋島的北端，經巴士海峽沿台灣東岸，乘黑潮暖流北上駛往日本，再橫渡太平洋。」

資料二：有人上書甲國國王：「該島肥沃，處於中國和

日本的要衝，但缺乏港灣，僅在向日本的地方，島嶼北端有一港。港形良好而堅固，稱『雞籠』。若佔據此處建城堡並派兵三百名防守，駐砲兵，則足以抵禦日本人的攻擊。港口頗狹隘，港內廣闊而水深。」

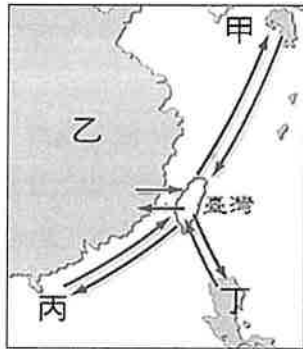
26. 請根據上述二則資料來判斷，甲國指的是？
(A)西班牙 (B)葡萄牙 (C) 荷蘭 (D)英國。

27. 附圖為鄭氏治臺時期的臺灣地名，請問這些地名的由來與下列何者有關？



(A)倭寇、海盜的勢力分布 (B)歐洲各方勢力在臺的據點 (C)統治者分派部將駐紮屯墾之地 (D)各路叛軍的割據地點。

28. 附圖是鄭氏時期對外貿易發展圖，依據所學的知識判斷，下列敘述何者正確？



(A)甲：日本，輸出鹿皮、砂糖；輸入香料、棉布 (B)乙：中國，輸入絲綢、瓷器；輸出稻米、香料 (C)丙：東南亞，輸入軍用品、棉布；輸出鹿皮、蔗糖 (D)丁：英國，輸入香料、軍用品；輸出絲綢、瓷器。

◆題組一：附圖一臺灣史前文化遺址的分布圖，請根據此圖，回答第 29-31 題。

29. 陳貞想要尋找臺灣史前時代的代表性文化，他只記得此文化特徵是「出土文物有中國的銅錢、南洋一帶的瑪瑙珠飾、玻璃珠飾等，其中最重要的是鐵渣的出土」。請問：小新應該到圖中的哪一區，才可以看到他想要參觀的文化遺址？ (A)甲 (B)乙 (C)丁 (D)戊。



圖一

30. 紘瑜在書中看到一段資料，描述如下：「考古學者研究臺灣某處史前文化遺址，發現遺址具有以下特色：範圍相當大，面積超過 30 萬平方公尺。不但聚落龐大，而且建築物成排分布，格局嚴謹，具社會組織的基本型態。遺址出土石板棺和陪葬的玉器，如人獸形狀的玉質耳飾，也是其重要特色。」

請問：小新要到圖中的哪一區，才能看得文中所指的遺址？ (A)甲 (B)乙 (C)丙 (D)戊。

31. 子賢在規畫他寒假的參觀行程時，如果想要按照臺灣史前時代代表性文化的時間先後順序，依序進行參觀活動，請問：在下列安排的活動中，哪一個才符合他的要求？ (A)甲乙丙丁戊 (B)丁乙丙戊甲 (C)丁丙乙戊甲 (D)戊丁乙丙甲。

◆題組二：國際競爭時期的臺江內海周圍，分布許多不同族群的聚落及殖民統治者所興建的市鎮，顯示各族群在此經營，使臺灣的文化豐富而多元。請根據附圖，回答第 32-33 題。

32. 附圖二是德成在翻閱歷史課本時，所發現的圖片。從圖中的訊息判斷，下列何者不是當時在當地活動的主要族群？ (A)原住民 (B)荷蘭人 (C)日本人 (D)西班牙人。



圖二

33. 請問何人由圖二中的鹿耳門水道進攻臺灣，先攻取丙城，再圍攻甲城？ (A)施琅 (B)鄭芝龍 (C)鄭成功 (D)鄭經。

※歷史試題結束，請換頁繼續作答。

本試卷分地理、歷史、公民 3 個部份，請依序作答，並按照題號畫卡。
各部份題目配分及試卷頁數請參見說明，總分為 100 分。請謹慎作答。

班級： 座號：
姓名：

第 3 部份：公民

34. 下列是四位網友在網路聊天室聊天的內容，若其中一人為我國國民，僅根據他們的敘述判斷，何者在聊天當時最可能具有中華民國國籍？【106 會考】
- (A) 小萍：「我的出生地是美國，不過現在在臺灣工作。」
(B) 小文：「等了 5 年，我下週將前往內政部申請歸化。」
(C) 小君：「我的父母都是日本人，但我在花蓮縣出生。」
(D) 小瑋：「我出生當天，父親正好當選嘉義縣縣議員。」
35. 歐媽媽為了投下神聖的一票，在總統大選前，他上網看新聞、查資料，比較各政黨總統候選人的政見。上述歐媽媽的行動，展現了何種現代公民德性？ (A) 遵守法律規範 (B) 理性思考批判 (C) 和平尊重包容 (D) 捍衛公平正義。
36. 下列關於「人權」與「人性尊嚴」的說法，何者正確？ (A) 人性尊嚴是人權保障的核心價值 (B) 犯罪的人沒有資格要求享有人權 (C) 人性尊嚴需要透過個人努力才能享有 (D) 制定法律就能讓人人獲得平等的尊重。
37. 國中生小蘭在放學途中，遭到他校學生性騷擾，小蘭可以依據哪一部法律請求協助？ (A) 《憲法》 (B) 《性別平等教育法》 (C) 《性別工作平等法》 (D) 《性騷擾防治法》。
38. 安安正在參加一場以「人性尊嚴」為主題的研討會，以下是四則研討會的報告題目，請問：哪一則題目「最不可能」出現在這場的研討會上？ (A) 人工智慧機器人(AD)的進展 (B) 平等尊重、公平對待 (C) 選擇的機會、行動的自由 (D) 我們要自己做自己的主人。
39. 人們因為性別對於男性或女性形成一種固定且僵化的看法，就會產生性別刻板印象。關於性別刻板印象的相關現象，下列敘述何者正確？ (A) 限制個人特質和才能的發展機會 (B) 有助個人選擇工作與加速社會發展 (C) 性別刻板印象的受害者一定是女生 (D) 性別刻板印象的影響不大，平常心面對即可。
40. 課文中介紹了「選舉」、「罷免」以及「公民投票」三種權利，下列關於這些權利的敘述，何者正確？ (A) 「選舉」是指民眾可以對重大議題，以投票方式表達贊成或反對 (B) 「公民投票」是指民眾可以對民選首長或民意代表投票，使其下臺負責 (C) 年滿 18 歲可以行使「公民投票」，「選舉」、「罷免」則要年滿 20 歲 (D) 世界各國對於行使選舉權的年齡規定，都是要年滿 20 歲。
41. 下列何種狀況，已經構成「歧視」？ (A) 朱爺爺認為女生一定喜歡洋娃娃，每次出國總會買不同的洋娃娃給孫女 (B) 小賢因為沒有帶課本，違反公民課上課規則，被老師要求站立反省並扣分 (C) 某國警察在臨檢有色人種時都會盤查很久且態度傲慢，遇到白種人就很客氣 (D) 身心障礙者阿傑可以向政府請領生活津貼，身心健全的小豪要申請卻遭到拒絕。
42. 相互尊重是良好人際互動的重要原則，也是現代社會應具備的公民德性。下列相關敘述，何者「錯誤」？ (A) 我們有權利表達我們的看法，但要尊重別人也有表達不同意見的權利 (B) 意見不同並非不好，反倒可以從對方的意見中，學習從不同角度看待事情 (C) 即使在討論時因為立場不同而有激烈辯論，但事後彼此還是能和平相處 (D) 只要表決前有充分討論，當然就是少數服從多數，不用在意少數人意見。
43. 「國民」涵蓋的範圍比「公民」廣泛，請問：「國民」與「公民」(狹義的)，兩者間的差異，是下列何者？ (A) 「國民」不用遵守法律，「公民」才要 (B) 「公民」享有參政權，「國民」不一定有 (C) 「國民」享有參政權，「公民」不一定有 (D) 「公民」才能享有人權，「國民」沒有。

※ 背面尚有試題，請翻頁繼續作答

44. 有不少國民在懷孕六、七個月後會特地到美國居住一段時間、在當地產檢及生產，但費用可不便宜，要新台幣 100 萬元起跳。請問：這些在美國出生的孩子，會具有哪些國籍？具有該國國籍的原因為何？請選出正確配對的選項。

選項	具有的國籍	具備該國國籍的原因
(A)	僅有我國國籍	媽媽是我國國民
(B)	僅有美國國籍	在美國出生， 但沒有提到爸爸是哪一國人
(C)	我國及美國	媽媽是我國國民、 並且在美國出生
(D)	我國及美國	媽媽是我國國民、 並且歸化取得美國國籍

45. 全球每年已有約 1200 萬宗童婚，其中 200 萬名女童在 15 歲前就被迫出嫁。童婚不僅剝奪了女孩的童年，更影響她們受教育、自主生活的權利，在她們的身體與心靈都還沒準備好之時，就被迫要為人妻、為人母。兒童新娘通常跟丈夫的年齡差距較大，導致權力失衡，容易被伴侶虐待、毆打。請問：站在人性尊嚴與人權保障的角度，下列敘述何者正確？

- (A) 未滿 15 歲的兒童思考還不周密，其父母有權替他決定婚姻
- (B) 政府應要求父母慎選小孩結婚的對象，才能保障兒童新娘的權利
- (C) 無論年齡幾歲，都應享有決定自己事務以及生活方式的權利
- (D) 「人性尊嚴」強調保障弱勢者，但有父母的兒童不屬於弱勢群體。

46. 某飯店禁止櫃檯的女服務人員上班時配戴眼鏡（男員工則無此限制），員工向市政府投訴。市政府調查後認定該飯店違法，開罰 10 萬元。依據上述，該飯店會被市政府開罰，是因為違反下列哪一部法律的規定？ (A)《憲法》 (B)《性別平等教育法》 (C)《性別工作平等法》 (D)《性別騷擾防治法》。

47. 西元 1955 年 12 月 1 日，一位黑人女子坐上美國蒙哥馬利市(Montgomery)的一輛公共汽車，當時公車前排設為白人座位，後排設為黑人座位，若白人沒位子坐，黑人必須起身讓座，但該名黑人女子拒絕讓座，竟遭到逮捕。這起事件激起當地黑人的憤

怒，他們抗議公車上施行隔離政策，而發起抵制搭乘的運動。上述運動主要是展現何項人性尊嚴的精神？ (A)政府應該保障弱勢群體生存的權利 (B)人人都應享有受到平等尊重的權利 (C)社會應提供個人不受限制的自由權 (D)國家應制定法律、政策維護人性尊嚴。

48. 下列何國的作法最符合「人性尊嚴」的保障？

(A)某國政府針對低收入戶提供生活津貼補助，並提供醫療相關補助 (B)某國政府為了維持社會秩序，限制外籍移工的居住以及移動自由 (C)某國政府刪減身心障礙者社會福利的補助，以避免國家財政惡化 (D)某國政府限制伊斯蘭教徒在公共場所穿著傳統服飾，以促進族群融合。

49. 「台灣移工聯盟」自 2003 年起，每兩年舉辦一次大遊行，與在台移工一同上街，針對當下的移工政策提出訴求、爭取對移工更合理的勞動環境。(備註：移工是指來台工作的外籍人士)。請問：台灣人發起「台灣移工聯盟」，為移工爭取合理工作權益，這個聯盟的成員，發揮了哪些現代公民應有的德性？ (A)遵守法律規範、捍衛公平正義 (B)理性思考批判、參與公共事務 (C)和平尊重包容、理性思考批判 (D)參與公共事務、捍衛公平正義。

50. 25 歲的越南移工阮小美，到台灣工作半年了，某日跟同事聊天時，聽到台灣將在 12 月舉辦公民投票。阮小美聽了之後很感興趣，表示她也要去投票，同事卻告訴小美，她沒有投票權，不能投票。請問：阮小美不能參與公民投票，是由於下列何種因素？ (A)小美還沒達到法定年齡 (B)我國法律歧視越南人 (C)小美不具備我國國籍 (D)小美沒有繳稅給我國。

110 學年度第一學期七年級第一次段考社會領域試題答案

答案：(1~16 題地理；17~33 題歷史；34~50 題公民)

1	2	3	4	5	6	7	8	9	10
B	D	C	A	D	B	A	B	D	C
11	12	13	14	15	16	17	18	19	20
D	A	C	B	C	A	D	A	B	B
21	22	23	24	25	26	27	28	29	30
C	C	D	D	A	A	C	B	A	D
31	32	33	34	35	36	37	38	39	40
B	D	C	D	B	A	B	A	A	C
41	42	43	44	45	46	47	48	49	50
C	D	B	C	C	C	B	A	D	C

