

本試卷分地理、歷史、公民 3 個部份，請依序作答，並按照題號畫卡。
各部份題目配分及試卷頁數請參見說明，總分為 100 分。請謹慎作答。

班級： 座號：
姓名：


第 1 部份：地理（共 16 題，每題 2 分，共 2 頁）

我國政府於 105 年提出「新南向政策」，計畫從「經貿合作」、「人才交流」、「資源共享」與「區域鏈結」四大面向著手，與東協、南亞及紐澳等國家，創造互利共贏的新合作模式，建立「經濟共同體意識」。本試題以「新南向政策」為主軸，分為不同面向，檢視同學們對我國新南向夥伴國家的認識。

◎位置

1. 下圖為「新南向國家」合作範圍示意圖，請問臺灣位於圖中何處？

- (A)甲 (B)乙 (C)丙 (D)丁。



2. 東協的成員國家數量眾多，且有共同的歷史發展經驗，成員間從共同抵禦外侮到團結發展經濟，請問下列何國屬於東協的成員？

- (A)臺灣 (B)緬甸 (C)澳洲 (D)印度。

◎自然環境

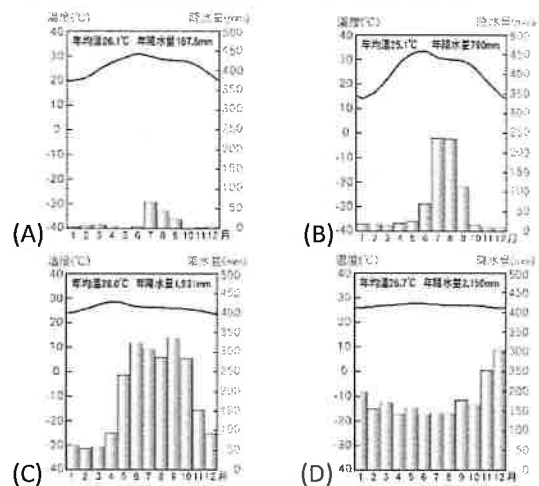
3. 臺灣位居環太平洋地震帶，也處於西北太平洋地區颱風侵襲的主要路徑上，因此，世界銀行的報告指出臺灣同時暴露於兩項以上天然災害之土地面積與面臨災害威脅之人口為 99%，屬於全世界高災害風險的地區。臺灣的新南向國家中，那一國與臺灣同樣同時深受地震與颱風的威脅？

- (A)印尼 (B)越南 (C)紐西蘭 (D)菲律賓。

4. 印度半島的氣候特徵在全球獨樹一格，當地 11 月至隔年 2 月涼爽舒適，有別於其他地區的寒冷冬季而將其稱為「涼季」，請問印度半島 11 月至隔年 2 月的氣候與鄰近的中南半島最主要的差異是由於當地擁有何種地理要素？

- (A)緯度較低 (B)高山屏障
(C)海洋調節 (D)地勢低窪。

5. 東南亞氣候溼熱，天然物產豐饒，糧食供應無虞，大部分國家人口眾多；其中人口最多的國家-印尼人口總數僅次於中國、印度、美國居世界第 4 位，請問下列哪一張氣候圖最符合印尼的氣候特徵？



6. 呈上題，造成印尼氣候溼熱的降水，主要是來自下列何種類型的降水？

- (A) (B) (C) (D)



◎新南向政策中「農業資源共享」計畫的內涵包含：

- 農業行銷與合作-協助東協及南亞農產品與臺灣食品加工技術合作，創造產業升級
- 糧食安全合作-與東協及南亞國家洽談農企業合作開發，確保我國糧食安全

7.若由南亞提供當地生產的農產原料，與臺灣食品工廠的加工技術合作，則以下列哪項農產在南亞的產量較高，最適合進行上述行銷與合作？

- (A)香蕉 (B)咖啡 (C)紅茶 (D)棉花。

8.臺灣與東協國家進行「企業合作開發糧食作物」，若以作物的生長環境為優先考量，下列哪一項作物最適合臺灣及東協合作開發生產？

- (A)小麥 (B)水稻 (C)黃麻 (D)油棕。

◎各國語言、文化、消費者偏好、政治體制與經濟發展程度差異極大，在某一個國家的經驗無法套用在其他國家，是新南向政策須因應的課題之一。

9.我國新南向國家夥伴中，某國階級嚴明的傳統社會結構，影響當地的社會經濟狀況，考量到臺灣及該國間的社會語言、文化的差異性相當大，因此雙方的合作策略更應審慎評估。請問：此新南向國家指的是下列何者？

- (A)印度 (B)越南 (C)菲律賓 (D)馬來西亞。

10.各種文內涵化當中，飲食習慣深切地影響我們每天的生活，臺灣傳統社會由於在情感上認為牛是幫忙犁田者，乃不忍食之；而在哪個國家則是視牛為神聖的動物，因此不得做為食用之途，而有不吃牛肉的飲食習慣？

- (A)泰國 (B)越南 (C)印度 (D)印尼。

◎「成立臺灣清真推廣中心」也是我國新南向政策的配套方案之一。「清真」泛指一切受伊斯蘭教規範的言語、行為、衣著。信仰伊斯蘭教的「穆斯林」在飲食、生活均須遵循信仰上的規範，採用經「清真」認證之產品，因此，推動在臺灣取得清真產品的便利性，為居住在臺灣的穆斯林創造一個溫馨、友善的生活環境。



11.「居住在臺灣的穆斯林」最可能來自下列哪一個新南向國家？

- (A)越南 (B)印尼 (C)泰國 (D)沙烏地阿拉伯。


◎東協及南亞人口結構年輕，中產階級大量興起，內需消費力龐大，於未來數年經濟成長率將高於全球。

12.東南亞近年在全球經濟分工體系中，逐漸取代中國成為「世界工廠」的主要原因為何？

- (A)經濟成長率高 (B)人口數量眾多
(C)內需市場廣大 (D)低廉勞動力充足。

13.由此可見跨國企業為了提高利潤，因此多將工廠的何種部門設置於東南亞？

- (A)加工製造 (B)技術研發
(C)產品行銷 (D)基礎建設。



◎右圖的雙子星塔是由馬來西亞負責礦產資源開發的國營企業打造的塔樓，樓高 452M，於 1998 年落成時曾是世界最高的摩天大樓，直至西元 2004 年被臺北 101 超越。此國營企業的收益包含資源開發、生產，下游產品的營銷、相關資產投資等，而與此企業習習觀的礦產資源與該國所在位置的淺海沉積地層關係密切，請問：

14.打造馬來西亞雙子星塔的企業，與該國蘊藏的何種礦產資源關係最密切？

- (A)煤 (B)鐵 (C)錫 (D)石油。

◎近日來印度因 COVID-19 疫情大流行，成為全球矚目的焦點。而印度是目前全球成長最快的新興經濟體之一，也是近年歐美企業在海外發展業務的首選。

15.近年歐美企業在印度設置的業務部門主要為下列何者？

- (A)產品行銷 (B)技術研發
(C)軟體設計 (D)加工製造。

16.俗話說「團結力量大」，近年來國與國間的區域結盟，儼然成為一種趨勢，面對中國在經濟上的崛起及「一帶一路」的勢力擴張，美國在我國的新南向夥伴國家提出下列何種結盟方式來與中國抗衡？

- (A)印太戰略 (B)不結盟運動
(C)亞太經濟合作會議
(D)區域全面經濟夥伴協定。

【請繼續換頁作答】

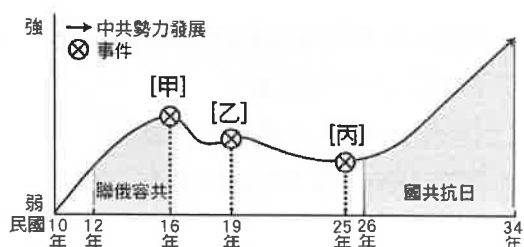
臺北市立萬芳高級中學國中部 109 學年度第 2 學期社會領域八年級第 2 次定期評量試卷

本試卷分地理、歷史、公民 3 個部份，請依序作答，並按照題號畫卡。
各部份題目配分及試卷頁數請參見說明，總分為 100 分。請謹慎作答。

班級： 座號：
姓名：

第 2 部份：歷史（共 17 題，每題 2 分，共 2 頁）

17. 下圖是中國國民黨與中國共產黨的分合示意圖，兩黨的發展影響著現代中國的歷史走向：



請問以下選項中對於圖表內容的說明，何者正確？

- (A) 圖中的甲事件使得中共勢力縮減，應是代表國民政府開始大規模軍事剿共的行動 (B) 圖中的乙事件使中共勢力微升又降，應是中國國民黨清黨分共的行動使然 (C) 圖中的丙事件，使中共的勢力止跌反彈，應是中日戰爭全面開打的緣故 (D) 圖中的丙事件造成中共勢力向上發展，應是震驚中國各界的西安事變。

18. 報章雜誌是近代以來十分重要的大眾傳播媒體，其中對於新聞時事的報導與評論，更是具有提供當時社會觀點的重要意義，例如以下幾則新聞頭條與論文標題：

【標題 1】「張學良率部叛變！國府下令褫職嚴辦」

【標題 2】「蔣主席昨晤毛澤東 國共談話記錄簽字」

【標題 3】「望國民鎮靜以救國難！日軍於昨晨突佔瀋陽，同時佔領長春營口安東。瀋陽損失重大、長春死傷眾多。我軍全未抵抗，中央已提抗議」

【標題 4】「我們什麼時候才可有憲法？對於〈建國大綱〉的疑問：為什麼訓政時期不可以有憲法？為什麼憲法之下不能訓政？」

請問，就以上 4 個標題所報導的主題，按照各自針對的事件，若按照先後順序排列，下列何者正確？

- (A) 標題 4→標題 3→標題 1→標題 2
(B) 標題 4→標題 3→標題 2→標題 1
(C) 標題 3→標題 4→標題 1→標題 2
(D) 標題 2→標題 1→標題 3→標題 4。
19. 在某本以近現代中國為背景的小說中寫到：「最近，國家開始實施新政策，由政府指定中央、交通、中國這幾家銀行發行法幣。我想，此政策若真能好好實行，改善

過去幣制混亂的情況，買賣交易就比較好做了。」這段話所呈現的最可能是中國處於下列何種局勢下的情況？

- (A) 清末政府經歷庚子拳亂八國聯軍之後，政府陸續推行的新政之一 (B) 中華民國創立之初，政府收繳民間銀兩重新鑄造統一貨幣 (C) 北伐統一中國後，國民政府致力於基礎建設、統一制度，提升國家整體實力 (D) 因應中日戰爭全面開戰，透過發行法幣將有助於國家財政的有效運用。

20. 下圖是一幅宣傳海報，此宣傳海報最早可能在下列何時何地傳布？



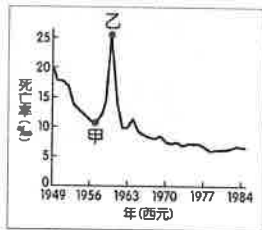
- (A) 1919~1930 年的臺北 (B) 1932~1945 年的瀋陽
(C) 1941~1945 年的重慶 (D) 1945~1949 年的瀋陽。
21. 一九三〇年代日本的軍國主義昂揚，促使該國積極以軍事力量展開對外擴張行動。下列何者可能是造成日本軍國主義高漲的原因之一？(A) 全球性經濟危機，使日本經濟面臨嚴重困境 (B) 中國日益強大，威脅日本在東亞的領導地位 (C) 日本開始推行改革維新，力圖脫亞入歐 (D) 共產主義興盛，日本朝野一致投入共產革命。
22. 美國總統羅斯福曾發表一篇演說，當中提到：「昨天，西元 1941 年 12 月 7 日，美利堅合眾國遭到了日本帝國海空軍預謀的突然襲擊。美國當時與日本處於和平的狀態，而且應日本的請求，與其政府進行對話，希望維持太平洋的和平。.....不論要用多長的時間才能戰勝這次預謀的侵略，美國人民與正義之師必將贏得澈底勝利。.....」羅斯福發表此演說的背景為何？
- (A) 日軍攻入南京，殘殺軍民行為缺乏正義
(B) 日本成功占領臺灣，阻礙美國勢力擴張
(C) 日本攻擊珍珠港，破壞太平洋地區和平
(D) 日本終止美國石油進口，引發商貿衝突。

23. 「國民政府宣布將遷都□□，以西南各省做為抗戰大後方，並利用中國廣土眾民的條件，制定長期抗戰方針。」請問：□□是指哪一個都市？(A) 南京 (B) 成都 (C) 重慶 (D) 北平。

24. 下文為民國 22 年 7 月 30 日，上海申報的文章：「我國由農本主義，一轉而為工業之國；然我國之工業化，對於技術與資產，今日已不成問題，唯一的障礙即缺乏原料。蓋我國產的重要工業原料，除生絲外，均感不足。今欲求原料供給於安全地帶，全賴亞洲大陸，就中滿蒙之於我國所以稱為生命線者；由國防方面言之，適當皇道宣揚之要衝；他如人口食糧問題、工業原料問題、物業市場問題等經濟問題，在在與我國存亡相關。換言之，平時為解決國內問題之地域，戰時為供給帝國資源不足之地域是也。」請問，此篇報導中的「我國」是應為下列何者？(A) 日本 (B) 蘇聯 (C) 英國 (D) 美國。

25. 承上題，就此文章的內容與發表時間而言，該國最後於何處獲得報導中的「平時為解決國內問題之地域，戰時為供給帝國資源不足之地域」？(A) 朝鮮 (B) 臺灣 (C) 蒙古 (D) 滿洲國。

26. 右圖是參考某段期間中國人口死亡率估算值而繪製的曲線圖，圖中甲、乙二點之間死亡率的變化，最可能與下列



何者有關？(A) 抗日戰爭進入最後階段，面對日本的強力進攻與轟炸，造成大量國人死亡 (B) 國共內戰進入最後決戰時刻，造成無辜民眾死於戰火之中 (C) 人民響應抗美援朝，參與韓戰而造成傷亡慘重 (D) 大躍進運動期間，政策失當所導致的嚴重饑荒。

27. 中日戰爭期間，有鑑於中國資源、人力雖具優勢，但軍事實力卻不如日本，國民政府於是採取何種戰略以謀求勝利？(A) 以時間換取空間 (B) 以空間換取時間 (C) 速戰速決 (D) 共產革命。

28. 有位中國老農夫回憶：「當時人人將鍋、鏟全丟進煉鐵爐燒煉。因為上級交代蓋一條用來運鋼的道路，所以只好將墓塚石頭拿去墊路基，但我們一直沒有煉出夠多的數量，讓卡車來載運。」請問上述情況最可能發生在哪一時期的中國？(A) 1930 年代 (B) 1950 年代 (C) 1970 年代 (D) 1990 年代。

29. 承上題，當時的中國正值以下哪個時期？
(A) 剿共戰爭 (B) 中日八年戰爭

(C) 大躍進運動 (D) 國共內戰。

30. 萬萬在歷史地圖集中找到一張路線圖，如下圖：



根據這張地圖所能判讀出的歷史事件，關於其發生背景的解讀，下列何者正確？

(甲) 國民政府處於以黨治國的訓政時期

(乙) 日本在山東成立滿洲國，蠶食中國

(丙) 蔣中正採取「攘外必先安內」的策略

(丁) 中共號召各界不分政治傾向共同聯合一致抗日

(A) 甲乙丙丁 (B) 甲乙丙 (C) 甲丙丁 (D) 乙丙丁。

31. 《中華民國憲法》一直到抗戰結束後，才正式制定出來，並於民國 36 年 12 月 25 日開始施行。請問：行憲後的第一任總統是下列何人？(A) 孫中山 (B) 袁世凱 (C) 蔣中正 (D) 宋教仁。

32. 國共內戰初期，國民政府在軍力上擁有優勢，但最後卻遭遇致命的失敗，最終撤退來臺。請問國民政府節節失利的原因，下列何者為非？(A) 部份官員貪汙腐敗 (B) 通貨膨脹嚴重 (C) 蘇聯援助中共 (D) 英國調停失敗。

33. 在中華人民共和國成立後，即由中國共產黨一黨專政至今未曾改變。有關中共建國初期對內方面的施政，下列敘述何者有誤？(A) 沒收地主土地，重新分配給貧農 (B) 透過公私合營的政策，逐步將民間企業收歸國有 (C) 透過批鬥運動，控制知識份子的言論與思想 (D) 設立經濟特區，開放外商投資，壯大國家資本。

歷史試題結束，請換頁繼續作答

本試卷分地理、歷史、公民 3 個部份，請依序作答，並按照題號畫卡。
各部份題目配分及試卷頁數請參見說明，總分為 100 分。請謹慎作答。

班級： 座號：
姓名：

第 3 部份：公民

34. 下列哪些對象為聯合國兒童權利公約所宣示保護的對象？(甲)未滿 1 歲的小花 (乙) 6 歲剛進小學就讀的阿威 (丙) 11 歲就讀小五的小武 (丁) 14 歲的國二生小祐 (戊) 未滿 17 歲已在就業的阿進 (己) 剛滿 18 歲的高三生大雄。正確的是 (A) 甲乙丙 (B) 甲乙丙丁 (C) 乙丙丁己 (D) 甲乙丙丁戊。

35. 散播有關傳染病流行疫情之謠言或不實訊息，足生損害於公眾或他人者，依傳染病防治法規定，最高可科以新台幣三百萬元之罰金。

請根據上圖的政府宣導資料，判斷散播傳染病疫情不實訊息須負的法律責任，與下列何者相同？

- (A) 阿松出門買飯，讓五歲的兒子單獨在家
(B) 益仁喝醉酒後，把老婆打得鼻青臉腫
(C) 小瑛貪圖方便，把車停在紅線禁停區
(D) 漫畫店老闆將限制級漫畫租給國中生。
36. 只有國家才有權力對人民施予刑罰。下列關於「刑罰」的相關敘述，何者正確？(A) 當人民做出違法的行為，國家就可以動用刑罰加以處分 (B) 只有在其他法律仍無法維持社會公平正義時，才會動用刑罰 (C) 刑罰的處分夠嚴厲，就能有效矯正不良的犯罪行為 (D) 我國已經廢除死刑，所以刑罰已經無法有效嚇阻犯罪。
37. 艾倫因為交友複雜染上吸毒惡習並且成癮，為了有錢花用，還販賣毒品，後來被警方查獲，也遭到刑罰制裁。請問：艾倫受到的處罰方式，「不包括」下列何者？(A) 勒令歇業 (B) 強制勒戒 (C) 有期徒刑 (D) 沒收毒品。
38. 與遏止酒後駕駛有關的法律，最早訂於道路交通管理處罰條例；西元 1999 年為了加重嚇阻效果，將酒駕行為增訂於刑法第 185 條公共危險罪，規定「駕駛吐氣所含酒精濃度達每公升 0.55 毫克」得處以刑罰。小明曾在 1998 年酒駕遭到臨檢，當時

測得酒精濃度達每公升 0.7 毫克。請問：當 1999 年修改刑法後，國家能否追究小明在 1998 年的酒駕行為？你又是依據何種概念作出的判斷？

- (A) 能，權責相符原則 (B) 能，依法行政原則
(C) 不能，罪刑法定原則 (D) 不能，不知者無罪。

39. 「褫奪公權」是刑罰的一種，下列關於「褫奪公權」的敘述，正確的是？(甲) 褫奪公權是剝奪其參選以及擔任公務員的資格 (乙) 褫奪公權是可以獨立科處的刑罰 (丙) 褫奪公權須經由法院判決才可實施 (丁) 受褫奪公權者，不能行使投票權。正確的是 (A) 甲乙 (B) 丙丁 (C) 甲丙 (D) 乙丁。

40. 我國的監獄會針對受刑人開辦技職課程，讓受刑人可以在服刑期間習得一技之長，也有些受刑人在獄方協助下修習空中大學的課程。這些措施都是希望他們服刑期滿出獄後，能儘速展開新的生活，進而對社會有所貢獻。上述措施的目的是發揮哪一種功能？(A) 修復犯罪，讓受刑人彌補犯罪行為造成的傷害 (B) 懲罰犯罪，讓受刑人為其犯罪行為付出代價 (C) 嚇阻犯罪，讓潛在的犯罪者不敢以身試法 (D) 矯正犯罪行為，教化受刑人減少其再犯可能。

41. 小健為了報復小興搶走他的女朋友，所以找了朋友圍毆小興，被打到鼻青臉腫的小興報警處理，後來小健也因此受到刑罰制裁。請問：小健會被處以下列何種刑罰？(A) 拘役 (B) 賠償 (C) 拘留 (D) 罰鍰。

42. 君君聽媽媽說，小強表哥因為做了犯罪行為，遭到檢察官起訴。君君回想小強表哥平日的所作所為，推論表哥這次闖禍的行為，應該是下列何者

- (A) 半夜喝酒在家裡鬼吼鬼叫
(B) 在網路辱罵看不順眼的人
(C) 騎乘機車經常不戴安全帽
(D) 逃漏所得稅被國稅局查獲。

請翻頁繼續作答

43. 幸福國中八年九班上課時，老師請學生分組，回想日常生活中的現象以及相關的法律，並填寫於學習單中。下表是第一組同學填寫的狀況。根據表格，四名同學填寫的現象與法律的配對，正確的是？
(A)平平 (B)安安 (C)小喜 (D)大樂。

學生姓名	生活中的現象	相關法律
平平	父母須扶養未成年子女	刑法
安安	與未滿十八歲者從事性交易，須負刑事責任	勞動基準法
小喜	政府增設青少年育樂中心	兒童及少年福利與權益保障法
大樂	目睹家暴的兒少也能申請核發保護令	社會秩序維護法

44. 荳荳到便利商店應徵暑期工讀生，店長卻告訴她，她還不到法定年齡，依法不得僱用。請問：依據我國【甲】的規定，雇主不得僱用未滿【乙】歲者。請問：甲、乙分別是下列何者？
(A)勞動基準法，15 歲
(B)勞動基準法，16 歲
(C)兒童及少年福利與權益保障法，15 歲
(D)兒童及少年福利與權益保障法，16 歲。
45. 屬於童工身分的維維找到在速食店打工的機會，請問：維維跟速食店談好的工作條件中，哪一項是「違法」的？ (A)須經過法定代理人同意，才能獲得僱用 (B)每天排班工作 6-8 小時，每週排班時數上限 40 小時 (C)因為具備童工身分，晚上 8 點即不得排班工作 (D)假日人手不足，若可配合公司加班，時薪雙倍。
46. 志豪利用暑假到飲料店打工，半個月後因故離職，原本應領到的 20,000 元薪水，卻只領到 8,000 元，老闆聲稱教育訓練花費 8,000 元、補聘額外人力費用 4,000 元，須從打工薪水中扣除。志豪認為不合理，特地到勞工局詢問相關規定，並請勞工局處理此項勞資爭議。從志豪的例子可以驗證下列哪些說法？ (甲)了解法律規定，有助維護個人權益 (乙)個人權益受損，可動用私刑討回公道 (丙)學習法律知識，避免因為無知而受罰 (丁)覺察權益受損，可積極尋求管道協助。
正確的是 (A)甲乙 (B)丙丁 (C)乙丙 (D)甲丁。

右側尚有試題，請繼續作答

題組(一)

新聞報導：韓國爆發一起震驚社會的犯罪事件，主嫌在網路上透過網路交友的手段，設局拐騙、強迫被害女性拍攝猥褻、性侵害等影片，再將影片放置於社群網站，招募會員付費觀看。被害人包含十六名未滿 18 歲的少女。

47. 請問：此事件如果發生在我國，法院將依據下列何部法律進行處理及處罰？
(A)勞動基準法
(B)社會秩序維護法
(C)兒童及少年福利與權益保障法
(D)兒童及少年性剝削防制條例。
48. 某談話性節目邀請來賓根據我國的法律角度討論此事件，下列何人提出的看法「不正確」？
(A)來賓甲：對身心受創的兒少將提供心理輔導
(B)來賓乙：法律的罰則太輕，主嫌只會受到行政罰
(C)來賓丙：網路陷阱多，上網時要懂得自我保護
(D)來賓丁：民眾發現疑似狀況都可以撥打 113 專線通報。

題組(二)

小如要編寫法治教育戲劇的劇本，劇情中寫到「17 歲的吳寮經常和朋友到夜店喝酒狂歡到深夜，吳寮的父母雖然知道，卻無力管教。某日警方臨檢夜店，再次查獲吳寮在場，決定移送相關單位處理.....」。

49. 請問：小如在編寫此段劇情時，須查閱哪一部法律才能符合我國現況？
(A)刑法
(B)社會秩序維護法
(C)兒童及少年福利與權益保障法
(D)兒童及少年性剝削防制條例。
50. 依據我國法律規定，劇情後續會如何發展？
(A)吳寮的父母、夜店老闆都被處以罰鍰
(B)吳寮的父母、夜店老闆都被處以罰金。
(C)吳寮因為出入夜店、喝酒而被處以罰鍰
(D)吳寮因為出入夜店、喝酒而被處以罰金

萬芳高中國中部 109 學年度第 2 學期社會領域

八年級第 2 次定期評量試題解答

1	C	2	B	3	D	4	B	5	D
6	A	7	C	8	B	9	A	10	C
11	B	12	D	13	A	14	D	15	C
16	A	17	D	18	A	19	C	20	B
21	A	22	C	23	C	24	A	25	D
26	D	27	B	28	B	29	C	30	C
31	C	32	D	33	D	34	D	35	B
36	B	37	A	38	C	39	C	40	D
41	A	42	B	43	C	44	A	45	D
46	D	47	D	48	B	49	C	50	A

