

本試卷分地理、歷史、公民 3 個部份，請依序作答，並按照題號畫卡。
各部份題目配分及試卷頁數請參見說明，總分為 100 分。請謹慎作答。

班級： _____ 座號： _____
姓名： _____

第 1 部份：地理（共 16 題，每題 2 分，共 2 頁）

★圖 1-1 為非洲地形圖(甲和丙為地理區、乙及丁為河流)



圖 1-1

- 請問下列針對各地區敘述何者『有誤』？
(A)甲區內的撒哈拉沙漠，是非洲人文的分界線
(B)乙河上游流經熱帶雨林氣候，夏季帶來沃土
(C)丙區因斷層陷落形成裂谷帶及湖泊
(D)丁河的流量與流域面積居世界第二
- 圖 1-2 為非洲的氣候分區圖，下列關於非洲氣候區的描述何者正確？
(A)「甲」區的乾燥氣候和加那利涼流經過有關
(B)「乙」區其降雨類型主要為地形雨
(C)「丁」區主要經濟作物為咖啡、可可
(D)「戊」區因位處低緯導致高溫炎熱
- 南非開普敦是世界最美的城市之一，除了知名的桌山之外，還有許多美麗的自然景觀，像是世界上最美海景公路之一的查普曼公路及具有歷史意義的好望角、還有唯一生長在非洲的黑腳企鵝等等…。而開普敦位於非洲最宜人的氣

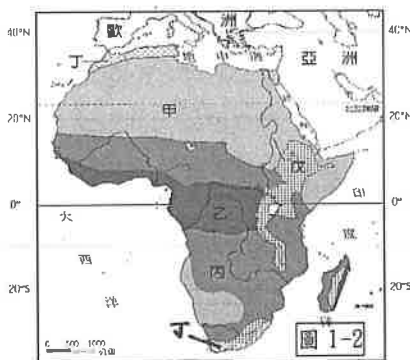
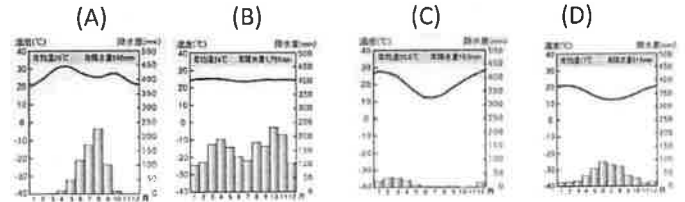


圖 1-2

候區內，請問其氣候圖為下列何者？



- 南非共和國是非洲經濟發展較好的國家，各項指數都位居非洲前列，除此之外，它還是世界上唯一一個同時存在 3 個法定首都的國家。請問下列對於南非共和國的描述何項『有誤』？
(A)盛產鑽石和黃金等貴重金屬礦產(B)因曾實施種族隔離政策導致貧富差距懸殊(C)地形以高原為主(D)境內喀拉哈里沙漠主因涼流經過而形成
- 在非洲有一種傳統農業，是農民先焚燒森林以取得土地，利用焚燒後的灰燼作為農地的天然肥料，種植作物收成、土壤的地力消失之後，就會遷移到其他地方再次進行同樣的步驟來耕作。請問圖 1-3 中何地的氣候條件最適合此傳統農業的發展？ (A)甲(B)乙(C)丙(D)丁
- 亞斯文高壩興建完成後為埃及帶來極大的變化，其主要影響層面『不』包括下列何者？
(A)河口輸沙量減少，河口三角洲面積縮減
(B)河水量得以調節，增加灌溉面積及產量
(C)水庫流量穩定，可減緩下游土壤鹽鹼化
(D)土壤沃土減少，須休耕及仰賴大量肥料
- 歐洲列強殖民非洲後，造成非洲經濟及環境上深遠的影響，請問下列敘述何者『有誤』？(A)奈及利亞、阿爾及利亞、利比亞均是非洲主要的產油國家(B)因不斷擴建耕地種植糧食作物，導致土壤侵蝕(C)單一經濟型態易受國際市場影響(D)因歐洲勢力劃分導致後來非洲國家內亂




圖 1-3

8. 「這一個地區在殖民時期因灌溉設施的興建及海外市場的需求，大量栽培葡萄並釀成葡萄酒輸出到國外，但是因為當地宗教信仰的關係，這裡的居民雖然製酒卻不喝酒」請問上述地理區最可能位於下列哪一個國家？(A)東非肯亞(B)北非摩洛哥(C)南非安哥拉(D)西非奈及利亞。

9. 大洋洲分成三大島群，分布如圖 1-4 所示。請問下列有關圖中各區的說明，哪一個敘述是正確的？



圖 1-4

- (A)甲區以珊瑚礁島為主，主要發展農業
- (B)乙區意為『黑人島』，季節月份與台灣相同
- (C)丙區的吐瓦魯因全球暖化，國土有淹沒危機
- (D)紐西蘭為玻里尼西亞島群，屬於乙區島群

★圖 1-5 為澳洲氣候圖。請回答第 10~11 題

10. 澳洲地廣人稀，面積為世界第六大，人口卻僅與臺灣差不多，主因各地自然環境差異大，導致人口分布不均。請問人口最密集地區主要是位於圖 1-5 中的何氣候區？(A)甲(B)乙(C)丙(D)丁

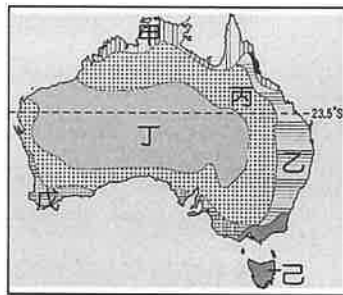


圖 1-5

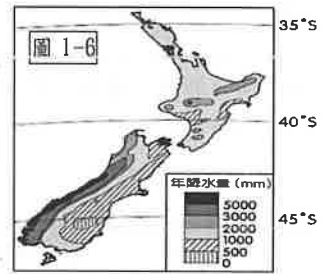
11. 右邊照片為澳洲艾爾斯岩，是原住民的聖山，目前已全面禁止攀爬。請問關於此景點的敘述何者『有誤』？(A)此區氣候成因是副熱帶高壓壟罩及位於西風的背風側(B)位於丁氣候區內(C)此景點位於西部高原區(D)屬於岩漠地形



12. 關於澳洲和紐西蘭產業發展特色比較，下列敘述何項『有誤』？

- (A)兩國皆利用豐富的自然景觀，發展觀光業
- (B)皆屬於粗放型畜牧活動，是羊毛和乳製品的重要出口國
- (C)皆屬於古老陸塊，故礦產豐富
- (D)兩國皆多將經濟重心轉向亞洲，積極加入亞太組織

13. 圖 1-6 是紐西蘭的年降水量分布圖，請問圖中降水量的分布特色與下列何項敘述較相關？



- (A)影響紐西蘭的人口分布
- (B)導致主要生產不易腐壞的農產品
- (C)受西風及山脈走向所影響
- (D)促使集約型農業多分布於西部

14. 紐西蘭有「活的地形教室」之稱，若小佳到紐西蘭旅遊，她將有可能體驗下列哪些行程？

- (甲)探訪熱帶雨林風貌
 - (乙)搭船航行於峽灣海域
 - (丙)優游於珊瑚礁魚群之中
 - (丁)參訪壯闊的火山地形
- (A)甲丙 (B)甲丁 (C)乙丙 (D)乙丁

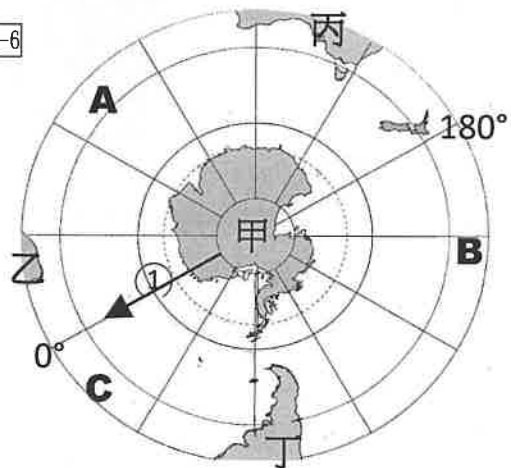
15. 下列關於南、北極地區項目比較的敘述，何者正確？

地區	(A) 平均氣溫	(B)經濟活動	(C)原住民	(D)問題
北極	較低	開採石油	因紐特人	航運安全
南極	較高	漁獵維生	毛利人	臭氧層破洞

16. 圖 1-6 為南極位置圖(甲~丁為洲名，A~C 為大洋)。請問下列敘述何者『有誤』？

- (A)A 是太平洋，B 是大西洋
- (B)乙是非洲，丙是大洋洲
- (C)由①方向前進英國，是向北方前進
- (D)甲區主權不屬於任何國家

圖 1-6



※地理試題結束，請換頁繼續作答。

本試卷分地理、歷史、公民 3 個部份，請依序作答，並按照題號畫卡。
各部份題目配分及試卷頁數請參見說明，總分為 100 分。請謹慎作答。

班級： 座號：
姓名：

第 2 部份：歷史（17~33 題，每題 2 分，共 34 分，共二頁）

17. 居禮夫人是首位獲得諾貝爾獎的女性，也是巴黎大學第一位女教授，她曾被評為「最鼓舞人心的女性科學家」。請問：居禮夫人的貢獻主要為何？

- (A)認為人有潛意識 (B)發現放射性元素 (C)寫出《戰地春夢》 (D)提出相對論。

18. 十六世紀歐洲出現舊帝國主義，到了十九世紀末則發展出新帝國主義。這種「新」與「舊」的差異，主要是因為新帝國主義顯現出哪一種特色？

- (A)以民族自決為號召 (B)以海外探險為目標
(C)以孤立主義為手段 (D)以工業革命為後盾。

19. 右圖呈現日本對外的關係轉變情況，此轉變情況最可能說明下列何者？

- (A)大化革新的推動
(B)幕府時代的開始
(C)大政奉還的結果
(D)鎖國時期的結束。

在所有國家中，僅中、荷兩國船隻可以停泊長崎，並於此地貿易。

允許美國船停泊函館、下田兩港，以便補給柴薪、飲水、食物、煤以及其他需用物品，且可在這兩地交易。

20. 附圖為 19 世紀的一份外交聲明，此聲明有助當時拉丁美洲擺脫殖民母國而獨立，但也因此讓美國逐漸控制美洲其他國家。請問：上述的殖民母國主要為下列哪兩國？ (A)英國、美國 (B)西班牙、葡萄牙 (C)奧地利、法國 (D)丹麥、奧地利。

歐洲國家如果進一步對美洲的土地進行殖民，對其政權進行干預，都將視為侵略行為，都將需要美國介入。同時聲明，美國不干預現存的歐洲殖民地，也不會參與歐洲國家內部事務。

21. 維也納會議後，義大利境內仍呈現分裂的狀態，如右圖。請問：下列敘述何者正確？


- (A)甲受到奧地利的控制
(B)乙仍受法國的控制



(C)丙為領導義大利統一的核心國家

(D)丁後為加里波底所征服。

22. 19 世紀中期以後，因為歐洲各國逐漸邁向工業化，卻也產生不少社會問題，不少作家關注社會勞苦大眾，狄更斯即是其中之一。請問：圖中哪一幅圖與狄更斯是同一流派？



23. 下兩圖分別是兩個不同時代的疆域圖。請問：由左圖演變至右圖的主要因素是下列何者的提倡？

- (A)民族自決 (B)工業革命 (C)正統與補償
(D)成立國際聯盟。



24. 日本明治維新後即向外擴張，為了爭奪何處的利益而先後與中國與俄國開戰？ (A)臺灣與澎湖 (B)琉球與山東 (C)福建與上海 (D)朝鮮與東北。

題組一：1914年6月巴爾幹半島—歐洲火藥庫遭到引爆，7月28日，奧匈帝國向塞爾維亞宣戰，宣告第一次世界大戰的爆發。大戰分為東西兩戰場，主要戰役發生在西線。1917年，戰爭出現了關鍵性的發展；1918年，第一次世界大戰以同盟國的失敗告終。第一次世界大戰是一場帝國主義之間的掠奪戰，殃及三十幾個國家，給人類造成了深重的災難和破壞，並影響世界歷史的發展。請回答第25~28題：

25. 巴爾幹半島歷經不同政權的統治，它未曾被下列哪個政權統治過？(A)波斯帝國 (B)羅馬帝國 (C)拜占庭帝國 (D)鄂圖曼土耳其帝國。
26. 巴爾幹半島有「歐洲火藥庫」之稱的原因「不包括」下列何者？(A)民族、宗教複雜 (B)各國經濟利益衝突 (C)戰略地位重要 (D)領土糾紛與列強干預。
27. 西元1914年6月哪一事件點燃歐洲火藥庫，引爆第一次世界大戰？(A)塞拉耶佛事件 (B)無限制潛艇事件 (C)美國加入協約國 (D)俄國退出同盟國。
28. 第一次世界大戰的規模史無前例，並影響世界歷史的發展。請問：下列何者非此次戰爭所付出的代價或影響？(A)新武器的應用，改變戰爭的型態 (B)婦女在戰爭期間貢獻卓著，地位提升 (C)列強將全部罪責加在戰敗國一方，種下二戰的禍因 (D)歐洲列強勢力，在國際舞台再度扮演重要角色

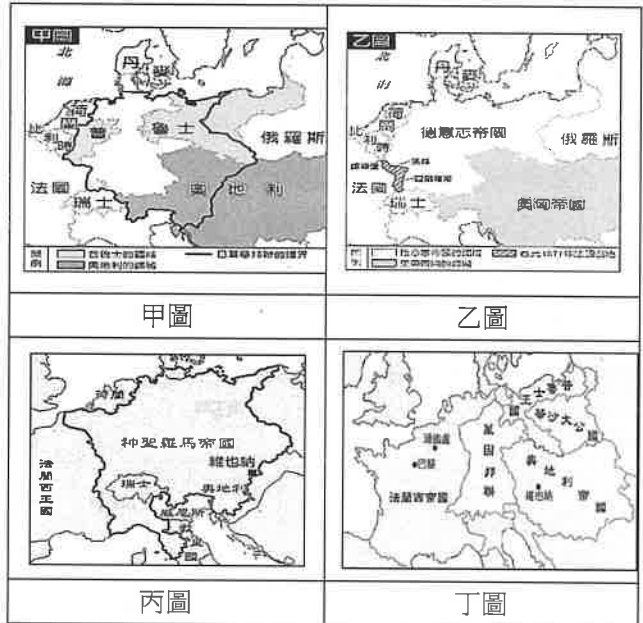
題組二：下圖是「19世紀後期歐洲各國形勢圖」，關於19世紀歐洲的局勢，請根據此圖，回答第29~31題

29. 請參照下圖指出「三國同盟」分別是哪三個國家？(A)甲乙戊 (B)甲丁辛 (C)乙丙庚 (D)丙丁戊。
30. 歐洲的局勢有時也會影響世界其他地區的發展，例如：拉丁美洲的獨立運動，受到圖中哪個國家的革命運動所影響？(A)乙 (B)丁 (C)辛 (D)癸。
31. 圖中哪個國家，趁普法戰爭時，收復被外國勢力控制的羅馬，完成統一？(A)甲 (B)乙 (C)丙 (D)庚。



題組三：附圖甲~丁為日耳曼地區的政治演變圖，請看圖，並回答第32~33題。

32. 請問下列敘述何者正確？(A)甲圖為拿破崙所建立 (B)乙圖建立的時間為第一次世界大戰後 (C)丙圖的皇帝並無實權 (D)丁圖為維也納會議後成立的。
33. 請將以下四張圖依序排列的是？(A)甲丁丙乙 (B)甲丙丁乙 (C)丙丁甲乙 (D)丙甲丁乙。



※歷史試題結束，請換頁繼續作答。

本試卷分地理、歷史、公民 3 個部份，請依序作答，並按照題號畫卡。
各部份題目配分及試卷頁數請參見說明，總分為 100 分。請謹慎作答。

班級： 座號：
姓名：

第 3 部份：公民

34. 科技發展改變了人們的生活，下列關於科技的敘述，何者最為恰當？ (A) 國家制訂完善的法律規範就可以避免科技被濫用 (B) 科技帶來的影響都是好的，政府應該多鼓勵科學家研發科技產品 (C) 科技只是工具，對人類是利是弊，主要是由投入的資金多寡來決定 (D) 科技帶來的影響，主要是取決於使用者的價值觀與態度。

35. 潑水節對於泰國、緬甸等中南半島佛教國家的意義，如同臺灣人的春節一樣，在桃園市工作的泰國勞工占全臺四分之一，因此每年 4 月中旬泰國新年期間，桃園市政府為了一解外勞的思鄉之苦，會與泰國同步舉行潑水節的活動，同時，也讓台灣民眾認識泰國文化。根據上述內容判斷，下列何者最可能是政府舉辦此類活動的目的？

- (A) 擴展官方外交關係 (B) 推動多元文化融合
(C) 調適強勢文化衝擊 (D) 促進各國文化交流。

36. 根據以下對話內容判斷，下列何者最可能是老師所強調的概念？

小治：「昨天偶像劇中男主角用的手機好炫喔！我也想要有一支相同的手機。」

老師：「其實很多節目中出現的產品都是由廠商贊助，希望透過戲劇達到行銷的目的，因此，作為閱聽人應注意戲劇節目的引導效果。」

根據上述對話內容判斷，下列何者最可能是老師所強調的概念？ (A) 解讀媒體隱含的價值 (B) 加強科技倫理的培養 (C) 學習分辨不實的廣告 (D) 了解傳播媒體的發展。 【修改 103 年會考】

37. 關於「生物科技」的敘述，下列何者正確？

- (A) 基因改造作物只有百利而無一害
(B) 生物科技的發展，可協助醫治病人
(C) 為提升生育率，我國代理孕母已經合法化
(D) 建立資訊倫理有助於避免生物科技遭到濫用。

38. 在全球化時代，文化交流日益頻繁，身為地球村的一員，我們應該拓展文化視野，尊重不同文化。請

問：下列哪一項做法最符合多元文化的精神？

- (A) 落實原住民自治的精神，尊重其文化自主權
(B) 限制原住民從事傳統狩獵，促進其文明進化
(C) 鼓勵少數族群學習國際主流語言，以利參與國際社會 (D) 為了保存弱勢文化，應設立專屬保護區，減少與外界接觸。

39. 根據附圖情境，秦克正在善用何種權益？

我是公民記者秦克，正在司法現場為您做直播報導，感謝您收看我的頻道。




- (A) 參政權 (B) 智慧財產權 (C) 媒體識讀能力
(D) 媒體接近使用權。

40. 為了認識某個國際組織的分類，佩佩做了附表，若根據表格勾選的結果判斷，下列哪一個國際組織符合這樣的條件？

全球性的國際組織	★
區域性的國際組織	
政府的國際組織	★
非政府的國際組織	
※符合者打★	

- (A) 紅十字國際委員會 (B) 國際刑警組織
(C) 亞太經濟合作會議 (D) 國際特赦組織。

41. 智慧財產權是人類精神活動之成果，附圖報導中的攤商是因觸犯下列何項法律而遭到逮捕？



- (A) 《個人資料保護法》 (B) 《著作權法》
(C) 《商標法》 (D) 《專利法》。

42.新聞報導：「台中市某張姓高中生開車撞上一名女騎士，女騎士搶救後仍不幸離世。肇事的張男一直未曾出面向家屬道歉，氣得網友強力肉搜，發現張男父親是某診所院長，網友們紛紛出征該診所專頁並洗版。」下列關於網友肉搜肇事男子資料的行為敘述，何者正確？ (A)網友的行為是伸張正義、熱心公益的表現 (B)肉搜行為侵害張男及家屬隱私，影響個人權益甚鉅 (C)只要沒在診所專頁留言謾罵，就沒有違法的疑慮 (D)是一種合理的要求張男負責，並出面道歉的方法。
(新聞摘自：台中富少「撞死人」爽玩未道歉 醫師父診所遭肉搜急關門/TVBS 新聞網/ 2021/03/16)。

43.根據附圖的對話判斷，這兩人欠缺何種素養？

- (A)文化認同 (B)強勢文化
(C)文化創新 (D)多元文化。

外籍勞工跟我們的生活習慣差很多，感覺真討厭。
對啊，還是我們比較文明。



44.政府去年年底宣布「2021年起開放美豬進口」，消息傳出後，立刻占據各大媒體的版面，同時成為各政論節目的熱門話題。請問：這個現象反映了大眾傳播媒體的何種功能？

- (A)提供訊息、教育文化 (B)休閒娛樂、監督政府
(C)監督政府、提供訊息 (D)教育文化、休閒娛樂

45.甲國和乙國簽定免關稅貿易協定，甲國商品在乙國販售時，比其他國家的商品價格更具競爭力，因此造成其他國家的商品銷售量下滑。請問：下列何者最符合上述內容的意涵？ (A)國際衝突 (B)產業升級 (C)全球關連 (D)國際分工。

46.小玉某日看到了百年前某位攝影師拍攝的珍貴照片，小玉覺得很稀奇，想把照片 Po 到自己的臉書上分享，但又怕會有著作權的問題，所以在網路上求助，請教網友關於著作權的保障期限相關問題。請問：下列哪一個網友的回答最為正確？ (A)阿依：有向政府申請登記的作品，才享有著作權的保障 (B)帆帆：該照片拍攝起至攝影師死亡後五十年的期間，都享有著作權保障 (C)小知：該照片已過了著作權保障期間，引用時可以不用再標示攝影師姓名 (D)大裘：在著作權保障期間，不管基於何種理由都不能私自引用這些照片。

47.多元文化主義學者把美國社會比喻為一個「大沙拉碗」，各種不同的族群和文化群體猶如碗中的各種蔬菜、水果，雖然攪拌在一起共同構成一道沙拉，但各自仍保留著自己的形貌與特色。因此，從上述可知，在多元文化社會中，人們除了尊重、包容不同文化外，還需要有何種作為？ (A)肯定自我文化 (B)擴展國際視野 (C)接納強勢文化 (D)同化弱勢文化。

48.「緬甸示威持續進行，軍政府以武力鎮壓示威群眾，死傷人數持續攀升。緬甸緊張情勢不斷升高，不少民眾紛紛逃往印度避難。本週傳出有台商開設的工廠遭到暴力攻擊，消息傳回國內，各界呼籲政府應思考如何保護在緬甸的國人」。上述文字最能說明下列何種現象？

- (A)各國局勢相互牽連 (B)政治立場造成對立
(C)國際衝突一觸即發 (D)企業投資存在風險。

49.小美在無意間知道了同學勳勳的臉書密碼，基於好玩，就使用了勳勳的密碼登入其臉書，並更改密碼。關於此事件的相關敘述，下列何者正確？ (A)小美只是開玩笑，最多就是校規處理 (B)小美的行為已經違反個人資料保護法 (C)小美的行為已經構成妨害電腦使用罪 (D)小美的行為已經侵害勳勳的著作權。

50.為了兼顧創作人的權益保障與知識流通，我國政府已在智慧財產權的相關立法中明定著作的「合理使用範圍」。下列哪些行為符合「合理使用範圍」？ (甲)方方下載許多流行樂，在自己經營的早餐店播放 (乙)圓圓在自己的 blog 中引用他人的作品，沒有註明出處 (丙)咪咪為了製作報告用的海報，影印了書籍的某兩頁 (丁)達令為了進行公益募款而播放相關的活動影片。正確者為：

- (A)甲乙 (B)乙丁 (C)甲丙 (D)丙丁。

(1~16 題地理；17~33 題歷史；34~50 題公民)

1	2	3	4	5	6	7	8	9	10
B	A	D	D	A	C	B	B	C	B
11	12	13	14	15	16	17	18	19	20
A	C	C	D	D	A	B	D	D	B
21	22	23	24	25	26	27	28	29	30
D	A	A	D	A	B	A	D	C	B
31	32	33	34	35	36	37	38	39	40
D	C	C	D	D	A	B	A	D	B
41	42	43	44	45	46	47	48	49	50
C	B	D	C	C	B	A	A	C	D

