

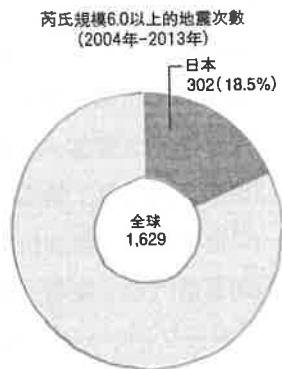
本試卷分地理、歷史、公民 3 個部份，請依序作答，並按照題號畫卡。  
各部份題目配分及試卷頁數請參見說明，總分為 100 分。請謹慎作答。

班級： 座號：  
姓名：

第 1 部份：地理（每題 2 分，共 17 題）

1. 根據調查，日本相對於狹小的國土面積僅占全球的 0.25%，而近年來大規模地震發生次數卻占全球的 18.5%，比率非常高；日本在申辦東京奧運，同時也須提出比賽期間面對地震相關災害的對策計畫，可見地震災害對日本的影響甚鉅。請問：日本大規模地震發生比率高的主要原因為下列何者？

- (A) 位於海陸交界帶
- (B) 國土以島嶼為主
- (C) 位居板塊接觸帶
- (D) 核能為主要能源。



2. 市面上有一些水果店以販售「日本高級水果禮盒」為招牌，逢年過節因應送禮市場更推出網路行銷。請問：下列何者並非日本水果禮盒常見的水果種類？

- (A) 蘋果 (B) 葡萄 (C) 柑橘 (D) 鳳梨。

3. 「漬物」是日本自古以來的傳統食品之一，是將各種蔬菜放入由食鹽、醋、酒粕等混合而成的調味液中浸泡，醃漬發酵而成；而「泡菜」是為了利於長時間存放而經過發酵的蔬菜，聯合國教科文組織

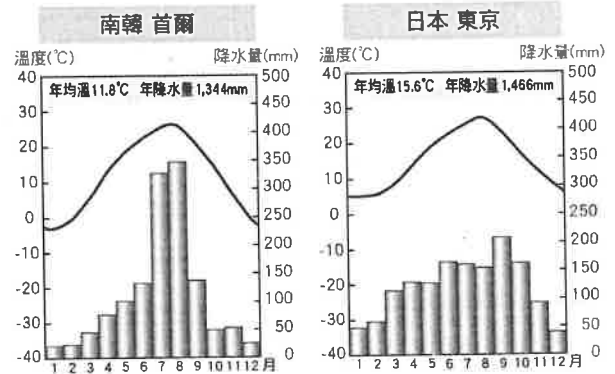
(UNESCO) 在 2013 年 12 月正式將韓國「醃製泡菜文化」列入教科文組織人類非物質文化遺產代表名錄。請問：日本、韓國皆有將蔬菜醃漬、發酵的飲食文化，與下列哪一項日本及韓國的特徵關係最密切？

- (A) 冬季冷而長 (B) 平原面積小
- (C) 氣候較潮溼 (D) 人口屬於同一種族。

4. 日本及南韓在自然環境、經濟發展與社會文化上，有許多與臺灣相似之處。其中，日本及南韓在地形特徵上，有下列哪一項與臺灣相似之處？

- (A) 國內最高峰為火山地形
- (B) 主要平原分布於本島西部
- (C) 河川富航運、缺水電之利
- (D) 地形起伏大、山多平原少。

5. 受到海陸分布的影響，日本的氣候較南韓更具有「海洋性」。依據下列兩國首都的氣候圖比較判斷，日本氣候的「海洋性」不包含下列哪一項特徵？



- (A) 年溫差較小 (B) 雨季分布較平均
- (C) 年雨量較多 (D) 各月均溫皆較高。

6. 日本水產株式會社是日本最大的海產品公司之一，創業之初從事海產品的捕撈和加工，後來跨足物流、醫藥、船舶建造，企業宗旨是利用豐富的水產資源，創造各種價值以貢獻於社會。此外臺灣近年也興起如：上引水產、小海水產、水產超市火鍋等源於日本的飲食消費型式。請問：日本海洋資源豐富，而有上述利用水產發展出來的餐飲經營型態主要原因為何？

- (A) 位於海陸交界帶 (B) 沿岸有寒暖洋流交會
- (C) 居大洋航運要衝 (D) 離島眾多、領海遼闊。

7. 北韓擁有豐富的自然資源，但工業技術及經濟發展落後，人民生活困苦，有不少北韓人民透過非正常管道離開北韓尋求自由，擺脫國家的束縛到其他國家生活，我們稱之為「脫北者」。請問：北韓經濟落後、人民生活困苦，甚至導致人民流亡的主要因素可能為何？

- (A) 冬季寒冷且漫長 (B) 缺乏平原地形
- (C) 以共產主義治國 (D) 產業結構偏重第一級。

8.日本與南韓政府推動「智慧型農業政策」，在農業生產過程中導入高科技技術。此政策主要是受到兩國近年出現下列何項情況的影響？

- (A)產業空洞化 (B)人口外移嚴重  
(C)勞動力老化 (D)性別比例失衡。

9.日本節目《全能住宅改造王》中指出：日本近年只有一層樓的「平屋」成為換屋或改建的首選。有鑒於311大地震後，住宅安全議題更被關注；除了對於中老年人而言，爬樓梯較危險也容易傷膝蓋外，少了二樓，不僅重量負擔少，耐震性更好。請問：基於上述考量，日本的傳統民居，多選用下列何種建材？

- (A)石材 (B)木料 (C)稻草 (D)水泥。

10.「韓流」是指韓國文化在世界各地流行的現象，包含影視、電子遊戲、服飾、飲食、旅遊觀光等，其影響深入我們的日常生活。韓國文化得以在全世界形成熱潮，南韓政府實施的措施功不可沒，而其**主要措施不包含**下列何者？

- (A)設置文化產業園區 (B)成立專責機構推動  
(C)制定文化相關法案 (D)推廣傳統工藝與祭典。

◎季風亞洲 (Monsoon Asia) 是一個地理概念，在此區域內，季風影響各地冬夏二季的盛行風向，也決定當地的降雨情況與氣候變化，形成當地居民必須適應的生態環境。此外，季風亦為早期的海洋航行者提供了可靠、可預測的動力，區域內的海洋交通、商務貿易、人口流動與文化交融活動頻繁，使得亞洲季風帶成為人類歷史上最形成的「地區體系 (regional system)」，從而形塑出此區域特有的文化揉合體。請問第 11~13 題：

11.季風亞洲區**並不包含**下列哪一個區域？

- (A)東亞 (B)南亞 (C)西亞 (D)北亞。

12.早期在海上進行貿易的船隻如果要從臺灣將蔗糖運往日本，選擇哪一個季節出發，船隻最可能可以順風航行，較快抵達目的地？

- (A)春 (B)夏 (C)秋 (D)冬。

13.季風亞洲區人口密度大，世界人口數第一、第二的國家均位在此區，請問當地人賴以維生，養活眾多人口的主要糧食作物為下列何者？

- (A)稻米 (B)小麥 (C)玉米 (D)馬鈴薯。

◎日本名列世界第 3 大經濟體，屬於世界先進國家之一，與其工業發展的實力密不可分。下圖為日本工業區分布圖，請問第 14.15 題：



14.日本主要工業地帶多分布在沿岸港口，可見日本工業區的選擇，與下列何項地理要素的關係最密切？

- (A)海運交通便利 (B)礦產資源分布  
(C)都市人口聚集 (D)技術研發重鎮。

15.關於日本工業的發展，下列何項敘述**不符**現況？

- (A)礦產資源豐富，帶動工業發展  
(B)建立國際分工體系，降低生產成本  
(C)企業著重研發創新，掌握核心技術  
(D)著重汽車、家電、機器人等類型的工業。

◎從影視文化中，可以窺見一個國家當代的社會經濟概況，從近年行銷全球的韓劇中，我們多少可以發現南韓在經濟快速發展背後的社會實況。請問第 16.17 題：

16.南韓工業及經濟的發展在近年來大幅起飛，名列全球第 11 大經濟體，下列何者**並非**南韓近年工業發展的主力？

- (A)汽車工業 (B)機器人工業  
(C)造船工業 (D)消費性電子產品工業。

17.南韓因為工作時間長、薪資低而物價水準高，年輕人被擠壓到喘不過氣來，自比「地獄朝鮮」；而電影《寄生上流》也凸顯南韓貧富差距大的社會實況。請問：造成南韓社會貧富差距大的主要原因為何？

- (A)中小企業蓬勃發展 (B)政府扶植大型財團  
(C)政治首領歷代世襲 (D)資金技術依賴日本。

【請繼續換頁作答】

本試卷分地理、歷史、公民 3 個部份，請依序作答，並按照題號畫卡。  
各部份題目配分及試卷頁數請參見說明，總分為 100 分。請謹慎作答。

班級：            座號：  
姓名：

第 2 部份：歷史（共 17 題，每題 2 分，共 2 頁）

18. 「清廷想收回民間集資興建鐵路的權利，所以針對民間已投資者提出補償：在湖南、湖北，投資金額全數償還；在廣東，僅償還 60%，其餘 40% 由政府以股票支付；在四川，政府僅發給股票。這種處置引起四川士紳激憤，朝廷為控制騷亂，將部分湖北軍隊調往四川。」上述情況最可能為下列何者的發生提供了機會？(A) 保路運動 (B) 護法運動 (C) 復辟事件 (D) 武昌起義。
19. 清末國勢不振，袁世凱因能力出眾而得到編練新式軍隊的機會，進而掌握軍事權力伺機崛起，陸續擔任中華民國臨時大總統與正式大總統職位。請問，袁世凱成為臨時大總統與其所掌握的軍事權力之間，有何關係？(A) 袁世凱利用武力終結溥儀復辟 (B) 袁世凱利用自身軍力捍衛革命運動與共和理念 (C) 袁世凱利用武力鎮壓革命以戰逼和，展開有利於己的談判和議 (D) 袁世凱直接使用自身軍力脅迫溥儀退位並威脅孫中山讓與臨時大總統之位。
20. 「『國父』孫中山歷經十次革命百折不撓，創建民國，是大家耳熟能詳的故事，但其實除了孫文之外，還有很多為了革命流血流汗默默付出的幕後英雄，他們也一樣是「催生」中華民國的「國父」！例如政治天才宋教仁，專門負責地下組織活動，在他多年處心積慮的佈局滲透下，「新軍」終於點燃了革命的火花！帥哥汪精衛因為暗殺清廷官員一炮而紅，被孫文欽點為接班人，想不到最後卻以「漢奸」名留青史！倘若沒有陳炯明的努力讓廣州成為革命搖籃，最後廣州勢力就無法統一中國，然而他卻被塑造成千古罵名的叛將！黃興多次起義都親上火線，領導革命志士浴血奮戰，對於革命的貢獻最大，卻鮮為人知。……本書將帶領讀者一起還原歷史的真相，重新探索這段改變近代中國命運，最波瀾壯闊、風起雲湧的一頁！」以上文字，描述了《國父們：被遺忘的中國近代史》一書的出版要旨：更全面的理解中華民國建立的過程。而文中提及的眾多人物都曾隸屬於孫文為整合革命團體進而成立的新組織。請問，這個組織應為下列何者？(A) 興中會 (B) 中國革命同盟會 (C) 國民黨 (D) 中國國民黨。
21. 承上題，關於「政治天才」宋教仁的相關敘述，下列何者正確？(A) 他為革命成功所佈局滲透的「新軍」，所在位置應是以北京為中心 (B) 他帶領進步黨在民國建立後的第一次國會大選中獲得勝選 (C) 宋教仁主張以政黨政治約束總統權限，實現內閣制的理想 (D) 宋教仁最後在段祺瑞的授意之下慘遭暗殺，英年早逝。
22. 一則資料提到：「他利用黎元洪與段祺瑞的矛盾，率五千『辮子兵』，假藉『調停』的名義入京，在清故宮召開『御前會議』，把一個十二歲的孩童拱上帝位，並宣布改『民國六年』為『宣統九年』，通電全國改掛龍旗，並自任議政大臣，但為期僅 12 天便遭到驅逐，清朝復興宣告失敗。」請問，上文中的「他」，所指何人？(A) 溥儀 (B) 張勳 (C) 梁啟超 (D) 袁世凱。
23. 承上題，此事件在民初歷史的歷史意義與後續發展，下列同學的解讀，何者正確？  
(A) 萬萬：在此事件之後，各地軍事將領紛紛開始擴張權勢，演變為「軍閥割據」的局面  
(B) 小芳：段祺瑞在此事件之後掌握大權，逕自對日本宣戰，加入第一次世界大戰  
(C) 小高：段祺瑞在此事件之後當選中華民國總統並拒絕恢復臨時約法，因而引發「五四運動」  
(D) 大中：這個事件的迅速落幕，說明皇帝制度在當時已無法得到多數國人的支持。
24. 西元 1917 年以來，中國同時出現兩個政府，一個是北方的「北京政府」，另一個則是南方的「廣州政府」，為了爭奪中國的領導權，各方派系軍閥彼此征戰不休，造成中國內政的動盪不安。造成上述中國南北分裂局勢的原因為何？(A) 袁世凱暗殺了宋教仁 (B) 袁世凱策動帝制復辟 (C) 段祺瑞毀棄臨時約法 (D) 黎元洪擁護溥儀復辟。
25. 下列為美國學者古德諾於西元 1915 年所發表的文章節錄：「中國數千年以來，習於君主專制體制，各地學校短缺，大多數之人民智識不甚高尚，人民更缺乏參與政治之能力，四年以前，由專制一變而為共和，此番變動太快，難望有良好結果… 中國將來必因總統繼承問題『釀成禍亂』… 如一時不立即撲滅禍亂，可能敗壞中國之獨



立… 中國如用君主制，較共和制為宜，此殆無可疑者也。」請問，此篇文章發表後，最可能為下列何人引用，為其政治理念鋪路？(A) 梁啟超 (B) 陳獨秀 (C) 段祺瑞 (D) 袁世凱。

26. 承上題，此篇文章發表後有利於下列何種政治情勢的出現？(A) 辛亥革命成功 (B) 爆發二次革命 (C) 出現洪憲帝制 (D) 形成南北分裂。
27. 下列是節錄自一則孫中山的談話內容：「我們從前何以從事於有組織、有系統、有紀律的奮鬥？因為未有模範，未有先例之故。現在一位好朋友鮑羅庭是從俄國來… 蓋俄國革命之成功，一方面是因黨員積極奮鬥，二方面又有兵力幫助，故吾等欲革命成功，要學俄國組織及訓練黨員的方式，方有成功的希望。… 所以我請鮑羅庭做吾黨的訓練員，使之訓練吾黨同志，鮑羅庭辦黨極有經驗，望各同志犧牲自己的成見，誠意去學他的方法。」依據以上資料的內容判斷，孫中山發表這番言論是因為打算推動何種行動？(A) 推翻清朝 (B) 護法運動 (C) 二次革命 (D) 聯俄容共。

〔題組〕(第 28~30 題) 請在閱讀完下列 4 則資料後回答問題：

〔資料 1〕「中國須承認日本占有德國在山東全部特權，並加以擴大；承認日本在南滿與東部內蒙古的優越地位與特殊權力，延長旅順大連的租借期… 中國沿海港灣及島嶼不得讓與或租與他國，中國政府須聘用日人為政治、財政、軍事顧問……。」

〔資料 2〕「共產黨圖謀傾覆本黨，逆跡昭著，今由中央監察委員會舉發，並訓令國民革命軍總司令蔣中正，於最短期間內肅清叛亂。」

〔資料 3〕「日本藉口保護僑民，悍然出兵攻占濟南，並大肆屠殺中國無辜軍民和外交人員，導致軍民死傷無數。」

〔資料 4〕「我們學界今天排隊到各公使館去要求各國出來維持公理正義，務望全國工商各界一律起來設法開國民大會，外爭主權，內除國賊，中國存亡就在此一舉了……。」

28. 請問關於〔資料 1〕出現的歷史背景與相關發展，下列敘述何者正確？(A) 此資料出現於於第一次世界大戰結束後 (B) 當時中國由皇帝袁世凱主政 (C) 對於這些要求，中國受制於軍力衰弱因而全部應允 (D) 德國之所以在中國山東擁有特殊地位，原因可回溯到甲午戰敗的影響。
29. 關於〔資料 2〕中的歷史背景解讀，下列何者正確？(A) 國民革命軍應隸屬於最初成立於武漢的「國民政府」 (B) 當時國民革命軍的目標是要保護臨時約法進行護法運動 (C) 蔣中正在此事件中將政府立於南京以對抗共

黨勢力 (D) 當時蔣中正得到孫中山的同意而發動此事。

30. 請問以上 4 則資料，若按事件先後順序排列，下列何者正確？(A) 資料 1 → 資料 4 → 資料 2 → 資料 3 (B) 資料 1 → 資料 2 → 資料 3 → 資料 4 (C) 資料 4 → 資料 3 → 資料 1 → 資料 2 (D) 資料 1 → 資料 4 → 資料 3 → 資料 2。
31. 右圖是某一時期知識分子積極提倡的觀念，認為唯有透過「德先生」、「賽先生」所代表的新觀念，才能帶給國家新的刺激，挽救國家的困境。當時知識分子所推動的變革被稱為下列何者？(A) 戊戌變法 (B) 立憲運動 (C) 新文化運動 (D) 新生活運動。



32. 中國近代史上某一時期，曾有教授和大學生主張以口語化的新文學取代舊式古典文學，並有意識地反對許多傳統觀念與習俗，將婦女從傳統束縛中解放出來。這樣的主張應出現於下列何時？(A) 自強運動 (B) 百日維新 (C) 立憲運動 (D) 新文化運動。
33. 曾有學者認為：「中國文字，既難傳載新事新理，且為腐毒思想之巢窟，廢之誠不足惜。… 當此過渡時期，唯有先廢漢字，且存漢語，而改用羅馬字母書之。」請問這段言論，最有可能出現於下列哪一時代的中國呢？(A) 1810 年代 (B) 1860 年代 (C) 1910 年代 (D) 1960 年代。
34. 「假使有人問：『何以要擁護德先生和賽先生便不能不反對國粹和舊文學呢？』答案自然是：『因為國粹和舊文學是德賽兩位先生反對的』。又問：『何以德賽兩位先生所反對的東西都該反對呢？』這問題可就不是幾句攏統簡單的話所能回答的了。據我個人的觀察，新思潮的根本意義只是一種新態度。這種新態度可叫做『評判的態度』。……而『重新估定一切價值』八個字便是評判的態度的最好解釋。」請問，以上的主張，最有可能是下列何人的見解？(A) 胡適 (B) 孫文 (C) 梁啟超 (D) 李大釗。

歷史試題結束，請接續下頁作答公民試題



本試卷分地理、歷史、公民 3 個部份，請依序作答，並按照題號畫卡。  
各部份題目配分及試卷頁數請參見說明，總分為 100 分。請謹慎作答。

班級： 座號：  
姓名：

第 3 部份：公民（共 16 題、每題兩分）

35. 行政法除了規範政府的行為之外，每個人從出生到死亡，許多行為也都會涉及行政法的適用，下列何者屬於「應適用行政法」的事件？  
(A)因課業糾紛，某甲唆使某乙打傷同學  
(B)建商要蓋房子，強制原住戶拆屋遷地  
(C)屋主追討租屋房客所積欠的房屋租金  
(D)駕駛人未通過警察的酒測臨檢而受罰

36. 蓉蓉檢視自己上個月的記帳本，發現花費如下表所示。這些花費中有多少金額屬於行政責任？

項 目	支出金額
打破教室玻璃的賠償	500元
過馬路未走斑馬線的罰單	300元
在捷運站喝飲料的懲處	1,500元

- (A) 500 元 (B) 1,800 元 (C) 2,000 元 (D) 2,300 元。

37. 根據警察職權行使法的規定，警察行使職權時，應著制服或出示證件表明身分，並應告知事由，警察未依此規定行使職權者，人民得拒絕之。上述內容最主要在強調下列何種法治觀念？

- (A)法律規範政府的作為，而人民權利受到法律保障  
(B)法律制定生效後，對於違法者即產生約束的作用  
(C)行政機關修改不合時宜的命令，以保障人民權利  
(D)法律是由民意代表所制定，也是人民意思的展現

38. 不少汽車駕駛人，於路邊開車門時未注意後方來車，導致他人受傷，過往卻因缺乏相關罰則而無法可罰，對此立法院通過《道路交通管理處罰條例》修法，目前已可針對未依規定開車門而肇事的行為開罰。根據上述，過往不能開罰汽車駕駛人的理由與下列何者有關？

- (A)行政法旨在保障政府的權力  
(B)行政救濟是為了限制人民的權利  
(C)行政行為須有法律的依據或授權  
(D)行政行為不得牴觸《憲法》的規定。

39. 行政機關做成行政行為時可能會侵犯人民權益，對於這種狀況，老師利用下圖為學生介紹了一個法律名詞。根據內容判斷，下列何者最可能是老師所解釋的法律名詞？

人民認為行政機關的行政處分有違法或不當，損害自己權利時，請求撤銷或變更原行政處分的手段。

- (A)糾正 (B)訴訟 (C)行政管制 (D)訴願

40. 若人民違反行政法規定時，政府依法律對人民施加制裁，統稱為「行政罰」。行政罰包括下列何者？

- (A)甲乙丙 (B)甲乙丁  
(C)甲丙丁 (D)乙丙丁

(甲)罰鍰  
(乙)罰金  
(丙)勒令歇業  
(丁)拘留

41. 現代民主國家已從人治社會邁向法治社會，下列關於「法治社會」的敘述，何者正確？

- (A)法律由統治者做決定  
(B)法律的主要目的是控制人民  
(C)政府執行法律時缺乏一定標準  
(D)法律是由人民所選出的代表共同制定

42. 第 626 號《憲法》解釋文，說明警大拒絕色盲者入學規定，並無違憲。這說明了法律、命令皆不得牴觸《憲法》，這是《憲法》的哪項特性？

- (A)最高性 (B)穩定性  
(C)原則性 (D)合理性。

試題尚未結束  
請翻面繼續作答

43. 公民老師上課時，以右圖來說明法律位階的概念。根據該圖內容判斷，下列何者正確？



- (A)最高性為乙的特色 (B)甲不得牴觸乙  
(C)丙僅說明法律原則 (D)丙由行政機關訂定修改。

44. 下圖為政府因應新冠肺炎疫情制定《嚴重特殊傳染性肺炎防治及紓困振興特別條例》的宣導海報，對於違反隔離措施者將被處以最高 100 萬元。針對上文的敘述，下列何者「錯誤」？

- (A)該條例僅就重要事項做原則性規範  
(B)政府要求民眾居家隔離，限制了人民的自由權  
(C)該條例不得牴觸憲法，牴觸則無效  
(D)違反隔離者將被處以「罰鍰」



45. 法治國家中，政府只有在稅法規定的範圍內，才能徵收稅款，顯示法治的意義為何？

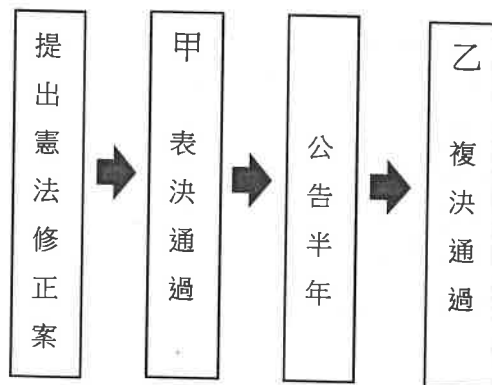
- (A)政府要依法行政 (B)法律由政府所制定  
(C)人民的行為要守法 (D)法律由人民所制定。

46. 某公司的女性員工懷孕，待其請完產假後便遭到公司的解雇。上述該公司的作法已經違反《憲法》保障人民的哪些基本權利？

- (A)平等權、自由權 (B)自由權、參政權  
(C)受益權、參政權 (D)平等權、受益權

47. 下列是我國修改《憲法》的流程。請回答流程中的「甲」、「乙」內容為何？

- (A)甲：行政院、乙：公民投票  
(B)甲：司法院、乙：大法官  
(C)甲：立法院、乙：公民投票  
(D)甲：監察院、乙：審計部



48. 《社會救助法施行細則》第 1 條：「本細則依《社會救助法》第 45 條規定訂定之。」根據上述內容判斷，《社會救助法施行細則》的法律位階與下列何者相同？

- (A)《憲法增修條文》  
(B)《國民教育法》  
(C)《警械使用條例》  
(D)《人民團體獎勵辦法》

※ 題組：

在我國，人民為充實自己的知識，可以主動要求政府在條件許可下，提供人民接受教育的權利。換個角度來看，人民是國家構成的要素之一，人民素質的良窳也直接或間接影響國家的富強與否。因此，政府乃制定《國民教育法》等法令，希望人民都能接受國民義務教育。請回答下列問題：

49. 接受國民義務教育也是我國《憲法》所保障人民的哪一項基本權利？

- (A)平等權 (B)自由權  
(C)受益權 (D)參政權。

50. 在我國，接受國民義務教育的年齡為何？

- (A)3 歲到 12 歲 (B)6 歲到 15 歲  
(C)6 歲到 18 歲 (D)12 歲到 18 歲。

<<本試題結束>>