

本試卷分地理、歷史、公民 3 個部份，請依序作答，並按照題號畫卡。
各部份題目配分及試卷頁數請參見說明，總分為 100 分。請謹慎作答。

班級： 座號：
姓名：

第 1 部份：地理（共 16 題，每題 2 分，共 2 頁）

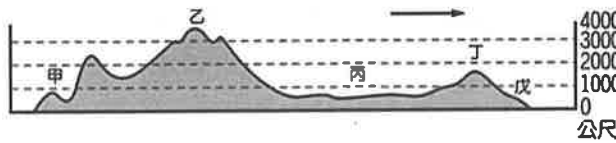


圖 1-1

1. 圖 1-1 是沿著美國約北緯 40° 地形剖面圖。請問以下針對各地區的敘述何者正確？
(A) 甲區是歐洲移民最先拓墾的區域 (B) 丙區南部土壤貧瘠且多冰蝕湖 (C) 丁區地質古老礦產豐富 (D) 戊區火山活動與地震較頻繁

★圖 1-2 為北美洲氣候區圖請回答第 2~4 題

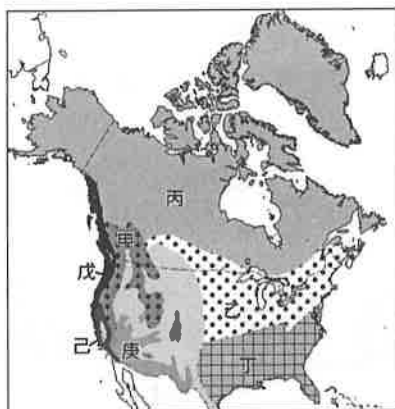


圖 1-2

2. 經常在歐洲旅遊的小潔，發現北美洲的眾多氣候類型中，有些是歐洲區域未見過的。請問圖中哪些氣候類型『不會』出現在歐洲？
(A) 甲戊 (B) 乙丙 (C) 己丁 (D) 丁庚
3. 請問圖中那些氣候區的形與暖流經過有關？
(A) 戊己 (B) 丁戊 (C) 丁庚 (D) 乙丙
4. 下列針對北美洲常見的天氣災害敘述何者正確？
(A) 己區冬季乾旱容易引起森林大火 (B) 乙區因地形開闊，有利冷氣團南下，中南部地區常有暴風雪 (C) 北美大平原中南部因冷暖空氣交會，在冬春交替時常有龍捲風 (D) 丁區的南部在夏秋時節常有颶風

★圖 1-3 為北美洲農牧業分布圖。請回答第 5~6 題

5. 下列圖 1-3 中各區農業帶的產業及特色，下列何者敘述是正確的？

(A) 甲為酪農帶，屬市場區位，以生產乳製品為主

(B) 丁為玉米帶，可作為經濟作物及飼料的混合農業型態

(C) 丙為冬麥帶，受緯度影響一年僅一穫

(D) 己為棉花帶，美國曾引進大量黑奴在此工作

6. 北美洲農業經營方式有別於亞洲。請問：下列針對北美洲平原地區農業經營的主要特色描述何項『有誤』？

(A) 單位面積產量高 (B) 大規模種植單一作物
(C) 以粗放式的機械化耕作為主 (D) 容易造成土地退化跟生產過剩的問題



圖 1-4

7. 圖 1-4 為北美洲主要城市分布圖，下列關於城市的敘述配對，何者『有誤』？ (A) 丁地是著名的汽車工業城 (B) 己地有波音飛機及微軟公司在此設廠 (C) 辛地為全球高科技重鎮 (D) 戊地附近石化工業興盛
8. 2020 年 7 月 1 日起美墨加協定 (USMCA) 正式取代了 1994 年簽署的北美自由貿易協定 (NAFTA)，請問對於此區經濟組織特性描述何項『有誤』？ (A) 美國為資金與技術的提供者 (B) 美墨與美加邊境設立加工出口區 (C) 成員國之間貨物可流通且減免關稅 (D) 使用單一貨幣美元

9. 臺灣邦交國中，多數個位於中美洲，歷任的國家元首亦多次出訪至該區友邦訪問。請問：中美洲可以看到以下哪一種景觀？(A)平原廣闊的中美地峽(B)以西班牙語作為官方語言的居民(C)因紐特人的原住民文化 (D)利用天然峽灣所建的巴拿馬運河

★圖 1-5 為中南美洲氣候圖。請回答第 10~11 題

10. 以下敘述何者正確？

(A)B 和 D 洋流

皆屬於涼流

(B)甲區的降雨類型以地形雨為主

(C)E 為福克蘭寒流，是影響丙區為溫帶沙漠的原因之一

(D)戊區與己區的氣候成因跟西風有關



11. 圖 1-5 中乙地區的氣候類型大致分布於哪一個地形區？(A)巴西高原(B)彭巴草原(C)亞馬孫盆地(D)巴塔哥尼亞高原

12. 地理老師於課堂上進行圖 1-6 中南美洲國家知識大競賽，浩浩針對老師給的提示寫出的答案中，哪個『有誤』？



提示一	提示二	答案
石油輸出	關稅減免優勢	(A)甲國
銀礦豐沛	馬丘比丘古蹟	(B)丙國
盛產咖啡	工業產值第一	(C)庚國
銅礦眾多	南北氣候差異大	(D)己國

13. 中南美洲人口分布不均的情形很明顯，請問下列對中南美洲人口與都市發展的描述，何項正確？(A)主要大都市集中於中緯度的安地斯山區(B)都市化程度高的原因是因鄉村推力強(C)沿海都市的形成主要跟地形有關 (D)巴西為了平衡區域發展，將首都由巴西利亞遷至里約

★請閱讀下列文章，回答第 14~15 題

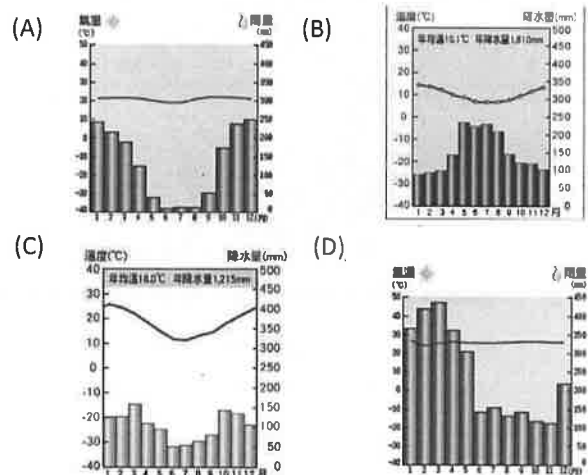
2020/08/08 新聞節錄

綠色和平組織森林項目總監瓊絲 (Anna Jones) 指出，亞馬孫正瀕臨危險的轉捩點，科學家警告，亞馬孫可能在不到 20 年的時間內崩潰，對當地土著、野生動植物、健康和氣候造成災難性影響。

美國太空總署 (NASA) 也在月初表示，北大西洋熱帶地區的地表溫度正在升高，導致亞馬孫河南部地勢變得乾燥易燃，傳統用於農業或土地清理的「焚田」可能導致失控的大火。

環保主義人士則指責巴西總統波索納洛 (Jair Bolsonaro) 推動的多項政策加劇大火。據報導，波索納洛自去年起，將亞馬孫地區大量土地改為農業或工業用地，以促進經濟發展，導致亞馬孫大火情勢惡化。

14. 亞馬孫河流域因為其氣候特性的關係，被稱為『物種的基因寶庫』，請問其氣候類型為下列何者？



15. 下列對於巴西產業發展的描述何項正確？(A)在西班牙殖民時期，以農、礦原料輸出為主(B)運用廉價勞力經營熱帶栽培業，種植小麥、甘蔗等作物(C)亞馬孫雨林主要森林資源在巴西境內(D)石油豐富利於發展鋼鐵、汽車等產業
16. 地理搶答活動時，老師提問：「中、南美洲擁有哪些幾項世界之最？」請問：同學的答案中哪項是『不符合現況』？(A)世界最大的熱帶雨林區(B)世界最長的河川(C)世界最長的山脈(D)世界目前唯一的聯洋運河

本試卷分地理、歷史、公民 3 個部份，請依序作答，並按照題號畫卡。
各部份題目配分及試卷頁數請參見說明，總分為 100 分。請謹慎作答。

班級： 座號：
姓名：

第 2 部份：歷史（17~33 題，每題 2 分，共 34 分，共二頁）

17. 西元 1815 年奧地利首相主導維也納會議的議題。
下列何者是這場會議的原則？(A)推翻君主專制，建立民主共和 (B)主張正統，恢復各地王室的統治 (C)落實啟蒙思想，提出主權在民與天賦人權 (D)廢除奴隸制度，加速工業發展。
18. 「他提出要讓一個國家從野蠻走向富足，需要的只是和平、適度的稅收和完善的司法制度，其他的一切都會在自然趨勢下循序漸進。」請問：文中的的觀點由哪位西方學者提出？(A)盧梭 (B)孟德斯鳩 (C)亞當斯密 (D)狄德羅。
19. 十九世紀初，歐洲曾流行過一句諺語：「法國一著涼，全歐打噴嚏！」這是因為法國革命的精神影響全歐，當法國爆發革命，歐洲各地也紛紛出現追求自由並要求進行改革的浪潮。下列何者不是法國曾經爆發的革命行動？(A)1688 年的光榮革命 (B)1789 年的大革命 (C)1830 年的七月革命 (D)1848 年的二月革命。
20. 歷史老師對學生說：「一個科學假設是否正確，要看它是否在推論上沒有問題，而不是看是否能用實驗證明。」請問上述方法是指？(A)推論法 (B)描述法 (C)演繹法 (D)歸納法。
21. 歷史課時，有四位同學在討論啟蒙思想的主張，請問下列哪一位同學的說法是正確的？
(A)芳媛：「洛克認為我們每個人都把自身和一切的權利交給領導者；而領導者的權利也是來自於我們授予的，而非過去的神授觀念，而這就是一種社會契約的表現。」
(B)孟恩：「孟德斯鳩主張各政黨應認真替民眾謀福利，提出具體政策與執政黨公平競爭，由民眾裁決，將國家託付給這個政黨，才是主權在民的體現。」
(C)歐陽：「盧梭主張政府應採行行政、立法、司法三權分立的原則，以既合作又制衡的雙重關係來避

- 免政府專制。」
(D)君寧：「伏爾泰反對君主制度，提倡自然神論，批判天主教會，他把天主教教宗比作『兩足禽獸』，傳教士是『文明惡棍』，天主教是『一些狡猾的人布置的一個最可恥的騙人羅網』。」
22. 關於 18 世紀工業革命對歐美社會和經濟的影響，下列敘述何者錯誤？
(A)出現社會主義學說，以解決貧富懸殊的問題
(B)君權神授說興起，君主專制盛行
(C)都市化、工廠制度應運而生
(D)歐洲列強向外發展，引發競爭及衝突。
- 資料一：「他開始思索地球在軌道上的運轉，並且計算運轉時的電力與离心力的關係，他在筆記上寫下他發現的定律。宇宙裡如果沒有這一條不變的定律，所有的物體，小至一粒沙，大至一個星球，都將亂飛亂撞，成為混沌。」
- 資料二：「當日心說提出後，遭到教會與傳統科學家的嚴厲抨擊，並被斥為異端學說。當時這位義大利的科學家卻透過望遠鏡等儀器的觀察，重申日心說的正確性，卻遭到教會法庭軟禁，直到終老。」
- 資料三：「根據他反覆的推算，發現原來太陽才是宇宙的中心，這真是個驚人的發現。他害怕引起各方的攻擊，直到去世前，他才將自己著作—《天體運行論》出版，並在書的序中寫明將他的著作獻給教宗保祿三世……。」
23. 請問上述三則資料依出現時間的先後順序是？
(A)資料一→資料二→資料三 (B)資料二→資料三→資料一 (C)資料三→資料一→資料二
(D)資料三→資料二→資料一。
24. 有關拿破崙生平事蹟敘述，下列敘述何者錯誤？
(A)滑鐵盧戰役敗北而失勢 (B)1812 年征英之役受創而勢力大衰 (C)1804 年稱帝，征服歐洲大半地區 (D)數度擊敗反法聯軍，被法人視為民族英雄

25. 下列關於英國議會政治發展的敘述何者正確？
 (A)10 世紀，國會分為上、下議院，成為國王的諮詢機構 (B)十三世紀，約翰王因簽署《大憲章》，成為限制王權的法理依據 (C)西元 1642 年，英王查理一世與議會爆發內戰，被稱為光榮革命 (D)十七世紀，國會驅逐英王詹姆士二世，迎接嫁到荷蘭的瑪麗及夫婿威廉任英王，並簽署《人權法案》
26. 民主是近代政治的主流，為了實踐這個理想，歐洲各國陸續發展出各種新制度。請問：下列哪項是英國對民主政治發展的重要貢獻？ (A)創立三權分立 (B)確立三級議會 (C)首創責任內閣制 (D)頒行首部成文憲法。
27. 西元 1860 年代美國因區域產業發展型態的差異，國內在國家發展方針上出現歧見，引發嚴重的軍事對抗。請問：美國當時正面臨下列何種局勢？
 (A)抗議徵收新稅，爆發波士頓茶葉事件
 (B)起草《獨立宣言》，準備向英國宣戰
 (C)發動獨立戰爭，得到他國政府援助
 (D)處理黑奴問題，導致南北戰爭。

資料一：大不列顛現任國王的統治，是一連串的傷害和掠奪的紀錄，這些暴行的唯一目標，就是想建立一個專制的虐政，橫壓在我們各邦之上。

資料二：任何人都生而平等，均由上帝賦予不可侵犯的圖生存、求自由與謀幸福的權利。

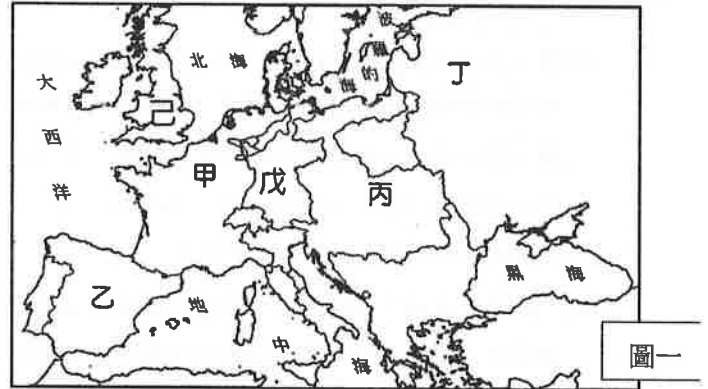
資料三：所有政府的正當權力，均由被統治者的同意而來。

資料四：任何政府若破壞上述天賦人權，人民即可將之推翻，另建新的政府。

28. 請由上述資料一～四的內容來判斷，下敘述何者正確？ (A)資料一～四的內容可推論，該文件應是美國《人權宣言》 (B)資料一的敘述中，所指的「各邦」應是美國內戰時，南方各州組成的邦聯 (C)資料二與資料三的內容源自蒙運動思想家洛克與孟德斯鳩所提出的主張 (D)資料四中的「另建新的政府」指的是美國獨立。
29. (甲)拿破崙擊敗反法聯軍，被選為第一執政 (乙)巴黎市民攻陷巴士底監獄 (丙)處死國王路易十六 (丁)國民會議頒布了《人權宣言》 (戊)羅伯斯比被處死，結束恐怖統治。以上事件，根據其發生的時

間順序來排列是？ (A)乙丁丙戊甲 (B)乙丙丁戊甲 (C)丁丙乙戊甲 (D)丁乙丙戊甲。

◆題組：附圖一為近代歐洲的形勢圖，請根據此圖，回答第 30-33 題



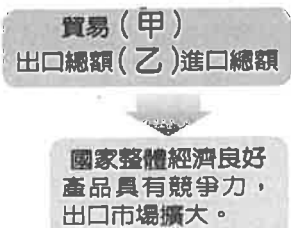
30. 啟蒙運動的重鎮位於圖中何處？ (A)甲 (B)乙 (C)丙 (D)丁。
31. 工業革命最初發源於哪個國家？ (A)丙 (B)丁 (C)戊 (D)己。
32. 有一個國家君主在他的回憶錄中宣稱：「授任儀式並非使我成為國王，而僅是宣布我是國王而已。典禮使我的國王身分變得『更威嚴，更不可違抗，並且更神聖。』」這位君主非常重視藝術，在其任內大力推廣藝術，並修建凡爾賽宮，使該國成為歐洲文化強國，首都也成為當時西歐時尚中心。請問：上述國家的君主位於附圖中何處？ (A)甲 (B)丁 (C)戊 (D)己。
33. 歐洲專制王權的代表人物之一，這位君王在位期間大力西化，推動改革、整建軍備並擴張領土，將國家從落後的次等國，變成歐洲列強之一。請問：上述國家的君主位於附圖中何處？ (A)甲 (B)乙 (C)丁 (D)己。

※歷史試題結束，請換頁繼續作答。

本試卷分地理、歷史、公民 3 個部份，請依序作答，並按照題號畫卡。
各部份題目配分及試卷頁數請參見說明，總分為 100 分。請謹慎作答。

班級： 座號：
姓名：

第 3 部份： 公民（第 34—50 題為公民試題，每題 2 分，共計 2 頁，請謹慎作答）



34. 上圖是國際貿易對國家經濟影響的示意圖。

下列關於此圖的相關敘述，何者正確？

- (A) 圖中的(甲)應該填上「順差」
- (B) 圖中的(甲)應該填上「入超」
- (C) 圖中的(乙)應該填上「小於」
- (D) 此時國家持有的外匯存底減少。

35. 香吉士與索隆合開了一家早餐店。香吉士每小時生產 20 個包子，索隆每小時生產 10 個包子；

香吉士每小時生產 30 個饅頭，但因為忙碌，忘了記錄索隆每小時生產饅頭的數量，只是香吉士在生產包子方面產量較高，但在分工時卻負責生產饅頭，請問：採取此種分工方式的理由可能為下列何者？ (A) 香吉士生產包子具有絕對利益 (B) 索隆生產饅頭具有比較利益 (C) 香吉士生產包子的機會成本較低 (D) 索隆生產饅頭的機會成本較高。

36. 新聞報導：「新台幣近期匯率走升，加上貿易戰無新進展，讓具有避險性質的日圓持續走貶，日圓今天開盤一度貶破 0.27 元，創下近 8 個月以來新低。」若僅考慮匯率變動對臺、日間的觀光及貿易交流可能產生的影響，請問下列敘述何者正確？

- (A) 碩珍：台灣人赴日本旅遊的費用會降低
- (B) 泰亨：從日本進口的商品價格將會上漲
- (C) 南俊：有利於日本民眾到台灣投資、消費
- (D) 枉國：有助於台灣縮小對日本的貿易逆差。

37. 「某企業為衝高產品銷售量，釋放產品原物料價格上漲的假消息，引發消費者的恐慌與搶購，事後證實根本沒有這回事，然而此舉已造成社會混淆視聽與困擾...。」關於上述報紙刊登的報導內容，該主題主要在探討何者之間的關聯？ (A) 預期心理與供給法則 (B) 商業利益與社會責任 (C) 資訊科技與

消費權益 (D) 行銷策略與企業利潤。

38. 下表是企業型態特色比較表，敘述「錯誤」的是？

企業型態	獨資企業	合夥企業	股份有限公司
(A) 所有權的歸屬	單一經營者	兩人以上之合夥人	兩名以上的股東
(B) 決策自主性	高	中	低
(C) 利潤分享	獨享	依合夥人約定或出資比例	依股東出資比例
(D) 企業資產不足以承擔虧損時	出資者須以個人財產清償債務	合夥人須以個人財產共同清償債務。	股東須以個人財產共同清償債務。

39. 幸福咖啡館雇用小花和小草兩人，下表是兩人分工合作生產三明治與鬆餅的單位時間產量表。老闆依分工合作原理，由小花負責三明治，小草做鬆餅。根據上述判斷，表中的★最可能是下列何者？

- (A) 4 (B) 3 (C) 2 (D) 1。

	小花	小草
三明治	★ 個	5 個
鬆餅	2 個	3 個

40. 在國際市場更加自由化的趨勢下，出口廠商獲得拓展國際市場的機會，但進口商品數量增加，使得本土業者面對更大的競爭壓力。為了兼顧產業界需求並提升國家競爭力，政府應該採取下列何種做法？ (A) 提高進口商品的關稅，保護國內產業 (B) 設立加口出口區，降低人力成本 (C) 鼓勵業者研發創新，促進產業升級 (D) 讓新台幣大幅貶值，提升出口競爭力。

41. 消費者應建立綠色消費的概念，選購對環境傷害較少、汙染程度低的產品。下列哪些行為符合綠色消費的理念？ (甲) 購買精美包裝的商品 (乙) 車輛臨時熄火、關引擎 (丙) 購買有環保標章的商品 (丁) 購買進口的農產品。正確的是

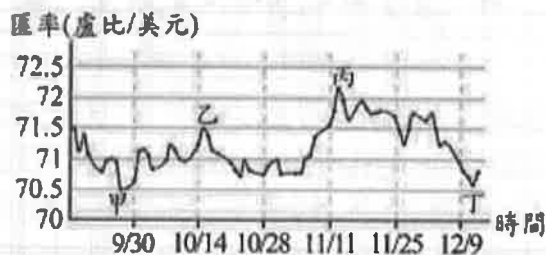
- (A) 甲乙 (B) 丙丁 (C) 乙丙 (D) 甲丁。

42. 下列關於經濟學概念的配對，何者正確？ (A) 賠錢生意沒人作——需求法則 (B) 國際分工——絕對利益法則 (C) 天下沒有白吃的午餐——受益原則 (D) 天生我材必有用——比較利益法則。
43. 小岩、小太與小冬三人，以同時段由其中二人工作的方式輪班生產饅頭與包子，輪班時依據比較利益原則進行分工，下表為他們一個小時的產量表。小岩與小太搭檔生產時，小太負責生產饅頭；而小太與小冬搭檔生產時，小太則負責生產包子，根據表中資料判斷，甲最可能為下列何者？
- (A)25 (B)30 (C)35 (D)40。

單位：個/小時

	饅頭	包子
小岩	20	20
小太	甲	25
小冬	40	30

44. 右圖顯示某年度在不同時間點，以 1 美元兌換印度盧比的比率。若僅根據圖中甲、乙、丙、丁四個不同時間點的匯率變動情形，判斷以下關於印度與美國之間的貿易分析，何者最正確？
- (A) 甲到乙的變動，顯示印度盧比相對於美元升值
 (B) 乙到丙的變動，有助於印度出口商品到美國
 (C) 丙到丁的變動，會帶動印度國內的物價上漲
 (D) 甲時間點，是美國商人兌換盧比的最佳時機。



45. 蘋果電腦的 iPod 總共由 451 個零件所構成，但是大部分的零件卻是由不同的公司在不同的國家製造，最後才在中國的工廠進行組裝。蘋果公司做此決策的主要目的是 (A) 降低生產成本 (B) 平衡貿易逆差 (C) 分散投資風險 (D) 拓展消費市場。
46. 2019 年政府『限塑政策』優先推動連鎖、速食餐廳等一定規模餐飲業者「內用」飲品不提供塑膠吸管，2020 年所有餐飲業內用則都不可提供，2025 年全面限用，民眾需要塑膠吸管必須自費購買，2030 年則全面禁用，商家不得提供塑膠吸管。政府的『限塑政策』，主要是希望達到下列何種目標？ (A) 照顧弱勢，實現社會正義 (B) 促進消

費，提升企業利潤 (C) 鼓勵創新，促進產業升級 (D) 綠色經濟，落實永續發展。

47. 小光的臉書跳出一則 2017 年的動態回顧如下：「我期待已久的蘋果手機 iPhone X 終於要上市了，台灣官網的訂價是 30000 元。最近剛好有朋友分別要去日本、美國、德國，精打細算的我比較了這些國家與台灣的售價以及匯率，整理如下表，最後成功以最低價購入 iPhone X。」

台灣官網定價 新台幣 30000 元	
外國官網定價	匯率
日本官網定價 100000 日圓	日圓：新台幣 = 4：1
美國官網定價 950 美元	美金：新台幣 = 1：30
德國官網定價 900 歐元	歐元：新台幣 = 1：35

請問：小光採取了下列何種行動，使他順利以最低價購得 iPhone X？ (A) 直接在台灣購買 (B) 請朋友去日本購買 (C) 請朋友去美國購買 (D) 請朋友去德國購買。

「取之於社會、用之於社會」。企業在獲取利潤時，更要做到回饋社會，謂之企業的「社會責任」。而此責任的面向有三：消費者、員工、社會。

48. 牛爺爺在五十年前創設的「牛魔王牛排館」，生意興隆，十年前還開放業者加盟，並且打算要發行股份，擴大企業規模。牛爺爺堅持「三好一公道」，也就是食材好、口味好、服務好、價錢公道。請問：牛爺爺對下列何人盡到了社會責任？
- (A) 員工 (B) 加盟業者 (C) 消費者 (D) 股東。
49. 下課後，同學們討論企業對於「社會」應負起的社會責任，請問誰提的例子「不適當」？ (A) 大恕：「統一超商」成立「綠色基金」，贊助「荒野保護協會」 (B) 小花：樂高在德國北海岸興建兩座海上風電廠，希望產品全部採用再生能源製造 (C) 萱萱：「台積電公司」營收再創新高，股票大漲，讓股東們荷包滿滿，眉開眼笑 (D) 阿若：「家樂福基金會」開啟續食計畫，把即將被丟棄的食材，以低廉的價格，提供給弱勢家庭。
50. 下列哪些作為善盡了企業應負的社會責任？
- (甲) 拒絕員工籌組工會，避免勞資對立 (乙) 捐贈球具等設備，協助學校成立運動校隊 (丙) 強化生產過程中的安全機制，杜絕工安意外 (丁) 加薪、發放紅利，與員工共享企業利潤。正確的是：(A) 甲乙丙 (B) 乙丙丁 (C) 甲丙丁 (D) 甲乙丙丁。

電腦閱卷答案卡

年	班	座號	姓名	科目
104	1-3	9	社會	

畫記說明

※請使用2B鉛筆畫記。正確→ 不正確→

班級	0	1	2	3	4	5	6	7	8	9
座號	0	1	2	3	4	5	6	7	8	9

1	<input type="checkbox"/> A	<input type="checkbox"/> B	<input checked="" type="checkbox"/> C	<input type="checkbox"/> D	<input type="checkbox"/> E	31	<input type="checkbox"/> A	<input type="checkbox"/> B	<input type="checkbox"/> C	<input type="checkbox"/> D	<input type="checkbox"/> E
2	<input type="checkbox"/> A	<input type="checkbox"/> B	<input type="checkbox"/> C	<input checked="" type="checkbox"/> D	<input type="checkbox"/> E	32	<input type="checkbox"/> A	<input type="checkbox"/> B	<input type="checkbox"/> C	<input type="checkbox"/> D	<input type="checkbox"/> E
3	<input type="checkbox"/> A	<input checked="" type="checkbox"/> B	<input type="checkbox"/> C	<input type="checkbox"/> D	<input type="checkbox"/> E	33	<input type="checkbox"/> A	<input type="checkbox"/> B	<input checked="" type="checkbox"/> C	<input type="checkbox"/> D	<input type="checkbox"/> E
4	<input type="checkbox"/> A	<input type="checkbox"/> B	<input type="checkbox"/> C	<input type="checkbox"/> D	<input checked="" type="checkbox"/> E	34	<input type="checkbox"/> A	<input type="checkbox"/> B	<input type="checkbox"/> C	<input type="checkbox"/> D	<input type="checkbox"/> E
5	<input type="checkbox"/> A	<input type="checkbox"/> B	<input type="checkbox"/> C	<input type="checkbox"/> D	<input type="checkbox"/> E	35	<input type="checkbox"/> A	<input type="checkbox"/> B	<input type="checkbox"/> C	<input type="checkbox"/> D	<input type="checkbox"/> E
6	<input checked="" type="checkbox"/> A	<input type="checkbox"/> B	<input type="checkbox"/> C	<input type="checkbox"/> D	<input type="checkbox"/> E	36	<input type="checkbox"/> A	<input type="checkbox"/> B	<input type="checkbox"/> C	<input type="checkbox"/> D	<input type="checkbox"/> E
7	<input type="checkbox"/> A	<input type="checkbox"/> B	<input checked="" type="checkbox"/> C	<input type="checkbox"/> D	<input type="checkbox"/> E	37	<input type="checkbox"/> A	<input checked="" type="checkbox"/> B	<input type="checkbox"/> C	<input type="checkbox"/> D	<input type="checkbox"/> E
8	<input type="checkbox"/> A	<input type="checkbox"/> B	<input type="checkbox"/> C	<input checked="" type="checkbox"/> D	<input type="checkbox"/> E	38	<input type="checkbox"/> A	<input type="checkbox"/> B	<input type="checkbox"/> C	<input type="checkbox"/> D	<input type="checkbox"/> E
9	<input type="checkbox"/> A	<input checked="" type="checkbox"/> B	<input type="checkbox"/> C	<input type="checkbox"/> D	<input type="checkbox"/> E	39	<input type="checkbox"/> A	<input type="checkbox"/> B	<input type="checkbox"/> C	<input type="checkbox"/> D	<input type="checkbox"/> E
10	<input type="checkbox"/> A	<input type="checkbox"/> B	<input type="checkbox"/> C	<input checked="" type="checkbox"/> D	<input type="checkbox"/> E	40	<input type="checkbox"/> A	<input type="checkbox"/> B	<input checked="" type="checkbox"/> C	<input type="checkbox"/> D	<input type="checkbox"/> E
11	<input checked="" type="checkbox"/> A	<input type="checkbox"/> B	<input type="checkbox"/> C	<input type="checkbox"/> D	<input type="checkbox"/> E	41	<input type="checkbox"/> A	<input type="checkbox"/> B	<input checked="" type="checkbox"/> C	<input type="checkbox"/> D	<input type="checkbox"/> E
12	<input type="checkbox"/> A	<input type="checkbox"/> B	<input checked="" type="checkbox"/> C	<input type="checkbox"/> D	<input type="checkbox"/> E	42	<input type="checkbox"/> A	<input type="checkbox"/> B	<input type="checkbox"/> C	<input checked="" type="checkbox"/> D	<input type="checkbox"/> E
13	<input type="checkbox"/> A	<input checked="" type="checkbox"/> B	<input type="checkbox"/> C	<input type="checkbox"/> D	<input type="checkbox"/> E	43	<input type="checkbox"/> A	<input type="checkbox"/> B	<input type="checkbox"/> C	<input type="checkbox"/> D	<input type="checkbox"/> E
14	<input type="checkbox"/> A	<input type="checkbox"/> B	<input type="checkbox"/> C	<input type="checkbox"/> D	<input checked="" type="checkbox"/> E	44	<input type="checkbox"/> A	<input type="checkbox"/> B	<input type="checkbox"/> C	<input type="checkbox"/> D	<input type="checkbox"/> E
15	<input type="checkbox"/> A	<input type="checkbox"/> B	<input checked="" type="checkbox"/> C	<input type="checkbox"/> D	<input type="checkbox"/> E	45	<input checked="" type="checkbox"/> A	<input type="checkbox"/> B	<input type="checkbox"/> C	<input type="checkbox"/> D	<input type="checkbox"/> E
16	<input type="checkbox"/> A	<input checked="" type="checkbox"/> B	<input type="checkbox"/> C	<input type="checkbox"/> D	<input type="checkbox"/> E	46	<input type="checkbox"/> A	<input type="checkbox"/> B	<input type="checkbox"/> C	<input checked="" type="checkbox"/> D	<input type="checkbox"/> E
17	<input type="checkbox"/> A	<input checked="" type="checkbox"/> B	<input type="checkbox"/> C	<input type="checkbox"/> D	<input type="checkbox"/> E	47	<input type="checkbox"/> A	<input checked="" type="checkbox"/> B	<input type="checkbox"/> C	<input type="checkbox"/> D	<input type="checkbox"/> E
18	<input type="checkbox"/> A	<input type="checkbox"/> B	<input checked="" type="checkbox"/> C	<input type="checkbox"/> D	<input type="checkbox"/> E	48	<input type="checkbox"/> A	<input type="checkbox"/> B	<input checked="" type="checkbox"/> C	<input type="checkbox"/> D	<input type="checkbox"/> E
19	<input checked="" type="checkbox"/> A	<input type="checkbox"/> B	<input type="checkbox"/> C	<input type="checkbox"/> D	<input type="checkbox"/> E	49	<input type="checkbox"/> A	<input type="checkbox"/> B	<input checked="" type="checkbox"/> C	<input type="checkbox"/> D	<input type="checkbox"/> E
20	<input type="checkbox"/> A	<input type="checkbox"/> B	<input checked="" type="checkbox"/> C	<input type="checkbox"/> D	<input type="checkbox"/> E	50	<input type="checkbox"/> A	<input checked="" type="checkbox"/> B	<input type="checkbox"/> C	<input type="checkbox"/> D	<input type="checkbox"/> E
21	<input type="checkbox"/> A	<input type="checkbox"/> B	<input type="checkbox"/> C	<input checked="" type="checkbox"/> D	<input type="checkbox"/> E	51	<input type="checkbox"/> A	<input type="checkbox"/> B	<input type="checkbox"/> C	<input type="checkbox"/> D	<input type="checkbox"/> E
22	<input type="checkbox"/> A	<input checked="" type="checkbox"/> B	<input type="checkbox"/> C	<input type="checkbox"/> D	<input type="checkbox"/> E	52	<input type="checkbox"/> A	<input type="checkbox"/> B	<input type="checkbox"/> C	<input type="checkbox"/> D	<input type="checkbox"/> E
23	<input type="checkbox"/> A	<input type="checkbox"/> B	<input type="checkbox"/> C	<input checked="" type="checkbox"/> D	<input type="checkbox"/> E	53	<input type="checkbox"/> A	<input type="checkbox"/> B	<input type="checkbox"/> C	<input type="checkbox"/> D	<input type="checkbox"/> E
24	<input type="checkbox"/> A	<input checked="" type="checkbox"/> B	<input type="checkbox"/> C	<input type="checkbox"/> D	<input type="checkbox"/> E	54	<input type="checkbox"/> A	<input type="checkbox"/> B	<input type="checkbox"/> C	<input type="checkbox"/> D	<input type="checkbox"/> E
25	<input type="checkbox"/> A	<input checked="" type="checkbox"/> B	<input type="checkbox"/> C	<input type="checkbox"/> D	<input type="checkbox"/> E	55	<input type="checkbox"/> A	<input type="checkbox"/> B	<input type="checkbox"/> C	<input type="checkbox"/> D	<input type="checkbox"/> E
26	<input type="checkbox"/> A	<input type="checkbox"/> B	<input checked="" type="checkbox"/> C	<input type="checkbox"/> D	<input type="checkbox"/> E	56	<input type="checkbox"/> A	<input type="checkbox"/> B	<input type="checkbox"/> C	<input type="checkbox"/> D	<input type="checkbox"/> E
27	<input type="checkbox"/> A	<input type="checkbox"/> B	<input type="checkbox"/> C	<input checked="" type="checkbox"/> D	<input type="checkbox"/> E	57	<input type="checkbox"/> A	<input type="checkbox"/> B	<input type="checkbox"/> C	<input type="checkbox"/> D	<input type="checkbox"/> E
28	<input type="checkbox"/> A	<input type="checkbox"/> B	<input type="checkbox"/> C	<input checked="" type="checkbox"/> D	<input type="checkbox"/> E	58	<input type="checkbox"/> A	<input type="checkbox"/> B	<input type="checkbox"/> C	<input type="checkbox"/> D	<input type="checkbox"/> E
29	<input checked="" type="checkbox"/> A	<input type="checkbox"/> B	<input type="checkbox"/> C	<input type="checkbox"/> D	<input type="checkbox"/> E	59	<input type="checkbox"/> A	<input type="checkbox"/> B	<input type="checkbox"/> C	<input type="checkbox"/> D	<input type="checkbox"/> E
30	<input checked="" type="checkbox"/> A	<input type="checkbox"/> B	<input type="checkbox"/> C	<input type="checkbox"/> D	<input type="checkbox"/> E	60	<input type="checkbox"/> A	<input type="checkbox"/> B	<input type="checkbox"/> C	<input type="checkbox"/> D	<input type="checkbox"/> E

名科資訊:(02)27991501

9SP601_B

