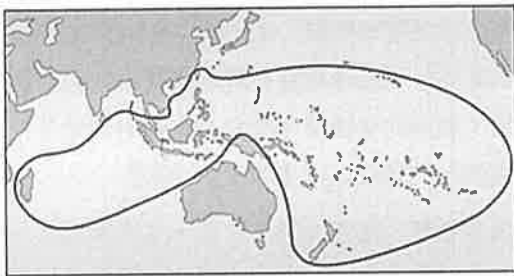


本試卷分地理、歷史、公民 3 個部份，請依序作答，並按照題號畫卡。
各部份題目配分及試卷頁數請參見說明，總分為 100 分。請謹慎作答。

班級： _____ 座號： _____
姓名： _____

第 1 部份：地理（每題 2 分，共 17 題）

1. 目前全球約有 4 億人使用南島語，以語言學的角度分析發現，南島語系的許多分支都可以往回追溯到臺灣，透過 DNA 分析資料也顯示約 4,000 年前有一部分的人口擴散是源自於臺灣。下圖為南島語族分布範圍示意圖，請問南島語族現今主要分布於世界哪一洲？



(A)亞洲 (B)非洲 (C)美洲 (D)大洋洲。

2. 紐西蘭擁有地熱、天然溫泉、火口湖、冰蝕湖、石灰岩洞穴、海蝕地形、峽灣國家公園等眾多觀光景點，被稱為「活的地形教室」。請問紐西蘭擁有「活的地形教室」稱號的主要因素為何？

(A)地質年輕，地形起伏大
(B)人為活動少，干擾程度低
(C)火山、冰河等地形景觀豐富
(D)有活火山分布且近年曾噴發。

3. 如下圖，紐西蘭主要由南、北兩大島組成，最早居住在紐西蘭的原住民，多分布於北島；根據統計，紐西蘭現在也以北島人口密度較高，造成此種人口分布特徵的主要原因為北島的何種特徵？

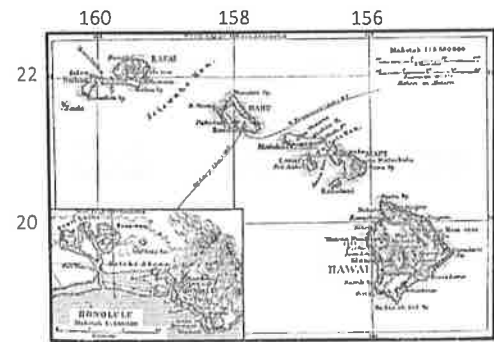
(A)緯度較低，氣候溫暖
(B)鄰近首都，經濟繁榮
(C)平原廣闊，農業發達
(D)開發較早，建設完善。



4. 到澳洲觀光最具有特色的行程，是有機會近距離接觸無尾熊、袋鼠、袋獾、鸚鵡、鴨嘴獸、針鼯鼠、袋熊、袋狸等許多特有種動物，此與當地何種地理特徵關係最密切？

(A)有袋哺乳類適合群聚生活
(B)長期隔絕於世界各大陸之外
(C)地形氣候多樣、自然環境多元
(D)曾實施白澳政策，禁止外來移民。

◎夏威夷群島是太平洋島嶼當中少數農業發達的地區，糖和菠蘿曾是夏威夷的代名詞，而近年夏威夷也名列世界頂級咖啡產地之一。右圖為夏威夷群島地圖，圖框外的數字為經緯度，請問第 5~7 題：



5. 依據夏威夷群島的經緯度位置判斷，夏威夷屬於下列哪一島群？

(A)美拉尼西亞 (B)印度尼西亞
(C)玻里尼西亞 (D)密克羅尼西亞。

6. 太平洋諸島中各島嶼主要的成因各不相同，而影響到各地不同的地形特色及人文發展，請問夏威夷群島的形成較符合下列哪一種島嶼類型？

(A)大陸島 (B)火山島 (C)沙洲島 (D)珊瑚礁島。

7. 夏威夷群島相較於太平洋上的其他島嶼，農業發展條件佳，當地的原住民多以農耕維生，主要是因為當地的何種地理特徵？

(A)水氣豐富、土壤肥沃
(B)人口稀少、耕地廣大
(C)地勢低平、四面環海
(D)地質年輕、地形崎嶇。

◎2019年3月底，外交部青年署公布最新打工度假國家，分別為：澳洲、加拿大、紐西蘭、英國、日本……等國，自2004年開放打工度假以來，已超過20萬人青年赴海外工作假期。請問第8~9題：

8. 臺灣有許多青年到澳洲、紐西蘭打工，而紐、澳國也需要藉由國際移工協助當地的產業發展。主因為紐、澳等國具有下列何項特徵？

- (A)人口密度低，勞工人數不足
- (B)經濟發達，一級產業人口少
- (C)當地人種體型限制，生產力低
- (D)位居世界交通樞紐，外來人口多。

9. 在紐、澳打工最常見的工作內容之一就是採水果，例如蘋果、櫻桃、奇異果，水果收成後經過分級、包裝，主要銷售到海外。這些水果成為紐、澳出口的主要產品之一，與當地的哪一項地理要素關係最密切？

- (A)生產成本較低
- (B)與北半球產季相反
- (C)接近消費市場
- (D)經濟依賴一級產業。

◎澳洲大堡礁是由數十億隻微小的珊瑚蟲所建構成的，是世界最大最長的珊瑚礁群，也是生物所建造的最大物體，從外太空也能看到。在1981年被列入世界自然遺產名錄，也曾被CNN選為世界七大自然奇觀。請問第10~11題：

10. 大堡礁位於右圖中哪個位置？

- (A)甲
- (B)乙
- (C)丙
- (D)丁。



11. 近代人類大量使用化石燃料及過度農、牧導致的氣候變遷對此地造成的影響主要為何？

- (A)高山冰河後退
- (B)冰層範圍縮小
- (C)海水淹沒國土
- (D)沿岸珊瑚白化。

◎澳洲歷史上長期與歐洲關係密切，但近年逐漸將經濟合作的重心轉移到亞洲地區，請問第12~13題：

12. 下列哪一個組織的成員為近年澳洲主要的合作夥伴之一？

- (A)歐盟
- (B)聯合國
- (C)世界衛生組織
- (D)亞太經濟合作會議。

13. 近代澳洲有上述轉變最主要的考量為下列何者？

- (A)距離遠近影響運輸成本
- (B)語言文化相近溝通方便
- (C)透過經濟合作促進外交
- (D)市場的供需能彼此互補。

◎右圖為澳洲主要氣候類型分布示意圖，請依據圖中代號回答第14~15題：

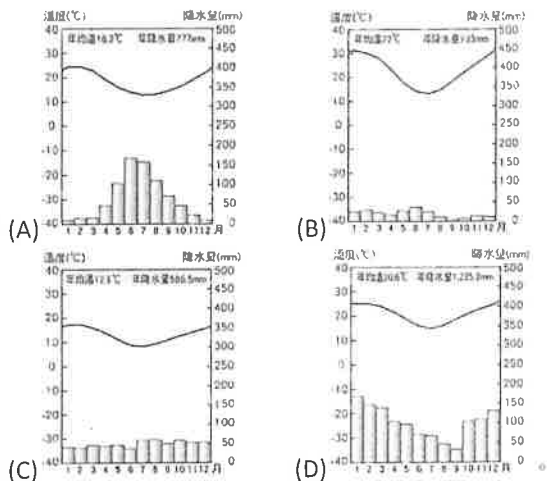
14. 酪農業是指農民種植牧草作為飼料，餵養乳牛、乳羊等，以生產鮮乳或乳製品的產業，為了提供消費者新鮮



的乳品，一般產地會在靠近消費市場的地區，請問：澳洲的酪農業主要分布在圖中何地？

- (A)甲
- (B)乙
- (C)丙
- (D)丁。

15. 澳洲素有「褐色大陸」之稱，主要原因之一為國土內有廣大的區域屬於「丁」區的氣候類型，請問「丁」區的氣候較符合下列哪一張氣候圖？



◎澳洲大分水嶺山脈東側迎風坡多雨，受到岩層傾斜影響，雨水下滲後形成地下水往山脈西側流，地下水透過鑽井或天然泉眼等湧出地表，為少雨的中部平原低地帶來豐富水源以發展農牧業。請問第16~17題：

16. 大分水嶺山脈東側的盛行風為下列何者？

- (A)西風
- (B)東北季風
- (C)東南信風
- (D)副熱帶高壓。

17. 根據澳洲主要農牧業的分布情形判斷，下列何者最可能是澳洲中部平原低地的產品？

- (A)櫻桃
- (B)鮮奶
- (C)羊毛
- (D)牛肉。

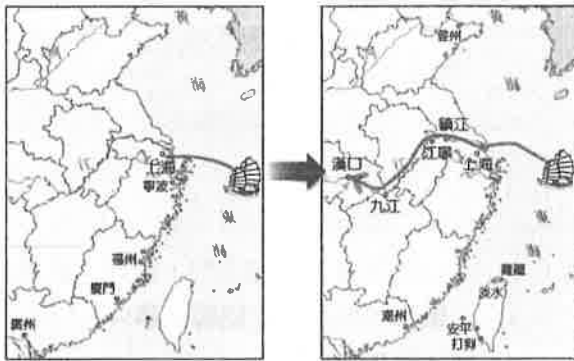
【地理試題到此結束，請繼續換頁作答】

本試卷分地理、歷史、公民 3 個部份，請依序作答，並按照題號畫卡。
各部份題目配分及試卷頁數請參見說明，總分為 100 分。請謹慎作答。

班級： 座號：
姓名：

第 2 部份：歷史（共 16 題，每題 2 分，共 2 頁）

18. 約翰是一名歐洲商人，在 19 世紀來到中國經商。隨著清朝對外關係的發展，使他的貿易範圍得如下圖所示拓展。請問，外商在華貿易範圍能如此變化，與下列哪一事件相關？（A）馬加爾尼訪華（B）中英鴉片戰爭（C）兩次英法聯軍之役（D）中日甲午戰爭。



19. 小芳老師利用右附地圖說明清朝末年的一件重要大事。請問，下列何者最有可能出現在她的講稿當中？（A）此戰之後外國人方可在中國內地遊歷與傳教（B）此後中國政府必須與外國政府協商，才能訂定外國貨物進口的稅率（C）戰後清廷派遣大臣出國考察憲政預備立憲（D）此後外國人可在中國通商口岸設廠製造。



20. 以下是道光年間，幾個外國商人的對話：
湯姆：僅能在廣州一地貿易，根本無法拓展市場！
亞瑟：中國政府限制我們在華貿易甚至人身行動的自由，造成我們莫大的困擾，真是無法忍受！
鮑伯：我們應該請求政府派兵攻打中國，才有可能進行公平合理的貿易！
請問這樣的議題內容在哪件事情之後，開始獲得初步解決？（A）英國派遣使節團來華談判（B）中英簽訂《南京條約》（C）八國聯軍逼迫中國解決通商問題（D）英法聯軍要求中國改善。
21. 清末某位思想保守傳統的大臣說：「立國之道，尚

禮義不尚權謀；根本之圖，在人心，不在技藝。今求技藝之末，又奉夷人為師。夷人詭譎，未必傳其精巧。何必夷人？何必師事夷人？」請問，這位大臣所批評的是下列哪項政策？（A）自強運動（B）立憲運動（C）戊戌變法（D）庚子後新政。

22. 清末一位學者有感而發的說：「民主革命破壞力太大，中國已有東亞病夫之名，不應服食猛藥，而導致國家滅亡。英、日兩國皆以君主立憲而國家富強，可為取法的對象。」針對當時中國的危局，這位學者最可能採取何種行動？（A）購買西式槍炮抗敵（B）練習拳法抵禦外侮（C）參與革命運動建立共和國（D）建議朝廷推行憲政。

23. 慈禧太后曾有以下自述：「我本來執定不同洋人破臉的，中間一段時期，因洋人欺負太甚了，也不免有些動氣。雖是沒攔阻他們，始終沒叫他們十分盡意的胡鬧。火氣一過，我也就回轉頭來，處處都留著餘地。我若由他們盡意的鬧，難道一個使館有攻不下來的道理？」從中可見慈禧所抱持的對外態度。然而這種態度最後引發了下列哪場戰爭？（A）鴉片戰爭（B）甲午戰爭（C）英法聯軍（D）八國聯軍。

24. 承上題，慈禧太后自述中的「他們」，所指稱的應是下列何者？（A）康有為、梁啟超（B）清朝所編練新軍（C）義和團民眾（D）皇族內閣。

25. 右圖改繪自歐洲 19 世紀報刊插畫，呈現出當時清帝國的處境：國土疆域如同桌上大餅般被列強瓜分。請問，這種現象起因於下列哪場戰爭？（A）中英鴉片戰爭（B）中日甲午戰爭



（C）英法聯軍之役（D）八國聯軍之役。

26. 下表，為清朝某時期白銀與銅錢兌換數量的演變情形。請就你所瞭解的中國貨幣制度與中國近代史發展，解讀以下同學的說法何者正確？

時間	白銀 1 兩所兌換的銅錢數量
1795 年	700 枚銅錢
1805 年	1000 枚銅錢
1821 年	1200 枚銅錢
1838 年	1600 枚銅錢

(A) 萬萬：從表中可讀出此時期白銀下跌，其主因應與鴉片的大量輸入有關 (B) 小芳：從表中可讀出銅錢不斷貶值，其原因應與朝貢貿易盛行而白銀大量輸出有關 (C) 阿高：一直持續到清朝末年的「白銀銅錢並用制度」，源自於秦始皇統一幣制政策 (D) 大中：清代的法定貨幣為銅錢，為民間所通用，而國家的收支則以白銀為準。

[題組] 請就以下四則資料中的內容，判斷其所發表言論的歷史背景，回答第 27、28 題：

資料一：「朕惟國是不定，則號令不行，用特明白宣示，嗣後中外大小臣工，自王公以及士庶，各宜努力向上，發憤為雄，以聖賢義理之學植其根本，又須博採西學之切於時務者實力講求，以救空疏迂謬之弊。京師大學堂為各行省之倡，尤就首先舉辦。」

資料二：「著即自丙午年為始，所有鄉會試一律停止，各省歲科考試亦即停止，其以前之舉貢生員分別量予出路，及其餘各樣，均著照所請辦理。總之，學堂本古學校之制，其獎勵出身又與科舉無異。是在官紳申明宗旨，聞風興起，多建學堂，普及教育，國家既獲樹人之益，即地方亦有光容。」

資料三：「此事之辱，我不任咎也。凡行軍制勝，海軍惟恃炮船，陸戰惟恃槍炮，稍有優劣，則利鈍懸殊。倭人於近時年來一意治兵，專師西法，傾其國庫購置船械，愈出愈精。中國限於財力，拘於部議，未能放手舉辦。無餉、無械、無兵，以北洋一隅之力，搏倭人全國之師，自知不逮。」

資料四：「天下者，祖宗之天下也，汝何敢任意妄為！諸臣者，皆我多年歷選，留以輔汝，汝何敢任意不用！」

27. 請依各資料內容，判斷此四則論點出現的歷史背景，排列出先後順序：

- (A) 資料一→資料四→資料三→資料二
 (B) 資料一→資料二→資料三→資料四
 (C) 資料三→資料四→資料一→資料二
 (D) 資料三→資料一→資料四→資料二。

28. 以下同學針對資料三的論述，下列何者正確？

小芳：文中檢討敵情優於中國的原因，實為戊戌

變法的成功；萬萬：這場中國失敗的戰爭，應為清法戰爭；阿高：此引文說明了中國自強運動成效不彰的原因；大中：此論的發言者應該是李鴻章 (A) 小芳、萬萬 (B) 阿高、大中 (C) 萬萬、阿高 (D) 大中、小芳。

29. 1905 年的中國報紙報導：「這一場戰爭，是君主立憲戰勝君主專制的最佳寫照。我們的政府應該也要仿行君主立憲的體制，讓國家富強。」根據上述的內容，所指的應是下列哪場戰爭？(A) 鴉片戰爭 (B) 英法聯軍 (C) 日俄戰爭 (D) 八國聯軍。
30. 清中葉以來中國面臨一連串的西力衝擊，朝野也才開始逐漸意識到改革的重要性。請問以下的「西力挑戰」與「中國回應」之間的關係，何者正確？(A) 鴉片戰爭之後中國開啟自強運動 (B) 英法聯軍之後，清朝推動戊戌變法 (C) 甲午戰爭的結果促使國人推動立憲運動 (D) 八國聯軍之役促成庚子後新政。
31. 「清廷須賠款四億五千萬兩白銀，分 39 年償清，年息四釐，連同各省教案賠款在內，償清總價高達十億兩以上，影響國計民生更為嚴重。」「清廷被要求北京須畫定使館區，由各國駐軍防守。此造成中國首都內即出現敵國的荒謬情形。」「清廷須削平大沽及北京至海口砲臺，允許各國駐軍於北京到海口之間重要地點。這使中國國防門戶全開，國家安全遭到莫大威脅。」請問以上討論所關心的主題，應為下列何者所造成的影響？(A) 馬關條約 (B) 辛丑和約 (C) 中英南京條約 (D) 中英北京條約。
32. 「在中國近代史上，此處的租界開闢最早，存在時間最長，面積最大，經濟的發展十分快速，對周邊地區的近現代歷史發展產生了深遠影響，成為中國人接觸西方文化的一個重要窗口。」請問，上文中的「此處」應指下列何者？(A) 南京 (B) 北京 (C) 上海 (D) 天津。
33. 梁啟超曾在一篇文章中提到：「重視男女平權觀念，尤以美國最具代表性；透過女學的設立，使日本逐漸趨於強盛。女學的設立更能帶來國家興盛與啟迪人民思想的效果。…若能採用西方的教育制度，載明先聖先賢的遺訓，則能達到強國保種的目的。」就以上引文而言，梁啟超認為中國若要強國保種，應該施行何種措施？(A) 進行政府官制的改革 (B) 籌辦並重視女子教育 (C) 鼓勵國人到美國或日本留學 (D) 制定保障女子權利的法律。

本試卷分地理、歷史、公民 3 個部份，請依序作答，並按照題號畫卡。
各部份題目配分及試卷頁數請參見說明，總分為 100 分。請謹慎作答。

班級： 座號：
姓名：

第 3 部份：公民（每題兩分、共 17 題）

34. 紐約時報(The New York Times)與紐約客(The New Yorker)雜誌因揭發好萊塢「金牌製作人」溫斯坦(Harvey Weinstein)性侵女明星與女性工作人員醜聞，促成網路上掀起「#我也是」(#MeToo)運動，贏得新聞界最高殊榮普立茲獎(Pulitzer Prize)。上述內容顯示媒體主要發揮了何項功能與角色？

- (A)報導真相、監督政府 (B)揭發事實、審判犯人
(C)提供訊息、形成民意 (D)監督政府、修正法律

35. 小光讀西洋史時發現，英國早期曾讓受大學教育者在選舉中可以多投一票，即擁有投兩票的權利，此種情形違反現今選舉投票制度的哪項原則？

- (A)平等原則 (B)普通原則
(C)直接原則 (D)無記名原則

36. 某政治人物日前赴喪禮，遵循當地習俗捧筆以示哀悼，該行為被人錄下後剪輯，註明「殉職員警的會場，你不願意就別來，拽什麼拽，簽完名字，筆還用丟的」，並在網路上瘋傳。該政治人物解釋當時並非參與殉職員警的喪禮，且捧筆亦非不尊重，因此向警察機關檢舉，處罰製作影片的當事人 1,000 元罰款。若從媒體識讀的角度來解釋上述新聞內容，則下列說明何者正確？

- (A)該新聞呈現事實與意見並存的狀況
(B)閱聽人應秉持懷疑精神並積極查證
(C)該影片顯示媒體存在著隱藏性歧視
(D)影片接受廠商贊助而有廣告的嫌疑

37. 西元 2022 年將舉辦地方九合一大選，設籍於臺北市的國慶也達到參與選舉的年齡，他會將手中的一票投給心目中理想的候選人。依據我國法律規定，國慶應於臺北市設籍滿幾個月才有選舉的資格？

- (A)3 個月 (B)4 個月
(C)5 個月 (D)6 個月

38. 阿文在網路上看到下列的一則新聞，根據新聞內容判斷媒體與社群網路的描述，何者正確？

- (A)此事件顯示了媒體的立場偏頗的問題
(B)亞馬孫森林的火災是一種意見的陳述
(C)此新聞發揮媒體提供訊息的公共角色
(D)此新聞屬於事實評論故不需加以查證

亞馬孫森林每年都會有森林火災，日前有一則「亞馬孫森林已燒了三週」的報導，搭配許多動物倉皇逃走與受傷的照片，震撼了全球並迅速傳播，讓許多人了解事情的嚴重性。然而，經查證該照片內容皆非這次火災的景象，而是過去在世界各地所拍下的照片。

39. 阿文看了以上的報導之後，寫下他的心得：「我認為媒體應該善盡查證的責任，而不是一味搶新搶快；但(甲)只要有(乙)的基本能力，假消息就不會具有威脅性。」(甲)與(乙)應分別為下列何者？

- (A)閱聽人、媒體識讀
(B)閱聽人、守門員
(C)大眾傳播媒體、媒體識讀
(D)大眾傳播媒體、議題設定

40. 在民主國家，人民通常透過政治參與來監督政府，增進人民生活福利，下列何者屬於政治參與的行為？

- (A)參加跨年演唱會 (B)出席學校家長會
(C)參加反萊豬遊行 (D)辦理身分證補發

41. 選舉將至，身為國中生的小賀為了更了解所有候選人的政見，(甲)上網搜尋相關資料，並且(乙)收看了電視轉播的競選辯論會，聆聽不同的聲音。選前之夜，還與父母一同(丙)前往參加支持的候選人所舉辦的造勢晚會，並在選舉當天(丁)投下神聖的一票。根據我國相關法令判斷，下列何者才是小賀可以參與的？

- (A)乙丙丁 (B)甲乙丁 (C)甲丙丁 (D)甲乙丙

※試題尚未結束，請翻面繼續作答※

- 42.不分性別、收入、教育程度、宗教信仰、階級、黨派為何，只要符合投票資格的人民，人人都有投票權。此為選舉的何項原則？
 (A)普通原則 (B)平等原則
 (C)直接原則 (D)無記名原則
- 43.西元2010年12月17日，一名突尼西亞的青年被沒收了他的蔬果推車。求助無門的青年為了表示抗議，以汽油自焚，引發民眾抗議青年的就業機會嚴重不足。突尼西亞的記者把這個採訪結果貼在部落格後，臉書和推特用戶之間不斷轉貼這則貼文，許多人透過手機、電腦連上網路關心突尼西亞的革命，經由網路迅速傳遍全世界。下列何者最能說明上文的社會現象？
 (A)網路發達提升閱聽人媒體識讀能力
 (B)網路發達擴大民眾公共參與的機會
 (C)網路發達削弱了民間團體的影響力
 (D)網路發達使閱聽人僅成訊息接收者
- 44.下列是四個鄰居正在聊有關選舉的內容。若僅以年齡條件判斷，則四人的年齡由大到小排列，下列何者正確？
 小萬:明年台北市長選舉我就有投票的資格了。
 小芳:我明年就可以登記參選議員了。
 小國:去年的公投我沒資格去投票。
 小中:我去年當選了里長。
 (A) 小萬、小國、小芳、小中
 (B) 小芳、小萬、小中、小國
 (C) 小中、小芳、小萬、小國
 (D) 小國、小中、小芳、小萬
- 45.小玲是設籍於臺北市首次投票的選民，迫不及待想參與投票關心臺灣的未來。小玲在投票時應該注意下列哪一事項？
 (A)要帶投票通知單、印章，但身分證不一定要帶
 (B)一定要在選票的圈選欄蓋上自己的私人印章
 (C)選票投入票匭前，要先將選票內容公開亮票
 (D)不可以攜帶手機或數位相機，進入投開票所
- 46.小李準備為「樂樂黨市議員選舉過程」做專題報導，則報導中有關選舉過程何者正確？
 (A)政黨提名>登記參選>競選活動>投票>開票
 (B)登記參選>政黨提名>競選活動>投票>開票
 (C)政黨提名>公告>登記參選>投票>進行開票
 (D)登記參選>競選活動>投票>開票>選舉公告
- 47.忠孝國目前的執政黨為安安黨，以下是該國選民在總統大選時的談話內容。若從選舉投票的功能判斷，下列兩人的對話直接展現了何項功能？
 小趙:執政黨執政了四年一點成效都沒有，經濟上人民的日子依舊過得苦哈哈的……
 小錢:做不好的政黨就應下臺，這次選舉我決定支持其他政黨。
 (A)選出公職人員 (B)影響政府政策
 (C)落實責任政治 (D)合法組成政府
- 48.下列敘述內容中，哪項涉及主觀的「意見」？
 (A)某醫院陳醫師的醫術非常高明
 (B)該醫師替賽跑受傷的青年動右腿手術
 (C)青年自行轉院後，因右腿傷口組織壞死而截肢
 (D)陳醫師被青年家屬控告業務過失致人重傷。
- 49.民國110年初國民黨黨中央因為「反萊豬」進口，呼籲民眾公投連署，若是連署人數通過最後門檻，政府必須舉辦「反萊豬」進口公投。公投是以何種方式來向政府表達對公共事務的意見？
 (A)以陳情的方式向政府表達民意
 (B)透過正式管道來影響政府決策
 (C)透過傳播媒體向政府提出建議
 (D)以民意調查結果約束政府作為
- 50.近年來，許多無法到場參與政治行動的民眾，會透過網路捐錢響應某項政治行動的募資，表達對該項議題的支持，不僅讓募資迅速達標，也讓議題有經費運作。請問：上述內容顯示了何種公共參與的現象？
 (A)公共參與的內容從多樣逐漸單一
 (B)閱聽人能主動製作媒體進行宣傳
 (C)媒體讓每個人有公平發聲的機會
 (D)網路改變了人們公共參與的模式

※本試題結束※

萬芳高中國中部 109 學年度第 1 學期社會領域

八年級第 3 次定期評量試題解答

1	D	2	C	3	A	4	B	5	C
6	B	7	A	8	A	9	B	10	D
11	D	12	D	13	A	14	B	15	B
16	C	17	C	18	C	19	D	20	B
21	A	22	D	23	D	24	C	25	B
26	D	27	D	28	B	29	C	30	D
31	B	32	C	33	B	34	C	35	A
36	B	37	B	38	C	39	A	40	C
41	D	42	A	43	B	44	C	45	D
46	A	47	C	48	A	49	B	50	D