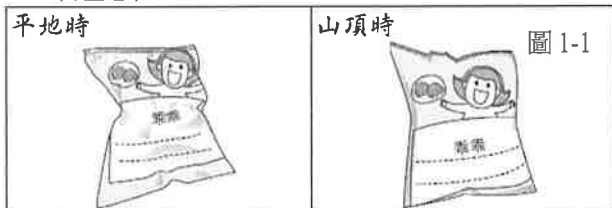


本試卷分地理、歷史、公民 3 個部份，請依序作答，並按照題號畫卡。  
各部份題目配分及試卷頁數請參見說明，總分為 100 分。請謹慎作答。

班級： 座號：  
姓名：

第 1 部份：地理（第 1-17 題為地理科單選題，每題 2 分。）

1. 上地理課時，老師要求四位同學對於天氣與氣候發表意見。下列四位同學的對話中，哪個說法最可能描述的是「天氣」？  
(A)小凱：「每年冬天我們臺南地區幾乎很少下雨。」  
(B)小齊：「臺北今天早上還非常晴朗炎熱，中午過後就下起大雨來。」 (C)阿德：「宜蘭冬天經常雨下個不停，我的衣服常常都會發霉。」  
(D)阿美：「每年寒假爸爸都會帶我們回屏東過年，屏東全年都很溫暖。」
2. 小康和家人到阿里山遊玩，他擔心中午時肚子會餓，因此買了一堆零食上山。當他到山上發現餅乾的包裝外觀有了改變，如圖 1-1 所示。請問：造成此現象的原因為何？  
(A)海拔愈高，氣壓愈低 (B)風由高壓往低壓方向流動 (C)氣溫愈高，氣壓愈低 (D)緯度愈高，氣溫愈低。



3. 圖 1-2 為某河流域示意圖，請問：圖中哪個地點的集水區最大？(A)甲 (B)乙 (C)丙 (D)丁。

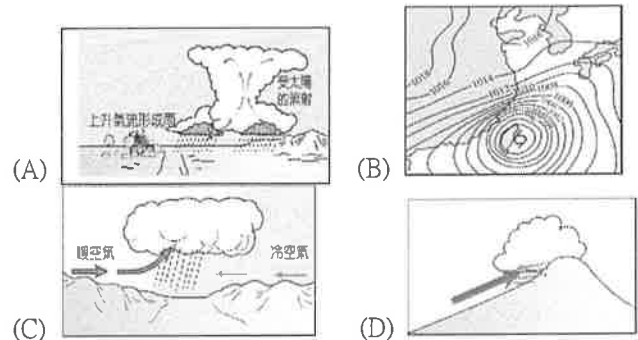


4. 臺灣河川具有輸砂量高的特色，估計單位面積年平均輸砂量以南部區域 88 百萬公噸/平方公里最大，河川則以濁水溪輸砂量為最大。下列哪些是造成此情況的主要原因？(甲)地形高低落差大 (乙) 河川東西分流 (丙)山脈多南北走向 (丁)多地震，地質脆弱 (戊)夏季多豪雨，降雨強度大  
(A)甲乙丁 (B)甲丙戊 (C)甲丁戊 (D)乙丙丁。
5. 新聞報導：「琉球嶼是屏東最夯的熱門景點之一，隨著遊客逐年成長，島上用水量也爆增，但是島上因為地勢低平而缺乏淡水，近來屢屢傳出缺水危機。」請問：琉球嶼形成的原因為何？  
(A)火山噴出岩漿堆積而成  
(B)由沙洲堆積而成為陸地  
(C)沿海丘陵沒入海中而形成  
(D)海底珊瑚礁露出海面而形成。

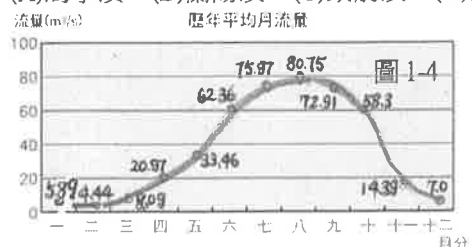
6. 下表為某地區的氣溫資料。請問：該地區的「年溫差」是下列何者？  
(A)9°C (B)12°C (C)13°C (D)14°C。

月份	一	二	三	四	五	六
月均溫 (°C)	17	19	22	24	26	28
月份	七	八	九	十	十一	十二
月均溫 (°C)	30	29	28	25	24	19

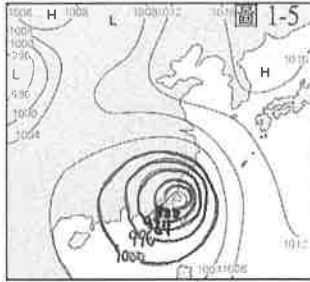
7. 圖 1-3 是臺灣冬天某日的天氣預報資料。由圖可知，臺北、宜蘭、花蓮、臺東地區降雨機率高於西部地區，最可能的降雨成因為下列哪一個示意圖？



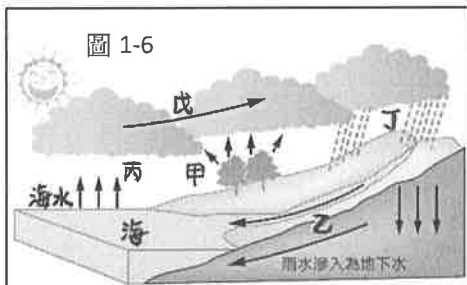
8. 老師在介紹臺灣水資源時，提到「臺灣是一個水資源相對短缺的國家，早被聯合國列為世界排名第 18 位的缺水國家。」。老師詢問臺灣缺水的原因，請問哪位同學的解釋最「符合」臺灣現況？  
(A)炎柱：部分地區的降雨集中冬季，夏秋會缺水  
(B)義勇：河流較短且流速較快，水資源難以保留  
(C)實彌：降水量低於世界平均值，且分布並不均  
(D)善逸：降水稀少，每人可分得的水資源量不足
9. 圖 1-4 是臺灣某一條河川的流量資料，請問根據資料判斷，這條河川最有可能是指下列何者？  
(A)濁水溪 (B)蘭陽溪 (C)頭前溪 (D)淡水河。



10. 郡羽正在觀看電視氣象預報，只見主播正對圖 1-5 的地面天氣圖進行說明。依圖 1-5 推測，隔天可能會出現什麼樣的天氣？  
 (A)大陸冷氣團南下，氣溫將下降至 10°C 而山區有機會降雪。(B)梅雨季節來臨，接下來將持續一週下雨的天氣 (C)颱風帶來強風豪雨，請民眾儲存糧食及注意外出安全 (D)明天白天烈日高晒且紫外線超標，民眾出門要帶陽傘。



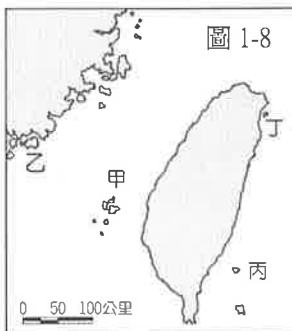
11. 水是地球生物賴以生存的重要資源之一。自然界的水在大氣與陸地、海洋間交換，循環不已，稱為「水循環」。其中液態水被太陽輻射的熱力變為氣態水的過程稱為「蒸發」。請問：在圖 1-6 的水循環過程示意圖中，哪一個過程為「蒸發」？  
 (A)乙 (B)丙 (C)丁 (D)戊。



12. 「□□□是臺灣的重要河川，雖然它的長度位居第二，年逕流量和流域面積可是全國第一，也是豐枯變化最劇烈的河流。加上多元族群在此生存與遷徙，孕育出磅礴不凡的文化特色。」請問：上文所述為圖 1-7 中哪條河川？  
 (A)甲 (B)乙 (C)丙 (D)丁。



題組一：圖 1-8 為臺灣離島位置圖，請依據內容回答第 13-14 題



**臺灣的離島**

講座時間主題

8/22 天人菊的故鄉  
 9/12 玄武岩柱的自然景觀  
 10/24 臺灣最早的天后宮  
 11/7 黑水溝與討海人氣魄

圖 1-9

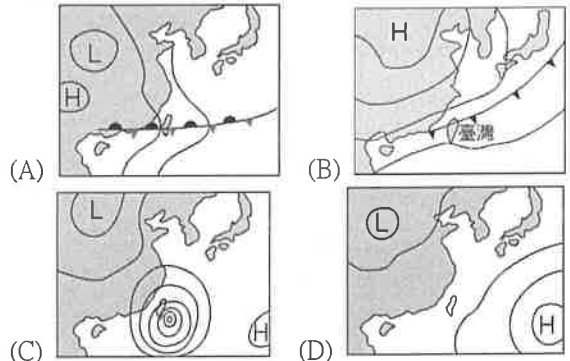
13. 臺灣位在板塊接觸帶，地殼不穩定，岩漿自裂隙處噴出，覆蓋在地表上冷卻而形成海底火山，若海底火山露出海面則形成火山島。請問：圖 1-8 中哪一個離島「不是」火山島？  
 (A)甲 (B)乙 (C)丙 (D)丁。
14. 某學校以「臺灣的離島」為主題舉辦系列活動，其中某講座的時間及主題如圖 1-9。請問：上述這個講座的主題應該是指圖 1-8 中的那一座島？  
 (A)甲 (B)乙 (C)丙 (D)丁。

題組二：下列是中央氣象局 Facebook 貼文的節錄內容，請閱讀相關內容後，回答第 15-17 題：

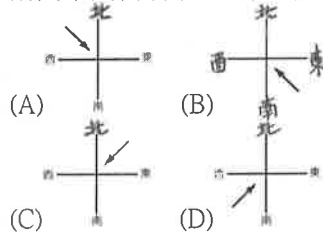


大家晚安，小編又要捎來寒流的消息了……希望大家對於明天將要到來的第三波寒流(1/11~1/13)已做足萬全準備>~<。……11日寒流南下且水氣增多，不僅迎風面北部東半部地區易雨，其他各地雲量也增多，中南部山區也會有局部降雨出現的機率，氣溫上北臺灣將一路下滑，其他各地也愈晚愈冷，明天傍晚起北臺灣即有局部平地氣溫會降至 10 度以下……提醒大家注意保暖，外出攜帶雨具備用，此外，北部及東北部 1500 公尺、中南部 3000 公尺以上高山區有降雪出現的機率，目前高山區仍有局部積雪的情形，提醒近日欲前往高山區的朋友備妥相關裝備，行車加掛雪鍊並留意路況，注意安全。

15. 根據以上貼文可知，臺灣當時的地面天氣圖最有可能為下列何者情形？



16. 貼文中提到臺灣某些地區溫度下降較其他地區多，需要嚴防低溫。請問此種溫度差異主要是受到下列何者影響？ (A)緯度、地形 (B) 緯度、季風 (C) 地形、季風 (D) 緯度、洋流。
17. 貼文裡提醒迎風面的區域外出需要攜帶雨具備用。請問下列何者最可能是降雨地區的風向？



後面尚有試題，請換頁繼續作答。



25. 1858 年，大稻埕僅是艋舺附近的一個不起眼的小村落；1898 年，大稻埕已超越艋舺，規模僅次於府城。請問，大稻埕在 40 年內快速發展的原因為何？(A) 清法戰爭導致南方受到破壞，大量人口向北遷徙 (B) 艋舺人性格孤傲難以相處，導致外國人不願前來 (C) 茶產業開始崛起，大稻埕為茶葉的加工地，吸引許多人來尋找發展機會 (D) 艋舺與西洋教會發生嚴重械鬥，導致市街遭到嚴重破壞，一蹶不振。

【題組 1】請閱讀下列資料後回答問題：

〔資料一〕皇帝裁示，蛤仔難地方已有移墾漢人六萬餘人，皆能深明大義，協助官軍擊退海盜，自應收入版圖，況以此地為肥沃之區，若不設官駐軍以治理之，必會滋生禍端，或恐該地被賊匪佔據，亦當將此地設官經理，安立廳縣。

〔資料二〕大臣請奏朝廷：臺地後山急須耕墾，請開舊禁，以杜絕敲詐勒索，以廣招人力，並設官治理，以確認統治之實。

〔資料三〕日本國此次所辦為保民義舉，清國不指其為不是；遇害難民給與撫卹，日本所修道路建物，由清國留用，另籌補銀兩，且須約束「生番」保護航客不再受害。

26. 請問，這三則資料出現的先後順序為何？

- (A) 資料一→資料二→資料三  
(B) 資料一→資料三→資料二  
(C) 資料三→資料二→資料一  
(D) 資料二→資料三→資料一

27. 承上題，〔資料二〕中的大臣應是何人？

- (A) 沈葆楨 (B) 劉銘傳 (C) 李春生 (D) 張燻京。

【題組 2】請閱讀下列資料後回答問題：

『時人稱「番勢」的李春生，自幼家境貧困，年少時跟隨父親到廈門經商，在當地習得英語與漢語，使他成為漢人與西方商人溝通的橋梁，也因而結識來自蘇格蘭的茶商 John Dodd，兩人合作打造「臺灣烏龍茶」(Formosa Oolong) 這個全新商品，銷往「花旗國」，促成北部製茶事業的興盛，茶葉成為當時臺灣最大宗的出口商品，李春生因此有了「臺灣茶葉之父」的美稱。李春生除了經營事業以外，對於傳教更是不遺餘力，他不僅是臺灣基督教長老教會的推動者，更協助清廷在臺灣建省後督辦臺北地區的建設。』

28. 請問文中所提及「番勢李仔春」中的「番」應該

是指下列何者？(A)「熟番」(B)「生番」(C)「倭人」(D)洋商。

29. 就李春生的宗教信仰而言，他可能跟下列哪一位人物有密切往來？(A) 馬偕 (B) 馬雅各 (C) 陳福謙 (D) 沈葆楨。

30. 文中的「花旗國」，應為下列何者？(A) 英國 (B) 美國 (C) 印尼 (D) 馬來西亞。

【題組 3】請閱讀下列資料後回答問題：

『新竹北埔的「金廣福」是清代一個合資開發公司的名稱，「金」是當時習見的公司名號，「廣」代表廣東，「福」則是代表福建。「金廣福」公館，是清代公家與墾戶的辦事處，公館旁邊是姜家祠堂：天水堂。道光年間，政府鼓勵金廣福成立民間的防禦拓墾組織：金廣福大隘，此隘是由數十個隘所組成的防禦工事，專門抵禦外來的侵略與武裝拓殖「番地」。』

31. 文中提及的「金廣福」公館，可能會經手哪些事務？

- (A) 發行墾照給渡臺漢人從事土地拓墾  
(B) 仲裁漢人與外國商人的貿易糾紛  
(C) 負責與臺北府洽談樟腦出口事宜  
(D) 處理招收開墾佃農及收隘租事宜。

32. 文中提及的「金廣福大隘」，此防禦工事主要用來防禦的對象應為何者？(A) 日本人 (B) 民變團體 (C) 賽夏族原住民 (D) 排灣族原住民。

【題組 4】請閱讀下列資料後回答問題：

小莫家中有一本自祖先老莫來臺開墾後流傳下來的文件，其中詳細記錄了來臺過程的所見所聞，以及初期的生活。老莫於紀錄中提到：「為了祈求航行順利，船上除了媽祖像以外，還有我一路捧著的開漳聖王……。」其中，最令小莫感興趣的，是老莫與妻子認識的過程。內容寫著「除了以前讀過幾年書，會一些漢文外，還要學習紅毛文與當地語言。而當地居民簽契約都要兩種文字並陳才行，在和他們的關係日益增進後，有位老太太讓我和她孫女結婚，也因此獲得了可以耕種的田地。」

33. 對於小莫來說，老莫是下列何種祭拜對象？(A) 有應公 (B) 唐山祖 (C) 開臺祖 (D) 阿立祖。

34. 老莫最終與當地居民有了婚姻關係，下列哪個俗諺最適合描述此類狀況？(A) 離鄉不離腔 (B) 六死三留一回頭 (C) 唐山過臺灣，心肝結歸丸 (D) 有唐山公，無唐山媽。

本試卷分地理、歷史、公民 3 個部份，請依序作答，並按照題號畫卡。  
各部份題目配分及試卷頁數請參見說明，總分為 100 分。請謹慎作答。

班級：            座號：  
姓名：

第 3 部份：公民（每題兩分、共 17 題）

35. 花蓮縣秀林鄉地處中央山脈東側，地勢高聳陡峭，鄉境大部分被畫入太魯閣國家公園的範圍，居民以太魯閣族為主，觀光業發達。境內的布洛灣台地位於立霧溪下游，曾經是太魯閣族人聚居的部落，現規畫為原住民特色園區。依據上述有關太魯閣族的敘述，何者正確？
- (A) 太魯閣族是因為居住在太魯閣國家公園而得名  
(B) 太魯閣族因為有原住民特色園區，因此沒有文化傳承的危機  
(C) 太魯閣族尚未正名，因此不列入臺灣的 16 個原民族  
(D) 傳統太魯閣族人以山田焚壅的農業為主，兼有狩獵、捕魚及採集
36. 2016 年沙烏地阿拉伯首度開放女性參選人，根據選舉結果有廿位女性當選為地方議員，開啟沙國女性參與公共事務的新管道。上述主要是賦予沙國女性何種權利？
- (A) 生存權 (B) 參政權 (C) 繼承權 (D) 自由權。
37. 八里某咖啡館女店長涉嫌殺人，一口咬定老闆與股東合夥殺人，當時媒體未經查證，大篇幅影射參與犯案，讓當事人蒙受許多負面形象。這事件給予大家何種啟示？
- (A) 法院審理案件必須公正、公開審判  
(B) 人生而自由，不自由，毋寧死  
(C) 在證明有罪之前，人人應被視為無罪  
(D) 人性尊嚴乃是基於正義與和平的基礎。
38. 政府透過許多管道推動社會福利相關政策，例如：以公益彩券回饋金，協助經濟弱勢民眾繳納部分健保相關費用；放寬低收入戶審查門檻，協助經濟弱勢家庭獲得社會救助等。上述政府兩項作法，最主要是為了達成下列何種目的？
- (A) 確保民眾財產權利 (B) 縮短城鄉發展差距  
(C) 保障人民生存權利 (D) 推廣志工服務活動。
39. 在電影那些年我們一起追的女孩中，有一天班費被偷了，教官認為是班上同學所偷，要檢查學生的書包，因此學生對教官的做法引發質疑，下列敘述在哪个層面上應多加努力？
- (A) 少數服從多數，讓學生來公開審判  
(B) 加強普遍性的人權教育  
(C) 不要處理，以免引起師生衝突  
(D) 訴諸媒體，讓輿論來審判
40. 在某宣言第一條規定「人人人生而自由，在尊嚴和權利上一律平等。」此宣言應是下列何者？
- (A) 《開羅宣言》 (B) 《獨立宣言》  
(C) 《解放奴隸宣言》 (D) 《世界人權宣言》
41. 獵人會將所獵取來的獵物，作為部落的集體獵獲，有一套部落規範強制獵人如何分配獵物的習俗稱為分享文化，此文化具有何種意義？
- (A) 強調共有共享，部落共同財產權的概念  
(B) 部落個人色彩強烈，不主張集體財產權  
(C) 與國家法律上的私有財產觀念有多處雷同  
(D) 獵物分享的多寡可依獵人的個人喜好。
42. 某私立天主教中學因宗教因素，不續聘一位摩門教美籍教師，教育主管機關認定涉及就業歧視，以違反《就業服務法》對學校開罰處分。下列敘述何者正確？
- (A) 美籍教師雖不具我國公民身分，但仍享有人權保障  
(B) 美籍教師並非我國國民，所以不必保障他的人權  
(C) 因傳教士之工作不受教育法規的的保障，所以連帶無法保障其教師工作  
(D) 工作權是屬於自由權，因此不得剝奪外籍人士的工作權。
43. 聯合國通過三份文件是國際公認的人權法典，更是人權最重要的法律基礎，下列哪一項不包含在內？
- (A) 《世界人權宣言》 (B) 《兒童權利公約》  
(C) 《公民與政治權利國際公約》  
(D) 《經濟社會文化權利國際公約》

※試題尚未結束，請翻面繼續作答※

44.七年某班的四位同學在上完公民課後，利用下課時間在教室討論人權與人性尊嚴的內容。依此內容判斷，下列哪些的說法最為正確？

小華	因人權強調每個人的差異性而不平等，才能擁有符合人性尊嚴的生活。
小香	人權保障的內容，常是如何維護人性尊嚴的具體規範。
小杉	當人權的保障與人性尊嚴有衝突時，應以保障人權為先。
小虎	人性尊嚴強調每個人都能為自己做決定，都有存在的意義與價值。

- (A)小華、小虎 (B)小杉、小香  
(C)小香、小華 (D)小香、小虎。

45.某原住民族於2017年2月23日至2018年3月31日到總統府前的凱達格蘭大道台北賓館圍牆外，以接力表演方式，反對政府排除將私有土地畫入原住民族的傳統領域，並自稱為凱道部落，直到遭台北市政府拆除。凱道部落主要抗爭的目的為何？

- (A)爭取傳統領域 (B)拒絕環境污染  
(C)排擠漢化教育 (D)爭取私有財產。

#### ※素養題

原住民族的生活環繞著大自然，形成自然平衡狀態，千百年來都這樣默默的和諧運作著。部落、族人、土地、祖靈形成一個完整的整體，彼此相互依存而無法分割。

位於新店溪，以阿美族族人為主要成員的溪洲部落，是新北都會區都市邊緣的原住民族部落。1981年族人開始自力造屋建造家園，逐漸形成聚落。1995年，在地方政府的輔導下，部分住戶遷入新店區的中正國宅。然而，因部落的生活型態與國宅空間差異極大，許多居民不願遷村，因此組成自救會，展開反迫遷的抗爭道路。

2007年，政府開始積極拆遷數個位於新店溪畔的都市原住民族部落，並且認定部落為違建，自救會激烈抗爭，並成立溪洲阿美文化永續暨社區發展協會。社會各界聲援協助，歷經10年抗爭，政府的態度從拆遷到緩拆，到願意在部落旁畫設原住民族生活區。由族人向銀行貸款及自籌、企業捐款與新北市政府補助三方共助下，終於在2017年正式舉行家園新建工程的開工儀式。

新北市政府人員表示，新家園的位置離原本的部落大約100公尺，地勢較高，位於堤頂，以後不會在颱風季節受到淹水的威脅。家屋的型式及結構皆由部落族人依自己的住居需求及意願設計規畫，並由族人實際一起參與新家園的規劃與營造工作，親手自力建造家園。

(資料來源：改寫自民報，記者李秉芳，2017/11/11)

46.文中提到許多居民不願遷村，原因為何？

- (A)反對遷村是為了反對當時的執政黨  
(B)遷村會改變部落原有的生活模式  
(C)遷村會使原住民族失去自治權  
(D)遷村政府發給的補償金額太少

47.下列何者是族人願意搬遷到新家園，且能傳承溪州部落傳統文化的作法？

- (A)阿美族族人集中遷入國宅中  
(B)部落旁畫設原住民族生活區  
(C)接受各方補助興建家園工程  
(D)組成自救會展開反迫遷行動。

48.溪州部落的族人從反迫遷抗爭，到親自參與新家園的規畫、營造工作，可以用下列何者說明？

- (A)透過公民參與來爭取部落權益  
(B)政府成功以迫遷促使族人離開危險之地  
(C)因社會變遷已使族人改變原本生活模式  
(D)政府的公權力無法影響原住民族的生活。

49.日治時期常強迫原住民遷村，而國民政府的國有林地政策更被迫遠離祖靈地，這對原民造成何種影響？

- (A)進行現代化，提升文化的境界。  
(B)揚棄傳統文化，開創嶄新文化  
(C)舊部落的傳統與文化逐漸湮滅  
(D)文化的創新、加速文化的傳承。

50.原民部落耆老帶領族人重返祖居地，讓族人重建部落與土地的連結，凝聚族人向心力以達到何種目標？

- (A)回復共耕共食文化 (B)落實部落會議組織  
(C)發展部落經濟產業 (D)營造部落安全環境。

#### ※本試題結束※

萬芳高中國中部 109 學年度第 1 學期社會領域

七 年級第 3 次定期評量試題解答

1	B	2	A	3	A	4	C	5	D
6	C	7	D	8	B	9	A	10	C
11	B	12	C	13	B	14	A	15	B
16	A	17	C	18	C	19	D	20	D
21	C	22	B	23	A	24	D	25	C
26	B	27	A	28	D	29	A	30	B
31	D	32	C	33	C	34	D	35	D
36	B	37	C	38	C	39	B	40	D
41	A	42	A	43	B	44	D	45	A
46	B	47	B	48	A	49	C	50	D