

本試卷分地理、歷史、公民 3 個部份，請依序作答，並按照題號畫卡。
各部份題目配分及試卷頁數請參見說明，總分為 100 分。請謹慎作答。

班級： 座號：
姓名：

第 1 部份：地理（共 17 題，每題 2 分，共 2 頁）

★圖 1-1 為西歐政區圖請回答下列問題 1~2 題



圖 1-1

- 有關圖中各國產業發展的介紹，何者正確？
(A)甲國水運便利且是歐洲工業產值最高的國家
(B)丁國因地形限制，發展技術導向的精密工業
(C)己國以填海造陸來發展園藝農業
(D)庚國利用北海油田收入來投資高科技產業

2. 下列品牌與原產國家的配對，何者『有誤』？

- (A) 甲國 (B)乙國 (C)丁國 (D)戊國



3. 喜歡旅遊的阿翔到西歐拍攝各國著名地標時會寫上國名，請問哪張照片標註的國家『寫錯』了？

- (A) 英國 (B)法國



- (C)奧地利 (D)比利時



- 歐洲是最早工業化的地區，而工業要高度發展需要依賴便利的交通、豐富的礦產…等條件。請問就礦產與分布國家的配對何項『有誤』？
(A)石油:葡萄牙、挪威 (B)煤:烏克蘭、德國
(C)水力:義大利、冰島 (D)鐵:盧森堡、瑞典

- 圖 1-2 為北歐某月份等溫線圖，下列對於此圖的說明，何者正確？(A)同緯度地區，西部沿海比東部溫差大(B)等溫線的排列方向，主要是受洋流影響 (C)越往東部，受大陸的影響越小(D)此圖為七月等溫線圖，港口多為不凍港

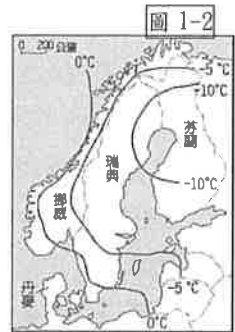


圖 1-2

2020/03/21 新聞節錄

在新冠肺炎爆發以前，聯合國針對世界各國完成調查及評量，並按慣例發表了《2020 年全球幸福報告》。此報告於每年 3 月 20 日「國際幸福日」發布，排名是依據人均 GDP、社會支持、人均壽命、預期壽命、社會自由程度、寬容度、腐敗程度和公民幸福感調查等因素綜合評分。今年前 10 名國家分別為芬蘭、丹麥、瑞士、冰島、挪威、荷蘭、瑞典、紐西蘭、奧地利、盧森堡；排名最後則為阿富汗，而在 150 多個國家及地區裡，台灣排名第 25，蟬聯東亞最幸福國家冠軍…

- 依據上篇文章所述前 10 名的國家中，多集中於歐洲某分區的國家，請問下列針對此分區國家的敘述何者正確？(A)該區自然環境良好且懂得善用資源發展各項特色產業(B)社會福利制度完善，是全球稅賦最高的地區(C)夏、冬兩季會各別出現永夜與永晝的特殊現象(D)皆位於溫帶氣候區，氣候條件良好
- 下表是北歐部分國家的經濟發展資料，表中打勾者為該國的主要產業或資源。請問何者最可能是瑞典的資料？(A)甲(B)乙(C)丙(D)丁

項目	農牧業	漁業	林業	航運	石油	水資源	地熱溫泉
(甲)		✓		✓	✓		
(乙)			✓			✓	
(丙)	✓			✓			
(丁)		✓					✓

8. 關於下列北歐五國的別稱及產業特色，何者『有誤』？(A)冰島—冰火王國，發展溫室農業及煉鋁業 (B)挪威—峽灣王國，造船工業發達 (C)芬蘭—千湖之國，鋼鐵工業發達(D)丹麥—北歐十字路口，海運業興盛

圖 1-4

9. 圖 1-4 為歐洲河流圖，請問下列敘述何者正確？



- (A)甲河是歐洲的第一長河(B)乙河是歐洲航運價值最高的河川(C)丙河有美因運河和中央大運河與它相連(D)丁河是法國與西班牙界河

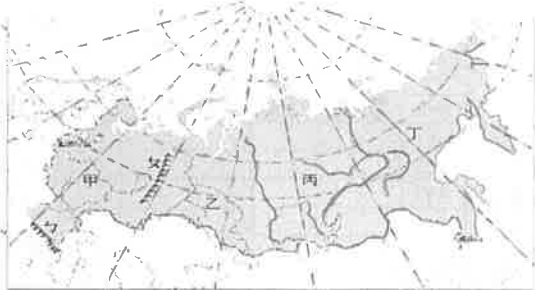


- ★圖 1-5 為東歐國家請回答下列 10~11 題

10. 圖上哪個國家擁有與中國東北同樣肥沃的黑土，使得該國農業也相對發達？(A)甲 (B)乙 (C)丙 (D)丁
11. 這裡有歐洲最大的石灰岩洞穴，可以看到各式各樣奇特的鐘乳石及獨特的洞內生物。此國是圖上何處？(A)戊 (B)己 (C)庚 (D)辛
12. 臺灣電子大廠鴻海在 2000 年即前往捷克投資生產，成為歐洲市場的蘋果電腦生產基地。請問鴻海公司前往捷克設廠的主要考量是當地具有何種優勢？(A)金融健全、工業基礎 (B)交通要衝、資金充足 (C)工資便宜、關稅優惠(D)研發重鎮、技術進步。
13. 俄羅斯國會在 2014 年 3 月擅自通過出兵烏克蘭南部克里米亞半島的軍事行動，此舉造成國際間紛紛譴責俄羅斯的挑釁行為，並且祭出相關制裁。請問此事件的主要原因是俄羅斯想維護哪個海域的通行權？(A)黑海(B)北極海(C)裏海(D)北海

★圖 1-6 為俄羅斯地理區圖請回答第 14 題

圖 1-6



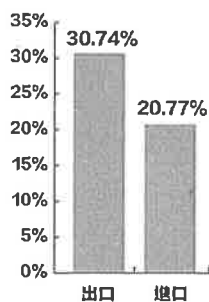
14. 下列有關圖中各區介紹，哪一個選項是正確的？(A)甲區位於歐洲，屬於溫帶海洋性氣候 (B)乙區為平原地形且為俄羅斯人口集中區 (C)丙區有葉尼塞河流經，水運發達 (D)丁區屬於高山地形，容易發生火山及地震

15. 右邊照片是詹姆斯到某城市旅行時所拍攝的照片，請問針對此城市的敘述何者『有誤』？

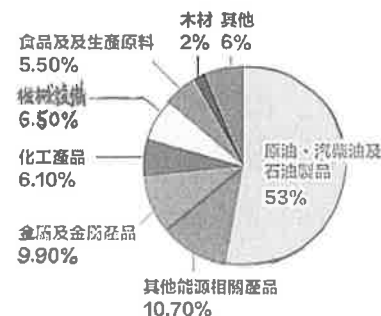


- (A)此城市工業區的優勢條件是石油豐富 (B)此建築為希臘正教的建築特色(C)此城市為該國放射狀鐵路網中心(D)城市居民主要為斯拉夫民族

俄羅斯進出口佔GDP比重



各產品佔俄羅斯出口比例 (2018)



2020/03/05 圖片來源：股感知識庫

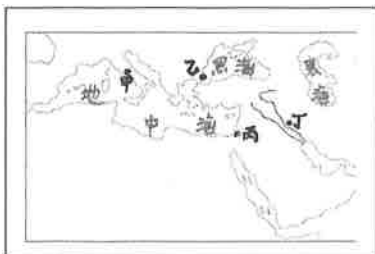
16. 上圖為俄羅斯 2018 年的進出口資料中，請問從圖中可知俄羅斯的經濟發展有何特色？(A)當年為貿易逆差國(B)輕工業發展優於重工業 (C)出口產品多為工業製品(D)經濟容易受原物料市場價格波動影響
17. 美國現任總統拜登和前總統川普，選舉時都有一個共識，就是將中國視為主要競爭對手。但是拜登還特別點名了另一個區域大國—俄羅斯並認為它其實才是美國的最大威脅。請問下列對俄羅斯的描述何項正確？(A)鄰近北極海地區為歐亞非三洲航線必經之地，戰略位置重要 (B)過去實施市場經濟造就軍事工業發達 (C)面積廣大且氣候條件優良(D)工業區集中於南部地區且有西伯利亞鐵路貫通

本試卷分地理、歷史、公民 3 個部份，請依序作答，並按照題號畫卡。
各部份題目配分及試卷頁數請參見說明，總分為 100 分。請謹慎作答。


班級： 座號：
姓名：

第 2 部份：歷史（18~33 題，每題 2 分，共 32 分，共二頁）

18. 西元 4~5 世紀，南匈奴、北匈奴分別大舉南下，各促成中國與歐洲的哪一政權瓦解？
(A)西晉、西羅馬帝國 (B)東晉、東羅馬帝國
(C)西漢、亞歷山大帝國 (D)東漢、查理曼帝國。
19. 下列何者不是中古時期阿拉伯人對世界的重大貢獻？ (A)將匯票、信用狀等商業制度傳往各地
(B)促成東西文化的交流 (C)將印度的數字系統傳往各地 (D)將中國的印刷術傳往歐洲。
20. 「近代歐洲爆發一場戰爭，甲、乙兩國有剪不斷理還亂的封建關係，甲國的士兵大多是步兵，中間夾雜了弓箭手；乙國的士兵大都是騎兵。在一般狀況，甲國都戰勝乙國，但是乙國出現一名女子激勵士氣後，最後乙國勝利了。」請問上文中是描述哪一場戰爭？ (A)日耳曼人南侵 (B)英法百年戰爭
(C)蒙古西征 (D)十字軍東征。
21. 志聖看到一本西方政治學的經典書籍內容有這麼一句話：「一個君王為了保住權位，必須要做到『為達目的，不擇手段』，並且明白何時該用，何時不該用。」請問：此書應為下列何者？
(A)《神曲》 (B)《十日談》 (C)《君王論》 (D)《唐吉訶德》。
22. 西元 1095 年教宗烏爾班二世作出下列宣告：「……與神隔絕的民族，猛烈地侵犯基督教的領域，燒殺擄掠當地的居民，他們將部分的俘虜帶回自己的國家，又以酷刑將其餘殺害……但願你們先祖查理曼大帝和其餘君主光榮宏偉的功業激勵你們，但願那陷於不潔之民手中的我們救主的聖墓，以及那被玷汙的聖地喚醒你們。」請問：文中「被玷汙的聖地」位於下圖中何處？ (A)甲 (B)乙 (C)丙 (D)丁。



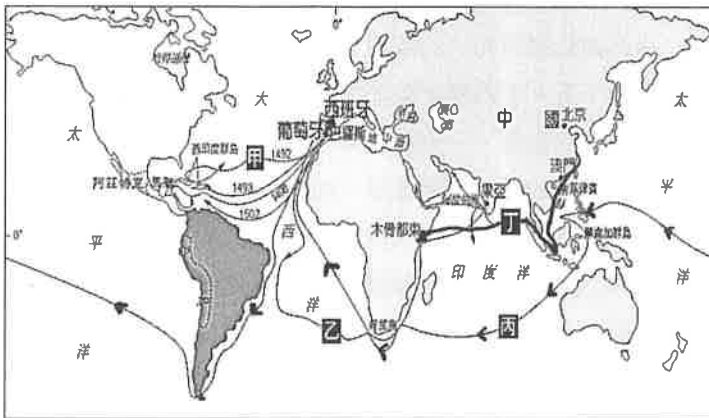
23. 十字軍東征與蒙古西征，對於中世紀後期歐洲造成的影響，下列敘述何者正確？ (A)十字軍東征使歐洲商業復甦，希臘北部城市扮演東西貿易往來的樞紐 (B)阿拉伯人在二場戰亂中，保存的古希臘、羅馬典籍，為日後文藝復興奠定基礎 (C)蒙古西征將火藥傳入歐洲，使得封建制度更加的鞏固 (D)兩者皆促成東西文化交流，也導致歐洲市民階級的興起與黑死病的傳播。
24. 關於十五、十六世紀歐洲的地理大發現與海外拓殖所造成的影響，下列敘述何者為真？ (A)最早進行海外探險的國家是西班牙，最早發現美洲是葡萄牙 (B)西班牙人導致馬雅文明人口銳減，最終滅亡 (C)英人使用白銀與中國貿易，導致張居正變法中的稅收改徵白銀 (D)哥倫布於美洲發現番薯，後由西班牙水手帶到菲律賓、再傳入中國。
25. 下列有關中世紀時期西歐日耳曼人生活地區的敘述，以下哪些是錯誤的？
(甲)領主與附庸建立在血緣關係上
(乙)農民必須辛苦耕種，向地主繳納穀物
(丙)在政教合一下，國王可掌管宗教事務
(丁)到伊斯蘭教教會附設的學校學習希臘文
(戊)過著工商業發達的城市生活。
(A)甲乙丙 (B)乙丙丁 (C)丙丁戊 (D)甲丙丁戊。
26. 請問以下哪一張圖同時具有東正教和伊斯蘭教的建築特色？



27. 「一個人是否能信與得救，早經上帝『預定』，祈禱、善行均無濟於事。凡為上帝的選民，即『義人』，日常生活中自然會對上帝產生信仰，此後更要努力工作，發財致富，用現世的成就來榮耀上帝。」請問上文所述是下列哪一教派的理論？

- (A)羅馬公教耶穌會 (B)喀爾教派 (C)路德教派 (D)英國國教派。

28. 下圖是十五世紀~十六世紀時，東西方從事航海活動的航路圖。關於甲~丁的路線，請問下列敘述何者正確？ (A)「甲」路線是葡萄牙所發現的新航路 (B)「乙」路線是西班牙所尋找的新航路 (C)「丙」路線是鄭和所航行的路線 (D)「丁」路線是最早以官方力量從事大規模航海活動。



29. 附圖一~四為世界史上橫跨歐亞非三洲的大帝國的疆域圖。請問帝國建立時間的先後順序是？

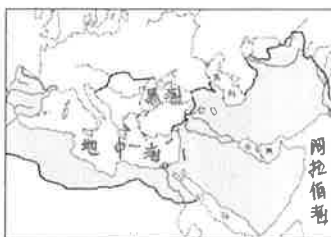
- (A)圖二→圖四→圖三→圖一
 (B)圖二→圖三→圖四→圖一
 (C)圖四→圖二→圖三→圖一
 (D)圖四→圖三→圖一→圖二。



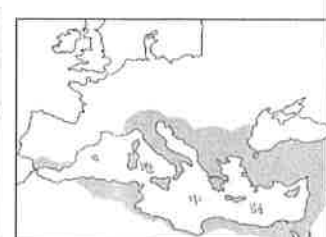
圖一



圖二



圖三



圖四

30. 資料一：他受到真主阿拉的啟示，並且開始他的傳道生涯。在傳道初期，受到當地古萊須聖裔的強力反對。其後他獲得麥地那人的支持邀請，於是發生伊斯蘭歷史上著名的遷徙事件。

資料二：聖彼得教堂大殿，教宗利奧三世為法蘭克國王戴上皇冠，教堂外的民眾大呼：「你為我們的奧古斯都和皇帝！羅馬帝國又重現了。」

資料三：君主任命人編纂法典和發佈新敕令，形成了歐洲第一部系統完備的法典《國法大全》，並興建聖索菲亞大教堂。

請問上述三則資料依時間順序排列是？

- (A)資料一→資料二→資料三 (B)資料二→資料三→資料一 (C)資料三→資料一→資料二 (D)資料三→資料二→資料一。

◆題組：請參考附圖五，並根據此圖，回答第 31-33 題：

31. 文藝復興的發源地，位於圖中何處？ (A)甲 (B)乙 (C)丙 (D)丁。
 32. 十五世紀後期，因聯姻而合併的兩王國，在驅除境內的伊斯蘭教勢力之後，逐漸提高王權，並且加強中央集權的國家是位於圖中何處？ (A)甲 (B)乙 (C)丙 (D)戊。
 33. 下列哪些地方曾被伊斯蘭勢力所征服？ (A)甲丙 (B)乙丁戊 (C)丙丁戊 (D)乙丁。



圖五

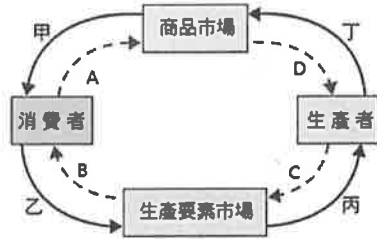
※歷史試題結束，請換頁繼續作答。

本試卷分地理、歷史、公民 3 個部份，請依序作答，並按照題號畫卡。
各部份題目配分及試卷頁數請參見說明，總分為 100 分。請謹慎作答。

班級： 座號：
姓名：

第 3 部份： 公民（第 34—50 題為公民試題，每題 2 分，共計 2 頁，請謹慎作答）

34.承翰是家家火鍋店的服務生，月薪30000 元，火鍋店在十一月十一日當週推出『四人同行一人免費』的優惠活動，讓店裡的營業額成長了10%。依據經濟循環圖以及你學過的經濟概念判斷，下列敘述何者正確？ (A)對承翰而言，家家火鍋店是「生產要素市場」 (B)營業額成長10%，是火鍋店的利潤 (C)月薪30000 元是承翰的銷貨收入 (D)火鍋店推出優惠活動，是運用『供給法則』來吸引消費者。

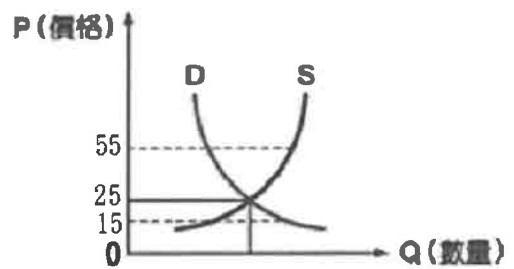


- 35.根據經濟活動循環圖，判斷下列事件內容與名稱的配對，正確的是？
 (1)蟹寶王漢堡店添購新的用餐桌椅—生產要素需求
 (2)海綿寶寶在人力銀行網站找到新工作—商品供給
 (3)泡芙阿姨幫媽媽買了保健食品—生產要素需求
 (4)派大星販賣新奇的氣球蛋糕—商品供給。
 正確的是 (A)1、2 (B)3、4 (C)1、4 (D)2、3。
- 36.花家正在客廳討論自己最近的生活，花爸說：「我認真研究如何投資股票。」花媽說：「我利用下午到超市打工貼補家用。」橘子說：「我拿到零用錢會先預留要儲蓄的金額，剩下的錢才拿來花。」柚子說：「我最近都早點出門走路上學，省下搭公車的錢。」請問：上述哪些人的做法可以達到「節流」的目的？ (A)花爸、花媽 (B)花媽、橘子 (C)花媽、橘子 (D)橘子、柚子。
- 37.小芬到韓國旅遊，先購買T-money卡，類似國內的悠遊卡，儲值後，搭車、買東西都很方便。下列有關T-money卡的說法，何者正確？ (A)和信用卡一樣，能使交易更加方便 (B)卡片本身具有一定價值，又稱為「商品貨幣」 (C)由政府控制發行數

量，以避免物價上漲 (D)是「塑膠貨幣」，商家不得拒絕接受。

- 38.請判斷下列何人屬於失業人口：(A)在補習班上課，準備重考大學的芊芊 (B)說要工作，但每天只顧打電玩的姍姍 (C)畢業後就四處求職，還沒找到工作的美美 (D)辭掉工作，在家休養身體的彤彤。

39.



上圖是遠得要命王國的地瓜葉供需狀況圖形。根據附圖，公民老師解釋：「當地瓜葉價格達到每公斤□□元時，市場呈現供需均衡狀況；若地瓜葉價格為55元，市場會出現△△。」請問：□□、△△應為下列何者？

- (A) 15元；供過於求 (B) 25元；供過於求
 (C) 25元；供不應求 (D) 15元；供不應求。
- 40.許多人都會在母親節送媽媽康乃馨表達感謝祝福的心意，這也使得母親節時，花卉市場的康乃馨價格上漲。請問，下列何者與上述的市場供需狀況相同？ (A)柳丁今年盛產，柳丁的市場批發價格直直落 (B)演唱會門票一開賣就秒殺，許多人搶不到票 (C)百貨公司換季大拍賣，服飾商品下殺三折 (D)甜甜圈熱潮退去，許多專賣店紛紛退出市場。
- 41.郝沖累積了一筆存款想要進行投資，他覺得自己年輕、單身，可以從事風險較高的投資，反正年輕，錢賠光了再賺就有，重點是投資報酬率要好！依據郝沖的考量，你會建議他投資何種理財工具？ (A)存款 (B)保險 (C)債券 (D)股票。

★請翻面繼續作答

- 42.親朋好友知道郝沖想要投資，紛紛給予建議。請問：下列何人的建議值得採納？ (A)林大叔：「還是要留點存款，別把錢全拿去投資了」 (B)艾阿姨：「要投資現在最賺的理財工具，趁機賺一筆」 (C)曾爺爺：「投資理財要全神貫注，別花費時間工作了」 (D)張奶奶：「投入資金越多就可以賺更多，錢不夠就去借」。
- 43.小君利用雙十一購物節，魚皮網站特價優惠的時機點，購買了衛生紙、沐浴乳等日常生活用品，還買了雙新鞋。請問：對於小君來說，魚皮網站屬於下表中的哪種市場類型？

	商品市場	生產要素市場
有形市場	(A)	(B)
無形市場	(C)	(D)

- 44.白雪在比較各項理財工具的利弊與風險之後，選擇了投資基金。下列對基金的敘述，何者正確？ (A)依照契約繳交費用，意外發生時，可以獲得理賠金度過難關 (B)將錢交由專業經理人操作，可以分散風險，但須繳交管理費 (C)是按股份發給投資人的有價證券，持有人可以分享公司利潤 (D)企業為籌募資金而發行的借款憑證，持有人可依約獲取利息及拿回本金。
- 45.附表是近年來叮噹國的消費者物價指數統計表，該指數反映人民的生活成本，也就是人民購買某物品所需支付的貨幣多寡。

年度(西元)	物價指數
2015	100
2016	102
2017	180
2018	230
2019	410

- 根據表中內容判斷，下列哪一項敘述最能說明叮噹國正面臨的經濟現象？ (A)貨幣升值，民眾儲蓄意願提高 (B)民眾忙著搶購、囤積物資 (C)商品需求減少，導致物價下跌 (D)經濟成長，人民所得增加。
- 46.下列是何川上網搜尋貨幣的相關資料，其中有一份訊息錯誤，請找出「錯誤」者？ (A)在我國，負責控制市場上貨幣數量的機關為中央銀行 (B)法定貨幣的價值是由政府以法令賦予的 (C)貨幣的價值是以「能購買的商品數量」來衡量 (D)當每個人都擁有更多貨幣，就能夠購買到更多商品。

- 47.現代的經濟社會，貨幣的使用愈來愈便利，一切的經濟活動都是透過貨幣來進行，下列關於貨幣功能的配對，何者正確？ (甲)看鬼滅之刃電影花了330元—交易媒介 (乙)鬼滅之刃抱枕定價299元—價值儲存 (丙)壓歲錢留一些下來作為畢旅基金—價值衡量 (丁)到超商繳交信用卡費3000元—債務清償。正確的是 (A)甲乙 (B)丙丁 (C)甲丁 (D)乙丙。

- 48.正義國新聞報導：「由於房價持續大幅上漲，帶動房屋租金也水漲船高，民眾不只買不起，連租屋都成問題，引發民怨。政府決定實施空屋稅，個人持有的房屋如果超過兩間，超過的房屋又沒有出租者，將加重50%的房屋稅，希望藉此抑制一路飆漲的房屋買賣及租賃價格。」下列關於福利國的敘述，何者正確？ (A)房屋價格上漲是因為市場的供給量遠大於需求量 (B)政府是希望藉由減少供給，讓房屋的租賃價格恢復平穩 (C)房屋買賣及租賃價格能否回穩，取決於市場的供需狀況 (D)政府介入房屋市場，顯示正義國是實施統制經濟體制。

題組：

彌子在累積了一筆投資資金後，將資金投資了甲、乙、丙三種理財工具。一年後，三種理財工具的投資報酬率如附表。請根據附表資料回答49、50題：

投資報酬率	
甲工具	2%
乙工具	5%
丙工具	12%

- 49.根據附表資料判斷，下列敘述何者正確？ (A)彌子投資在丙工具的資金最多 (B)彌子從丙工具獲利的金額最高 (C)三種工具中，丙的投資風險最高 (D)彌子應該將資金全拿來投資丙工具。
- 50.彌子的投資行為符合下列何項理財原則？ (A)開源節流並重 (B)負擔能力原則 (C)比較利益原則 (D)分散風險原則。

九 年級第 二 次定期評量試題解答

(1~17 題地理；17~33 題歷史；34~50 題公民)

1	2	3	4	5	6	7	8	9	10
D	C	C	A	B	B	B	C	C	A
11	12	13	14	15	16	17	18	19	20
B	C	A	D	A	D	D	A	D	B
21	22	23	24	25	26	27	28	29	30
C	C	D	D	D	A	B	D	A	C
31	32	33	34	35	36	37	38	39	40
C	B	B	A	C	D	A	C	B	B
41	42	43	44	45	46	47	48	49	50
D	A	C	B	B	D	C	C	C	D