

本試卷分地理、歷史、公民 3 個部份，請依序作答，並按照題號畫卡。
各部份題目配分及試卷頁數請參見說明，總分為 100 分。請謹慎作答。

班級： 座號：
姓名：

第 1 部份：地理（共 17 題，每題 2 分，共 2 頁）


- 民居的類型常反映出當地的自然與人文環境特色，西亞地區常見的建築物，其特點是牆很厚、門窗很小。請問：西亞地區出現此種建築景觀的主要原因為何？ (A)防止盜匪入侵 (B)隔絕日照與阻止風沙侵襲 (C)預防颱風來襲河川淹水 (D)避免地震震垮
- 中亞與西亞在自然和人文上最具一致性的地理現象是下列哪一項？ (A)全信奉伊斯蘭教 (B)工業發達 (C)人民貧窮 (D)氣候乾燥
- 「中國石油天然氣集團公司與甲國石油公司負責人簽署協議：中國將幫助甲國修建一座煉油廠，並提供 30 億美元貸款作為開發資金，此一舉動將進一步增加中國在中亞地區的影響力。」根據上段敘述，「甲國」應為下列哪一個國家？ (A)伊拉克 (B)科威特 (C)哈薩克 (D)烏茲別克
- 某旅行社的行程宣傳廣告，何者配對正確？ (A)此地為歷史上第一個橫跨歐亞非三大洲的帝國「古波斯帝國」所在地—阿富汗 (B)可以經過橫跨歐亞兩洲的大橋，體驗 1,500 年歷史的聖索菲亞教堂同時具有基督教及清真寺的獨特風格—土耳其 (C)山坡地形讓白牆藍頂小屋建築有層層堆疊的感覺，在藍天白雲下就像明信片風景—阿拉伯聯合大公國 (D)可以體驗到基督教、伊斯蘭教、猶太教三教並存的聖地耶路撒冷濃厚宗教氛圍—沙烏地阿拉伯
- 某組織於 2019 年 12 月時有十四個會員國：西亞的伊朗、伊拉克、科威特、阿拉伯聯合大公國及沙烏地阿拉伯，和非洲的奈及利亞、利比亞、阿爾及利亞、赤道幾內亞、安哥拉、剛果及加彭，以及南美洲的委內瑞拉、厄瓜多。其成立目的是為了維護會員國利益，並維持出口產品的價格及產量水準。請問：由上述國家組合而成的組織，其名稱為何？ (A) EU (B) WTO (C) OPEC (D) APEC

- 歐洲是世界人口分布最平均的一洲，這種現象與下列哪項因素關係最密切？ (A)位置和資源 (B)地形和氣候 (C)氣候和經濟 (D)地形和農業
- 歐洲有四大半島中有許多內陸海，自然與人文深受海洋影響，適合發展漁業航運，其中南歐的愛琴海屬於何種海岸地形？

(A) (B)



(C) (D)



- 家住法國的法比歐想要到西班牙觀賞足球賽。請問：下列哪一事件「不」可能在行程中發生？ (A)可以直接開車前往，也無須申請簽證 (B)無須兌換西班牙的貨幣 (C)可以順道至該國首都羅馬，及全球天主教教徒的信仰中心的教廷觀光 (D)觀賞當地最著名的佛朗明哥舞蹈表演

★請根據下文回答 9~10 題

(一)以色列和阿聯首建交將改變區內局勢

2020.08.14-BBC NEWS

以色列同意暫停吞併被佔領的西岸部分地區開發計劃後，該國與阿拉伯聯合大公國於 2020 年 8 月 13 日開始正式建立外交關係，顯示以色列與波斯灣地區阿拉伯國家的關係出現回暖。

此關係發展是由美國支持下的戲劇性轉變，川普總統更形容這項協議「具歷史性」，是邁向和平的突破，相信有更多阿拉伯國家會跟隨阿聯首與以色列建交。

- 請問上段文字提及「以色列暫停吞併被佔領的西岸部分地區開發計劃，有助於中東的和

平」，西岸是指現今哪一民族居住地? (A)庫德族 (B)貝都因人 (C)巴勒斯坦人 (D)猶太人

(二)右圖是西亞各國位置圖，請問：

10. 西亞位歐亞非接觸地帶，自古多紛爭主要因素有 (甲)種族宗教 (乙)石油 (丙)水資源，而近代造成以色列及阿拉伯國家衝突主要原因是 (A)甲乙 (B)甲丙 (C)乙丙 (D)甲乙丙

11. 西亞經常發生大地震，加上當地房屋建築不甚牢固，所以經常造成重大傷亡，請問右圖哪兩個地區地震最頻



繁? (A)甲乙 (B)甲丙 (C)甲戊 (D)甲己

12. 西亞各國發展農業運用的灌溉方式及民生用水，下列配對何者正確? (A)甲—伊拉克—地下水井 (B)己--伊朗—坎井 (C)辛—科威特—海水淡化 (D)庚—以色列—滴灌

(三)英國脫歐前夜~過渡期內英國和歐盟還要談什麼?

2020年1月30日~BBC NEWS

2020年1月31日格林尼治標準時間晚上23:00起，英國將不再是歐盟成員國。

這是英國歷史上的里程碑一刻：牽手將近半個世紀後，英國和歐盟從此各奔前程。1月31日英國正式脫離歐盟，但是，絕大多數人一時不會感覺到任何變化，因為這之後將進入過渡期。過渡期的宗旨是給英國和歐盟一個「暫停」，繼續談妥之後新的貿易協定。

貿易協定是必須的，因為在過渡期結束後，英國將離開單一市場、關稅聯盟。必須要簽新的自由貿易協定，才能確保商品在歐盟內自由流動。

如果雙方屆時還未談妥，那麼擺在英國面前的仍然是：無協議「斷崖」式離開歐洲，英國和歐盟的貿易活動遵從世界貿易組織(WTO)規則，此後，英國出口歐盟的產品將面臨〇〇以及其他壁壘〇〇等等昂貴代價。除了貿易，英國和歐盟還需要談妥其他許多重大問題。比如：執法，數據共享、安全、電力天然氣供應、藥品監管等。

13. 英國脫離的歐盟為區域經濟組織的典範，有關歐洲聯盟的敘述，何者正確? (A)總部設於奧地利首都維也納 (B)成員國仍為各自市場，須徵關稅，以確保各國利益 (C)各成員國間的貨物、服務、資金及勞力可以自由流通 (D)會員國均使用共同貨幣

14. 依據上文敘述，英國若在過渡期結束後仍無協議需「斷崖」式離開歐洲，將付出昂貴代價，主要原因是：(A)未使用歐元交易，觀光客將大幅減少 (B)無免關稅的優惠，導致國內物價上漲 (C)削弱外資吸引力，致人均GDP大幅降低 (D)漁船作業範圍縮小，漁民收入減少

(四)下圖是歐洲氣候分區圖，影響氣候因素有

(ㄅ)緯度高低、(ㄆ)距海遠近、(ㄇ)西風吹拂、

(ㄏ)暖流調節、(ㄏ)地形，請回答15~17題

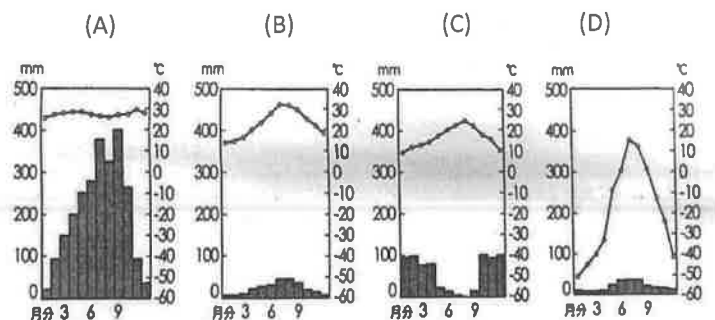
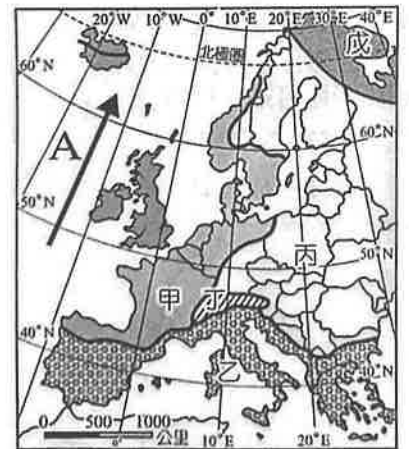
15. 甲區較丙區氣候較為溫暖溼潤，其影響因素與何者最相關?

- (A)ㄅㄆㄇ
(B)ㄆㄇㄏ
(C)ㄇㄏㄏ
(D)ㄅㄆㄏ

16. 戊區氣候形成的主要條件是

- (A)ㄅ (B)ㄆ (C)ㄇ (D)ㄏ

17. 由西班牙最大能源集團伊比德羅拉(Iberdrola)興建，並由歐洲投資銀行簡稱EIB與西班牙信貸局(簡稱ICO)聯手融資，在西班牙南部埃斯特雷馬杜拉(Extremadura)的烏薩格雷(Usagre)興建太陽光電電廠，該電廠也將是歐洲最大的無補助太陽能電廠。請問西班牙南部適合興建太陽能電廠其氣候類型圖是




本試卷分地理、歷史、公民 3 個部份，請依序作答，並按照題號畫卡。
各部份題目配分及試卷頁數請參見說明，總分為 100 分。請謹慎作答。

班級： 座號：
姓名：

第 2 部份：歷史（18~34 題，每題 2 分，共 34 分，共二頁）

18. 有關基督教的發展歷史，下列敘述何者正確？
(A)君士坦丁大帝以基督教為國教 (B)狄奧多西承認基督教為合法宗教 (C)屋大維下令將耶穌釘死於十字架上 (D)一世紀的基督徒常遭到羅馬政府迫害。
19. 古羅馬政權演變為王政、共和、帝制三種政治型態。請問：下列敘述何者正確？ (A)王政時期為皇帝實施獨裁統治 (B)共和時期的重要決策由執政官來決議 (C)帝制時期以國王為領導中心 (D)共和時期的版圖橫跨歐、亞、非三洲。
20. 安得烈插口說：「給我們拿食物的小孩有五個餅和兩條魚。但要分給這麼多人，根本就不夠。」耶穌說：「叫大家坐在草地上。」於是他感謝上帝賜食物給他們，然後把餅和魚擘開。接著，門徒把餅和魚遞給眾人。那裡有五千個男子，還有幾千個婦女和兒童。他們都吃到飽為止。吃完之後門徒把剩下的零碎收集起來，竟然裝滿了 12 個籃子！
請問上述的故事出自哪一部宗教典籍？ (A)聖經舊約 (B)聖經新約 (C)吠陀經 (D)古蘭經。
21. 以下關於「雅典」和「斯巴達」這兩個古希臘城邦的敘述，何者正確？ (A)斯巴達採抽籤任官 (B)斯巴達經濟型態以工商業為主 (C)雅典採軍國主義 (D)兩者形成城邦政治，因地形多山且崎嶇。
22. 此法於公元前 451-450 年間由一個十人委員會制訂，起初為十表，後來的一個委員會又在其上附加兩表。它的制定是建立在對希臘政治的考察基礎之上。由民眾大會〔comitia〕通過，並在廣場上立銅表公佈，意在使以前只為祭司所掌握的重要的習慣法規則成文化，並限制貴族特權，因此還包括了立法改革和革新習慣法的措施。請問上文所述，「此法」是指？ (A)漢摩拉比法典 (B)查士丁尼法典 (C)十二表法 (D)烏爾納姆法典。
23. 昱晟想到希臘半島旅遊，請問他可看到下圖哪一建

築？



24. 下圖是佛教的傳播路線圖，請問此圖的傳播路線，發生於何時？ (A)阿育王時期 (B)釋迦牟尼時期 (C)阿利安人統治時期 (D)笈多王朝時期。



25. 但政府的美意，現今卻帶來負面結果，例如被歸類在先進階層的民眾抗議此制度反而成為對資源分配的不公，縱使擁再高的成績，卻因為教育名額保障低種姓而無法進入大學就讀。」請問上文所述印度的「種姓制度」的階級觀念，最早源自哪一宗教？ (A)猶太教 (B)婆羅門教 (C) 祆教 (D)佛教。
26. 資料一：「法老權力集中，掌控政府，建立強大軍隊，採取馬拉戰車，使用鐵製武器，向外征戰，是古埃及版圖最遼闊的時代。」
資料二：「法老的專制政權達到頂峰，健全的官僚組織形成，加上建築技術的高度發展，皆展現在金

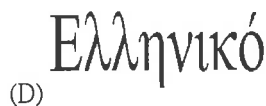
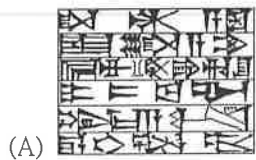
字塔的建造中。」

資料三：「這個時期在古埃及的發展歷史中，法老王致力於開鑿運河、發展航運。因海運發達的狀況下，使埃及成為商業貿易興盛的區域，並得以成為地中海東岸的商業重心。」

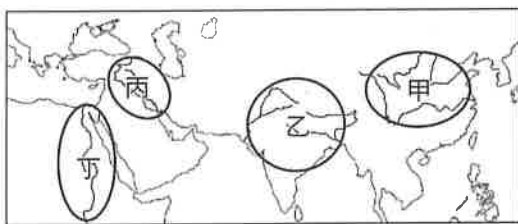
請問上述三則資料依時間順序排列是？

- (A)資料一→資料二→資料三 (B)資料二→資料三→資料一 (C)資料三→資料二→資料一 (D)資料一→資料三→資料二。

27. 請問下面的文字，何者最接近埃及的表音符號—象形文字？



28. 「死亡不是生命的終結，而是邁向永生的必經過程。……為達目的，必須保存肉身完整，因為肉身毀壞代表不能死而復生。」上述話語，最可能出現在下列哪一古文明？ (A)甲 (B)乙 (C)丙 (D)丁。



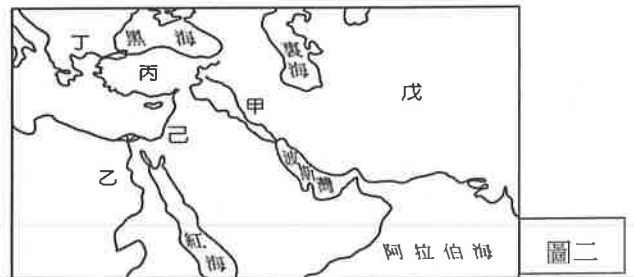
圖一

題組一：附圖二為古代西亞形勢圖，請根據此圖，回答第 29-31 題。：

29. 古代某部法典中有以下條文：「任何房屋失火，前來救火之自由民貪取屋主之財物者，此人應投於該處火中；若自由民損毀任何自由民之眼，則應毀其眼；若自由民損毀自由民奴隸之眼，則應賠償其買價之一半。」關於法典的敘述，請問法典是位於圖二中何處？ (A)甲 (B)乙 (C)丙 (D)丁。

30. 曾被考古學家認為是世界上最先進入鐵器時代的民族，請問在圖二中何處？ (A)甲 (B)乙 (C)丙 (D)丁。

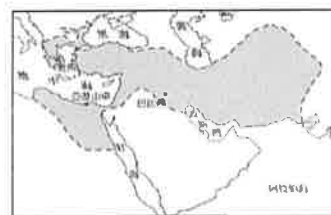
31. 永富看世界新聞時發現有一個民族分散在全世界，但多數人都保持傳統的習俗，也希望可以與同民族的人結婚。他們以「上帝的選民」自居，信仰唯一的真神耶和華，在亡國千年之後，終於在 20 世紀時建國。請問：此民族是位於圖二中何處？ (A)乙 (B)丁 (C)戊 (D)己。



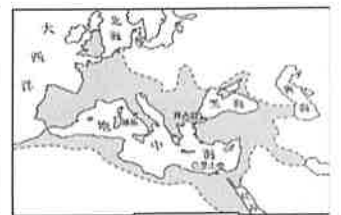
圖二

題組二：附圖三~六為世界史上橫跨歐亞非三洲的大帝國的疆域圖。請根據這些圖，回答第 32-34 題。

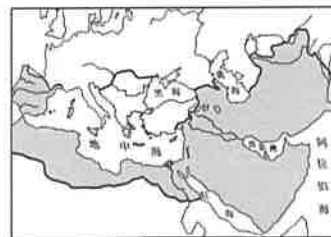
32. 西曆八月的英文「August」是源自於羅馬帝國第一位皇帝的尊號「奧古斯都」(Augustus)。請問：此位皇帝所統治的疆域圖是哪一帝國？ (A)圖三 (B)圖四 (C)圖五 (D)圖六。
33. 雅典曾領導希臘各城邦所擊敗的外患，指的是哪一帝國？ (A)圖六 (B)圖五 (C)圖四 (D)圖三。
34. 請問圖中建立橫跨歐、亞、非三洲的政權，依照帝國建立時間的先後順序，前三個的帝國是？ (A)圖四→圖三→圖六 (B)圖四→圖五→圖六 (C)圖六→圖五→圖四 (D)圖六→圖三→圖四。



圖三



圖四



圖五



圖六

※歷史試題結束，請換頁繼續作答。

本試卷分地理、歷史、公民 3 個部份，請依序作答，並按照題號畫卡。
各部份題目配分及試卷頁數請參見說明，總分為 100 分。請謹慎作答。

班級： 座號：
姓名：

第 3 部份：公民（35~50 題，每題 2 分，共 32 分，共二頁）

35. 下列有關「資源稀少」的敘述，何者正確？

- (A) 百萬富翁，不會有資源稀少的問題 (B) 「稀少」是指資源的數量少於一定的標準 (C) 資源不足以滿足人類欲望時，就具有稀少性 (D) 不花代價就可取得的資源都具有「稀少性」。

36. 阿建在大學畢業後積極應徵工作，他將目前可以選擇的工作、每月薪資和機會成本整理如下表。在不考慮其他因素，僅考量薪資條件下，阿建決定去做律師助理，則表中的甲、乙、丙三部分的數字最可能為下列何者？

工作選項	薪資(元)	機會成本
超商儲備店長	35,000	乙
出版社業務員	30,000	38,000
律師助理	38,000	丙
銀行法務人員	甲	38,000

- (A) 甲：30,000、乙：32,000、丙：35,000
(B) 甲：32,000、乙：38,000、丙：35,000
(C) 甲：30,000、乙：35,000、丙：38,000
(D) 甲：35,000、乙：38,000、丙：32,000

37. 高明開設了一家運動健身中心，生意不錯。如果高明明想透過生產成本層面來增加利潤，下列哪一個做法最直接可行？ (A) 延長營業時間至晚上 11 點 (B) 不定期推出好康優惠活動 (C) 改向利率較低的銀行貸款 (D) 開設分店，增設服務據點。

38. 右表為某餐館三項餐點的部分資料，每一項餐點的售價均為 50 元，其總利潤高低依序為湯麵、雞排、炒飯。根據上述內容判斷，表中的甲、乙最可能為下列何者？

餐點種類	銷售數量(份)	成本(元/份)
湯麵	甲	30
炒飯	120	乙
雞排	100	20

- (A) 155, 25 (B) 145, 35
(C) 155, 35 (D) 145, 25。

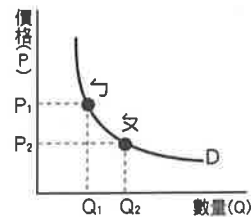
39. 新聞報導，台積電 8 月公告，將以 48.4 億元買進

台南科學園區內的廠房。根據瞭解，這已經是台積電第四度買進鄰近的其他公司廠房，總計金額高達上百億元。下列關於此事件的敘述，何者正確？ (A) 廠房屬於生產要素中的自然資源 (B) 購置廠房的行為就是「消費行為」 (C) 購置廠房的資金如果是台積電自己的，也有利息損失 (D) 購置廠房、提升商品的產量，一定能創造更多利潤

40. 新聞報導：新冠肺炎肆虐全球，各國為了抵抗疫情紛紛祭出封城和各種管制，因此興起了遠距辦公、遠距上課，連帶造成筆記型電腦、遊戲機等產品的需求量大增。各大科技廠也開始進行電腦零件大搶貨，就連廣達科技董事長也親自向零件廠搶購零件。請問：各大科技廠搶購電腦零件，屬於生產者的何種課題？ (A) 生產什麼 (B) 如何生產 (C) 為誰生產 (D) 何時生產。

41. 小璇在賣場購買了空氣濾淨機，回家後發現無法正常運轉，向賣場反應對方卻置之不理。請問：小璇可以如何為自己爭取權益？ (A) 撥打 1950 全國消費者服務專線 (B) 查詢《公平交易法》的相關規定 (C) 請求消費者保護官處罰該廠商 (D) 向地方政府的消費者文教基金會申訴。

42. 公民老師在黑板上將某商品數量與價格之間的變化關係畫成下圖，請問：下列哪一個例子最符合此圖的意義？



- (A) 電影票房銷售不佳，電影院決定提前下檔
(B) 百貨公司週年慶，銷售業績創下歷年新高
(C) 看準春節旅遊商機，業者推出豪華高價團
(D) 名牌跑車推出經典限量款，玩家爭相收藏。

請翻面繼續作答

43. 下方表格是某遊樂園區的票價列表，請問：遊樂園的票價會因為入園時間而有所不同，應該與下列何種經濟學原則有關？ (A)需求法則 (B)供給法則 (C)受益原則 (D)比較利益原則。

票種	全票	優惠票	星光票
價格	899 元	699 元	450 元
說明	一般成年人適用	18 歲以下或 65 歲以上，出示身分證件	下午 4：00 後入園

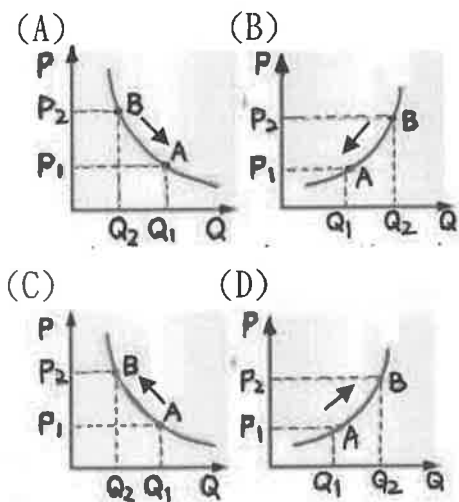
題組(一)請依據題幹敘述，回答 44、45 題

新聞報導：「有台北後花園之稱的宜蘭，受到宜蘭轉運站改建、高鐵延伸宜蘭等重大建設利多話題帶動之下，吸引大批民眾到宜蘭購屋置產，也讓當地的房價節節攀升。

某知名不動產公司統計宜蘭的房屋實價登錄資訊後發現，近七年來房價從 1 字頭站上 2 字頭，近一年來轉售獲利從數十萬到數百萬元不等。看好宜蘭地價、房價翻漲利多，該家不動產公司也宣布，正式在宜蘭五結拓點設立分店。」(摘自好房網 2020/9/23)

44. 根據上述內容判斷，民眾到宜蘭購屋的行為，主要是受到下列何種因素影響？ (A)商品價格 (B)所得水準 (C)消費者偏好 (D)預期心理。

45. 不動產公司到宜蘭設立分店的行為，可以用下列哪一個圖表說明？(箭頭表示移動方向)



題組(二) 請依據題幹敘述，回答 46、47 題

新聞報導：「距離中秋節還有一個半月，彰化某餅店又開始出現排隊人潮，人龍甚至排到大馬路上。

據代購業者說，目前店家 1 顆蛋黃酥售價 40 元，代購價為每顆 50 元，仍有一堆人搶著買。附近居民表示，現在的人潮從排隊到買到蛋黃酥約需三小時，仍是一堆人搶著排隊」。(摘自自由時報 2020/8/14)

46. 請問上述消費者排隊搶購的行為主要是受到何種因素的影響？ (A)商品價格 (B)所得水準 (C)消費者偏好 (D)預期心理。

47. 下列關於代購業者的說明，何者正確？ (甲)代購業者轉售蛋黃酥，是在進行生產行為 (乙)代購業者提供的商品是「有形的財貨」 (丙)代購業者運用的生產要素主要是人力資源 (丁)代購業者只是轉賣蛋黃酥，生產成本為零。正確的是 (A)甲丙 (B)乙丁 (C)甲乙丙 (D)甲丙丁。

題組(三) 請依據題幹敘述，回答 48~50 題

新冠肺炎嚴重衝擊旅遊市場，雖然政府推出旅遊補助、發放振興券，但仍有不少業者面臨裁員、放無薪假的命運；在此同時，也有不少業者設法祭出各種招數搶攻商機，設法在旅遊業寒冬中殺出一條血路。

附圖為開心旅行社與某溫泉飯店合作推出的旅遊促銷方案：

天冷泡湯趣 好車帥哥相伴

五星級溫泉飯店一日遊

雙人同行 第二人半價！

四人同行 一人免費！

花媽跟水島太太參加了此一行程，不但搭乘了全新的遊覽車、有帥哥領隊親切招待，溫泉飯店也讓人賓至如歸，讓兩人大呼值回票價。

48. 請問：下列關於此行程方案的相關敘述，何者正確？ (A)帥哥領隊是此行程的生產者 (B)遊覽車屬於生產要素中的資本 (C)業者運用供給法則以增加利潤 (D)此一方案可以降低業者的成本。

49. 業者推出新方案，設法在不景氣中找到商機，說明了何種生產要素的重要性？ (A)自然資源 (B)人力資源 (C)資本 (D)企業才能。

50. 溫泉飯店業者將地底湧出的溫泉接到店裡，再提供給顧客泡湯。業者使用溫泉所付出的成本稱為 (A)地租 (B)資金 (C)利息 (D)租金。

萬芳高中國中部 109 學年度第 1 學期社會領域

9 年級第 1 次定期評量試題解答

1	B	2	D	3	C	4	B	5	C
6	B	7	A	8	C	9	C	10	B
11	D	12	B	13	C	14	B	15	B
16	A	17	C	18	D	19	D	20	B
21	D	22	C	23	C	24	A	25	B
26	B	27	C	28	D	29	A	30	C
31	D	32	B	33	A	34	D	35	C
36	B	37	C	38	C	39	C	40	B
41	A	42	B	43	A	44	D	45	D
46	C	47	A	48	B	49	D	50	A