

本試卷分地理、歷史、公民 3 個部份，請依序作答，並按照題號畫卡。
各部份題目配分及試卷頁數請參見說明，總分為 100 分。請謹慎作答。

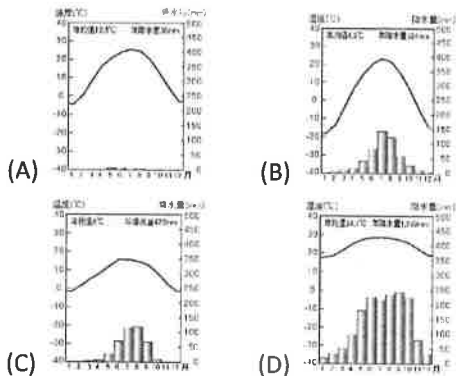
班級： 座號：
姓名：

第 1 部份：地理（每題 2 分，共 17 題）

1. 中國地勢依平均海拔高度可分成三級階梯，下列何者不屬於地勢的傾斜方向對中國環境造成的影響？

- (A) 人口分布東稀疏西稠密
- (B) 主要河川多由西向東流
- (C) 利於河川下游水運發展
- (D) 海洋暖溼氣流得以深入內陸。

2. 中國傳統飲食上有「南人食米，北人食麥」說法，請問：以米食為主的地區，其氣候類型較符合下列哪一幅氣候圖？



3. 1980 年代，中國提倡一對夫婦只生育一個孩子的一胎化政策，使人口過快增長的問題得到了有效控制，但是卻衍生許多社會問題，但不包含下列何者？

- (A) 性別比逐年下降
- (B) 幼年人口比例下降
- (C) 快速進入高齡化社會
- (D) 未來勞動力人口比例下降。

◎中國流傳著許多順口溜，大都反映當代社會的人民生活體驗和哲理，其中有段順口溜的部分內容是這樣說的，請問 4~5 題：

內蒙古人說他面積大；新疆人就笑了！

新疆人人說他民族多；雲南人就笑了！

4. 中國行政區的面積大小與下列哪一項當地地理要素的關係較密切？

- (A) 開發歷史 (B) 自然環境
- (C) 產業發展 (D) 民族分布。

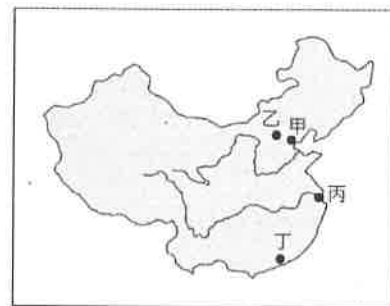
5. 中國族系眾多，不同的民族集居在不同地區，而形成少數地區有民族組成複雜、族群多元的特色，請問造成雲南一帶族群多元的主要原因為何？

- (A) 鄰國位置 (B) 地形阻隔
- (C) 面積廣大 (D) 人口稀少。

◎2019 年 6 月香港發生了百萬人上街頭抗爭的「反送中」遊行；至今仍餘波盪漾，2020 年 10 月 1 日中國十一國慶當天，香港仍不平靜，至少有 69 人因進行「違法活動」被捕。請問 6~8 題：

6. 右圖中哪一地點較符合香港所在的位置？

- (A) 甲
- (B) 乙
- (C) 丙
- (D) 丁。



7. 中國政府在香港設立的行政區類型，主要是因為當地何種特色？

- (A) 少數民族聚居 (B) 政經地位重要
- (C) 曾受外國殖民 (D) 自然環境優越。

8. 香港與下列哪一個行政區的行政層級不同？

- (A) 上海 (B) 福建 (C) 深圳 (D) 西藏。

◎中國某地勢最高的行政區，平均海拔約 4,000 米以上，是離天最近的一方淨土，當地人自喻為「雪域」，也有人稱它為「世界屋脊」、地球南極與北極之外的「第三極」。請問 9~13 題：

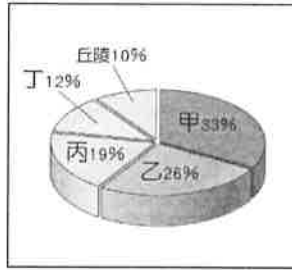
9. 文中所述最符合右圖中何處的特色？

- (A) 甲
- (B) 乙
- (C) 丙
- (D) 丁。



10.若在右圖中國五大地形面積比例圖中找出文中所述地區的地形主體，下列何者最符合？

- (A)甲乙 (B)丙丁
(C)甲丙 (D)乙丁。



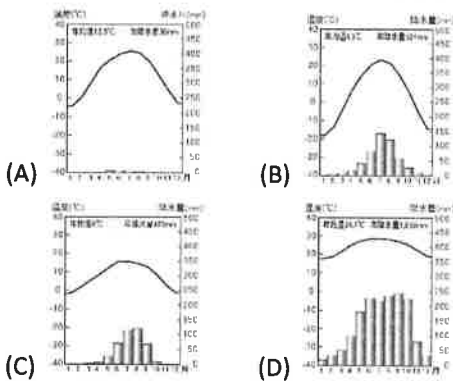
11.若到當地品嚐傳統地方風味餐，可能會有下列何種由當地特有農產加工製成、具代表性的飲食？

- (A)小米粥 (B)青稞酒 (C)炒米粉 (D)刀削麵。

12.在藍天、白雲、帳篷、牛羊襯托下的草原上，遊客可以目睹當地何種具代表性的牲畜？

- (A)駱駝 (B)犛牛 (C)羊駝 (D)綿羊。

13.下列哪一張氣候圖最符合當地的氣候類型？



◎中國傳統土地利用的空間分布呈現「東耕西牧」的特徵，各牧區的畜牧型式不盡相同，請問 14~15 題：

14.圖中何地降水稀少、草料不豐，當地牧民必須過著逐水草而居的生活？

- (A)甲
(B)乙
(C)丙
(D)丁。



15.主要牧業區中，仍有少數地區利用灌溉水源從事農耕活動，丙區發展農耕的主要水源為下列何者？

- (A)高山積雪融化 (B)季風吹送水氣
(C)引取河川水源 (D)抽取深層地下水。

◎下圖為中國某地的地形及聚落分布圖，請問 16~17 題：

16.圖中深色的圓形、方形建築為當地特有的傳統民居-「土樓」，則此圖最可能是在哪一個地形區取得的影像？

- (A)黃土高原
(B)東北平原
(C)四川盆地
(D)東南丘陵。



17.圖中呈帶狀分布的深色色塊為流經當地的河川，受到雨季降水影響，此河川水量較多的時間最可能出現在哪一個季節？

- (A)春 (B)夏 (C)秋 (D)冬。

【請繼續換頁作答】

臺北市立萬芳高級中學國中部 109 學年度第 1 學期社會領域八年級第 1 次定期評量試卷

本試卷分地理、歷史、公民 3 個部份，請依序作答，並按照題號畫卡。
各部份題目配分及試卷頁數請參見說明，總分為 100 分。請謹慎作答。

班級： 座號：
姓名：

第 2 部份：歷史（共 17 題，每題 2 分，共 2 頁）

18. 王室衰微後，天子對諸侯的約束力日趨薄弱。春秋時期，諸侯國數量由西周時的八百個，兼併成一百七十多個諸侯國，動搖了原有的封建秩序；而各國境內則時常發生內亂，罔顧既定的世襲制度。此外，游牧民族常會趁各諸侯國內亂之時攻占城邑，對各國產生嚴重威脅。在這種局勢下，什麼樣的口號被提出來，以穩固周天子的地位？
（A）編戶齊民（B）尊王攘夷
（C）富國強兵（D）推舉孝廉。
19. 回顧商朝進入周朝的時代興替過程，就地理方位而言，周部族向外發展的方向為何？
（A）由西向東（B）由東向西
（C）由北向南（D）由南向北。
20. 「君王集軍政大權於一身，其下有輔助推動政務的宰相，以及漸趨系統化和專業化的文武官員，地方上的郡縣長官也由君王直接任命。這些大小官員大部分不再是憑藉血緣世襲的封建貴族，而是平民出身的才學之士。」上文最能說明中國歷史上何種情況的發展？（A）世族盡佔社會資源，握有經濟與政治特權（B）地方列國相互征戰兼併，平民得以晉升任官（C）禮樂制度建立完備，藉以維繫君王地位（D）中央集權的帝國體制建立，政府對地方治理的效率更為提升。
21. 清末學者譚嗣同，在研究中國歷史的發展後，曾歸結出這樣的看法：「兩千年之政，皆秦政也。」這是指秦帝國的哪一個政策，影響中國歷史兩千多年？（A）封建制度（B）郡縣制度（C）專賣制度（D）禮樂制度。
22. 秦始皇施政嚴酷，但其創建的政治體制卻對中國影響深遠。請問他的哪一項施政內容，使中國在文化、政治上成為一個整體？（A）廢郡縣，行封建，地方分權（B）統一文字、度量衡等文物制度（C）編列全國戶籍加強對人民的控制（D）強化禮樂制度的推行，使儒家成為中國學術主流。
23. 唐太宗曾說：「自古以來君主都重視漢人，歧視外來胡族，但是我能夠不分胡漢，一視同仁。」請問：唐太宗這句話所反映的史實與意義為何？
（A）唐太宗曾攻滅西突厥而被尊為天可汗，因而採取不分胡漢兼容並蓄的統治方針（B）此為唐太宗自誇，實際上胡人很少擔任唐朝官員（C）這是唐朝皇室具胡人血統且胡漢長期交流的成果（D）其實魏晉南北朝的胡族君主對胡漢都能一視同仁。
24. 學者對秦國從西周到戰國時期的發展有以下的論述：「西周中期，由於秦國祖先擅長騎馬征戰，被認為是『戎狄』族群，而被中原的農業民族排斥在外。西周末年，秦國雖然在政治上開始依附周朝領導的中原農業民族，但是至春秋時代，秦國還是很難融入中原的農業民族。即使到戰國時代中期，秦國在中原農業民族的眼中，仍然帶有游牧族群的色彩。」請問，文中所謂的「中原」應是指哪個區域？（A）黃河上游地區（B）黃河流域中下游（C）長江流域（D）淮河流域。
25. 東晉開國君主司馬睿於登基大典上，拉住大臣王導同坐，一起接受朝臣拜賀，因此當時有「王與馬，共天下」的說法。請問，這反映出下列何種情形？（A）東晉時傳統儒家禮儀崩解（B）司馬睿是禮遇人才的明君（C）受游牧民族政治作風影響（D）皇室仰賴世家大族的支持。
26. 欣容讀《漢書》，其中有段敘述令她印象深刻：「單于派遣使者給漢朝書信，其中寫道：『南有大漢，北有強胡。胡者，天之驕子也，不拘小節。今欲與漢朝開啟和平之門，只要讓我娶漢朝女兒為妻，每年給我甜酒萬石，粟米五千斛，絲綢萬匹，其餘如過去兩國約定，則兩國邊界必不發生搶奪財物之事。』」這段文字使人感受到寫信者飛揚跋扈的氣勢。請問，文中自詡為天之驕子的「胡者」，應是當時中國北方的那個民族？（A）犬戎（B）匈奴（C）突厥（D）鮮卑。
27. 承上題，從《漢書》所記載的這封書信內容中，我們可以推知這個北方民族，過去曾經與中國互

有約定。他們要求中國贈與食糧、美酒、絲綢、女子與邊界貿易，如中國照辦，他們則承諾不以暴力威脅邊境和平。請就你歷史課所學的關於漢朝對外關係的知識，指出下列敘述何者**錯誤**：

- (甲) 漢朝初期因國力不強，曾採用「和親」政策，以女子攜帶豐厚嫁妝遠嫁外族君長，以增進雙方關係。
- (乙) 漢武帝反轉既有政策，改採主動出擊並得到相當成功的結果，致使漢南再無此民族的蹤跡。
- (丙) 此民族在東漢時分裂為東西兩部，前者向漢朝投降，後者則被擊敗向西遷徙，進入歐洲。
- (丁) 中國北方的草原民族因天性貪婪好鬥毫無仁義之心，所以與中國農業民族長期處於軍事對峙狀態。
- (戊) 草原民族以游牧營生，需要與農業民族交換物資方能取得生活所需，雙方若能建立正常的貿易市場，將能彼此獲利，建立和平關係。

(A) 甲乙 (B) 乙丙 (C) 丙丁 (D) 丁戊。

28. 小芳在《中國歷史地圖集》中看到下圖，若根據圖中箭頭的方向來判斷，此圖的標題應該為何？



- (A) 西漢張騫出使西域圖
- (B) 佛教傳入中國示意圖
- (C) 新羅學生留學中國路線圖
- (D) 唐文化向外傳播示意圖。

29. 魏晉南北朝是中國史上紛亂的時代，這個時期因中國北方多戰亂，南方「六朝」相對安定，故經濟文化快速發展。請問：「六朝」當時皆定都於左圖中的哪座城市？



(A) 甲 (B) 乙
(C) 丙 (D) 丁。

〔題組 1〕以下內容節錄自林俊雄《草原王權的誕生》一書，請閱讀後回答下列問題：「對馳騁在一片廣大草原的草原民族而言，眼前並無洲別的分野，歐亞大陸就是一塊可以餵飽馬匹的草地。他們與南方農業民族的傳統、文化等大相逕庭。沒有疆域分野觀念的他們，經常創造出令人驚嘆的帝國範圍，對於鄰近的國家，造成極大的影響。」
「這些草原民族，對東亞地區有著極大的影響，像是曾與秦、漢兩大帝國擁有對等軍事實力，後來更曾攻陷洛陽的胡人。在進入中原的草原民族中，以北魏勢力對中國的影響最深，最後銜接了隋唐帝國，統治東亞長達五百多年。不受既定地理概念拘束的他們，除了自身的輝煌文化之外，也促進了彼此間的文化交流。」

- 30. 文中提到「曾攻陷洛陽的胡人」，應是指什麼民族所引起的什麼事件？(A) 犬戎 - 攻滅西周 (B) 突厥 - 遷都洛陽 (C) 匈奴 - 永嘉之禍 (D) 鮮卑 - 決戰西域。
- 31. 文中提及的「北魏勢力」應指下列何者？(A) 匈奴 (B) 犬戎 (C) 突厥 (D) 鮮卑。
- 32. 所謂的「北魏勢力」對中國的影響應為下列何者？(A) 重視家族門第，禁止與外族通婚 (B) 將首都自平城遷往洛陽，隋唐時期隨之定都於此 (C) 推動漢化政策，促進胡漢文化融合 (D) 胡人文化與習俗從此成為中國文化的主流。

〔題組 2〕請閱讀下列資料並回答問題：

資料 1 政府授權中正官在地方上進行人物品評，依據士人的才能、德行與家世來區分品級，但之後品評只重家世，結果造成「上品無寒門，下品無世族」的現象。

資料 2 政府透過開科取士的方式來選拔人才，其中包含：進士、明經、明法、明算等科別，只要有能力者都可以報考，為平民晉升開啟了一道大門。

資料 3 朝廷根據政府的不同需要設立各種科目，包含：「孝子」、「廉吏」等，並指定有關的官員擔任推舉者，依照規定舉薦相應的人才，經朝廷檢定後給予錄用或陞遷。

資料 4 朝廷命令非博士官職務而暗地裡收藏詩經、書經、諸子百家書者，全部搜出焚毀，有敢相聚討論詩書者，處死；推崇古代、誹薄當代者，誅殺全族；官吏有知道而不檢舉者，以同罪論。如果有人想學文字法令，必須到官府裡向官吏學習。

- 33. 依據以上資料的內容可知其所欲探討的主題應該為何？(A) 封建與郡縣制度 (B) 政府的選才與教育政策 (C) 經學傳家的影響 (D) 中央集權體制的特色。
- 34. 請依據此四則資料所描述的時代現象，依出現的先後次序，選出正確的排序：
 - (A) 資料 1 ➔ 資料 2 ➔ 資料 3 ➔ 資料 4
 - (B) 資料 4 ➔ 資料 3 ➔ 資料 2 ➔ 資料 1
 - (C) 資料 2 ➔ 資料 1 ➔ 資料 3 ➔ 資料 4
 - (D) 資料 4 ➔ 資料 3 ➔ 資料 1 ➔ 資料 2。

歷史試題結束，請接續下頁作答公民試題

臺北市立萬芳高級中學國中部 109 學年度第 1 學期社會領域 8 年級第 1 次定期評量試卷

本試卷分地理、歷史、公民 3 個部份，請依序作答，並按照題號畫卡。
各部份題目配分及試卷頁數請參見說明，總分為 100 分。請謹慎作答。

班級： 座號：
姓名：

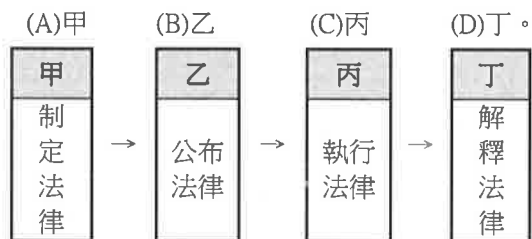
第 3 部份：公民（共 17 題、每題兩分）

35. () 國家設置軍隊，主旨在保家衛民、防止外來勢力的不當侵略，這是為了達到國家的哪一項基本目的？
(A)安全 (B)經濟
(C)秩序 (D)福利
36. () 「不信任投票」、「倒閣」、「解散國會」、「覆議」等名詞，最符合政府權力運作中，哪一項重要的原則？
(A)主權在民 (B)尊重民意
(C)分權制衡 (D)多數統治
37. () 我國的總統由全體公民直接選舉產生，請問：總統具有下列哪些人員的提名權？
甲、立法院院長； 乙、司法院院長；
丙、大法官； 丁、監察委員； 戊、審計長
(A)甲乙丙 (B)乙丁戊
(C)甲乙丁戊 (D)乙丙丁戊
38. () 「天子犯法與庶民同罪」、「法律之前，人人平等」、「國家機關的職權與全國國民的義務，都受到法律的約束與保障，人民有守法的義務，政府也應依法行政。」這是民主政治的何項特色？
(A)民意政治 (B)責任政治
(C)法治政治 (D)政黨政治
39. () 近年來，每到颱風季常會帶來超大豪雨，有些低窪地方時常發生水患。我國中央政府提供各項治水經費給予地方政府使用，希望能從根本解決水患問題。若依我國相關法令，此筆經費的預算審查與決算審核分別是由哪個機關負責？
(A)司法院、行政院 (B)行政院、立法院
(C)立法院、監察院 (D)監察院、司法院
40. () 某國交通部部長因為國內橋梁斷裂，造成民眾傷亡，自認難辭其咎而宣布辭職下臺。請問：上述交通部部長的作為展現了民主政治的哪項特色？
(A)法治政治 (B)責任政治
(C)民意政治 (D)政黨政治
41. () 仲恩和爸爸一起看電視新聞報導，聽到主播說：「民主國家的法律除了要求人民必須遵守，政府權力也應被約束外，也必須要同等的對待人民與政府。」仲恩問爸爸：「主播這段話要闡述的意思是什麼呢？」爸爸應如何回答才有貼近仲恩的提問？
(A)國家的權力極大，人民不遵守法律將會受到嚴厲的處罰
(B)政府施政若背離民意，相關人士應該負起責任辭職下臺
(C)民主國家制訂政策時，應傾聽民意強調主權在民的理念
(D)無論政府或人民，都應該遵守法律規範才符合法治政治
42. () 有鑒於部分行政官員有「兼職」情形，監察院因而發文□□該院，要求擬定具體改善計畫，以提升官員本職單位的行政效率，否則不排除□□行政院院長。依監察院職權，缺空部分應分別填入下列何者？
(A)糾正、彈劾 (B)糾舉、懲戒
(C)糾舉、彈劾 (D)糾正、懲戒
43. () 我國的行政院要依循立法院所通過的議案來施政，但當立法院通過對行政院院長的不信任案時，行政院院長辭職的同時也可以呈請總統解散立法院。這是民主政府運作的哪一項原則？
(A)多數統治原則 (B)人民主權原則
(C)權責相符原則 (D)分權制衡原則
44. () 下列有關覆議制度的流程，請排出正確的順序
(甲)立法委員投票決定維持或否決原決議
(乙)經總統核可移請立法院覆議
(丙)行政院院長認為窒礙難行
(丁)立法院決議
(A)甲乙丙丁 (B)丁丙乙甲
(C)乙甲丁丙 (D)丁乙丙甲

45. () 關於我國立法院的職權，以下何者「不」正確？
 (A) 審查中央政府預算
 (B) 對行政院院長行使同意權
 (C) 提出總統、副總統彈劾案
 (D) 提出憲法修正案
46. () 國家設置軍隊，主旨在保家衛民、防止外來的勢力不當侵略，這是國家何種功能的實現？
 (A) 安全 (B) 經濟
 (C) 文化 (D) 福利
47. () 日本宣布將釣魚臺「國有化」，引發了中國的反日示威，我國也出動了多艘漁船到釣魚臺顯示保釣決心。釣魚臺的紛爭顯示中日臺三方之間針對下列哪些國家要素出現爭議？
 (A) 政府、領土 (B) 領土、人民
 (C) 政府、主權 (D) 領土、主權
48. () 阿忠閱讀報紙時，不小心翻倒飲料把部分文字遮住了(如下)。請問：汗漬處應是指哪一個政府機關？
 (A) 司法院大法官會議
 (B) 行政院法務部
 (C) 司法院憲法法庭
 (D) 監察院審計部

文林苑都市更新案惹爭議，51名立委完成釋憲聲請案連署，將向[]提出。立委表示，希望透過釋憲了解法條哪些部分有違憲之虞。

49. () 下列是我國法律制定的流程。請問：何者屬於立法院的職權？



50. () 行政院原子能委員會辦理「臺灣電力公司核能四廠建廠執照」審核程序不當，行政院環境保護署機關未盡環境保護執行監督之責，涉及有失職之處。請問：監察院可對環保署等機關提出何者？
 (A) 糾舉案 (B) 懲戒案
 (C) 糾正案 (D) 彈劾案

<< 本試題結束 >>

萬芳高中國中部 109 學年度第 1 學期社會領域

8 年級第 1 次定期評量試題解答

1	A	2	D	3	A	4	B	5	B
6	D	7	C	8	C	9	D	10	A
11	B	12	B	13	C	14	C	15	A
16	D	17	B	18	B	19	A	20	D
21	B	22	B	23	C	24	B	25	D
26	B	27	C	28	D	29	D	30	C
31	D	32	C	33	B	34	D	35	A
36	C	37	D	38	C	39	C	40	B
41	D	42	A	43	D	44	B	45	B
46	D	47	D	48	A	49	A	50	C