

臺北市立萬芳高級中學國中部 109 學年度第 1 學期社會領域七年級第 1 次定期評量試卷

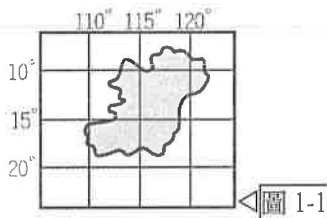
本試卷分地理、歷史、公民 3 個部份，請依序作答，並按照題號畫卡。
各部份題目配分及試卷頁數請參見說明，總分為 100 分。請謹慎作答。

班級： 座號：
姓名：

第 1 部份：地理（第 1-16 題為地理科單選題，每題 2 分。）

題組一：

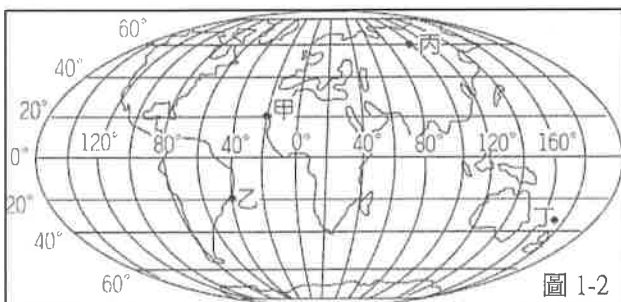
凱奇一家人計劃在全球肺癆的疫情結束後，到位於圖 1-1 中的小島旅遊。請根據圖 1-1 回答第 1-2 題。



- 依據圖 1-1 中的經緯度判斷，請問該小島位於下列那個半球？
(A)北半球，東半球 (B)北半球，西半球
(C)南半球，東半球 (D)南半球，西半球。
- 若凱奇全家人在明年寒假前往圖 1-1 中的島嶼觀光，請問他們應該要如何做好行前的準備？
(A)準備厚重的冬季衣物
(B)準備輕薄的夏季衣物
(C)將手錶時間調快 2 小時
(D)將手錶時間調慢 2 小時。

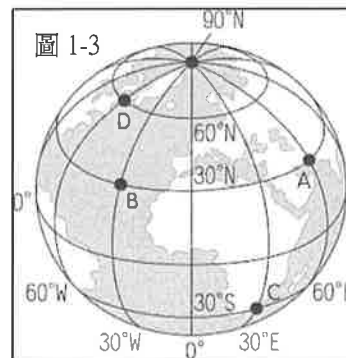
題組二：

附圖 1-2 為世界地圖。請根據圖 1-2 回答第 3-5 題。



- 圖 1-2 中甲、乙、丙、丁四地，何者會最晚見到 2021 年的第一天日出？
(A)甲 (B)乙 (C)丙 (D)丁。

- 如果有飛機沿著「南回歸線」飛行，請問會經過那些洲呢？
(A)非洲、大洋洲、中南美洲
(B)非洲、大洋洲、北美洲
(C)歐洲、亞洲、北美洲
(D)歐洲、亞洲、中南美洲。
- 請問圖 1-2 中的丁地是位在下列那一個海洋？
(A)北極海 (B)大西洋 (C)印度洋 (D)太平洋。
- 地圖上通常以網格表示其位置，如在附圖 1-3 的網格座標中，「B」的座標位置為何？



- (A)西經 30 度、北緯 30 度
(B)東經 30 度、北緯 60 度
(C)西經 60 度、北緯 60 度
(D)東經 60 度、北緯 30 度。
- 萬芳高級中學每年會有日本的中學生到學校參訪交流。請問：若日本東京的學生搭機來臺灣參觀學校時，飛機應朝向哪一個方位飛行？
(A)西北方 (B)東北方
(C)東南方 (D)西南方。
- 隨著科技的進步，加上手機、電腦及網路的普及，於是電子地圖逐漸取代傳統地圖。關於電子地圖的特色，下列何者敘述「錯誤」？
(A)具搜尋位置的功能 (B)可以搭配 GPS 導航
(C)不可以改變比例尺 (D)資料更新速度快。

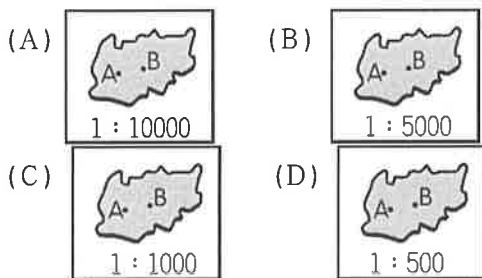
9. 以下是老師和同學的對話，由對話的內容判斷，他們在討論的是哪一條經緯線？

老師：「經緯線是人們為了有利於指出某地區的位置，而設計的網格座標。」

同學：「有一條經緯線將地球畫分為南、北半球。」

老師：「因為受到太陽照射的角度影響，它通過的地區氣溫會比較炎熱。」

- (A)赤道 (B)回歸線
(C)本初經線 (D)國際換日線。
10. 臺灣四面環海，位於東亞島弧的中央，因此掌控該島群南來北往的主要交通位置。請問上述的位置對臺灣有什麼主要的影響？
- (A)地形的起伏落差大
(B)孕育出許多特有的物種
(C)冰河時期與亞洲大陸相通
(D)過境航路服務費的費用收入增加。
11. 地理的語言是地圖，使用者會依據不同實際範圍而繪製成不同比例尺的地圖。請問：下列哪一張圖中 A、B 兩點之間的「實際距離最短」？

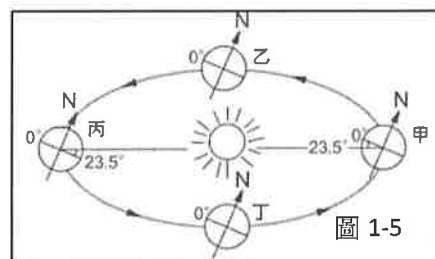


12. 地理老師請四位同學敘述臺灣的「相對位置」，下列哪一位同學的說法正確？
- (A)加幼：「太平洋位於臺灣的西側」
(B)柯雨：「臺灣位於亞洲大陸的東側」
(C)美姿：「臺灣位於北半球與西半球」
(D)欣儀：「臺灣島位在東經 $120^{\circ} \sim 122^{\circ}$ ，北緯 $22^{\circ} \sim 25^{\circ}$ 」。
13. 小柏是今年新進入萬芳高中國中部就讀的七年級學生，他到學校網站查詢到圖 1-4 的交通位置圖。請問圖 1-4 中「缺乏」下列哪一項地圖的要素？
- (A)圖名 (B)圖例
(C)比例尺 (D)方向標。



圖 1-4

14. 特有種形成的原因是物種受到人文或環境因素而被隔絕，而在特定的空間中，因為失去和外界族群交配的機會，加上為了適應特定的環境，而經過長時間的演化，最後終於形成特有的物種。臺灣的特有物種相當豐富，吸引世界各地的學者來此研究。請問：臺灣具備上述的這種特色，和下列何者關係最為密切？
- (A)位於商船往來重要的貿易據點上
(B)位於溫帶與熱帶氣候的過渡帶上
(C)位於最大海洋與最大陸地的交會上
(D)冰河消退後，海水面上升形成臺灣海峽。
15. 二十四氣節是中國古代用來指導農事的曆法，反映了地球圍繞太陽運動的過程，是每年季節變更的重要標誌。9月22日是今年的「秋分」，陽光幾乎直射赤道，晝夜幾乎相等。從這一天起陽光直射位置繼續由赤道向南半球推移，北半球開始晝短夜長。請問：當臺灣「秋分」那一天，地球應該是在圖 1-5 中的那一位置？



- (A)甲 (B)乙 (C)丙 (D)丁。
16. 皮皮一家人正在為了「地球」的海陸與人口分布爭論不休。請問：下列誰的說法是正確的？
- (A)皮皮：「全球陸地面積約占地球的 71%。」
(B)皮爸：「大西洋是三大洋中最大的海洋。」
(C)皮姐：「以陸地面積來說，北半球陸地所占的比例較大。」
(D)皮弟：「全球的人口較集中於南半球。」

後面尚有試題，請繼續換頁作答。

臺北市立萬芳高級中學國中部 109 學年度第 1 學期社會領域七年級第 1 次定期評量試卷

本試卷分地理、歷史、公民 3 個部份，請依序作答，並按照題號畫卡。
各部份題目配分及試卷頁數請參見說明，總分為 100 分。請謹慎作答。

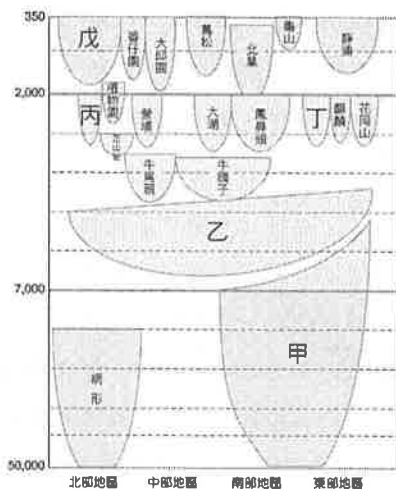
班級： 座號：
姓名：

第 2 部份：歷史（試題共兩頁，17 題，每題 2 分）

17. 芳芳在新聞快訊上讀到：「(中央社記者張茗喧台北 9 月 30 日電)台北榮民總醫院今天表示，已住院近半年的前總統李登輝於晚間 7 時 24 分辭世，享耆壽 98 歲。據了解，李登輝遺體暫厝於台北榮總，院方將設置臨時的靈堂供弔唁致哀。李登輝生於 1923 年，於 1996 年成為中華民國史上首位直接民選總統。台灣從威權走向民主的關鍵數十年間，李登輝可說是擔任了掌舵手的角色。他任內推動民主化、本土化，國際媒體更讚譽他為『民主先生』。但譽之所至，謗亦隨之，他拉攏地方派系力量參與選戰，穩固中國國民黨政權，卻也引來助長黑金勢力批評。李登輝成為政治意涵最複雜糾葛的政治人物。」芳芳對此報導的理解，下列何者有誤？(A)中央社記者對李前總統辭世之時間地點的報導，屬於一種「歷史紀錄」(B)「李登輝生於 1923 年，於 1996 年成為中華民國史上首位直接民選總統。」這段敘述，應是「歷史事實」無誤(C)「台灣從威權走向民主的關鍵數十年間，李登輝可說是擔任了掌舵手的角色。」這段文字屬於一種「歷史解釋」(D)「他拉攏地方派系力量參與選戰，穩固中國國民黨政權，卻也引來助長黑金勢力批評。李登輝成為政治意涵最複雜糾葛的政治人物。」這段描述可以作為「歷史事實」來看待。
18. 課文中敘述：「早在五萬年前，臺灣就有人類居住，其後更歷經不同的文化階段；有些史前時代的先民，甚至是日後部份臺灣原住民的祖先。」關於這段敘述，下列說明何者錯誤？(A)臺灣最早的人類，是在冰河時期進入臺灣的 (B)在冰河時期結束後，臺灣海峽成為廣闊的水域，在臺灣的住民，從此與外界斷絕往來 (C)臺灣最早的人類，其文化處於打製石器階段 (D)臺灣原住民的祖先，應該是在冰河時期結束後來到臺灣，帶來新石器時代的文化模式。
19. 人類進入新石器時代以後有許多重大的生活進展，因此有「新石器革命」之稱；其中使人類有閒暇可從事創造活動的關鍵為下列何者？(A)已知用火、燒製陶器，發明新工具 (B)開始使用磨製石器，種類繁多 (C)已知農耕、畜牧，進入產食階段 (D)發展出國家組織，足以保護人民。
20. 考古學家通常將臺灣的史前時代畫分為舊石器時代、新石器時代與金屬器時代。請問這 3 個時代的畫分標準應是下列何者？(A)文字的有無與進展 (B)出土器物的材質與製作技術 (C)出土發現的現後順序 (D)是否能自行生產足夠食物。
21. 小高在書上看到以下敘述：「西元 1697 年(清康熙 36 年)，郁永河奉命來臺採集硫磺，他帶領工人由府城安平沿岸北上。他觀察到此處少壯未婚的男子都居住在一間比較大的住屋，叫做「公廨」，這是村民們平常議事的場所，語言與文化習慣皆與漢人有很大差異。郁永河歷經艱苦後終於抵達目的地—現今的北投地區，他雇用當地原住民，讓原住民以獨木舟載運硫土到他的工寮換取布匹，再由漢人工人展開提煉硫磺工作。」請問，關於郁永河在臺灣所遇到的這些原住民，下列何者說明是正確的？(A)當時郁永河應該會採用和政府相同的方式，稱他遇到的原住民為平埔族 (B)郁永河所記錄的臺灣西南地區原住民應屬噶瑪蘭族 (C)郁永河所雇用採集、運送硫土的原住民，應為凱達格蘭族 (D)郁永河應該是最早和臺灣原住民有所接觸的外人，因此他的紀錄使得臺灣原住民得以進入歷史時代。
22. 阿萬和家人參加臺灣離島旅遊活動，在當地的天后宮看到一塊石碑，上面有「沈有容諭退紅毛番韋麻郎等」幾個字。有關此事的敘述，下列何者正確？(A)沈有容為清朝將領 (B)此離島最終為葡萄牙人占領 (C)紅毛番指的是西班牙人 (D)此離島指的是澎湖。

請翻頁繼續作答

23. 在十七世紀的「大航海時代」中，臺灣扮演了何種角色？(A) 漢人移民南洋的轉運站 (B) 英國在亞洲殖民、貿易的總部 (C) 中國對外通商的出口港 (D) 東亞國際貿易的轉運站。
24. 查理是十七世紀荷蘭聯合東印度公司的貨船船長，他的船由大員出發，目的地是巴達維亞。下列對該船的描述，何者不符合史實？(A) 要將《熱蘭遮城日記》送到巴達維亞 (B) 船上刻有 VOC 的圖徽 (C) 與西班牙人合作在臺灣的經貿事務 (D) 該船裝有蔗糖、瓷器、香料等貨物。
25. 下圖為歷史老師在課堂上出的一道考題，其中「乙」應為哪個史前文化？(A) 長濱文化 (B) 卑南文化 (C) 大坌坑文化 (D) 十三行文化。



26. 右圖是卑南文化遺址出土的人獸形玉飾，考古學家在宜蘭、臺北等地區的新石器文化遺址，都發掘出形狀類似的玉飾。關於這種情況，下列何者推論最為合理？(A) 玉石不是臺灣的特產，這些應該都是從海上貿易而來 (B) 這種形狀類似情形只是偶然發生，沒有特殊歷史意義 (C) 這顯示出遠古時代的臺灣與中國大陸人們有密切往來 (D) 臺灣島內玉器形式的相似，反映出島內文化間的交流。



〔27-28 題為題組〕小軒去參觀歷史博物館，在「異文化相遇：十七世紀的臺灣」展區中，看到一本記錄臺灣事務的日記。請閱讀後回答問題。

10月7日

今天指揮官召開議會做出決議，一旦天氣許可，就要帶軍隊出發去淡水，遵照在大員的長官命令，在那裡尋找一個適當地方以興建城堡。又遵照總督閣下與東印

度議會的指令，要把所有西班牙人屬下的人員，全部送去大員。……議會結束後，指揮官命令被俘虜的西班牙人與其他人，要他們立刻去小船那裡，在傍晚以前都運上船。

27. 撰寫這本日記的人，應該為下列何者？(A) 荷蘭人 (B) 漢人 (C) 葡萄牙人 (D) 日本人。
28. 作者寫這篇日記的時空背景為何？(A) 西元 1624 年，西班牙人被沈有容趕出澎湖後，轉往臺灣北部 (B) 西元 1626 年，西班牙與葡萄牙爭奪澳門失利，改往淡水發展 (C) 西元 1642 年，荷蘭人從大員北上，將西班牙人趕出臺灣北部 (D) 西元 1664 年，日本政府開始鎖國後，西班牙人被迫離開臺灣。
29. 十四世紀後期，明朝政府為了應付海盜的騷擾中國沿海，實施了哪一項政策來防範？(A) 渡臺禁令 (B) 海禁政策 (C) 開山撫番 (D) 劃界封山。
30. 高老師正在考察某一個地方的歷史，他談論到：「我們現在考察的地點，可以說是漢人最早臺灣活動的據點之一。當時顏思齊在此登陸後，招攬漢人墾荒，故此的歷史算起來已有四百年了。」請問，高老師正在哪一個地方進行考察？(A) 基隆、淡水一帶 (B) 鹿港、彰化一帶 (C) 臺南、高雄一帶 (D) 雲林、嘉義一帶。
31. 葡萄牙人拉亞假如想要了解十七世紀他的國家在亞洲殖民統治的狀況，她可以到下列哪一個地點進行田野調查工作？(A) 澳門 (B) 香港 (C) 臺灣 (D) 菲律賓。
32. 荷蘭東印度公司占領臺灣南部後，以臺灣為基地，進行以下哪項貿易活動？(A) 積極發展呂宋島、臺灣、日本三地的轉口貿易 (B) 獎勵日本商人來臺進行走私貿易 (C) 招募漢人種植稻米、甘蔗並進行外銷 (D) 與明朝福建官員協商進行臺灣海峽的兩岸貿易。
33. 西班牙人計畫以臺灣為跳板到日本貿易，但是並不順利，是因為日本當時進行何種措施所致？(A) 實行鎖國政策 (B) 抵擋蒙古襲來 (C) 皇民化運動 (D) 明治維新進行改革。

歷史試題結束，請接續下頁作答公民試題

臺北市立萬芳高級中學國中部 109 學年度第 1 學期社會領域七年級第 1 次定期評量試卷

本試卷分地理、歷史、公民 3 個部份，請依序作答，並按照題號畫卡。
各部份題目配分及試卷頁數請參見說明，總分為 100 分。請謹慎作答。

班級： 座號：
姓名：

第 3 部份：公民（每題兩分、共 17 題）

※題組：依據以下內容，請回答34~36題

噹噹噹~上課鐘聲響起，班會活動開始。七年八班今天要討論的議題是決定班服製作的圖案。下列是他們利用班會課進行討論的過程：

班長：各位同學坐好，我們準備開班會。首先我們要先選出主席、司儀和紀錄。

主席、司儀和紀錄產生後，班會正式開始，接著進入提案討論的部分。

主席：今天我們討論的議題是決定班服的圖案，請同學踴躍提供意見進行討論。

小英：主席。我提出臨時動議，剛段考完，我們先討論要去哪裡班遊好了。

（此時同學們開始鼓譟，你一言我一語的討論要去哪裡玩。主席見狀後說……）

主席：看大家討論如此踴躍，我們就先進行臨時動議吧！

34.()接著，小明舉手：「主席，依照會議規範，應該先進行提案討論。」小明提出的是何種問題？

- (A)討論問題 (B)秩序問題
(C)權宜問題 (D)解決問題

35.()請問如何處理小明提出的問題？

- (A)由主席直接裁決
(B)附議後再由同學投票決定
(C)由導師裁決
(D)不了了之

小明提出的問題處理之後，終於回到提案討論。在同學踴躍的提案與討論後，先後提出了兩個設計圖案，準備進行表決。

【第一案：畫一隻天鵝】 【第二案：畫勝利手勢】

36.()根據會議規範，表決的方式應該是？

- (A)抽籤決定哪一案先表決
(B)由第二案先表決
(C)由導師裁決
(D)由第一案先表決

- 37.()關於「權力」與「權利」的敘述，何者正確？
(A)「權力」與「權利」完全對立
(B)民主國家的人民享有「權利」不須承擔任何義務
(C)民主國家「權力」與「權利」是相互制衡也是相互合作的關係
(D)為了國家和諧穩定，不須約束國家統治的「權力」。

38.()今年高雄市政府教育局為了讓弱勢學生在暑假也能享有餐食，從6月29日~8月29日，設籍且就讀高雄市的國中小低收入戶學生，都可以使用教育局所發的「安心餐食券」，預計將有超過6400名學子受惠。此一高雄市政府的政策主要是落實兒童哪項權利？

- (A)生存權 (B)參與權
(C)發展權 (D)受保護權

39.()「國民」和「公民」最主要的區別為何？

- (A)是否曾擔任公職
(B)是否受到原生國家的庇護
(C)是否可以行使參政權
(D)是否擁有該國國籍。

40.()依據我國《國籍法》規定，下列四人何者擁有中華民國國籍？

- (A)父母都是日本人，小則在花蓮出生
(B)小惠在桃園機場上班，她的父親是泰國人，母親是越南人
(C)在台灣上學的交換學生
(D)小名出生時，父親剛當選萬芳里里長

試題尚未結束
請翻面繼續作答

- 41.() 以下是小華在網路上看到的一篇報導:「臺北市昨日發生一起公車性騷擾事件, 被害人是一名女性上班族, 在上班搭公車時, 被鄰座的男子從旁撫摸臀部, 其他乘客見狀趕緊報告司機, 並請司機報警處理」。依據上文該名男子的行為已經觸犯了下列何法?
- (A) 《中華民國憲法》
 (B) 《性別工作平等法》
 (C) 《性騷擾防治法》
 (D) 《性別平等教育法》
- 42.() 2018年的公民投票總共有 10 案, 依據(甲)規定:「中華民國國民年滿(乙)歲者, 有公民投票權」。甲、乙依序應填入下列何者?
- (A) 《中華民國憲法》、20
 (B) 《公民投票法》、20
 (C) 《中華民國憲法》、18
 (D) 《公民投票法》、18
- 43.() 2018 年 11 月 24 日九合一的地方選舉暨公民投票, 民眾都很踴躍的到指定投票所去投下神聖的一票, 民眾踴躍投票的行動, 應與哪個基本公民德性最相關?
- (A) 參與公共事務 (B) 理性思考批判
 (C) 和平尊重包容 (D) 捍衛公平正義
- 44.() 承上題, 該次選舉因公投案總共有 10 案, 民眾對這些公投案的內容, 詳細閱讀並按照自己的立場投下「同意」或「不同意」, 這個行為應與哪個基本公民德性最相關?
- (A) 參與公共事務 (B) 理性思考批判
 (C) 和平尊重包容 (D) 捍衛公平正義
- 45.() 在某次的街頭抗議中, 人民的訴求主題是「爭取工作權、爭取生存權」, 下列有關人民的訴求相關敘述, 何者正確?
- (A) 人民的權力 (B) 政府的權力
 (C) 人民的權利 (D) 政府的權利
- 46.() 根據下列哪兩部法律的規定, 學生在校園中擁有四項基本權利?
- (A) 《國籍法》、《憲法》
 (B) 《民法》、《刑法》
 (C) 《世界人權宣言》、《憲法》
 (D) 《兒童權利公約》、《憲法》。
- 47.() 王姓男同學和李姓男同學平日下課會在教室追逐奔跑, 甚至會互相拉扯衣褲。某日兩人依舊互相玩耍時, 王同學誤把李同學的體育褲扯下來, 李姓同學家長向校方申訴王同學性騷擾。上述這起事件學校會交由下列何者調查處理?
- (A) 學校學務處 (B) 教育部
 (C) 性別平等教育委員會 (D) 警察局。
- 48.() 中華民國《國籍法》第二條規定, 出生時父或母為中華民國國民者, 屬中華民國國籍。由此可知我國國籍主要是依據何種途徑來取得?
- (A) 血統規則 (B) 出生地規則
 (C) 屬地原則 (D) 歸化取得。
- 49.() 依據《身心障礙者權益保障法》規定, 各級政府機關、公立學校及公營事業機構員工總人數在 34 人以上者, 進用具有就業能力之身心障礙者人數, 不得低於員工總人數的 3%。此規定所彰顯的精神為何?
- (A) 參與公共事務 (B) 理性思考批判
 (C) 和平尊重包容 (D) 捍衛公平正義
- 50.() 某位老師對學生說:「明天沒交作業的同學, 就把課桌椅抬到教室外上課!」, 這位老師對學生的管教方式可能會侵害學生的何種權利?
- (A) 受保護權 (B) 受教權
 (C) 生命權 (D) 生存權

※本試題結束※

萬芳高中國中部 109 學年度第 1 學期社會領域

七年級第一次定期評量試題解答

1	C	2	B	3	B	4	A	5	D
6	A	7	D	8	C	9	A	10	D
11	D	12	B	13	C	14	D	15	D
16	C	17	D	18	B	19	C	20	B
21	C	22	D	23	D	24	C	25	C
26	D	27	A	28	C	29	B	30	D
31	A	32	C	33	A	34	B	35	A
36	D	37	C	38	A	39	C	40	D
41	C	42	D	43	A	44	B	45	C
46	D	47	C	48	A	49	D	50	B

