

本試卷分地理、歷史、公民 3 個部份，請依序作答，並按照題號畫卡。
各部份題目配分及試卷頁數請參見說明，總分為 100 分。請謹慎作答。

班級： 座號：
姓名：

第 1 部份：地理（共 17 題，每題 2 分，共 2 頁）

1. 圖 1-1 是亞洲分

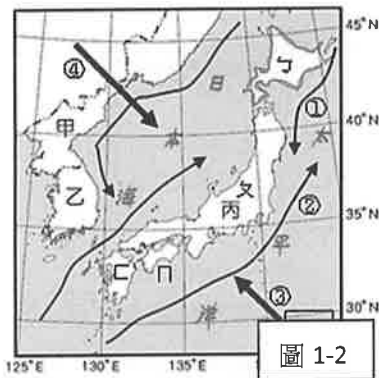
區圖。請問下列敘述何者『有誤』？(A)丙、丁、戊區有熱帶季風氣候(B)己區隔紅海與非洲為鄰(C)甲區以烏拉山與歐洲為界(D)環太平洋火山地震帶經過丁、戊區



2. 南韓與北韓，兩國雖然位在同一个半島上，但是自然資源與人文環境差異大。請問下列選項敘述何者正確？

項目	(A)地形	(B)生長季	(C)天然資源	(D)產業
北韓	較高	較長	缺乏資源	汽車、高科技
南韓	較低	較短	豐富的煤鐵	國防工業

圖 1-2 為東北亞行政區圖和風向、洋流分布圖，甲~丙為國家，ㄅ~ㄇ為四大島，①~④為風向、洋流，請回答 3~5 題



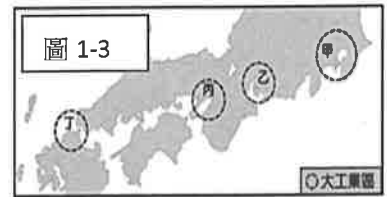
3. 每年 3 月起，日本各地陸續都有櫻花盛開的美景，根據緯度判斷，圖中哪一區的櫻花開得最晚？(A)ㄅ(B)ㄆ(C)ㄇ(D)ㄏ。

4. 圖中哪兩個代號箭頭，為日本帶來豐富的漁業資源？(A)①、③(B)②、④(C)①、②(D)③、④

5. 圖中針對各代號的敘述說明何者正確？(A)乙國及丙國精華區皆集中於西南部(B)甲、丙國的水力資源豐富(C)丙國冬季較冷濕的原因是因為③的關係(D)丙國的年溫差較乙國大

6. 圖 1-3 為日

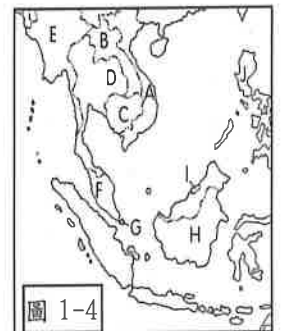
本主要的工業區，日本的人口、產業發展也以這些地方為重心。



請問：下列關於這些地點的敘述，何者『有誤』？(A)因疫情關係而延後舉辦的 2020 奧運主要都市為甲處(B)以藝伎文化及傳統建築聞名古都位於乙處(C)丙區的平原屬於近畿平原(D)丁區位置為北九州工業區。

7. 以下針對臺灣、日本、南韓的特色比較描述，何者正確？(A)皆屬溫帶季風(B)精華區皆位於西部平原(C)政府皆扶植大型財團發展經濟(D)皆較缺乏礦產資源

圖 1-4 為東南亞政區圖，A~K 為各國代號。請回答 8~9 題



8. 由於首都雅加達擁擠且面臨地層逐漸下陷的危機，該國政府宣布將遷都至婆羅洲島的東加里曼丹省 (East Kalimantan) 境內。

此國家同時也是伊斯蘭教徒最多的國家。請問此國為？(A) F (B) H (C) I (D) J。

9. 針對圖上國家的特性描述何者正確？(A)A 國河流源自中國的雲貴高原 (B)I 國跟 J 國的氣候類型相同 (C) G 國和 J 國的首都皆屬於港埠型都市 (D) E 國深受印度文化影響，以印度教為主

東南亞國協於 1967 年成立，會旗中的 10 棵稻草代表了東南亞國協的 10 個成員國。近年來推動東協加 1、加 3、加 6



等與周圍國家的合作方案，目前更以東協為基礎，積極推動『區域全面經濟夥伴協定』(RCEP)，企圖提高東南亞對世紀經濟的影響力……

請回答 10~11 題

10. 東南亞國家的產業特性描述下列何者『有誤』?
 (A)目前東南亞國協只有東帝汶沒加入 (B)近年於馬來西亞、印尼、汶萊發現石油及天然氣而帶動經濟發展 (C)泰國、馬來西亞、印尼、菲律賓等國因發展加工出口業，故已成為新興工業化國家 (D)因過去受殖民影響，發展出以糧食作物為主的熱帶栽培業。
11. 東南亞為國人最為熟悉的度假地區，近年來和日本、中國並列為亞洲三大旅遊市場。請問下列照片與國家的配對何者『有誤』?

(A) 新加坡

(B) 馬來西亞



(C) 汶萊

(D) 柬埔寨



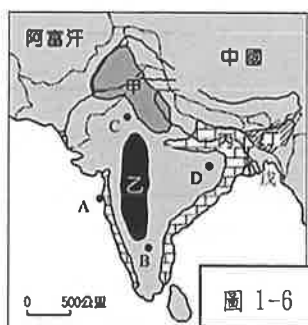
圖 1-5 是南亞地形簡圖(A~D 為地理區，a 與 b 為河流)請問



12. 對於圖上地理區的特性描述何者『有誤』?
 (A) A 區為板塊接觸帶易發生地震
 (B) b 為恆

河，印度教徒視為聖河 (C) B 區地質古老，礦產豐富 (D) D 區為塔爾沙漠，是溫帶沙漠。

圖 1-6 為南亞作物分布與重要都市區(甲~戊區為作物區，A~D 為重要都市)請回答 13~14 題



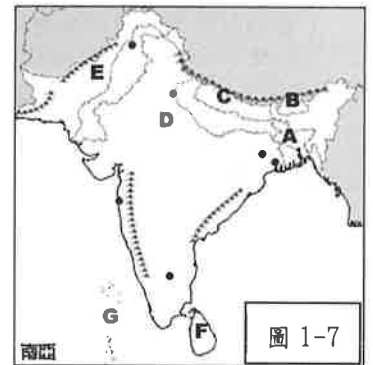
13. 請問下列敘述何者正確?
 (A) A 都市為棉織業及電影發展

重心 (B) 戊區與斯里蘭卡都出產紅茶

(C) 甲與丙作物不同的主要原因是因地形差異

(D) D 市為資訊研究重鎮，有『印度矽谷』之稱

南亞地區人口眾多、族群複雜、文化多元，觀光資源豐富，但因自然環境互異，也出現各種環境問題... 圖 1-7 為南亞政區圖(A~G 為國名)。



請回答 14~17 題

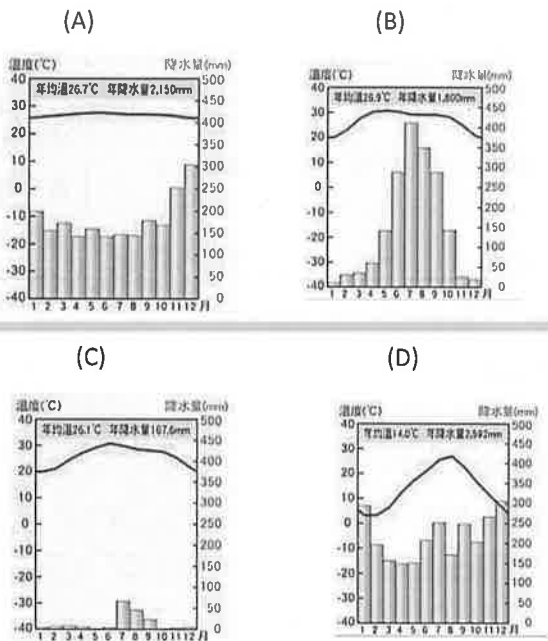
14. 針對南亞各國的社會及環境問題，下列敘述何者『有誤』?

(A) A 國易受颱風影響而出現嚴重水災

(B) D 國因過去種姓制度的影響，社會發展差異甚大 (C) E 國河川上游因過度灌溉導致土壤鹽鹼化 (D) F 國因全球暖化正面臨國土減頂威脅

(B) D 國因過去種姓制度的影響，社會發展差異甚大 (C) E 國河川上游因過度灌溉導致土壤鹽鹼化 (D) F 國因全球暖化正面臨國土減頂威脅

15. 下列何者氣候圖與 A 國的氣候類型最相似?



16. 圖上哪兩個國家會因水源、宗教及爭奪喀什米爾主權議題而爭議不休? (A) A 和 E 國 (B) B 和 C 國 (C) D 和 E 國 (D) G 和 F 國。

17. 下列有關南亞氣候特徵的敘述，何者正確?

(A) 11 月至次年 2 月盛行西北風，是一年最舒適的季節 (B) 3 至 5 月天氣晴朗無風，全境溼熱 (C) 6 至 10 月為雨季是因西南季風帶來太平洋水氣 (D) 南亞降水量主要受夏季季風及地形影響。

請繼續回答

臺北市立萬芳高級中學國中部 108 學年度第 2 學期社會領域 八年級第 三次定期評量試卷

本試卷分地理、歷史、公民 3 個部份，請依序作答，並按照題號畫卡。
各部份題目配分及試卷頁數請參見說明，總分為 100 分。請謹慎作答。

班級： 座號：
姓名：

第 2 部份：歷史（18~33 題，每題 2 分，共 32 分，共二頁）

18. 下列是孫中山所成立的革命組織，按照成立的時間先後順序排列為何？(甲)中國國民黨(乙)興中會(丙)國民黨(丁)中華革命黨(戊)中國革命同盟會
(A)乙戊甲丁丙 (B)乙戊丙丁甲 (C)乙丁丙戊甲 (D)乙丁甲戊丙。
19. 崇皓在網路上查詢「十年建設」的歷史資料時，由於他看太多史料，導致將歷史事件與時間混淆，請你幫助他選出下列何者不是十年建設時期的內容？
(A)關稅自主 (B)建設公路 (C)實施義務教育 (D)廢兩改元。
20. 台灣一位歷史學者曾說：「韓戰是國民黨的西安事變。」他的意思是：「西安事變救了共產黨，而韓戰則救了當時撤退到台灣的國民黨政府。」關於上述的說法，下列的理解何者有誤？
(A)西安事變迫使國民政府放棄「攘外必先安內」
(B)蔣中正被迫接受「停止剿共、一同抗日」的主張
(C)韓戰促使美國派遣艦隊協防台灣，防止中共侵台
(D)韓戰使英國對台灣提供經濟援助，助台經濟繁榮
21. 孫中山的建國大綱將國家建設分為軍政、訓政、憲政三個時期。請問下列何者是「訓政」時期的事蹟？
(A)北伐軍閥 (B)頒佈憲法 (C)以黨治國 (D)聯俄容共
22. 有一首嘲諷時事的順口溜：「穀灑地，薯葉枯，青壯煉鐵去，收禾童與姑，來年日子怎麼過？我為人民鼓嘯呼。」請問：上述順口溜嘲諷的是哪一件時事？
(A)1950 年末的大躍進運動
(B)1960 年中期的文化大革命
(C)1970 年代的四人幫亂政
(D)1980 年代興起的改革開放。
23. 日本攻佔中國土地後，因兵力不足，無法全面控制，因此先後扶持溥儀在東北成立「滿洲國」、汪精衛於南京成立國民政府，作為傀儡政權，意圖分化中國抗日力量。請問上述日本所採取策略是？(A)先安內後攘外 (B)以空間換取時間 (C)速戰速決 (D)以華制華。
24. 1930 年代末期，爆發中日戰爭。請問下列哪一歷史事件出現在此戰爭期間？
(A)歐洲正處於第一次世界大戰的戰火中
(B)美國為爭取蘇聯對日宣戰而聲明東北還中共
(C)日本偷襲美國在夏威夷的海軍基地
(D)中、美、英三國領袖召開雅爾達會議
25. 「首先總是先念語錄，然後大喊一聲：『把某某走資派押上來！』於是走資派就被兩個或多個戴紅袖章的青年學生把手臂扭到背後，按住腦袋，押上了審判台。此時群眾口號震天，還連呼『什麼萬歲！』主要發言人走上前去發言進行批鬥。發言歷數被批鬥者的罪狀，幾乎是百分之百的造謠誣讒，最後一定要上網上升到驚人的高度：反黨，反社會主義，反偉大領袖。」請問上文所述的背景是？(A)抗美援朝 (B)大躍進 (C)改革開放 (D)文化大革命。
26. 請閱讀以下二則史料，並回答以下的問題：
資料一：「蘇聯利用雅爾達會議，取得中國接收東北特權，並在戰後協助中共搶先接收東北，使中共聲勢和國民黨不相上下。」
資料二：「戰爭結束後，國民黨與共產黨的明爭暗鬥直接浮上檯面，中國局勢又陷入動盪不安，美國還特地派遣特使來華協調國共關係，但是以失敗收場。」
請問上述二則資料皆是指哪一場戰爭後所發生的歷史事件？(A)第一次世界大戰 (B)八年抗戰 (C)韓戰 (D)國共內戰。
27. 國民黨與共產黨之間曾歷經數次的分裂與合作，其間有衝突、有協商，國共關係的演變對於中國近代歷史發展影響深遠。請問下列敘述何者錯誤？
(A)孫文採取「聯俄容共」，展開第一次國共合作
(B)北伐期間，蔣中正主張清共，導致「寧漢分裂」
(C)民國 19 年，蔣中正主張剿共，國、共才正式決裂
(D)張學良「兵諫」落幕後，國共聯手抗日。

28. 中共建國之後，在國際外交政策上，採取向蘇俄「一邊倒」的基本方針，並曾於下列哪場戰爭中派遣志願軍赴戰場與美軍作戰？ (A)韓戰 (B)越戰 (C)淞滬會戰 (D)第二次世界大戰。

29. 附表為民國某個時期的物價表，在這個表格中呈現相同貨幣在不同的時間購買力變化情形。我們可以從這張表讀出下列何項訊息？

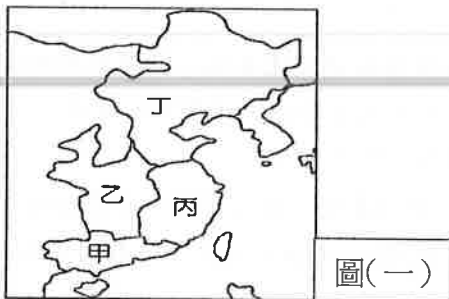
年分 (民國)	26	27	30	32	34	35	36
100元 法幣可 買的物 件	2 頭牛	1 頭牛	1 頭豬	1 隻雞	1 條魚	1 個雞蛋	1/3 盒火柴

(A)工商業發展急速衰退 (B)民眾消費能力快速成長
(C)民生物資取得非常困難 (D)通貨膨脹非常嚴重。

30. 中共在國共內戰期間以及建國之初，都曾實行同一政策，獲得廣大民眾的支持，因此鞏固其在大陸的統治。請問：哪個政策讓中共得以穩固大陸的政權？ (A)土地改革 (B)大躍進 (C)抗美援朝 (D)文化大革命

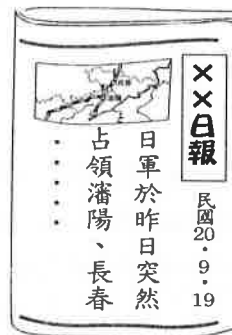
31. 鄧小平掌握大權後，開始實施一系列的政策。請問以下哪一項政策不是他的主張？

(A)實行「政治民主化」 (B)推動「改革開放」
(C)設置「經濟特區」 (D)提出「四個現代化」。



32. 附圖(一)為國民政府北伐路線示意圖。西元1926年國民革命軍總司令出師討伐□□□宣言：「各報館暨全國軍人、農、工、商、學各界同胞均鑒：中正此次奉命出師，就職之日，業將國民革命之需要，革命戰爭之目的，與中正北伐之職志，略陳梗概於國人之前，餘義悉詳本黨出師宣言中，計滋鑒察。現在國民革命軍，將與北洋正統□□□決戰於江、漢；此戰關係，不僅決軍閥命運之存亡，即中國國家與民族之能否恢復其自由獨立，胥卜於此。」請問根據上文的描述中，國民革命軍欲北伐的對象是？ (A)甲 (B)乙 (C)丙 (D)丁。

33. 附圖(二)為日本侵略中國的地區示意圖。均瑞在舊報紙中，看到以下報導，請問這是在說明圖(二)中哪一處所生的事件？



(A)甲 (B)乙 (C)丙 (D)丁。

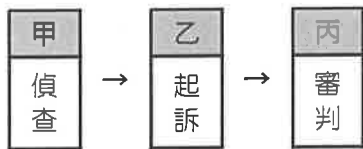
※歷史試題結束，請換頁繼續作答。

本試卷分地理、歷史、公民 3 個部份，請依序作答，並按照題號畫卡。
各部份題目配分及試卷頁數請參見說明，總分為 100 分。請謹慎作答。

班級： 座號：
姓名：

第 3 部份：公民（共 17 題，每題 2 分，共 2 頁）

34. 青青於校外打籃球時，與校外人士發生糾紛，雙方因而大打出手導致多人受傷，所幸均無大礙。雙方在釐清彼此誤會後，決定採用簡便、省力又省錢的方式解決此次紛爭。根據上述判斷，雙方可能採用的解決方式為下列何者？
(A)調解 (B)訴願 (C)仲裁 (D)訴訟。
35. 附圖是竊盜案的偵查流程。下列關於甲、乙、丙的敘述，何者正確？
(A)甲：由律師負責 (B)乙：由檢察官向法院提起 (C)乙：由律師向法院提出 (D)丙：由檢察官依法獨立負責。



36. 莫緋因疲勞駕駛，不慎將陳老先生撞成植物人，老先生家屬憤而向莫緋提告要求賠償。經過高等法院審判後莫緋敗訴，莫緋不服二審判決，向最高法院提出上訴。根據上述判斷，下列何者可能是老先生家屬向莫緋求償的金額？
(A)100 萬 (B)120 萬 (C)140 萬 (D)160 萬。
37. 15 歲的阿華找到下列 4 個打工機會，依據《勞動基準法》規定，阿華應選擇哪項工作？
(A)平日晚上 8 時至 12 時在加油站上大夜班
(B)平日下午 1 時至 5 時在餐廳門口發傳單
(C)星期六、日兩天到大賣場幫忙切割牛肉
(D)每天早上 4 點到果菜批發市場搬運水果。
38. 19 歲的小白和 15 歲的女友因為一時衝動，在情投意合下發生了性行為。針對上述事件，下列敘述何者正確？ (A)只要雙方你情我願即合法 (B)只要雙方父母同意即可 (C)小白和女友兩人皆觸犯妨害性自主罪 (D)只有小白會受到《刑法》的處罰。

39. 近年來在「拜金主義」盛行下，網路上從事援助交際的未成年人日益增加，根據有關單位統計，許多未成年人出賣自己的身體，只是為了購買一些奢侈品。這些少年犯多會被交付給適當的社會福利或教養機構施以品德輔導，上述處理方式為下列何者？ (A)假日生活輔導 (B)保護管束 (C)安置輔導 (D)感化教育。
40. 阿寶侵入鄰居家行竊，被鄰居發現，報警處理。阿寶因為是初犯心生恐懼，向鄰居求情希望透過和解來處理此項衝突。下列相關敘述，何者正確？
(A)阿寶和鄰居可採訴訟上和解的方式 (B)必須由鄰居提出告訴，國家才會追究阿寶的犯罪 (C)竊盜罪屬非告訴乃論的刑事案件，不適用和解 (D)鄰居可至區公所聲請調解。
41. 一篇探討「選舉現象」的文章指出：「...每到選舉，司法就成為某些候選人操弄的工具，提告、檢舉、按鈴申告，各種花樣紛紛出爐，若有一天沒了司法，肯定有不少政治人物會頓失依靠，不知道要怎樣選下去...。」若候選人打算以被害人身分，向抹黑自己的對手提告妨害名譽罪，而至地檢署按鈴控告。上述行為屬於何種讓檢察官知悉犯罪並加以偵查之管道？
(A)告訴 (B)公訴 (C)自首 (D)自訴。
42. 阿松想在自家祖傳土地上蓋房屋，於是向縣政府申請建築許可，但縣政府遲遲不核發。阿松認為縣政府已經侵害自己的權益，決定尋求合法的權利救濟管道。根據上述，阿松首先必須使用下列何種救濟管道？ (A)提出民事訴訟 (B)提出刑事訴訟 (C)向高等行政法院提出行政訴訟 (D)向訴願管轄機關提出訴願。

請翻頁繼續作答

43. 八年級的小敏和同學小玉發生衝突，小敏於是打電話找現年 17 歲讀高中的表哥到場助陣，表哥到場後，兩人合力將小玉痛毆一頓。小玉事後感到害怕向警方報案，兩人皆被移送法辦。根據上述內容判斷，關於小敏和表哥可能須負的法律責任，下列說明何者正確？
- (A)二人行為屬於民事責任，只要賠償小玉即可
(B)小敏可能須負起少年刑事案件的責任 (C)表哥須負起完全的刑事責任 (D)二人可能被處以假日生活輔導。
44. 下表是和解與調解的比較。根據內容判斷，下列對甲、乙、丙、丁，應填入的內容描述何者正確？
- (A)「甲」和「丁」均填入契約效力 (B)「乙」和「丙」均填入法院 (C)「甲」填入同法院確定判決；「丁」填入契約效力 (D)「乙」填入法院；「丙」填入調解委員會。

項目	和解		調解	
	訴訟外的和解	訴訟上的和解	行政機關調解	司法上的調解
機關	無	乙	丙	法院
時機	訴訟外	訴訟上	訴訟外	起訴前 訴訟中
法律效力	甲	同法院 確定判決	丁	

45. 今年 17 歲的洞洞，日前因持刀強迫他人交出財物，犯下多起搶劫皮包案件而被警察逮捕。根據上述內容判斷，司法在處理洞洞犯罪的事件時，下列哪項處理程序是正確的？
- (A)洞洞觸犯的罪較輕微，以少年保護事件程序處理 (B)洞洞未滿 18 歲，因此不受刑罰處罰 (C)檢察官直接將洞洞交付保護管束即可 (D)洞洞須依少年刑事案件程序處理，並受刑罰處罰。
46. 法律扶助基金會的目的是提供法律援助，讓經濟弱勢者免去訴訟費用和律師酬勞的負擔，藉以保障人民的何種權利？ (A)人格權 (B)自由權 (C)受益權 (D)參政權。

47. 當事人針對正在訴訟的案件，仍可透過和解的方式，中止訴訟的全部或一部分。下列哪種情況可以適用上述和解的規定？ (A)被依竊盜罪嫌提起刑事訴訟 (B)不服交通罰單裁決而提起行政訴訟 (C)因金錢借貸糾紛而提起民事訴訟 (D)不滿土地被徵收而提起訴願。
48. 寬寬在論壇上看到一篇文情並茂的情書，就把它傳給自己的女朋友，並署名為自己寫的。上述寬寬行為所觸犯的罪名與下列何者相同？ (A)利用電子郵件散播勒索病毒向電腦使用者索取財物 (B)在網路上匿名散布競選對手賄選的謠言 (C)將戲院最新上映的電影上傳至雲端空間供人下載觀看 (D)與剛滿 15 歲的女友發生性行為。
49. 根據警政署的調查指出，少年犯罪類型中，毒品相關犯罪，呈現逐年增加的趨勢。警方呼籲父母，平時應善盡教養之責，因為根據《兒少法》規定，若父母放任子女吸毒，將依法受到下列何種處罰？ (A)訓誡 (B)罰鍰 (C)罰金 (D)拘役。
50. 元智蒐集許多社會紛爭事件的資料，將其分類後，結果如下表所示。根據表中資訊判斷，下列說明何者正確？
- (A)應由普通法院進行訴訟審理的件數共 105 件
(B)可經由和解方式直接解決的件數共 255 件
(C)檢察官應主動進行偵查的件數共 150 件
(D)可聲請調解委員會調解的件數共 155 件。

事件類別	件數(件)
民事事件	105
告訴乃論 刑事案件	50
非告訴乃論 刑事案件	100

試題結束

八 年級第 三 次定期評量試題解答

(1~17 題地理；17~33 題歷史；34~50 題公民)

1	2	3	4	5	6	7	8	9	10
D	A	A	C	B	B	D	B	C	D
11	12	13	14	15	16	17	18	19	20
C	D	A	D	B	C	D	B	C	D
21	22	23	24	25	26	27	28	29	30
A	C	D	C	D	B	C	A	D	A
31	32	33	34	35	36	37	38	39	40
A	B	B	A	B	D	B	D	C	C
41	42	43	44	45	46	47	48	49	50
A	D	D	D	D	C	C	C	B	D

