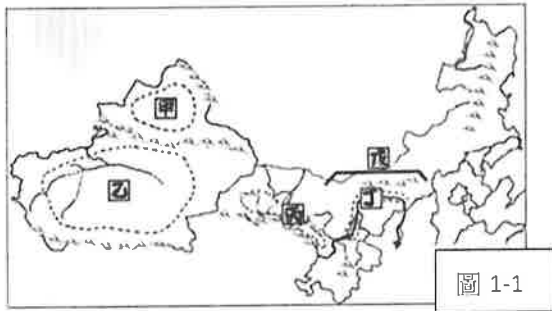


本試卷分地理、歷史、公民 3 個部份，請依序作答，並按照題號畫卡。  
各部份題目配分及試卷頁數請參見說明，總分為 100 分。請謹慎作答。

班級： 座號：  
姓名：

第 1 部份：地理（共 16 題，每題 2 分，共 2 頁）

◎圖 1-1 是蒙新地理區簡圖。請回答 1~3 題



- 請問圖中各地理區特色描述，何者『有誤』？  
(A)甲區和乙區的界山為天山(B)丙區因侵蝕作用形成地塹地形(C)丁區是由黃河沖積而成河套平原(D)戊區受風蝕作用影響，呈現平坦遼闊景觀
- 下列為圖 1-1 地理區的氣候描述，請問哪一個選項說明是正確的？  
(A)甲區：氣候乾燥，擁有中國最大的沙漠  
(B)乙區：缺口向東北方，可接受海洋水氣  
(C)丙區：有高山融雪形成山麓綠洲  
(D)戊區：由東側向西側氣候依序為沙漠→草原

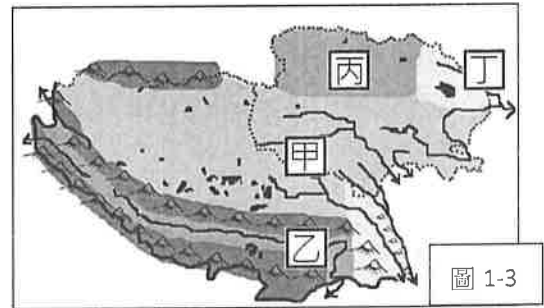
- 圖 1-2 為小恩在新聞上看到介紹中國某一少數民族特殊節慶摔跤活動的照片，請問針對此民族的敘述何項正確？



圖 1-2

- (A) 此民族主要信奉藏傳佛教 (B)此民族主要分佈於圖 1-1 中的乙區 (C)生活及習俗受古蘭經影響 (D) 主要是經營綠洲農業為生
- 「吐魯番的葡萄哈密的瓜，庫爾勒的香梨人人誇，葉城的石榴頂呱呱。」以上為中國某地區的民謠。請問針對此地區的描述何者正確？  
(A) 當地因高地氣候日溫差大，有利糖分的積累，故有『瓜果之鄉』美譽(B)此地擁有依賴雨水的灌溉設施稱為坎兒井 (C)中國最大的稀土礦產地位於此區 (D)此區也是中國最大棉花產區

◎圖 1-3 是青藏地理區簡圖。請回答 5~6 題



- 針對圖 1-3 中甲乙丙丁四地的特色描述，下列哪一個敘述有『誤』？  
(A)甲地為中國大河的發源地(B)乙地受印度洋東南季風暖濕氣流的影響，為此區的精華區(C)丙地礦產資源豐富有『聚寶盆』之稱(D)丁地青藏鐵路有經過此處
- 以下針對青藏地區的區域發展特色描述，何者正確？(A)主要牲畜為駱駝與當地居民生活密不可分(B)拉薩的布達拉宮為政教中心位於圖 1-3 的甲區(C)此區居民主食為青稞做成的糌粑和酥油茶(D)此區民族信奉的宗教與維吾爾族相同

◎中國大陸科學家利用近 50 年的衛星遙感數據分析發現，青藏高原面積大於 1 平方公里的湖泊數量，已從 1970 年代的 1080 個增加到 2018 年的 1424 個，湖泊面積從 4 萬平方公里增至 5 萬平方公里，淨增面積相當於多出 2 個青海湖。湖泊是水循環的重要組成部分，對氣候變化非常敏感，青藏高原湖泊分布密集，較少受到人類活動的影響，是研究氣候變化的重要指標之一...(節錄自聯合報新聞 2019.12.02)

- 請問造成上述地區湖泊多的成因是？  
(A)火山作用及斷層作用(B)河川切割及地層陷落 (C)板塊擠壓及冰河堆積(D)斷層作用及冰河侵蝕
- 下列針對青藏地區的氣候描述何項正確？  
(A)主要是溫帶沙漠氣候(B)氣壓較高 (C)日照時數較短(D)年溫差小、日溫差大

請繼續作答

◎圖 1-4 為七大洲及三大洋分布圖，請回答 9~11 題

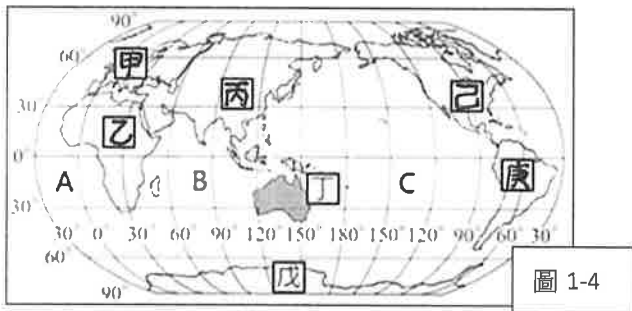


圖 1-4

- 目前全球人口數已突破 77 億，其中又以圖中哪兩洲的人口成長速度最快？(A)甲丙 (B)乙丙 (C)乙丁 (D)丙己。
- 依海陸位置分布可將地球分為水半球及陸半球，但其中陸半球的海洋面積仍舊多於陸地面積。請問陸半球的中心是位於圖中何洲？(A)甲 (B)乙 (C)丙 (D)丁
- 下列對於圖 1-4 中各代號區的敘述，何項『有誤』？(A)A 區為世界第一大洋 (B)庚區多以西班牙語為主要語言 (C)基督教起源於丙區 (D)丁區的面積最小及人口數最少。
- 喜馬拉雅山為世界最高大的山脈，其位於下列圖 1-5 中哪兩個板塊間的接觸地帶？(A)非洲板塊、歐亞板塊 (B)太平洋板塊、歐亞板塊 (C)歐亞板塊、印度-澳洲板塊 (D)非洲板塊、印度-澳洲板塊



圖 1-5

- 洋流依據水溫的性質可分為寒流(涼)流及暖流兩大類。請問圖 1-6 中哪一股洋流的性質與其他不同的？(A)甲 (B)乙 (C)丙 (D)丁



圖 1-6

◎全球氣候類型受到緯度、地形、風向、距海遠近及洋流等因素而形成。下列甲~己為世界氣候類型，請回答 14~16 題

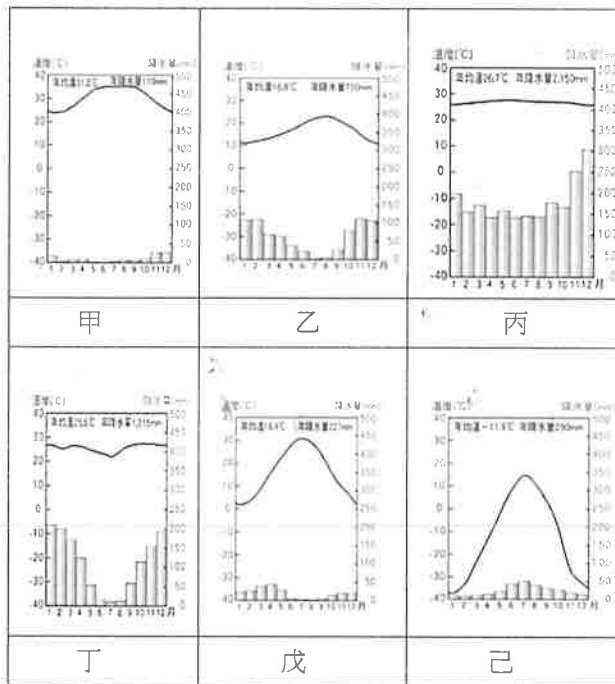


圖 1-7

- 針對圖 1-7 中氣候圖所呈現的氣候類型敘述，何者選項說明是『有誤』？(A)丁圖位於南半球 (B)己圖的年溫差極大 (C)乙圖主要雨季為夏季 (D)戊圖位於中緯度地區
- 圖 1-7 中各氣候圖所代表的世界氣候類型，下列何項選項是正確？(A)甲圖為溫帶沙漠氣候 (B)乙圖為溫帶大陸性氣候 (C)丙圖為溫帶海洋性氣候 (D)丁圖是熱帶莽原氣候
- 下面圖 1-8 是某種世界氣候類型的分布圖，請問這些地區的氣候類型與圖 1-7 中何者氣候圖相同？(A)甲圖 (B)乙圖 (C)丙圖 (D)戊圖

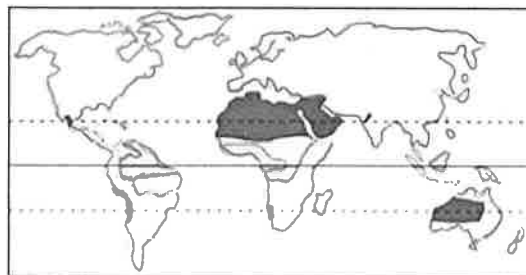


圖 1-8

請繼續作答

本試卷分地理、歷史、公民 3 個部份，請依序作答，並按照題號畫卡。  
各部份題目配分及試卷頁數請參見說明，總分為 100 分。請謹慎作答。

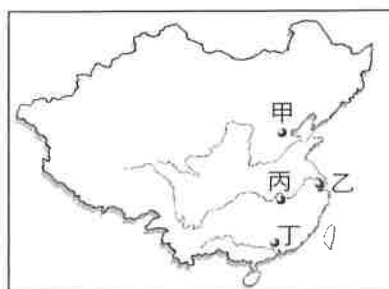
班級：            座號：  
姓名：

第 2 部份：歷史（17~33 題，每題 2 分，共 34 分，共二頁）

17. 康有為的戊戌變法與孫中山創立革命運動組織，同受下列哪一次戰爭的刺激？ (A)英法聯軍 (B)甲午戰爭 (C)中法戰爭 (D)八國聯軍。
18. 下列關於清朝受到外力入侵與改革運動的配對何者正確？ (A)鴉片戰爭—自強運動 (B)英法聯軍—戊戌變法 (C)八國聯軍—庚子後新政 (D)甲午戰爭—革命運動。
19. 下表是清廷正在推動某項改革運動所公布的內閣成員名單，十三位內閣成員名單宣布如下表：「滿人八名，其中五名為皇族；漢人四名；蒙古人一名。」請問：下表內閣名單造成什麼後續影響？ (A)守舊派人士的反對 (B)立憲派人士大力支持 (C)守舊派發動政變 (D)立憲派失望，轉而支持革命

身分	成員
皇族	總理大臣慶親王奕劻、民政大臣肅親王善耆、度支大臣加貝勒銜鎮國公載澤、海軍大臣加郡王銜貝勒載洵、農工商大臣加貝勒銜貝子溥倫、理藩大臣壽耆。
滿人	大學士那桐、陸軍大臣蔭昌、司法大臣紹昌。
漢人	協理大臣大學士徐世昌、外務大臣梁敦彥、學務大臣唐景崇、郵傳大臣盛宣懷。

20. 附圖為中華民國建國前後的形勢圖，請根據此圖來判斷下列敘述何者正確？ (A)甲是 1912 年中華民國臨時政府的首都 (B)乙是辛亥革命武裝起義的地點 (C)丙是爆發保路運動的所在地 (D)丁是黃花崗之役起義的地點。



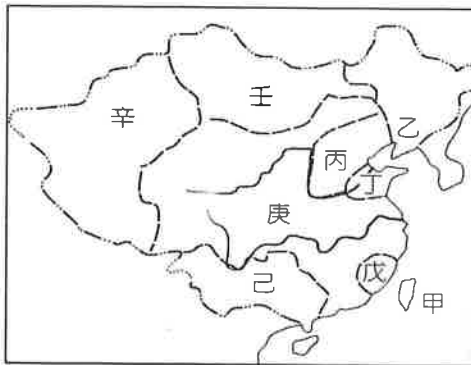
21. 袁世凱為清末民初的重要人物，曾經擔任內閣總理、臨時大總統、大總統與皇帝等職位。  
(甲) 清末擁有軍事實力，得以獲取清末內閣總理  
(乙) 於臨時大總統時，頒布新約法，採總統制  
(丙) 就任正式大總統時，刺殺國民黨領袖  
(丁) 稱帝時，日本向他提出二十一條要求  
請問，以上敘述何者有誤？  
(A)甲乙丙 (B)乙丙丁 (C)甲乙 (D)丙丁。
22. 民國初年，中國同時曾存在兩個政權導致南北分裂。哪個事件造成南北對峙的局面？  
(A)二次革命 (B)護法運動 (C)八國聯軍 (D)皇族內閣。
23. 附圖是民國初年軍閥主要派系割據勢力圖。請問：民國 12 年，某人賄賂國會議員而當選總統，孫中山因而結束護法，改而聲討某人賄選。請問：某人是指圖中哪一派系的首領？ (A)甲 (B)乙 (C)丙 (D)丁。



24. 這一年的年號變了兩次，第一次是改成「宣統 9 年」，居首功的將領被封為直隸總督兼北洋大臣，此事遭到全國反對，北京十幾家報社停刊以示抗議。十二天後，前國務總理帶部隊攻入北京，又恢復原來的紀年。對上述事件的敘述何者正確？ (A)「這一年」是民國 5 年 (B)此事件是洪憲帝制 (C)被封為直隸總督兼北洋大臣的是袁世凱 (D)「前國務總理」是

段祺瑞。

25. 民國八年，中國發生了一場前所未有的大規模學生運動，學生代表以罷課的方式，抗議巴黎和會對中國的不友善。這場學生運動的主要訴求是收回下圖中哪一地區的主權？



(A)甲 (B)乙 (C)丁 (D)庚。

26. 武昌起義後，革命分子推翻滿清，建立民國。但在民國初年，民主共和體制不斷遭受破壞，以致國家動盪不安。以下是民國初年，反對竊國者的重要事件。請問以下填入的人名何者正確？

(A)(1)是黎元洪 (B)(2)是孫中山 (C)(3)是段祺瑞  
(D)(4)是袁世凱。

項目	二次革命	護國軍之役	護法運動
發起時間	民國 2 年	民國 4 年	民國 6 年
發起者	國民黨	(1)____ 唐繼堯	(2)____
討伐對象	(3)____	袁世凱	(4)____
結果	失敗， 袁世凱擅權	推翻洪憲帝制	造成南北分裂

27. 清末民初，中國社會、經濟的變遷不包括下列何者？

(A)士紳成為領導改革者 (B)電車馳騁在街道上  
(C)男女在明亮的街道上約會 (D)女性可出國留學

28. 民國初年，新知識分子為了進行思想文化的改革，興辦雜誌，引進西方思潮。下列有關新文化運動時期的敘述何者正確？

(A)引進西方的民族主義，影響日後中國的政局最深  
(B)胡適創辦《青年雜誌》，介紹西方思潮，批判傳統  
(C)陳獨秀為發表第一篇白話文小說的作家  
(D)蔡元培擔任校長時，北大成為文化運動的重鎮。

29. 民初知識分子大量引進西方思潮，使學術呈現百家爭鳴的熱烈氣氛，其中「德先生」和「賽先生」被視為救中國的良方。上文的德先生和賽先生是指以

下何者？ (A)民主、科學 (B)民主、自由  
(C)平等、科學 (D)共產、科學。

30. 銘嵩看到一份資料，上面有許多標語，寫著「打倒賣國賊」、「還我青島」、「外爭主權，內除國賊」等口號，並有如下附圖的宣傳海報，還要求拒簽和約。這份資料是在講述中國近代史上的哪個運動？  
(A)新文化運動 (B)立憲運動 (C)護法運動  
(D)五四運動。



- ◆題組：八國聯軍影響近代中國歷史的發展至深且鉅。請參考附圖(一)，回答第 31~33 題：

31. 八國聯軍時，中國哪幾處的督撫曾與敵軍簽訂互保協議？ (A)甲乙丙丁 (B)甲乙丁戊 (C)甲乙丁 (D)乙丁戊。
32. 八國聯軍戰後，列強與中國所簽訂的和約內容中，下列敘述何者錯誤？ (A)裁減軍備 (B)鉅額賠款 (C)割讓領土 (D)首都使館區駐兵。
33. 兩國曾在八國聯軍之役結盟，後卻因「戊」區的利益轉而為敵。清廷因這兩國的戰爭結果，因此展開下列哪一場變法改革？  
(A)自強運動 (B)戊戌變法 (C)庚子後新政  
(D)立憲運動。



圖(一)

臺北市立萬芳高級中學國中部 108 學年度第 2 學期社會領域八年級第二次定期評量試卷

本試卷分地理、歷史、公民 3 個部份，請依序作答，並按照題號畫卡。  
各部份題目配分及試卷頁數請參見說明，總分為 100 分。請謹慎作答。


班級：                      座號：  
姓名：

第 3 部份：公民（共 17 題，每題 2 分，共 2 頁）

34. 新民想申請某家銀行的現金回饋信用卡，發現申請資格必須是完全行為能力者。由此可知，新民申請信用卡，必須年滿幾歲才具有申請資格？ (A)16 (B)18 (C)20 (D)22。
35. 某地方官員因涉嫌賄選，檢察官依法求處 8 年有期徒刑、罰金 1000 萬元，並褫奪公權 3 年。上述畫線部分，有幾項是屬於《刑法》的從刑？ (A)0 項 (B)1 項 (C)2 項 (D)3 項。
36. 《民法》主要規範財產關係和身分關係。下列何者屬於《民法》的身分關係？  
(A)李大明過世，遺產留給配偶和子女 (B)張義光承租帆船打算環遊世界 (C)高銘宏向銀行申請就學貸款 (D)吳老闆為犒賞員工聚餐請客。
37. 阿明在線上遊戲公開頻道上，以三字經辱罵玩家小新。根據我國《刑法》規定，「公然侮辱人者，處拘役或三百元以下罰金。」因此，阿明在線上遊戲辱罵小新，即構成公然侮辱罪。上述事例，最能說明《刑法》的哪項原則？  
(A)罪刑法定 (B)不溯及既往 (C)促進社會進步 (D)權利濫用禁止。
38. Jason 在租屋網站上看屋，利用視訊連絡房東表示想租屋。雙方談好租金，房東答應 Jason 出租套房，兩人相約拿鑰匙和押金。沒想到抵達租屋處，Jason 覺得套房和照片有差距，表示不願出租，引發租賃糾紛。就上述內容判斷，房東是否可依法要求 Jason 履行租賃契約？  
(A)不可以，雙方尚未締結書面租賃契約  
(B)不可以，基於契約自由原則不可強迫  
(C)可以，雙方口頭約定即構成租賃契約  
(D)可以，房東依侵權行為要求損害賠償。
39. 偉杰經營一間餐廳，因排放油煙問題屢次被鄰居檢舉，甚至被市政府以屢勸不聽為由勒令歇業。上述市政府得勒令歇業屬於下列何者？ (A)刑罰 (B)行政罰 (C)刑事制裁 (D)侵權行為。

40. 以下是消基會處理的一則消費糾紛：

王小路到通訊行購買手機，回家後發現手機觸控螢幕有問題，於是向通訊行老闆說明買到瑕疵品，要求換貨，但業者卻不換新的手機給小路，雙方因此產生糾紛。



- 上述糾紛與《民法》的哪一項基本原則有關？  
(A)契約自由 (B)誠實信用 (C)權利濫用禁止 (D)負擔能力。
41. 縱火是公共危險罪，然而 6 歲的小羅在住屋頂樓燃燒考卷導致火災，卻不會受到《刑法》處罰，其主要理由為何？  
(A)未滿 7 歲，屬無行為能力人，故由父母代替受罰 (B)未滿 14 歲，屬無行為能力人，毋須負刑事負責 (C)未滿 14 歲，屬無責任能力人，毋須負刑事責任 (D)未滿 7 歲，屬受監護宣告之人，故由父母代替受罰。
42. 一名男子與家人吵架，盛怒之下手拿尖刀在大街上遊蕩。警方接獲民眾報案前往現場，為制止男子行動，將男子打傷並壓制在地。上述警方行為是基於何種理由，因而不構成犯罪？  
(A)依法令的行為 (B)業務上的正當行為 (C)正當防衛行為 (D)緊急避難行為。
43. 佑佑上星期得知，兩個月前去世的伯父將遺產和債務留給佑佑繼承。如果佑佑想採取拋棄繼承的方式，則依法規定，應該在下列何種期限內向法院聲請？  
(A)伯父去世起 1 個月內 (B)伯父去世起 3 個月內 (C)佑佑知悉繼承起的 1 個月內 (D)佑佑知悉繼承起的 3 個月內。

請翻頁繼續作答

44. 意翔年輕時向菲菲借 50 萬元出國留學。意翔畢業後在美國定居，直到 20 年後回國參加菲菲兒子的婚禮時，菲菲和意翔才又見上一面。席間菲菲向意翔請求償還借款 50 萬元，意翔卻認為菲菲長期未要求償還債務，因此自己不需歸還。意翔的主張是否合法？原因為何？  
(A)不合法，欠錢還錢天經地義，應履行契約歸還債務 (B)不合法，債務人已有能力償還債務故應歸還 (C)合法，債權人於出借時應評估其不還款的風險 (D)合法，符合「消滅時效」規定，故債務人不用償債。
45. 《民法》給予契約內容的自由，但同時也強調履行契約的義務。因此，若有一方未履行契約內容，就必須承擔民事責任。下列何者所應承擔的民事責任類型與上述相同？  
(A)店家招牌不慎掉落，砸壞停在樓下的汽車 (B)未按時申報所得稅，繳納稅金 (C)踢足球失誤，將鄰居家的玻璃砸破 (D)在電話中預約酒席 3 桌，卻未事前取消也沒如期赴約。
46. 國中生成亞蓮和同學在教室內追逐嬉戲，為躲避同學的捕捉，不慎撞倒瑞靈的桌子，導致瑞靈放於抽屜的手機摔毀。據上述內容，亞蓮的行為是否構成犯罪？ (A)是，過失行為仍符合《刑法》毀損罪的構成要件 (B)是，侵害他人權益即屬犯罪，但可依限制責任能力減輕其刑 (C)否，《刑法》的毀損罪只處罰故意行為，故不構成犯罪，但仍須負民事賠償責任 (D)否，根據情境屬緊急避難行為，故不構成犯罪。
47. 伊靜的父親過世，除留下一棟價值 300 萬的房子，也積欠銀行 400 萬元的債務。若伊靜選擇法定繼承方式，則下列對其繼承的描述何者正確？ (A)房子和債務都繼承，並以繼承的房子償還 300 萬元的債務 (B)房子和債務都拋棄，放棄繼承權利 (C)房子和債務都繼承，以房子償還 300 萬元債務，伊靜還須出 100 萬還債 (D)選擇繼承遺產房子，拋棄債務 400 萬元。
48. 派大猩因心智缺陷，致缺乏處理日常生活事務的能力，而受監護宣告。關於派大猩法律行為的效力，與下列何者相同？ (A)6 歲幼稚園大班的美美 (B)18 歲高中畢業的宣宣 (C)20 歲讀大學的敏敏 (D)35 歲因車禍臥床的強強。
49. 玉華蓋了一棟透天厝，但因建造施工時未留意，房子約一平方米的面積占用鄰居土地，引發雙方的民事糾紛。鄰居在民事庭上主張拆屋還地，但根據《民法》的原則，法官並不認同鄰居的請求。依據《民法》判斷，玉華的鄰居在行使權利時，可能違反哪項原則？  
(A)契約自由 (B)罪刑法定 (C)誠實信用 (D)權力濫用禁止。
50. 國中八年級的小雄和弟弟打棒球時，不慎打破鄰居的盆栽。以下有關小雄的責任敘述，何者正確？  
(A)小雄屬於無行為能力人，毋須負擔民事責任 (B)小雄是未成年人，由父母負擔連帶賠償責任 (C)因為小雄是不小心的，只要道歉毋須負擔民事責任 (D)小雄必須負擔民事責任，但以金錢賠償為原則。

試題結束

(1~16 題地理；17~33 題歷史；34~50 題公民)

1	2	3	4	5	6	7	8	9	10
B	C	A	D	B	C	D	D	B	A
11	12	13	14	15	16	17	18	19	20
A	C	B	C	D	A	B	C	D	D
21	22	23	24	25	26	27	28	29	30
B	B	B	D	C	B	A	D	A	D
31	32	33	34	35	36	37	38	39	40
C	C	D	C	B	A	A	C	B	B
41	42	43	44	45	46	47	48	49	50
C	A	D	D	D	C	A	A	D	B

