

本試卷分地理、歷史、公民 3 個部份，請依序作答，並按照題號畫卡。  
各部份題目配分及試卷頁數請參見說明，總分為 100 分。請謹慎作答。

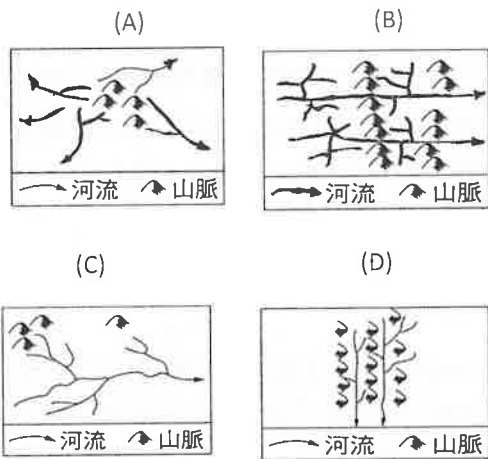
班級： \_\_\_\_\_ 座號： \_\_\_\_\_  
姓名： \_\_\_\_\_

第 1 部份：地理（共 17 題，每題 2 分，共 2 頁）

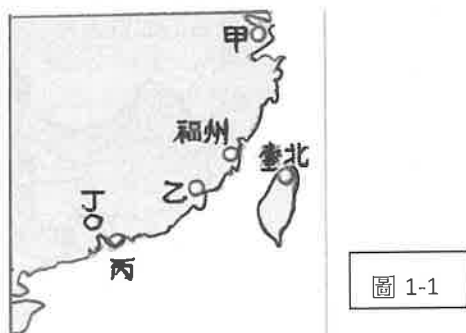
1. 班上四位同學針對「華南地區的地形」分別提出自己的看法。請問：誰的見解是正確的？

- (A) 小新：「本區地形主體是盆地和平原。」  
(B) 丸子：「橫斷山脈多為東西向平行排列的縱谷地形。」  
(C) 阿兩：「近海地帶有平原和河口三角洲分布，以長江三角洲最為富庶。」  
(D) 大雄：「嶺南丘陵有溶蝕作用形成的峰林。」

2. 就水系而言，下列哪張圖能表現出珠江的水系形態？



3. 中國首先在華南沿海設立經濟特區的原因，和下列哪一個因素關係最小？ (A)技術發達 (B)勞工充足 (C)海運便利 (D)僑鄉背景  
4. 根據圖 1-1，有關各代號所指都市特色的配對，下列哪一個選項說明是正確的？



(A)甲：中國政治、文化、交通中心

- (B)乙：深圳經濟特區，距離臺灣最近  
(C)丙：曾受葡萄牙殖民，博弈業發達  
(D)丁：華南交通樞紐、素有中國南大門之稱

◎中國武漢市 2019 年 12 月起爆發肺炎疫情，並擴散中國各省及世界各國，世衛 2 月 11 日將其定名為 COVID-19 (2019 年冠狀病毒疾病)。台灣也出現多個確診病例..請依圖 1-2 回答 5~6 題

5. 武漢市較接近於圖 1-2 中何地？

- (A)甲 (B)乙  
(C)丙 (D)丁



6. 針對圖 1-2 中

各區特色描述何項正確？(A)甲區內的成都平原原有『天府之國』的美譽 (B)辛區人口集中的精華區稱為『壩子』 (C)壬區有『魚米之鄉』之稱 (D)丙區因農產富饒，素有『湖廣熟，天下足』美譽

7. 針對圖 1-3 中甲乙丙丁四地的氣候特徵，下列哪一個敘述有『誤』？

- (A)甲地年溫差最大 (B)乙地無霜期最短  
(C)丙地屬於副熱帶季風氣候(D)丁地年均溫最高



8. 北京、上海、大連為中國的主要都市，以上三個都市的共同特色為何？(A)交通：皆為不凍海港 (B)行政區：皆為直轄市 (C)經濟帶：皆屬東部經濟帶(D)氣候：一月月均溫皆  $> 0^{\circ}\text{C}$

請繼續回答

9. 圖 1-4 為北部地區四個地理區的簡圖，請問下列敘述何者『有誤』？

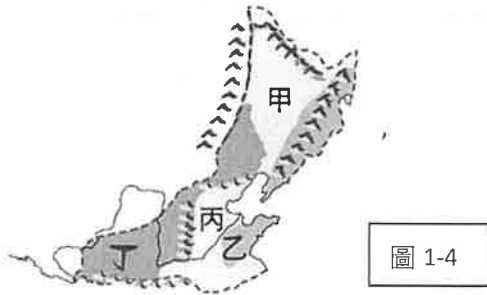


圖 1-4

- (A) 甲地擁有肥沃的黑土，為中國面積最大的平原  
 (B) 乙地海岸線曲折多良港，為溫帶水果產地  
 (C) 丙地主要由黃河、淮河、遼河共同沖積而成  
 (D) 丁地適應當地的環境出現了窯洞建築
10. 黃土高原、華北平原上的黃土來源不同，請問各是因何種作用力所形成？ (A) 風蝕、河積 (B) 風積、河積 (C) 風積、河蝕 (D) 風積、海積

11. 圖 1-5 為黃河流域分布圖，請問下列有關黃河的敘述何者正確？



圖 1-5

- (A) 黃河因流經甲處，泥沙含量大增  
 (B) 乙處為防洪修築河堤，形成「地上懸河」  
 (C) 丙處高原因河流沖積而成，土壤肥沃  
 (D) 南水北調可改善丁處斷流情形。

12. 圖 1-6 是某地 1951-2000

年降水量變化曲線圖，由圖可知「年雨量變率大」是此地的一大特色。請問：

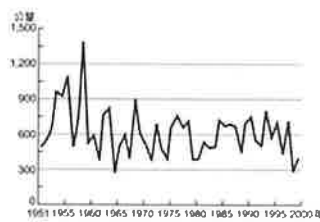


圖 1-6

這個地方最有可能是下列何地？

- (A) 天津 (B) 深圳 (C) 武漢 (D) 長春

13. 圖 1-7 中可知東北地區的雨量是由東南向西北遞減，請問下列何項『不是』造成此分布特色的主因

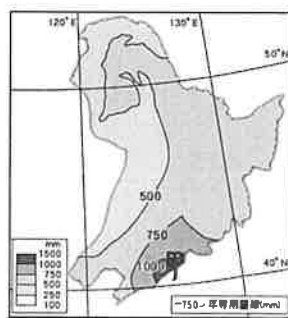


圖 1-7

- (A) 距海遠近  
 (B) 地形迎風坡  
 (C) 夏季季風方向  
 (D) 緯度高低

14. 下列有關中國北部地區工礦業發展的敘述，何者正確？ (A) 「京津唐工業帶」因有哈大鐵路經過而帶動發展 (B) 「遼中南工業帶」位於中國東北，因有豐富的礦產資源而發展起來 (C) 黃河有『能源流域』之稱，中游地帶天然氣豐富 (D) 黑龍江省勝利油田是中國最大的油田

- ◎圖 1-8 為東北地區地形簡圖。A~C 平原；D~F 是山脈；①~⑥是河流 請回答下列 15~16 題

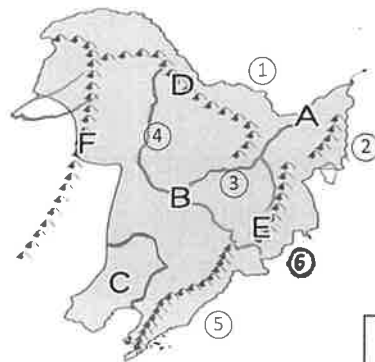


圖 1-8

15. 東北地形素有『山環水繞，形勢完固』及『沃野千里』的美稱，請問下列敘述何項正確？

(A) F 地為小興安嶺是夏季季風的止境 (B) C 地為遼河平原，輕工業發達 (C) ⑤ 為圖們江是與北韓的界河 (D) T 字型鐵路交會城市-哈爾濱位於 B 區

16. 某地區接鄰俄羅斯，平原內主要是沼澤，農業產品有春小麥、水稻，請問針對此平原的敘述何項正確？

(A) 此平原為 B 區 (B) 此平原是由 ① ② ④ 河共同沖積而成 (C) 此平原為溫帶季風氣候區 (D) 已由北大倉變成北大荒

- ◎以下是小小兵為中國四個地區設計了旅遊行程---

(ㄅ) 深度紫禁城、太行山峽谷、覽兵馬俑 8 日遊  
 (ㄆ) 桂林山水、龍勝梯田、參觀土樓 6 日遊  
 (ㄇ) 逛西湖、暢遊水鄉澤國、參拜寒山寺 5 日遊  
 (ㄎ) 雪鄉、長白山天池之美、俄式莊園 7 日遊

17. 請問上述旅遊行程與地區的配對組合何者是正確的？

- (A) ㄅ 為甲區  
 (B) ㄆ 為乙區  
 (C) ㄇ 為丙區  
 (D) ㄎ 為丁區



圖 1-7

請繼續回答

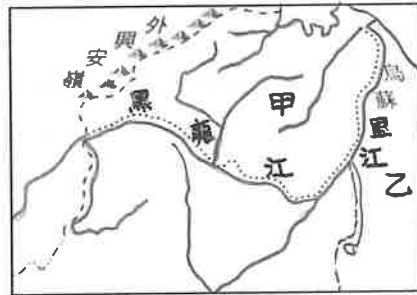
本試卷分地理、歷史、公民 3 個部份，請依序作答，並按照題號畫卡。  
各部份題目配分及試卷頁數請參見說明，總分為 100 分。請謹慎作答。

班級：                    座號：  
姓名：

第 2 部份：歷史（共 17 題，每題 2 分，共 2 頁）

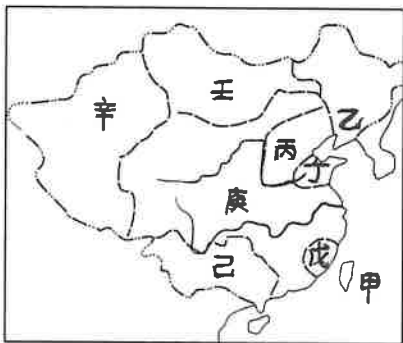
18. 西元 1816 年有一位外國使臣來到中國希望解決兩國間的貿易問題，但是在禮儀問題上與嘉慶皇帝不歡而散後，於返國的途中抵達聖赫勒拿島，與曾經幾乎征服全歐洲的拿破崙進行會談，拿破崙認為外國使臣來到中國理應入鄉隨俗，向中國皇帝叩頭。請問：此位外國使臣應該為哪一個國家的哪個人？  
(A)法國：馬加爾尼 (B)英國：阿美士德 (C)義大利：利瑪竇 (D)德國：湯若望。
19. 西元 1861 年，因中英簽訂條約，英國可以派遣公使進駐北京，所以清朝政府成立專門處理新的外交事務的機構。請問上述的「機構」指的是？ (A)公行 (B)總理衙門 (C)同文館 (D)京師大學堂。
20. 清宣宗年間有位來自廣東的讀書人在日記上寫著：「我想要透過科舉進入政府當官，可惜我屢次失敗，人心太壞，政治腐敗，天下將有大災大難，唯信仰上帝入教者可以免難。入教之人，無論男女尊貴一律平等，男曰兄弟，女曰姊妹。」文中的所指是為何人？ (A)洪秀全 (B)李鴻章 (C)曾國藩 (D)左宗棠。
21. 下列關於事件與皇帝的配對何者正確？  
(A)鴉片戰爭—咸豐皇帝 (B)英法聯軍—同治皇帝  
(C)中法戰爭—光緒皇帝 (D)甲午戰爭—道光皇帝
22. 馬威翔在書上看到以下敘述：「……某年冬天，李鴻章與英國軍官戈登的洋槍隊攻下蘇州；次年春天，左宗棠與常捷軍攻陷杭州。六月四日天王自盡，七月十九日南京城牆被火藥轟塌，守城士兵與湘軍進行巷戰。」請問：這場戰爭所造成的影響，下列敘述何者正確？ (A)外人可至內地傳教 (B)中國喪失最多土地 (C)造成中國的門戶洞開 (D)漢人政治地位提升。
23. 自強運動使中國邁開了現代化的一大步，下列哪些事物創始於自強運動期間？ (甲)成立議會(乙)留美教育(丙)設輪船招商局(丁)成立北洋艦隊 (A)丙丁 (B)甲乙丙 (C)乙丙丁 (D)甲乙丙丁。

24. 附圖是清代東北失地圖，顯示帝俄對中國鯨吞蠶食的經過。請問：俄國利用哪次戰爭的機會，占據圖中的甲、乙兩區？ (A)鴉片戰爭 (B)英法聯軍 (C)甲午戰爭 (D)八國聯軍。



25. 西元 2010 年英商林克穎酒駕撞死台灣孝子，被判刑 4 年三審定讞之後，卻潛逃回英國。我國旋即向英國提出正式引渡林克穎請求，蘇格蘭高等法院宣判不予引渡林克穎回台服刑……。此事讓人想起在鴉片戰後的清朝，若有英國商人在中國犯罪，清廷地方官卻無權審問他，必須移交由英國審判。這是因為不平等條約中的哪項規定？ (A)協定關稅 (B)片面最惠國待遇 (C)內河航行權 (D)領事裁判權。
26. 十九世紀，清領遭受外力入侵，接連戰敗，簽訂許多條約。下列事件與條約的配對，何者正確？  
(A)南京條約—割讓九龍地區給英國 (B)馬關條約—中國開放內河航行權 (C)北京條約—清朝割讓香港島在給英國 (D)天津條約—淡水和安平等港口開港通商。
27. 甲午戰爭後中國面臨瓜分危機，所幸美國基於自身利益，提出了下列哪項政策而避免中國慘遭瓜分？  
(A)鎖國政策 (B)門戶開放政策 (C)領事裁判權 (D)片面最惠國待遇。
28. 清末，當時皇帝支持變法是為了鞏固清朝的統治，挽救民族危機，不願做亡國之君。再加上，皇帝希望藉由變法從慈禧手中奪回最高的統治權力，改變自己傀儡的地位，從而鞏固強化自己的地位和權力，然其計畫在慈禧太后的破壞下終告失敗。請問：上述指的是哪次改革運動？ (A)自強運動 (B)戊戌政變 (C)戊戌變法 (D)立憲運動。 請繼續回答

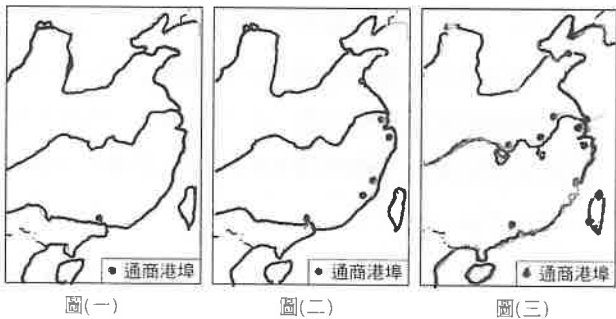
29. 十九世紀末，列強在中國各地劃分勢力範圍，幾乎瓜分了整個中國。請問：清末，日本、德國在中國所畫分的勢力範圍，分別為下列何者？ (A) 戊、丁 (B) 己、甲 (C) 丙、甲 (D) 辛、戊。



30. 附表是中國自西元 1885~1905 年，外商在通商口岸設立工廠的統計表。請問：由統計表中數字的改變可知這應該與何事有關？ (A) 中國鼓勵外商投資 (B) 推動自強運動 (C) 進行戊戌變法 (D) 簽訂《馬關條約》。

西元	設廠家數
1885	2
1890	6
1895	48
1900	181
1905	254

◆題組一：附圖為近代中國對外開港後，陸續開放的通商口岸。請根據附圖(一)~(三)回答 31~32 題：



31. 由圖(一)演變至圖(二)的關鍵，是下列哪項條約簽訂的關係？ (A) 《北京條約》 (B) 《天津條約》 (C) 《瑣瑣條約》 (D) 《南京條約》。

32. 圖(二)與圖(三)是清末時期對外開放通商港埠的演變情形。請問：圖(三)應是下列哪一戰役後增開臺灣、長江沿岸與北方各地的通商口岸？ (A) 鴉片戰爭 (B) 甲午戰爭 (C) 第一次英法聯軍 (D) 第二次英法聯軍。

◆題組二：附圖為清代喪失藩屬示意圖。請根據附圖回答 33~34 題：

33. 劉銘傳之所以會來到台灣，是因為十九世紀，中法兩國為了「某地」而發生衝突，戰火波及臺灣。劉銘傳奉命到臺灣督辦軍務，號召地方人士出錢出力，抵擋了法軍的攻勢。上文中的「某地」應為以下何者？ (A) 甲 (B) 乙 (C) 丙 (D) 丁 (E) 戊。

34. 清領後期，中國國力衰敗，許多藩屬國都被外強所侵占。下列藩屬國與侵略國家的配對，何者正確？ (A) 甲—法國 (B) 乙—德國 (C) 丙—日本 (D) 戊—英國。



請繼續回答

本試卷分地理、歷史、公民 3 個部份，請依序作答，並按照題號畫卡。  
各部份題目配分及試卷頁數請參見說明，總分為 100 分。請謹慎作答。

班級： 座號：  
姓名：

第 3 部份：公民（共 16 題，每題 2 分，共 2 頁）

35. 小民閱讀某書，看到一段敘述：「人民有〇〇權，才可以管理法律。擁有〇〇權，意指當大家認為某法律是有助於人民的，就能夠主動提出，請求立法機關制定相關法律，甚至付諸公民投票，表達人民的訴求。」根據上文所述判斷，〇〇權可能是下列何者？

(A)選舉 (B)罷免 (C)創制 (D)複決。

36. 我國《憲法》規定了人民的基本權利與義務。下列相關的敘述，何者正確？

(A)人民若不履行服兵役的義務將被處以刑罰  
(B)我國 7~16 歲的國民均應接受義務教育  
(C)人民納稅是違憲，人民可選擇是否繳稅  
(D)目前針對人民服兵役，我國採取徵兵制。

37. 圖 3-1 是法律位階示意圖。下列關於我國法律位階的相關敘述，何者正確？

(A)甲被稱為「人民權利的保障書」 (B)丙是眾法之母、萬法之源  
(C)甲和乙都不可牴觸丙，否則無效 (D)乙是依據甲而制定，也是用來補充丙的規定。

圖 3-1



38. 《憲法》是國家根本大法，為維持國家的法律秩序安定，因此具不易修改的特性。下列關於我國《憲法》修正程序的敘述，何者正確？

(A)公告半年→立法委員提案→立法委員表決→公民投票複決→通過  
(B)立法委員提案→立法委員表決→公告半年→公民投票複決→通過  
(C)立法委員提案→公告半年→公民投票表決→立法委員複決→通過  
(D)公告半年→立法委員提案→公民投票表決→立法委員表決→通過。

39. 民國 92 年，政府修訂《刑法》，新增妨害電腦使用罪章。法律公告生效後，若發生電腦駭客利用程式入侵他人電腦資料庫，盜取他人帳號密碼，則構成犯罪，但在法律生效前，若發生駭客的行為，則不罰。上述內容是現代法治社會所具備的哪項法律意義？

(A)人民要守法 (B)政府要守法 (C)法律規範不溯及既往 (D)法律內容須與時俱進。

40. 我國的《性別工作平等法》規定，公司老闆對員工之招募、甄試、進用、分發、配置、考績或陞遷等，不得因性別或性傾向而有差別待遇。此種規定打破社會長久以來的性別工作界限，更使大眾改變男女有別的觀念。就此角度來說，該法發揮了法律的何種功能？(甲)保障人民權利 (乙)維護社會秩序 (丙)促進社會進步

(A)甲乙 (B)乙丙 (C)甲丙 (D)甲乙丙。

41. 下表是麗莉在公民課時所寫的筆記內容，但因原子筆漏水不慎產生汙損。根據表格內容判斷，下列何者可能是汙損的內容？

(A)憲法制定或修正機關是「國民大會」 (B)法律制定或修正機關是「司法院」 (C)法律制定或修正機關是「監察院」 (D)命令制定或修正機關是「行政機關」。

法律類型	制定或修正機關
憲法	
法律	
命令	

42. 為落實性別平等的精神，我國《民法》自民國 74 年後歷經多次修改，例如：子女須從父姓，修改為子女姓氏由父母共同約定等。《民法》修改是為了達成何種法治社會的目標？

(A)人民與政府都要守法 (B)法律規範不溯及既往  
(C)法律內容須與時俱進 (D)法律保障國家安全。

請繼續回答

43. 下列是志保看到的一篇文章段落，發現部分內容有誤：「政府依據《中華民國憲法》第 158 條之規定，(甲)由立法院三讀通過《國民教育法》，經行政院公布後施行全國，(乙)司法院為了執行相關政策，依法訂定《國民教育法施行細則》，作為實施的依據。由此可知，(丙)憲法只就國家根本事項作原則性規定；而(丁)行政機關訂定的命令，並不具強制性。」根據上文判斷，哪項是正確的？(A)甲 (B)乙 (C)丙 (D)丁。

44. 下表是珍莉在「全國法規資料庫」網站上看到的最新消息。根據表格內容判斷，下列何者的位階最低、效力最弱？

(A)	修正《化妝品衛生安全管理法》條文
(B)	訂定《一般替代役役男訓練服勤管理辦法》
(C)	修正《山坡地保育利用條例》條文
(D)	修正《地方稅法通則》

45. **圖 3-2** 是佳怡以受益權為主題，設計的「快問快答」有獎徵答題目。下列選項是參賽者的答案，哪位參賽者的答題完全正確？

(A)新八：xooxoo (B)澎澎：oxxooo (C)丁滿：xxooox (D)娜娜：ooxoxo。

圖 3-2



- ( ) 訴願是行政上的受益權，於權利受損時提出。
- ( ) 受國民教育是平等權也是人民基本義務。
- ( ) 加入政黨是屬於參政權。
- ( ) 小益參加公務員考試屬於參政權。
- ( ) 小說被他人抄襲是受益權遭到侵害。
- ( ) 民國 92 立法院通過《公民投票法》，主要是落實人民的參政權。

46. 晴芳看到網路新聞報導：「狗仔雜誌社記者跟拍知名藝人夫婦，藝人夫婦察覺有異，勸阻記者跟拍未果，認為個人權益受侵害，隨後報警處理，該名記者因而被處以罰款。記者認為其擁有採訪權益，不應被處罰，因此決定聲請釋憲。」上述新聞凸顯出下列哪些權利之間的衝突？

(A)媒體的自由權與藝人的隱私權 (B)媒體的受益權與藝人的自由權 (C)媒體的受益權與藝人的自隱私權 (D)媒體的自由權與藝人的受益權。

47. 昱樺收看晚間新聞時，看到一則中央政府為防堵傳染病擴散所發布的一則訊息：「中央流行疫情指揮中心表示，行政院已決議，高中以下師生這學期上課日結束前暫停出國。」根據上述內容判斷，中央政府是基於「甲」目的，限制人民的「乙」權利，而不構成違憲。上述甲、乙分別是指下列何者？

(A)防止妨礙他人自由、受益權 (B)維護社會秩序、自由權 (C)增進公共利益、受益權 (D)避免緊急危難、自由權。

48. 「自由權」的觀念興起甚早，是保障人民享有自行決定做哪些事、或不做哪些事的權利。下列關於自由權的敘述，何者正確？

(A)人民可依自己喜好選擇居住地點，是人身自由 (B)人民使用信件、電話等方式交流，他人不得拆閱、竊聽，屬表現自由 (C)人民依法成立新的宗教團體，是結社自由 (D)人民上街頭靜坐抗議表達訴求，是遷徙自由。

49. **圖 3-3** 是小威打算應徵的廣告內容。根據內容判斷，此徵才廣告已違反《憲法》保障人民的哪些基本權利？

(A)自由權、人格權 (B)平等權、受益權 (C)平等權、自由權 (D)人格權、受益權。

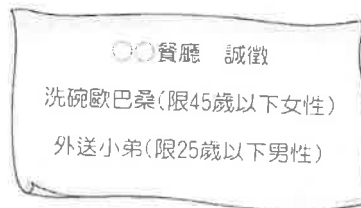


圖 3-3

50. 我國《憲法》對於人民基本權利的保障只作原則性的規定，而透過相關政策的實施，將可更進一步落實《憲法》條文的精神。下表中的措施，那些有助於落實實質平等的精神？

(A)甲乙 (B)乙丙 (C)甲丙 (D)乙丁。

(甲)	經濟弱勢者，在訴訟方面，可申請法律扶助，減輕訴訟費用的負擔。
(乙)	國民滿六歲即可入學接受國民教育。
(丙)	實施視障考生可申請延長應考時間、提供點字試題本等辦法。
(丁)	凡是符合報考資格的國民，均可參加公務人員考試。

試題結束

八年級第一次定期評量試題解答

1	D	2	C	3	A	4	D	5	B
6	A	7	B	8	C	9	C	10	B
11	D	12	A	13	D	14	B	15	D
16	C	17	D	18	B	19	B	20	A
21	C	22	D	23	C	24	B	25	D
26	D	27	B	28	C	29	A	30	D
31	D	32	C	33	D	34	D	35	C
36	A	37	A	38	B	39	C	40	C
41	D	42	C	43	C	44	B	45	B
46	A	47	D	48	C	49	B	50	C

