

本試卷分為地理、歷史、公民 3 個部份，請依序作答，並按照題號畫卡。  
各部份題目配分及試卷頁數請參見說明，總分為 100 分。請謹慎作答。

班級： 座號：  
姓名：

第 1 部份：地理（1~16 題，每題 2 分，共 2 頁）

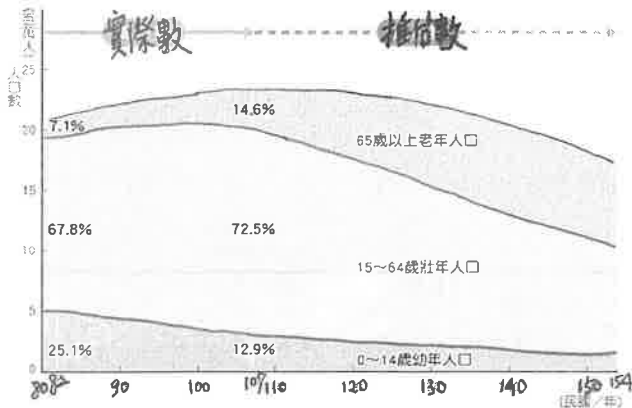
1. 嚴重特殊傳染性肺炎（COVID-19）來勢洶洶，為避免疫情擴散、中國、義大利、美國等國紛紛祭出「封城」、「禁足」等措施防堵疫情蔓延，禁止民眾出入。上述現象會直接影響到這些地區這段時間在人口統計時，下列哪一項統計數值為「0」？

- (A) 人口增加 (B) 自然增加  
(C) 人口密度 (D) 社會增加。

2. 根據桃園市民政局統計資料顯示：桃園市截至 2018 年底，連續 6 年人口淨遷入，累計達 13.7 萬人，預估 7 年內人口數量將超越臺北市。下列哪一項是造成桃園市人口「淨遷入」的「拉力」？

- (A) 身為直轄市市民的榮耀  
(B) 房價低廉，消費水準低於全臺平均  
(C) 生活空間廣大，環境品質清新優良  
(D) 捷運、高速公路貫穿，通勤往來便利。

3. 下圖為臺灣人口年齡組成變化圖。請從圖中判斷，下列哪一項對於臺灣人口相關的敘述正確？



- (A) 107 年開始進入高齡社會  
(B) 82 年起扶養負擔日趨沉重  
(C) 107 年起人力資源日趨充足  
(D) 82 年政府開始推行節育政策。

◎下表為萬萬、芳芳、國國、中中等四個地區的人口資料。請問：

單位：‰	萬萬	芳芳	國國	中中
出生率	38	25	12	8
死亡率	36	10	9	11
人口增加率	-4	15	5	0

4. 哪一地區該年的人口總數較前一年減少？  
(A) 萬萬 (B) 芳芳 (C) 國國 (D) 中中。  
5. 哪一地區該年的人口呈現「零成長」？  
(A) 萬萬 (B) 芳芳 (C) 國國 (D) 中中。  
6. 哪一地區該年屬於人口外移區？  
(A) 萬萬 (B) 芳芳 (C) 國國 (D) 中中。

◎下圖為櫻桃小丸子家庭成員的現況簡介，請利用小丸子家的人口組成，練習計算下列數據：

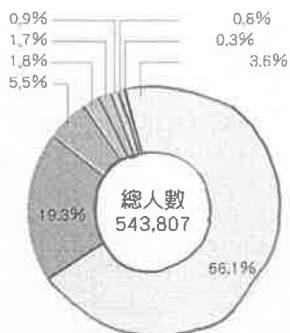
7. 小丸子家的性別比。  
(A) 50 (B) 100 (C) 125 (D) 200。  
8. 小丸子家 4 年前的扶養比。  
(A) 50 (B) 100 (C) 125 (D) 200。

小丸子 (9 歲) 櫻 桃子	姐姐 (12 歲) 櫻 美子	爺爺 (76 歲) 櫻 友藏
爸爸 (40 歲) 櫻 宏志	媽媽 (40 歲) 小林 堇	奶奶 (68 歲) 櫻 小竹

◎近年來，新住民、國際移工加入臺灣的人口當中，使臺灣社會呈現多元族群的文化特色。請問：

9. 目前國際移工在臺灣已成為重要的勞動力，移工在臺灣從事的工作，以下列何項所佔的比例較低？

- (A) 看護
- (B) 漁撈
- (C) 傳教
- (D) 營造工程。

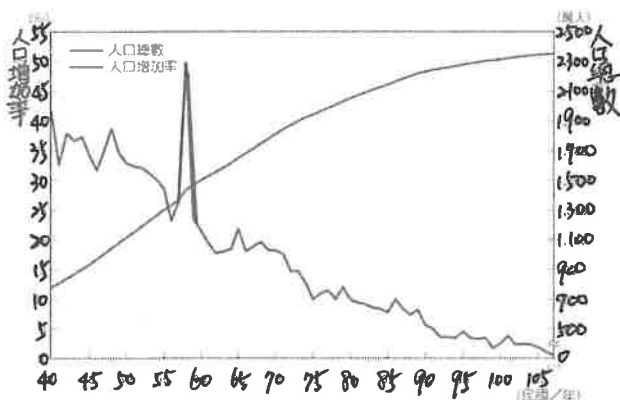


10. 右圖為臺灣外籍配偶來源國的比例圖，人數比例最高的 66.1%，

是來自下列哪一地區的人口？

- (A) 越南 (B) 印尼 (C) 中國 (D) 菲律賓。

◎下圖為臺灣近年人口總數與人口增加率的變化圖。請根據圖中資訊回答：



11. 下列哪一項敘述符合臺灣在民國 40 年到 107 年的情形？

- (A) 人口總數逐年減少
- (B) 人口增加率逐年下降
- (C) 人口增加率主要是受到社會增加影響
- (D) 民國 58 年的線條陡增是因為政府遷臺。

12. 從圖中的人口成長趨勢判斷，民國 80 年以後，臺灣的人口成長進入下列哪一個階段？

- (A) 緩慢成長 (B) 快速成長
- (C) 成長停滯 (D) 成長縮減。

◎下圖為臺灣人口分布圖，請問：

13. 從圖中可看出下列哪一項敘述符合臺灣人口的特徵？

- (A) 本島人口分布西部多於東部
- (B) 離島因面積小人口密度較高
- (C) 可從圖中計算出臺灣人口總數



數

- (D) 南投、花蓮、臺東幾乎無人居住。

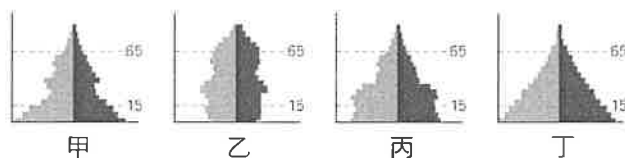
14. 下列哪一項原因對於臺灣人口分布的影響較小？

- (A) 山地地形阻隔 (B) 工作機會多寡
- (C) 氣候條件差異 (D) 開發時間早晚。

◎人口金字塔圖是最常用來分析一地人口組成的工具，請問：

15. 若下列人口金字塔圖為同一時期不同地區的情形，請依照各地發展程度由高而低排列？

- (A) 甲乙丁丙 (B) 乙丙甲丁
- (C) 丙丁乙甲 (D) 丁甲丙乙。



16. 近年臺灣人口的性別組成，受女性外籍配偶人數增加影響，性別比已降至 100 以下，若此一現象持續，則臺灣的人口金字塔型，將可能出現下列何種型態？

- (A) (B) (C) (D)



【請繼續換頁作答】

本試卷分地理、歷史、公民 3 個部份，請依序作答，並按照題號畫卡。  
各部份題目配分及試卷頁數請參見說明，總分為 100 分。請謹慎作答。

班級： 座號：  
姓名：

第 2 部份：歷史（17~33 題，每題 2 分，共 2 頁）

17. 斌竣在閱讀「撼動臺灣 50 事」一書中，他看到一則漫畫如附圖。請問漫畫內容是描述清帝國在哪場戰爭之後的情形？



- (A) 英法聯軍 (B) 甲午戰爭 (C) 中法戰爭  
(D) 牡丹社事件。

18. 下圖為「藍地黃虎旗」，關於這面旗的歷史背景，下列敘述何者正確？

- (A) 為臺灣民主國的國旗，目的是抵抗滿清接收  
(B) 當時臺灣民眾推舉丘逢甲為總統  
(C) 臺灣民眾推舉唐景崧為義軍統領  
(D) 劉永福退回中國大陸，臺灣民主國宣告瓦解。



19. 總督府理蕃政策的實施與調整，下列敘述何者正確？

- (A) 起初以「武力鎮壓」，運用軍警迫使原住民歸降  
(B) 蕃地警察善待原住民，原住民自願被徵調勞役  
(C) 霧社事件後，開始以鐵絲電網圍堵不服統治者  
(D) 日治晚期，徵調已受教化的原住民至南洋作戰。

20. 下表為二十世紀初，日本及其統治下的朝鮮與臺灣所配置的警察比例比較表。根據表格資料顯示，下列敘述何者正確？ (A) 臺灣治安良佳警察比例最低 (B) 日本內地派駐警察比例最高 (C) 警察為地

方最高的行政首長 (D) 日本透過警察鎮壓臺灣武裝抗日。

地區	警察比例 (警察/當地人口數)
日本	1 : 1228
朝鮮	1 : 929
臺灣	1 : 547

21. 日據時期，浩慶曾留學日本，受到鄰里的敬重，不論大小事都會詢問祖他。他也是鄉親們和「大人」之間的橋樑，不但協助「大人」宣達政令，也指揮壯丁團進行救災等事務。請問：浩慶的身分最有可能是下列何者？ (A) 總督 (B) 保正 (C) 警察 (D) 壯丁團成員。
22. 勇鈞是生活在日治時期的臺灣人，他在生活中可能遭遇到下列哪樣事情？ (A) 從臺北搭飛機到高雄參加親戚婚禮 (B) 到台灣銀行兌換鈔票 (C) 在附近的路邊攤購買樟腦 (D) 被征召參加蘇澳港的興建工程。
23. 根據一些退休士兵回憶，「該隊人員」能在二次大戰戰場中的無道路叢林裡穿梭偵察，也擅長戰鬥伏擊；更由於他們精於狩獵，可適時增加糧食補給。大家一致認為，這批隊員的英勇服從，以及犧牲奉獻的精神，實在讓人望塵莫及。根據上文所述，「該隊人員」應是下列何者？ (A) 臺灣民主國義軍 (B) 壯丁團 (C) 高砂義勇隊 (D) 日本警察。
24. 蔡承洋是出生於台北州的中學生，他父親配合總督府的政策，全家改日姓，他名因此改為佐井承洋，也因為全家說日語，所以擁有優先升學的機會。家裡供奉著神宮大麻，穿著和服。學校老師帶著全班去神社集體參拜。請問像承洋生活在日本統治臺灣的哪個時期？ (A) 無方針時期 (B) 南進政策時期 (C) 內地延長時期 (D) 皇民化時期。
25. 「這座發電廠歷經了 15 年歲月、歷經了 10 位臺灣總督，最終克服諸多工程困難與資金問題，於 1934 年落成。規模是當時亞洲最大，完成後全臺灣將近 70% 的電力都是由這座發電廠供給。」這座發電廠

成立的主要目的是什麼？ (A)完成鐵路電氣化 (B)提供各大城市所需電力 (C)因應工業化，南進政策 (D)提供紡織、鋼鐵等輕工業發展的能源。

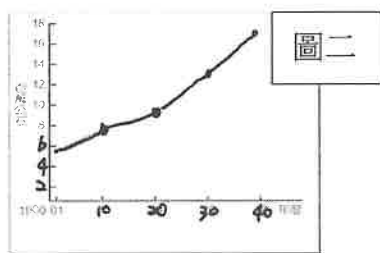
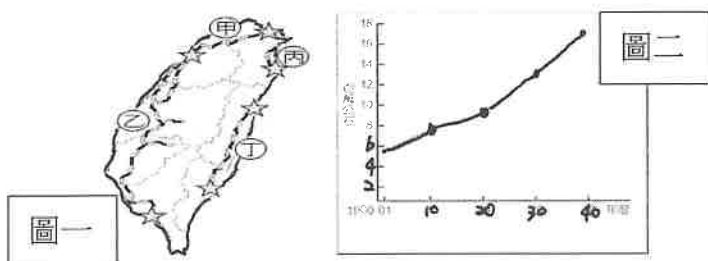
26. 日本在西元 1896 年由日本國會通過「六三法」當作治臺的依據，給予臺灣總督一些權力治理臺灣，形成專制體制。下列有關臺灣總督職權的敘述，何者錯誤？ (A)是日本政府派駐在臺灣的最高行政首長 (B)必須經過日本議會同意，才能頒布命令 (C)擁有審判犯人的權力 (D)擁有軍事統帥權。

27. 日治初期臺灣對日抗爭不斷，加上每年需對臺灣補助七百萬日圓，日本逐漸認為臺灣殖民地對日本而言是負擔，法國政府亦表明願以一億日圓買下臺灣。其後總督府採取了一些措施，提高財政收入，減少日本的經濟負擔，請問：下列何者並非總督府提高財政收入的措施？ (A)廣設郵電通訊 (B)樟腦專賣 (C)鴉片專賣 (D)土地與林野調查。

28. 西元 1939 年來臺灣視察的大河內一男，曾對當時的臺灣經濟作如下的描述：現在的臺灣，可以說是從『甲』與『乙』的時代，邁入以『丙』為中心產業的過渡時代。過去只關注於主產物的製作，現今則兼製造副產品，盛行生產無水酒精或紙漿原料。請問：大河內一男所說的「甲」、「乙」、「丙」指的各是哪種產業技術？

- (A)「甲」：稻米、「乙」：蔗糖、「丙」：嘉南大圳
- (B)「甲」：茶葉、「乙」：蔗糖、「丙」：樟腦
- (C)「甲」：稻米、「乙」：蔗糖、「丙」：水力電力
- (D)「甲」：蔗糖、「乙」：樟腦、「丙」：鐵路。

29. 威震是臺灣鐵道迷，專門研究臺灣鐵路的發展史。他以附圖呈現日治時期的鐵路建設。左下圖一哪段不是首次完工於日治時期？(A)甲 (B)乙 (C)丙 (D)丁。



30. 右上圖二為日治時期臺灣稻米生產量的曲線圖。西元 1920 年以後稻米生產量增加的原因，下列敘述何者錯誤？ (A)中國大陸地區對臺灣稻米的大量需求

(B)蓬萊米改良成功 (C)嘉南大圳的興建 (D)推行工業日本，農業臺灣的政策。

31. 資料一：「臺灣鄉間的諺語：第一憨，種甘蔗乎會社磅。」

資料二：「1905 年 6 月臺灣總督府規定：為制止各製糖工廠間的原料爭奪，避免擾亂蔗價，各蔗作區畫定為一定範圍的區域。此區域內的甘蔗未經許可，不得運出區域之外，或供作砂糖以外成品的製作原料。」

根據以上資料，下列敘述何者正確？

- (A)保障臺灣蔗農，使蔗農有固定買主與穩定銷路
- (B)政府照顧臺人生活，引進製糖業，對外輸出糖
- (C)總督府保護日本資本家，臺灣蔗農利益被壓榨
- (D)政府補助臺灣人的舊式糖廠轉型為新式糖廠。

◆題組：請閱讀以下三段資料，並回答 16~17 題：

資料一：某天早晨，由馬赫坡社頭目率領賽德克各部落聯合起事，分隊襲擊附近的警察分駐所十三處，同時進襲警察分室、學校、郵政局、日本人官舍等，砍殺了各地警察及公學校舉行秋季運動會的日本人。

資料二：起事者密謀籌組大明慈悲國，在西來庵五福王爺廟商討抗日事宜。起義行動被當時的政府得知，下令全國各地嚴密查緝，被捕之人將近 2,000 人。受到輿論壓力下，以天皇即位為由進行特赦.....。

資料三：1913 年 9 月，日本警察大湖支廳一批槍隻遭竊，警方循線追查，某人在各地建立的反日組織，一一遭到偵破。12 月 16 日，他逃到淡水，準備搭船回廣東時，然遭警方發現，日警蜂湧而上，就地逮捕。

32. 上述資料一至資料三，請依事件發生時間早晚的排序，下列何者正確？ (A)資料一→資料二→資料三 (B)資料二→資料一→資料三 (C)資料二→資料三→資料一 (D)資料三→資料二→資料一。

33. 請問資料二的事件發生在附圖中的何處？

- (A)甲 (B)乙 (C)丙 (D)丁。



【請繼續換頁作答】

本試卷分地理、歷史、公民 3 個部份，請依序作答，並按照題號畫卡。  
各部份題目配分及試卷頁數請參見說明，總分為 100 分。請謹慎作答。

班級：                      座號：  
姓名：

第 3 部份：公民（34~50 題，每題 2 分，共 2 頁）

34. 附圖為大雄和多啦 A 夢兩人的對話。依圖所示，大雄穿著打扮的方式主要是受到何種因素的影響？  
(A)家庭 (B)同儕團體 (C)學校 (D)傳播媒體。



大雄你今天怎麼穿得這麼特別！



因為同學都這樣穿阿，好看吧！

35. 阿豪是一個國中生，為了建立新的人際關係，想參加一個團體，於是蒐集了不同團體的資料，身為阿豪的好朋友，你會推薦他加入下列何種團體？

	團體名稱	團體目的
(A)	董氏基金會	致力於菸害防制，藉由遊說希望政府訂立法規。
(B)	地球公民基金會	透過調查揭露環境問題，並據以進行政策施壓。
(C)	世界展望會	推動國人投入關懷全球貧童與人道救援的行列。
(D)	台北桌遊同好會	舉辦活動，讓成員凝聚情感，享受桌遊樂趣。

36. 下列何種情形不屬於角色衝突？(A)職業婦女常無法兼顧家庭與工作 (B)國中生無法兼顧課業與社團活動 (C)部分高中學生上課經常遲到且學習態度不佳 (D)醫護人員於防疫期間堅守崗位，卻無法陪家人吃飯。
37. 「公共政策網路參與平台」是一個政府與民間互動溝通的討論平臺，民眾藉由平台提出想法，讓政府施政更為周延。上述的內容體現了何種參與公共事務的重要性？(A)公共事務涉及到利益如何進行分配 (B)讓決定可以更貼近群體成員的需求 (C)可釐清參與公共事務的對象與範圍 (D)對公共事務保持緘默是不恰當行為。
38. 新冠肺炎確診病例持續攀升，中央流行疫情指揮中心宣布「高中以下學校師生至本學期上課日為止前不得出國」，嚴重影響教師權益，許多教師紛紛在網路上展開評論。上述教師針對「出國禁令」提出自己的想法，主要的原因為何？

(A)體認到該政策與自身息息相關 (B)理解到自己能提出符合成員需求的因應策略 (C)認知到缺乏能監督政府執行政策的公正單位 (D)認為自己能夠勇於分擔所有政治人物的責任。

39. 有一社會團體在其網站中寫下這一段文字：「一群主婦有感於社會型態的急遽變遷，不能再坐視生活週遭的種種環境病態……，決心從自己做起，來改善環境，……，主婦聯盟於是誕生。」這段文字主要顯示出哪些志願結社的特徵 (甲)志願性、(乙)民間性、(丙)組織性、(丁)自主性？(A)甲乙 (B)甲丙 (C)乙丙 (D)乙丁
40. 承上題，該團體除了有董事會外還設有綠食育小組、性別平等小組、募款小組等，並且在臺灣成立有 3 個服務據點。此即展現出志願結社的哪一項特徵？(A)民間性 (B)志願性 (C)組織性 (D)自主性。
41. 好好住社區有四位剛搬進來的居民，為了讓大家更認識彼此，社區委員會請他們做自我介紹，根據他們的介紹，何者屬於我國的「國民」？

(A)



我是來自美國的交換生，希望可以在這裡學習到不同的文化！

(B)



我來自日本，上個月與我的臺灣女友求婚，接下來準備結婚。

(C)



我父母親都是臺灣人，以前我在國外念書，現在回臺灣工作。

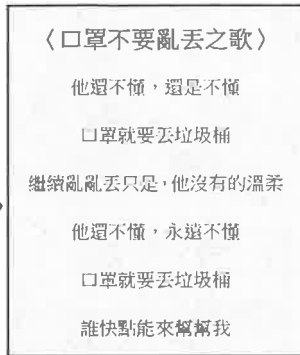
(D)



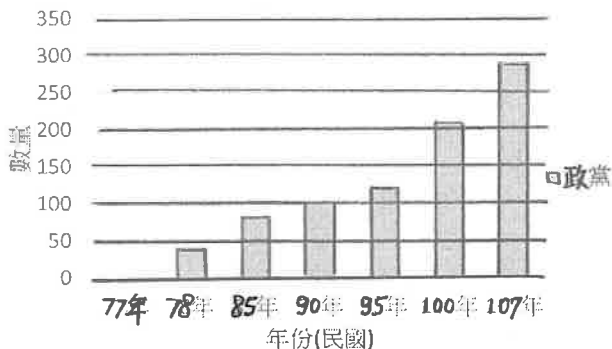
我因為嚮往臺灣的夜市小吃，所以遠從家鄉義大利來臺打工。

42. 荒野保護協會是由民間環保人士所組成，近期他們致力於海洋倡議，透過演講、舉辦淨灘活動，教育民眾愛護海洋資源。若以人民結社的角度來分析，下列推論何者正確？(A)荒野保護協會的組成不具有志願性 (B)荒野保護協會為正式的官方團體 (C)荒野保護協會為滿足情感的團體 (D)荒野保護協會會有舉行演講的集會自由。

43. 右圖是公民老師在網路擷取下來的內容，請根據圖中的內容判斷，老師可能是在說明何種「公民德行」的實踐？(A)發揮道德 (B)捍衛正義 (C)相互尊重 (D)促進公益。



44. 2018 年我國舉行九合一地方公職人員選舉，同時進行十案的全國性公投。阿萬(15 歲)與阿方(20 歲)兩兄弟從小就住在台北市文山區，兩人很興奮的在討論各個候選人的政見及公投提案，關於這次選舉中阿萬與小芳的身分及參與資格的敘述，下列何者正確？(A)阿萬還沒辦法對公共事務提出意見 (B)只有小芳擁有法定參政權 (C)只有阿萬屬於廣義的公民 (D)阿萬與小芳都是狹義的公民。
45. 下圖為內政部統計的資料，根據該統計圖判斷，下列敘述何者正確？



- (A)集會數量有逐漸增加的趨勢 (B)數量在民國 85 年突破一百個 (C)該圖所示與憲法所保障的結社自由有關 (D)能夠監督政府施政的組織越來越少。
46. 我國《電視節目分級處理辦法》將電視節目分為五級。其中第四條規定：「節目有恐怖、血腥、殘暴、變態等情節且表現方式強烈者，除了要鎖碼播送之外，亦不得讓未滿十八歲的人收看。」有關該法律規定，下列敘述何者正確？(A)我國制定此法，是為了不讓未滿十八歲的人看太多電視影響課業 (B)電視節目會無形中影響自身的價值及外在行為，因此要有所規範 (C)從該規定可知，家庭是個人社會化中的重要途徑 (D)設定分級可以讓青少年有良好的人格發展，避免出現角色衝突。
47. 老師在課堂上請同學針對「志願服務」進行舉例，請問誰的說法符合「志願服務」的概念？(A)阿明：

假日在家幫忙打掃家裡 (B)小珍：我自願做沒人想做的打掃工作 (C)中中：收到兵役通知單，到履行當兵的義務 (D)美美：利用課餘時間到醫院，說故事給病童聽。

※閱讀以下資料，並回答 48-50 題

**資料一**：兒童福利聯盟(簡稱兒盟)是由一群關心兒童的民間人士、相關團體，共同組成的非官方組織。兒盟在北、中、南均有成立辦公室，除了促進兒童相關法令政策的修訂與倡導之外，亦因應社會變遷與問題，開展了許多的家庭服務，包括收出養服務、棄兒保護服務、托育諮詢服務等。兒盟秉持「給孩子一個更好的世界」的成立初衷，致力讓每個孩子都能獲得愛、關懷和瞭解。

**資料二**：有鑑於新冠肺炎確診病例上升，兒盟呼籲政府應提供足夠天數的家庭照顧假，讓家長有足夠天數的家庭照顧假且「敢請假」，不用擔心可能因此失去工作。另外，建議政府也應研議給防疫照顧的家長享有特別的減稅措施，藉此減輕育兒家庭的經濟壓力。(兒盟 109 年 3 月，新聞稿)

48. 根據**資料一**，畫底線的部分，顯示出志願結社的哪一項特徵？(A)志願性 (B)民間性 (C)組織性 (D)自主性。
49. 根據**資料二**，兒童福利聯盟針對新冠肺炎對政府提出一些建議，是希望透過團體的力量達到何種目的？(A)監督政府施政，讓政策更符合民眾需求 (B)增進民眾的公共參與，吸引關注 (C)提升民眾理性思考、互相尊重的公民德行 (D)擴大個人的影響力，維護弱勢群體。
50. 根據**資料一**及**資料二**，有關於兒童福利聯盟的敘述何者**錯誤**？(A)該團體的組成符合組織性及民間性 (B)透過示威遊行的方式，向政府表達團體的訴求 (C)參與該團體的成員有特定目標，為工作取向的團體 (D)該團體所提供的服務是因為體認到家庭對兒童有極大的影響。

【試題到此結束】

(請檢查答案卡是否劃記正確)

臺北市立萬芳高級中學國中部 108 學年度第 2 學期

社會領域七年級第 1 次定期評量參考答案

1	2	3	4	5	6	7	8	9	10
D	D	A	A	D	A	A	B	C	C
11	12	13	14	15	16	17	18	19	20
B	C	A	C	B	B	B	D	D	D
21	22	23	24	25	26	27	28	29	30
B	B	C	D	C	B	A	C	A	A
31	32	33	34	35	36	37	38	39	40
C	D	D	B	D	C	B	A	A	C
41	42	43	44	45	46	47	48	49	50
C	D	A	B	C	B	D	D	A	B