

科目：地理科

適用班級：901-907

□高中部

■國中部

(1)班級、座號如為0-9，十位請劃記『0』；班級、座號為10、20、30…個位請劃記『0』

班級：

座號：

姓名：

一、單選題：(每題2分，共50題，總分100分)

請依據下列短文，回答第1~4題：

香蕉共和國(Banana Republic)是政治學上的貶稱，用來指那些貪污腐敗、或有強大外國勢力介入的國家，政治不穩定，常有寡頭政治，長期剝削民眾，而國家經濟則高度依賴水果、礦產等原材料出口。拉丁美洲一些小國如洪都拉斯、瓜地馬拉、哥斯大黎加等，昔日便被賦予這個綽號。

香蕉共和國一詞於1904年由美國作家亨利(O. Henry)所創造出來，他在小說《Cabbages and Kings》中以虛構的Republic of Anchuria影射洪都拉斯，並稱它為香蕉共和國。20世紀初，香蕉佔了宏都拉斯總出口近70%，當時美國聯合果品公司和標準果品公司大量進口拉丁美洲國家農產品，因而掌握了這些國家的經濟命脈，從而插手當地經濟和政治。因此，亨利創造香蕉共和國一詞，用來泛指經濟依賴美國強權的拉丁美洲小國，帶有貶意。

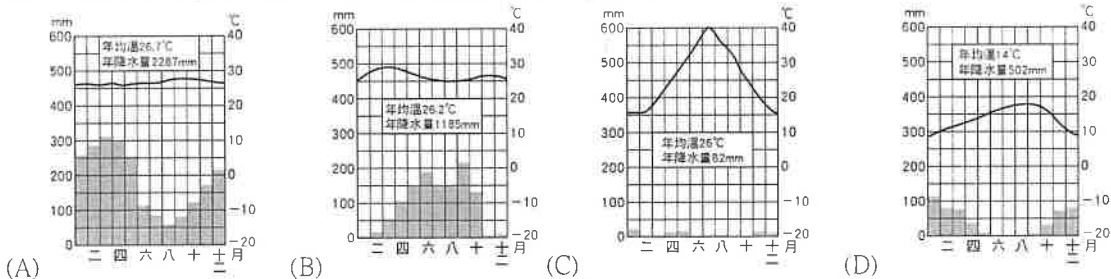
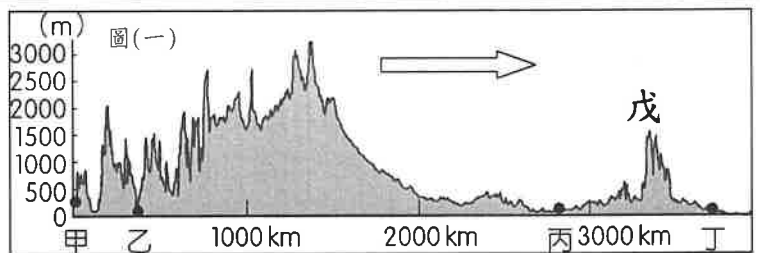


來源：改編自香港經濟日報網站資料

- ( ) 文中所提到的「香蕉共和國」所在地被稱為「拉丁美洲」，而美國所在地北美洲則是「盎格魯美洲」的原因為何？  
(A)地理位置 (B)文化差異 (C)氣候不同 (D)經濟差異
- ( ) 依據短文內容，「香蕉共和國」的經濟型態，以下列何者為主？  
(A)第一級產業 (B)第二級產業 (C)第三級產業 (D)第四級產業
- ( ) 「香蕉共和國」等國的經濟發展常不穩定，主要原因是這種經濟型態最容易遭受何種問題？  
(A)農業耕作技術過於落後  
(B)氣候變遷造成產量減少  
(C)人口外移而勞動力不足  
(D)國際市場價格波動影響
- ( ) 下列何者「不是」20世紀初時洪都拉斯、瓜地馬拉的農業經營特色？  
(A)外銷為主的市場導向 (B)以栽種經濟作物為主 (C)強大的外國勢力介入 (D)農場作物種類多元

北美洲面積遼闊，各區域地形氣候差異顯著。圖(一)是北美洲沿35°N的地形剖面圖。請依據圖(一)，回答第5~11題：

- ( ) 圖(一)中的箭頭方向主要指向何方？  
(A)東方 (B)西方 (C)南方 (D)北方
- ( ) 戊是山勢較低矮平緩的山脈，為古褶曲山脈，礦產豐富。請問「戊」是下列哪一個山脈？  
(A)烏拉山  
(B)落磯山脈  
(C)安地斯山脈  
(D)阿帕拉契山
- ( ) 世界上有75%的龍捲風發生在美國，每年在經濟上造成數百萬美元的損失，並會導致失業和死傷。請問圖(一)中哪一個地區發生龍捲風的機率最高？(A)甲 (B)乙 (C)丙 (D)丁
- ( ) 承上題，下列那一個時間最容易有龍捲風災害發生？(A)1月 (B)5月 (C)10月 (D)12月
- ( ) 甲地位在陽光充足的一州，該州成為美國最大的葡萄酒產區，佔全美的90%且葡萄種類繁多，幾乎所有歐洲的主要品種在該州均有種植。請問：甲地的氣候近似於下列何者？



- ( ) 那一地區因為位於盛行風的背風坡，氣候十分炎熱且乾燥少雨？  
(A)甲 (B)乙 (C)丙 (D)丁
- ( ) 圖中丙區為一遼闊的平原，下列哪一條河川是流經其間的主要河川，其流域面積約為300萬平方公里，最後注入墨西哥灣？  
(A)科羅拉多河 (B)聖羅倫斯河 (C)密西西比河 (D)拉布拉他河

請翻頁繼續作答

圖(二)為美洲的人口分布圖，請由圖(二)中資料加以判斷，回答第12~19題：

12. ( ) 加拿大的經濟重鎮多分布於東部地區，蒙特婁及多倫多皆為加拿大重要的工商業中心，該區主要是利用哪一條水路運輸來發展經濟活動？  
 (A)密西西比河 (B)科羅拉多河 (C)聖羅倫斯河 (D)亞馬孫河。
13. ( ) 波哥大是哥倫比亞最大城市，整個都市地區的人口數約為7百多萬人。請由圖(二)中資料加以判斷，該地人口稠密是受到下列哪一項因素影響最大？  
 (A)礦產資源豐富 (B)氣候涼爽宜人 (C)產業較為多元 (D)牧業較為發達
14. ( ) 依據圖(二)中城市的位置研判，下列那一個城市能「最早」迎接到2020年的第一道曙光？  
 (A)洛杉磯 (B)芝加哥 (C)里約 (D)聖地牙哥
15. ( ) 召凱在寒假參加美洲旅行團，圖(三)是他很興奮的在社群網站上和朋友分享照片及經歷。請問：召凱去的景點位在圖(二)中那一個城市？  
 (A)洛杉磯 (B)芝加哥 (C)里約 (D)聖地牙哥
16. ( ) 承上題，召凱發現該地的氣候與臺灣差距甚大。請問旅行社會在行前提醒他做些什麼準備，才不會受到天氣的干擾而影響到旅遊行程？  
 (A)雨傘 (B)防曬乳 (C)輕薄衣物 (D)高山症藥品
17. ( ) 首都的設置往往有許多不同的考量，巴西的首都原本是位於東南沿海的里約，1960年4月21日，政府遷都到內陸的巴西利亞，其最主要的原因為何？  
 (A)開採內陸的礦產 (B)均衡區域的發展  
 (C)海平面上升將被淹沒 (D)擴大人民的生活圈
18. ( ) 巴西為2016奧運主辦國，其中里約更是南美洲第一個主辦奧運的城市。為此，巴西政府事前傾力整理國家門面，積極建設並改善社會問題，以確保旅客安全和維護國際形象。上文中「為了確保旅客安全及維護形象」，巴西政府要處理的社會問題最可能是下列何者？  
 (A)出生率下降 (B)識字率太低 (C)貧民窟問題 (D)雨林過度開發。
19. ( ) 圖中甲區因為氣候寒冷而人煙稀少，卻有世代在此居住的原住民。他們身上穿的是厚的毛皮衣服禦寒，主要以捕獵為生，就地取材住在雪屋裡。請問：下列何者是上文所說的民族？  
 (A)維京人 (B)薩米人 (C)印第安人 (D)因紐特人



圖(二)



▲圖(三)

請依據下列短文，回答第20~22題：

據美國聯邦人口普查局公布的最新調查顯示，美國人口2019年總人口數達3億2800萬。然而從2018年至2019年人口僅成長0.5%，約1500萬人。美國總體生育率是每個女性約擁有1.89個兒童，雖說低於人口替代所需要的「每位適齡女性一生至少生育2.1個嬰兒」標準值，不過因為美國每年吸引大量的移民，人口仍舊保持了增長的態勢。

但美國人口的種族構成正在發生根本性的變化。美國從建國到現在，一直都是〇〇人占絕對主導地位的國家。1960年的時候〇〇人還占美國總人口的85%，到2014年下降到61.9%；人口專家預計到2050年之前，〇〇人在美國總人口中所占比例將低於50%，失去多數族裔地位。

20. ( ) 由文章內容判斷，美國人口的成長仍舊能保持正成長的主要原因為何？  
 (A)出生率升高 (B)死亡率降低 (C)移出率較高 (D)移入率較高
21. ( ) 美國的族群與文化多元，2019年的人口組成中族群所占的比例最高還是〇〇人。請問是下列那一族群？  
 (A)歐裔白人 (B)印第安人 (C)非裔黑人 (D)亞裔
22. ( ) 紐約市被稱為「大熔爐」可謂名副其實，特別是眾多的少數族裔移民聚居區，可以說是紐約市的一大亮點。請問：紐約市位在圖(四)中何處？  
 (A)甲 (B)丙 (C)丁 (D)戊

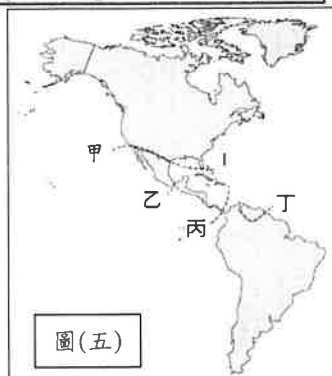


圖(四)

請依據下列短文，回答第23~25題：

巴拿馬運河1914年建成，2016年擴建完工，直接連接到兩大洋，讓往來船隻不用再繞南美洲走一大圈，大大縮短了運貨的時間和金錢成本，估計全球約有5%貨運經過巴拿馬運河。透過它大幅縮短國家〇〇東岸到西岸的貨運運輸時間。

23. ( ) 巴拿馬運河的位置位在圖(五)中的何處？(A)甲 (B)乙 (C)丙 (D)丁
24. ( ) 文中所描述的「〇〇」是指下列那一國？(A)英國 (B)美國 (C)巴西 (D)智利
25. ( ) 巴拿馬運河是世界七大工程之一，當初工程興建要克服兩端連接的海洋其海面不一樣高，因此必須要使用船閘。請問：其連接的是哪兩個海洋？  
 (A)大西洋、印度洋 (B)大西洋、太平洋  
 (C)太平洋、印度洋 (D)北極海、北海

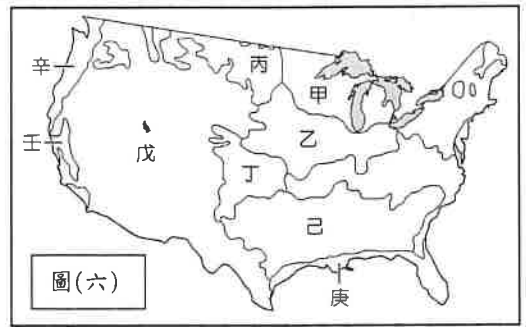


圖(五)

請接下頁繼續作答

圖(六)為美國的農牧業分布圖，請由圖(六)中資料加以判斷，回答第 26-30 題：

26. ( ) 2019 年全球牛肉產量增長 1%，達到 6360 萬噸，其增長主要來自巴西、美國和阿根廷等國。美國的畜牧業相當發達，肉品大量外銷全球。請問美國牛肉的主要產地應位在哪一區？  
 (A)甲 (B)丙 (C)戊 (D)己
27. ( ) 美國乳製品過去大量銷往墨西哥和中國，但美國與兩國的貿易衝突緊張情勢升高後，墨西哥與中國分別對美國實施報復性關稅，嚴重衝擊美國酪農業。酪農業主要分布在附圖(六)哪個地點附近？  
 (A)甲 (B)乙 (C)己 (D)壬
28. ( ) 「美國國際棉花協會 (CCI)」是美國棉業的出口推廣單位，是一個非營利機構，以推廣美國棉花和棉製品並使用右圖的「COTTON USA」商標到全球。請問：美國主要的棉花產區在哪裡？  
 (A)甲 (B)丙 (C)戊 (D)己
29. ( ) 下圖是美國農夫與記者的對話漫畫，請問：由兩人對話可以得知美國農業有下列那一特色？  
 (A)單位面積產量很高 (B)農作物多自給自足 (C)耕種面積不大 (D)大規模種單一作物



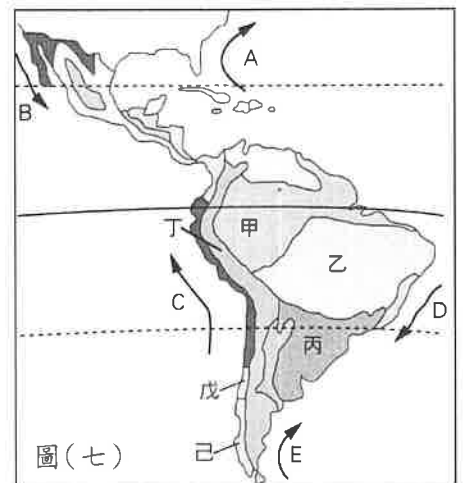
圖(六)



30. ( ) 承上題，漫畫中農夫的農田最可能位在圖(六)中哪一區？  
 (A)甲 (B)丁 (C)戊 (D)己

圖(七)為中南美洲氣候帶與洋流圖，請由圖(七)中資料加以判斷，回答第 31-35 題：

31. ( ) 宇浩到中南美洲旅行，他的日記寫道：「……走在古道上，沿途欣賞植被變化、遠山的皚皚白雪等，我看到當地居民隨氣溫變換種植不同的作物；最後到達有天空之城美稱的馬丘比丘，雲霧繚繞的山頭藏著古老的印加帝國歷史文明。」請問：此趟旅行他主要在哪一種氣候區活動？  
 (A)甲 (B)乙 (C)丙 (D)丁
32. ( ) 全球最大熱帶雨林，有「地球之肺」稱號的亞馬孫森林去年正遭遇有紀錄以來最頻繁的火災，已發生超過 7.2 萬起火災，打破歷史紀錄。蔓延的森林大火，成為全球焦點，各國領袖皆表達關注。請問：亞馬孫森林主要位在圖(七)中何處？  
 (A)甲 (B)乙 (C)丙 (D)丁
33. ( ) 亞馬遜雨林面積約美國領土一半，近年來由於人類對土地的需求增加，砍伐大片的雨林從事農牧業。光是 2018 年就少了相當於 29 個臺北市面積的雨林。請問：下列何者並非「非」雨林消失的影響？  
 (A)動植物的棲地被破壞  
 (B)大氣的二氧化碳減少  
 (C)全球氣候受影響改變  
 (D)珍稀生物將滅絕消失
34. ( ) 智利北部的 Atacama 沙漠，曾有 400 年未降雨的紀錄，成為「世界最乾燥的地方」。該地常年受副熱帶高壓控制，加上 C 洋流的經過，下層水氣易凝結成雲或者霧，但難以成雨。請問：C 洋流的名稱為何？  
 (A)墨西哥灣暖流 (B)巴西暖流 (C)秘魯涼流 (D)福克蘭寒流
35. ( ) 圖中己地的氣候受盛行風影響，終年有雨，與西歐地區相似。請問：己地主要是吹什麼風？  
 (A)西風 (B)東風 (C)西南風 (D)東北風。
36. ( ) 北美洲的工業高度發達，除了東北部和五大湖工業區外，還有許多專業化的工業城市，下列城市與主要產業或企業總部位置的圖片配對，何者正確？



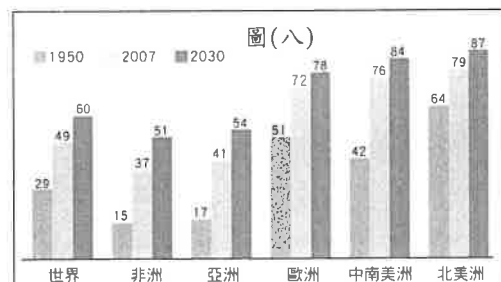
圖(七)

(A) 洛杉磯	(B) 舊金山	(C) 西雅圖	(D) 休士頓

37. ( ) 電影《2012》的劇情是以美國黃石公園內的超級火山爆發為背景，並進而引起了山崩地裂與驚天海嘯，致使全球人類遭遇毀滅性災難。現實中黃石國家公園的火山確屬於活動中的火山，此與其主要位於哪兩個板塊的交界處有密切關係？  
 (A)大西洋板塊、歐亞板塊 (B)太平洋板塊、歐亞板塊 (C)太平洋板塊、北美板塊 (D)大西洋板塊、北美板塊
38. ( ) 總統蔡英文於 2018 年出訪中南美洲八天，參加友邦巴拉圭新任總統就職典禮，故命名為「同慶之旅」，隨後前往中美洲友邦貝里斯。請問：蔡總統隨行翻譯官應該要熟悉當地哪一種官方語言，有助於和友邦元首的溝通？  
 (A)葡萄牙語 (B)西班牙語 (C)義大利語 (D)法語
39. ( ) 根據石油輸出國家組織(OPEC)資料，某個位在南美洲的會員國已成為世界最大的石油儲存國，不過該國經濟過度依賴石油出口，近年來國際原油價格下跌加上領導者失敗的政策，導致經濟崩潰，面臨的嚴峻通貨膨脹問題。想買一卷廁所衛生紙，須花費 260 萬的該國貨幣，約價值新台幣 12 元。請問：上文所述的 OPEC 會員國是指何者？  
 (A)智利 (B)阿根廷 (C)墨西哥 (D)委內瑞拉
40. ( ) 北美洲湖泊眾多，尤其以位於加拿大和美國交界處的五大湖最具盛名。五大湖為世界最大的淡水水域，總面積達 24.5 萬平方公里，因此素有「北美地中海」之稱。請問：上述湖泊的成因為何？  
 (A)斷層陷落 (B)河川侵蝕 (C)冰河侵蝕 (D)火山作用
41. ( ) 新聞報導：「最高法院裁決美國政府能開始使用 25 億元國防經費蓋南方邊界的高牆，象徵川普總統在法律上獲得重要的一勝。川普隨後在推特表示：哇！高牆大勝利…邊境保護與法治大獲勝。」上述報導中的高牆主要是在阻擋何種族群的非法移人？(A)亞裔 (B)非洲裔 (C)拉丁美洲裔 (D)歐洲裔白人？
42. ( ) 小馬整理出北美洲「商業性農業」與傳統「自給式農業」的比較筆記，內容如下方表格。請問他的筆記內容有哪一項「錯誤」？

	商業性農業	自給式農業
(A)農場面積	大	小
(B)耕作方式	集約	粗放
(C)機械化程度	高	低
(D)單位面積產量	低	高

43. ( ) 電影《勇者無懼》劇情為真人真事改編，1839 年 53 名黑人遭白人綁票從非洲被載往美國，非洲人山克僥倖之中掙脫身上的枷鎖，並解救其他同伴搶下這艘奴隸船奪回自由。他們只有一個目標，那就是回到非洲。強迫船長帶他們回非洲，船長卻欺騙他們將其帶往美國，結果這些非洲人因謀殺船員的罪名受到審判。請問：上文中的黑奴想從美國回到故鄉，需橫渡下列那一個海洋會最快速？(A)太平洋 (B)大西洋 (C)印度洋 (D)北極海
44. ( ) 雜誌報導：「薄荷四國是指○○○、印尼、土耳其與奈及利亞，分別位在中美洲、亞洲與非洲。四個新興國家皆是人口大國，未來 20 年工作年齡人口將超越非工作年齡人口，享有龐大的人口紅利，而且還因擁有絕佳的地理位置，未來能躋身十大經濟體之列。」上述報導中的○○○國家為下列那一國？  
 (A)加拿大 (B)烏拉圭 (C)阿根廷 (D)墨西哥
45. ( ) 承上題，該國擁有「絕佳的地理位置」是指那一個原因？  
 (A)位處氣候涼爽的溫帶 (B)控制兩大洋間的航運 (C)赤道經過部分國土 (D)鄰近廣大市場美國
46. ( ) 加拿大是屬於大英國協的成員國家之一，加拿大的官方語言也是英語。但有一個例外，在加拿大有一個省將法語同時作為除英語之外的官方語言。根據改省政府的語言政策規定，所有招牌以及各式標語上，法語字體必須占主要位置。請問上文所描述的是哪一省？  
 (A)魁北克省 (B)安大略省 (C)亞伯達省 (D)薩克其萬省
47. ( ) 「每年 2 月的嘉年華會在巴西里約登場。這場盛會是源自信徒在「四旬齋戒」前會藉此機會飲酒狂歡，在巴西發展成為融合非洲與美洲印第安人獨特元素的街頭遊行。由 12 支來自不同森巴學校的嘉年華隊伍，依主題穿著華麗性感服裝吸引評審青睞。」請問：該地主要的宗教信仰為何？  
 (A)印度教 (B)天主教 (C)東正教 (D)伊斯蘭教
48. ( ) 美國是世界強權之一，其本身的發展條件得天獨厚。請問：下列對於美國的敘述，何者敘述正確？  
 (A)以熱帶氣候為主的國家  
 (B)世界上人口最多的國家  
 (C)豐富的礦產利於發展工業  
 (D)咖啡、可可是最大出口農作物
49. ( ) 圖(八)為世界各地都市化程度的變化示意圖。由圖中可看出，中南美洲都市人口持續增加，推測至西元 2030 年時，都市化程度將攀升至 84%，僅次於北美洲。請問：造成中南美洲都市化程度成長快速的原因為何？  
 (A)大城市集中於沿海地區  
 (B)種族融合呈現多元文化  
 (C)都市與鄉村貧富差距大  
 (D)經濟依賴歐美先進國家。



試題結束

# 電腦閱卷答案卡

年	班	座號	姓名	科目
			108-13-1-地理	

畫記說明

※請使用2B鉛筆畫記。正確→ 不正確→

班級	十位	0	1	2	3	4	5	6	7	8	9
	個位	0	1	2	3	4	5	6	7	8	9
座號	十位	0	1	2	3	4	5	6	7	8	9
	個位	0	1	2	3	4	5	6	7	8	9

1	<input type="checkbox"/> A	<input checked="" type="checkbox"/> B	<input type="checkbox"/> C	<input type="checkbox"/> D	<input type="checkbox"/> E	31	<input type="checkbox"/> A	<input type="checkbox"/> B	<input type="checkbox"/> C	<input checked="" type="checkbox"/> D	<input type="checkbox"/> E
2	<input checked="" type="checkbox"/> A	<input type="checkbox"/> B	<input type="checkbox"/> C	<input type="checkbox"/> D	<input type="checkbox"/> E	32	<input checked="" type="checkbox"/> A	<input type="checkbox"/> B	<input type="checkbox"/> C	<input type="checkbox"/> D	<input type="checkbox"/> E
3	<input type="checkbox"/> A	<input type="checkbox"/> B	<input type="checkbox"/> C	<input checked="" type="checkbox"/> D	<input type="checkbox"/> E	33	<input type="checkbox"/> A	<input checked="" type="checkbox"/> B	<input type="checkbox"/> C	<input type="checkbox"/> D	<input type="checkbox"/> E
4	<input type="checkbox"/> A	<input type="checkbox"/> B	<input type="checkbox"/> C	<input checked="" type="checkbox"/> D	<input type="checkbox"/> E	34	<input type="checkbox"/> A	<input type="checkbox"/> B	<input checked="" type="checkbox"/> C	<input type="checkbox"/> D	<input type="checkbox"/> E
5	<input checked="" type="checkbox"/> A	<input type="checkbox"/> B	<input type="checkbox"/> C	<input type="checkbox"/> D	<input type="checkbox"/> E	35	<input checked="" type="checkbox"/> A	<input type="checkbox"/> B	<input type="checkbox"/> C	<input type="checkbox"/> D	<input type="checkbox"/> E
6	<input type="checkbox"/> A	<input type="checkbox"/> B	<input type="checkbox"/> C	<input checked="" type="checkbox"/> D	<input type="checkbox"/> E	36	<input type="checkbox"/> A	<input checked="" type="checkbox"/> B	<input type="checkbox"/> C	<input type="checkbox"/> D	<input type="checkbox"/> E
7	<input type="checkbox"/> A	<input type="checkbox"/> B	<input checked="" type="checkbox"/> C	<input type="checkbox"/> D	<input type="checkbox"/> E	37	<input type="checkbox"/> A	<input type="checkbox"/> B	<input checked="" type="checkbox"/> C	<input type="checkbox"/> D	<input type="checkbox"/> E
8	<input type="checkbox"/> A	<input checked="" type="checkbox"/> B	<input type="checkbox"/> C	<input type="checkbox"/> D	<input type="checkbox"/> E	38	<input type="checkbox"/> A	<input checked="" type="checkbox"/> B	<input type="checkbox"/> C	<input type="checkbox"/> D	<input type="checkbox"/> E
9	<input type="checkbox"/> A	<input type="checkbox"/> B	<input type="checkbox"/> C	<input checked="" type="checkbox"/> D	<input type="checkbox"/> E	39	<input type="checkbox"/> A	<input type="checkbox"/> B	<input type="checkbox"/> C	<input checked="" type="checkbox"/> D	<input type="checkbox"/> E
10	<input type="checkbox"/> A	<input type="checkbox"/> B	<input type="checkbox"/> C	<input type="checkbox"/> D	<input type="checkbox"/> E	40	<input type="checkbox"/> A	<input type="checkbox"/> B	<input checked="" type="checkbox"/> C	<input type="checkbox"/> D	<input type="checkbox"/> E
11	<input type="checkbox"/> A	<input type="checkbox"/> B	<input checked="" type="checkbox"/> C	<input type="checkbox"/> D	<input type="checkbox"/> E	41	<input type="checkbox"/> A	<input type="checkbox"/> B	<input checked="" type="checkbox"/> C	<input type="checkbox"/> D	<input type="checkbox"/> E
12	<input type="checkbox"/> A	<input type="checkbox"/> B	<input checked="" type="checkbox"/> C	<input type="checkbox"/> D	<input type="checkbox"/> E	42	<input type="checkbox"/> A	<input checked="" type="checkbox"/> B	<input type="checkbox"/> C	<input type="checkbox"/> D	<input type="checkbox"/> E
13	<input type="checkbox"/> A	<input type="checkbox"/> B	<input type="checkbox"/> C	<input type="checkbox"/> D	<input type="checkbox"/> E	43	<input type="checkbox"/> A	<input checked="" type="checkbox"/> B	<input type="checkbox"/> C	<input type="checkbox"/> D	<input type="checkbox"/> E
14	<input type="checkbox"/> A	<input type="checkbox"/> B	<input type="checkbox"/> C	<input type="checkbox"/> D	<input type="checkbox"/> E	44	<input type="checkbox"/> A	<input type="checkbox"/> B	<input type="checkbox"/> C	<input checked="" type="checkbox"/> D	<input type="checkbox"/> E
15	<input checked="" type="checkbox"/> A	<input type="checkbox"/> B	<input type="checkbox"/> C	<input type="checkbox"/> D	<input type="checkbox"/> E	45	<input type="checkbox"/> A	<input type="checkbox"/> B	<input type="checkbox"/> C	<input checked="" type="checkbox"/> D	<input type="checkbox"/> E
16	<input checked="" type="checkbox"/> A	<input type="checkbox"/> B	<input type="checkbox"/> C	<input type="checkbox"/> D	<input type="checkbox"/> E	46	<input checked="" type="checkbox"/> A	<input type="checkbox"/> B	<input type="checkbox"/> C	<input type="checkbox"/> D	<input type="checkbox"/> E
17	<input type="checkbox"/> A	<input checked="" type="checkbox"/> B	<input type="checkbox"/> C	<input type="checkbox"/> D	<input type="checkbox"/> E	47	<input type="checkbox"/> A	<input checked="" type="checkbox"/> B	<input type="checkbox"/> C	<input type="checkbox"/> D	<input type="checkbox"/> E
18	<input type="checkbox"/> A	<input type="checkbox"/> B	<input checked="" type="checkbox"/> C	<input type="checkbox"/> D	<input type="checkbox"/> E	48	<input type="checkbox"/> A	<input type="checkbox"/> B	<input type="checkbox"/> C	<input type="checkbox"/> D	<input type="checkbox"/> E
19	<input type="checkbox"/> A	<input type="checkbox"/> B	<input type="checkbox"/> C	<input checked="" type="checkbox"/> D	<input type="checkbox"/> E	49	<input type="checkbox"/> A	<input type="checkbox"/> B	<input checked="" type="checkbox"/> C	<input type="checkbox"/> D	<input type="checkbox"/> E
20	<input type="checkbox"/> A	<input type="checkbox"/> B	<input type="checkbox"/> C	<input checked="" type="checkbox"/> D	<input type="checkbox"/> E	50	<input type="checkbox"/> A	<input type="checkbox"/> B	<input type="checkbox"/> C	<input checked="" type="checkbox"/> D	<input type="checkbox"/> E
21	<input checked="" type="checkbox"/> A	<input type="checkbox"/> B	<input type="checkbox"/> C	<input type="checkbox"/> D	<input type="checkbox"/> E	51	<input type="checkbox"/> A	<input type="checkbox"/> B	<input type="checkbox"/> C	<input type="checkbox"/> D	<input type="checkbox"/> E
22	<input checked="" type="checkbox"/> A	<input type="checkbox"/> B	<input type="checkbox"/> C	<input type="checkbox"/> D	<input type="checkbox"/> E	52	<input type="checkbox"/> A	<input type="checkbox"/> B	<input type="checkbox"/> C	<input type="checkbox"/> D	<input type="checkbox"/> E
23	<input type="checkbox"/> A	<input type="checkbox"/> B	<input checked="" type="checkbox"/> C	<input type="checkbox"/> D	<input type="checkbox"/> E	53	<input type="checkbox"/> A	<input type="checkbox"/> B	<input type="checkbox"/> C	<input type="checkbox"/> D	<input type="checkbox"/> E
24	<input type="checkbox"/> A	<input checked="" type="checkbox"/> B	<input type="checkbox"/> C	<input type="checkbox"/> D	<input type="checkbox"/> E	54	<input type="checkbox"/> A	<input type="checkbox"/> B	<input type="checkbox"/> C	<input type="checkbox"/> D	<input type="checkbox"/> E
25	<input type="checkbox"/> A	<input checked="" type="checkbox"/> B	<input type="checkbox"/> C	<input type="checkbox"/> D	<input type="checkbox"/> E	55	<input checked="" type="checkbox"/> A	<input type="checkbox"/> B	<input type="checkbox"/> C	<input type="checkbox"/> D	<input type="checkbox"/> E
26	<input type="checkbox"/> A	<input type="checkbox"/> B	<input checked="" type="checkbox"/> C	<input type="checkbox"/> D	<input type="checkbox"/> E	56	<input type="checkbox"/> A	<input type="checkbox"/> B	<input type="checkbox"/> C	<input type="checkbox"/> D	<input type="checkbox"/> E
27	<input checked="" type="checkbox"/> A	<input type="checkbox"/> B	<input type="checkbox"/> C	<input type="checkbox"/> D	<input type="checkbox"/> E	57	<input type="checkbox"/> A	<input type="checkbox"/> B	<input type="checkbox"/> C	<input type="checkbox"/> D	<input type="checkbox"/> E
28	<input type="checkbox"/> A	<input type="checkbox"/> B	<input type="checkbox"/> C	<input checked="" type="checkbox"/> D	<input type="checkbox"/> E	58	<input type="checkbox"/> A	<input type="checkbox"/> B	<input type="checkbox"/> C	<input type="checkbox"/> D	<input type="checkbox"/> E
29	<input type="checkbox"/> A	<input type="checkbox"/> B	<input type="checkbox"/> C	<input checked="" type="checkbox"/> D	<input type="checkbox"/> E	59	<input type="checkbox"/> A	<input type="checkbox"/> B	<input type="checkbox"/> C	<input type="checkbox"/> D	<input type="checkbox"/> E
30	<input type="checkbox"/> A	<input checked="" type="checkbox"/> B	<input type="checkbox"/> C	<input type="checkbox"/> D	<input type="checkbox"/> E	60	<input type="checkbox"/> A	<input type="checkbox"/> B	<input type="checkbox"/> C	<input type="checkbox"/> D	<input type="checkbox"/> E

名科資訊:(02)27991501

9SP601