

科目：社會

適用班級：801-808

高中部

國中部

(1)班級、座號如為0-9，十位請劃記『0』；班級、座號為10、20、30…個位請劃記『0』

班級：

座號：

姓名：

一、單選題：(每題2分)

地理(第1-17題)

※圖1-1為中國農、牧業分區圖，請回答1-4題：

() 1. 圖中甲區和乙區的敘述，下列何項正確？

地區	(A) 景觀	(B) 主要作物	(C) 無霜期	(D) 收穫次數
甲	水田農業區	水稻、甘蔗	較短	二穫或三穫
乙	旱地農業區	小麥、甜菜	較長	一穫或二穫

() 2. 下列對於圖1-1中各代號的特性敘述，何項正確？

- (A) 甲區的畜牧方式多為放牧
- (B) 丙區與丁區畜牧類型不同的主要原因是因氣溫差異
- (C) b線為年雨量750mm等雨量線，也是農牧業分界線
- (D) 丁區可利用高山融化的雪水發展綠洲農業

() 3. 圖1-2的畜牧方式會出現於圖1-1的何區？

- (A) 甲 (B) 丙 (C) 丁 (D) 戊。

() 4. 根據中國政府的統計，西元1978年時，糧食作物的栽種面積占所有農產總面積的80.3%，果樹與蔬菜則占3.3%；但西元2015年時，糧食作物栽種面積下降至68.1%，果樹與蔬菜則上升至20.9%。請問：此一資料主要說明了中國農業的何種現象？

- (A) 農業技術的進步 (B) 市場需求的改變 (C) 交通系統的協助 (D) 政府政策的鼓勵。

※圖1-3為中國三大經濟帶以及三大經濟圈分布圖，甲~丙為三大經濟帶，ㄅ~ㄇ為三大經濟圈，請回答5-6題：

() 5. 蘊藏豐富的礦產資源，且工資較低廉，成為外資積極投入的新興地區，是指圖中的哪一個經濟帶？

- (A) 甲 (B) 乙 (C) 丙。

() 6. 關於ㄅ~ㄇ三大經濟圈敘述，何者『錯誤』？

- (A) ㄅ處近渤海灣，京津唐等重要都市位於此處 (B) ㄆ處為長江出海口，上海市為其主要發展都市
- (C) ㄇ處有深圳、珠海經濟特區 (D) ㄆ處是最靠近臺灣的經濟圈。

※中國於2019年4月25日至27日在北京舉行第二屆「一帶一路」國際合作高峰論壇，此次盛會中有來自150多個國家和90多個國際組織近5000名外賓出席本屆高峰論壇，其中包含38位國家元首親自出席，會中建立了多達283項的合作事項…圖1-4是一帶一路的路線圖，請回答第7-8題：

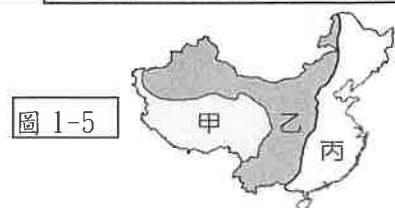
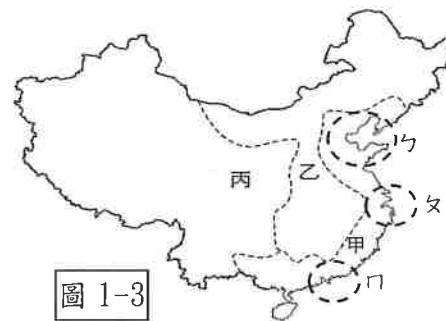

() 7. 根據圖1-4，「一帶一路」政策試圖從海上串連的區域，「不」包括下列何區？ (A) 中亞 (B) 東南亞 (C) 南亞 (D) 非洲。

() 8. 其中「絲綢之路經濟帶」的推展，應該最能帶動中國哪一行政區的產業發展？ (A) 福建 (B) 新疆 (C) 上海市 (D) 遼寧。

※圖1-5為中國地勢三級階梯圖，請回答9-10題：

() 9. 荒漠化、沙塵暴及水土流失等問題，多發生於圖中哪一級地勢階梯？ (A) 甲 (B) 乙 (C) 丙。

() 10. 承第9題，為解決上述眾多的環境問題，所推出的相關措施對策中「不包括」下列何者？ (A) 三北防護林 (B) 退耕還林 (C) 退田還湖 (D) 京津風沙源治理工程。



※一條碧波蕩漾的長渠穿城而過，為城市增添了一道美麗的河渠景觀。這條全長約 1432 公里、被稱為「人間天河」的人工管道將清澈的江水，從位於中國湖北、河南兩省交界的丹江口水庫出發，源源不斷地流入河南、河北、天津、北京四地，為極度缺水的華北地區帶來甘霖…請回答下列 11~12 題：

- () 11. 請問上文中主要是描述何項工程？
 (A)南水北調 (B)三峽水利工程 (C)退耕還河 (D)圍湖造田。
- () 12. 請問文中『清澈的江水』應是指圖 1-6 中哪條河川？
 (A)甲(B)乙(C)丙(D)丁。
- () 13. 圖 1-7 為中國主要鐵路分布圖，圖中哪段鐵路在興建時，須克服冰川高原和沼澤地形，以及凍融作用造成鐵軌變形的困難？
 (A)甲 (B)乙 (C)丙 (D)戊
- () 14. 圖 1-8 為中國煤、鐵、石油的分布狀況。下列中國的地理現象中，何者與此空間分布的關係最密切？
 (A) 北部的重工業較南部發達 (B) 目前高鐵總營運里程為世界之最
 (C) 以第三級產業產值最高 (D) 經濟特區皆設於東南沿海。
- () 15. 長江三峽水利工程是具有綜合功能的大型水壩，對重慶市而言，在大壩完工後獲得最大的益處是下列何者？
 (A)防止沙漠化擴大 (B)解決缺水問題 (C)可耕土地增加 (D)航運價值提高
- () 16. 『冬春白茫茫，夏秋水汪汪，走路嘩嘩響，種啥啥不長。』這是形容中國某地土地資源開發，因為過度發展農業灌溉所引發的環境問題，請問：此種環境問題應為？ (A)沙漠化 (B)鹽鹼化 (C)水土流失 (D)沙塵暴。
- () 17. 【大紀元 2019 年 12 月 24 日訊節錄】中國研究機構表示，中國幾十年間已約有 8,310 條冰川完全消失。研究人員認為，冰川面積縮小反映水資源的損失，因為冰川如同「固體水庫」，對河川逕流有重要的補充和調節作用。如果氣溫持續升高，冰川的融水逕流量達巔峰過後，將使後續仰賴冰川融水補給的河流斷流，或造成局部性洪旱災加劇、枯水期出現區域性水資源危機等問題…請問文章中的『區域性水資源危機』指的是因積雪減少後將導致哪一個地區的水資源會因此更加匱乏？(A)乾燥氣候區 (B)季風氣候區 (C)高地氣候區。



圖 1-6



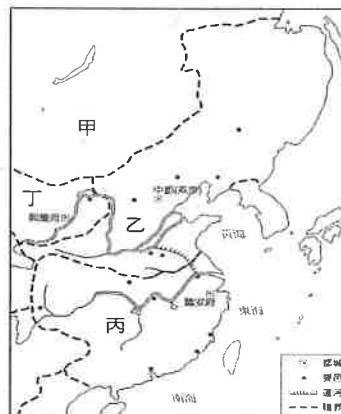
圖 1-7



圖 1-8

歷史(第 18-33 題)

- () 18. 唐代安史之亂後，節度使擁兵自重，漸成割據之勢，導致唐末以來，將領驕橫專擅。請問地方藩鎮勢力的問題，直至宋代實行哪一政策才得以解決？ (A)強幹弱枝 (B)禮遇武官 (C)廢除宰相 (D)大封宗室。
- () 19. 石敬瑭為了換取外國奧援，協助他滅後唐，建立後晉，不惜割讓土地，作為交換條件。此舉讓宋朝失去北方的屏障，導致國防洞開，無險可守，方便外患自由進出。請問當時石敬瑭是將左下附圖中何地割讓給其他國家？
 (A)甲 (B)乙 (C)丙 (D)丁。

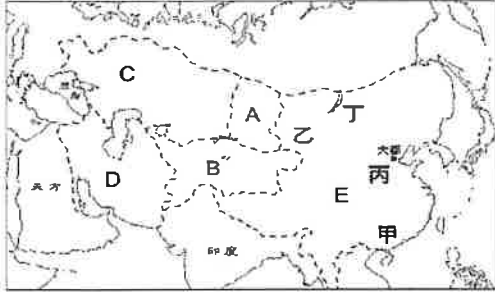


- () 20. 右上附圖代表十三世紀中國境內的政治形勢，以下哪一項內容說明當時諸國之間的關係與後來的演變是錯誤的？
 (A)甲國與丙國聯合滅乙國 (B)乙國陸續征服甲、丁、丙等國 (C)丙國初期使用岳飛來對抗乙國 (D)乙國與丁國分別為北宋、南宋的外患。

- () 21. 王安石變法的背景為財政困難，當時財政的重大支出，除封賞外，不包括何者？
 (A)歲幣 (B)賑災 (C)兵費 (D)官俸。
- () 22. 各朝代所實施的封建制度目的是封建宗室為王，以鞏固王室。請問以下何者並非分封宗室為王而造成骨肉相殘？
 (A)靖難之變 (B)管蔡之亂 (C)三藩之亂 (D)八王之亂。
- () 23. 有一個朝代實施文人政治，其開國君主立下「不得殺士大夫及上書言事人」的祖訓，因此有位大臣違逆皇帝的旨意，但皇帝卻不敢違背祖訓殺他；另一朝代的開國皇帝卻實施廷杖與文字獄，任意凌辱官員、摧殘文人。請問這兩位開國君主各是指？ (A)劉邦、楊廣 (B)楊堅、忽必烈 (C)李淵、朱棣 (D)趙匡胤、朱元璋。

◆附圖是中國某一朝代的疆域圖。疆域範圍包括A-E。甲、乙、丙、丁代表當時社會各階層分布的主要地區。

- () 24. 請從圖中的疆域判斷下列敘述何者錯誤？ (A)此圖是元代疆域圖 (B)A-D是蒙古經過三次西征所建立的版圖 (C)E版圖是鐵木真所建立的帝國 (D)馬可波羅被歸為「乙」區階層的人。



- () 25. 元朝統治後期，政局紛擾不斷，民間也怨聲載道，最後帝國走向滅亡的道路。請問：文中指的「政局紛擾不斷」，不包括下列何者？ (A)帝位紛爭不斷 (B)外患入侵頻繁 (C)官員貪汙腐化 (D)政府財政紊亂。
- () 26. 下列關於宋元的經濟與社會敘述何者正確？ (A)最早出現的紙幣為會子，是北宋四川富商聯合發行 (B)「清明上河圖」是呈現北宋首都臨安的城市生活 (C)宋元貿易興盛，設立公行來管理進出口貨物與商船，以及徵收稅金 (D)元朝設立驛站作為信差休息的處所，也使訊息的傳遞更為快速。
- () 27. 下列關於宋元的學術與文化敘述何者何者正確？ (A)宋代理學指的是儒學融合釋、道思想 (B)竇娥冤為馬致遠的代表作品 (C)火藥、指南針、造紙術為宋元時代的科技成就 (D)司馬遷編撰的資治通鑑是中國第一部編年體通史。
- () 28. 歷史老師將明代重要大事的漫畫（如附圖）貼在黑板上，要求同學們按時間順序加以排列。請問：正確的順序應為何？

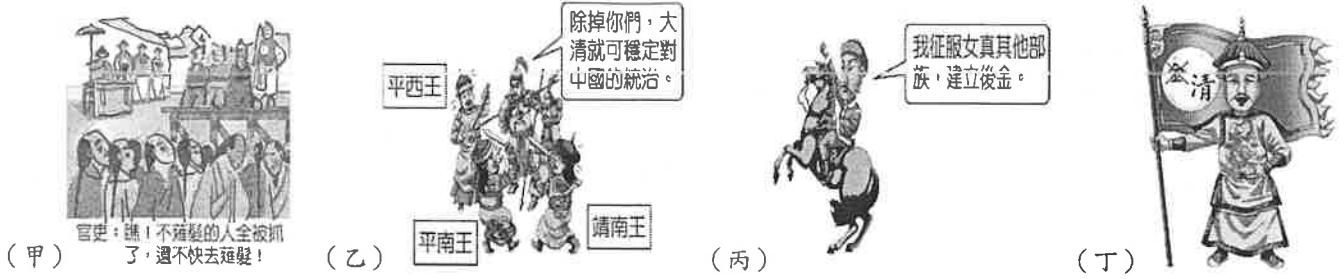


- (A)甲乙丙丁 (B)甲丁乙丙 (C)丙丁乙甲 (D)丙乙丁甲。
- () 29. 歷史老師請同學在黑板上寫下宋、明兩代黨爭的比較表（如附表）。請問：表中哪一項內容有誤？

(甲)朝代	明		唐		宋	
(乙)黨爭	牛李黨爭		新舊黨爭		東林黨爭	
(丙)代表	牛黨	牛僧孺	新黨	王安石	東林黨	顧憲成
	李黨	李德裕	舊黨	司馬光	閩黨	魏忠賢
(丁)影響	政治更加惡化		國勢更加衰弱		政局敗壞	

- (A)甲 (B)乙 (C)丙 (D)丁。
- () 30. 科舉制度為中國兩千多年來選拔人才的方式。請問歷代關於實施科舉考試的內容配對，以下哪一配對正確？
 (A)唐—草創科舉 (B)宋代科舉—以四書集注為科舉考試的標準本 (C)元代—採取彌封與謄錄來防弊 (D)明清科舉—以四書、五經為命題範圍。
- () 31. 明清時期商業發達，下列關於明清經濟的敘述何者錯誤？ (A)江西景德鎮是新興手工業的專業市鎮 (B)美洲農作物馬鈴薯、玉米、番薯、早熟稻等傳入中國 (C)大量賺取外商白銀，導致稅收改徵收白銀 (D)明代與清初實施海禁政策，須以進貢的名義才能與中國進行貿易。

() 32. 下圖為清代的四件事，請依照時間順序加以排列。請問：正確的順序是？



(A) 甲丙丁乙 (B) 甲乙丙丁 (C) 丙丁甲乙 (D) 丙甲丁乙。

() 33. 明清時期文化成就頗高，下列關於明清文化的敘述何者正確？ (A)《紅樓夢》為明代著名的小說 (B)《夢溪筆談》內容包括農業、手工業生產技術和操作方法，附並有繪圖 (C)中國庭園建築及四書、五經等傳入歐洲 (D)清高宗禁教，使中西文化交流因此中斷。

公民(第 34-50 題)

() 34. 執政黨為了聆聽地方農漁民心聲，爭取下一屆連任的支持，在各地舉辦公聽會，希望能夠整合出具體方案，協助農漁行銷推廣產品。」根據上述報導，執政黨主要展現了政黨的何種功能？

(A) 匯集民意與服務選民 (B) 提名候選人參與選舉 (C) 組織政府或監督政府 (D) 教育民眾增進民主認知。

() 35. 美雅在社群網站上看到朋友轉載一段影片，在立法院中，有數名不同政黨的立法委員，為了反對法律案通過而霸占主席臺，導致多名立委因為互相推擠、拉扯，而受傷送醫。上述立委的行為，不符合下列何種政黨政治的運作原則？

(A) 依法組成、公平競爭 (B) 國家優先、人民第一 (C) 服從多數、尊重少數 (D) 和平溝通、理性協商。

() 36. 下列關於我國「政黨輪替」的敘述，何者正確？

(A) 我國是經由立委選舉決定是否政黨輪替 (B) 在野黨因施政績效不佳而下台是符合責任政治的作法 (C) 兩次以上的政黨輪替顯示民主政治趨於鞏固 (D) 我國自從解嚴至今已發生兩次政黨輪替。

() 37. 一群理念相近的人們，為了團體的目標能獲得重視與維護，往往會設法向政府或決策者表達意見和反映需求，以達成影響決策者的目的，例如董氏基金會曾經遊說立委修改《菸害防制法》。上述的團體與下列何者屬性相同？

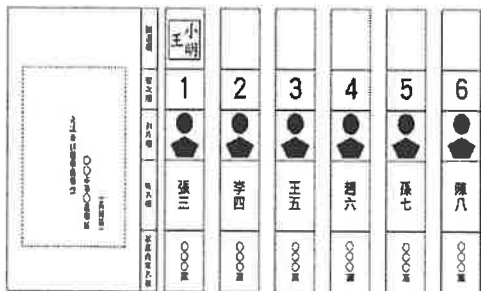
(A) 綠黨提名不分區立委候選人參選 (B) 台灣環境保護聯盟倡議「2020 年永續地球年」 (C) 連鎖便利超商在考場外設置臨時販賣區 (D) 幸福大廈管理委員會舉辦聖誕節聯歡晚會。

() 38. 在君主專制時代欲改朝換代，大多需要透過政變或革命才能達成；但在民主政治時代，則是透過選舉來決定國家的執政者，例如：「美國民主黨取代共和黨」、「日本民主黨終結自民黨執政」。因此，有人以「從打破頭，到數人頭的過程」來形容民主。這句話可凸顯出選舉的何種功能？

(A) 選出公職人員 (B) 影響政府政策 (C) 展現責任政治 (D) 合法取得政權。

() 39. 下圖(一)是我國立委選舉開票時，從投票箱中取出的一張選票。最後，該選票被判定為無效票，因為違反哪一項選舉原則？

(A) 普通 (B) 平等 (C) 直接 (D) 無記名。



圖(一)我國立委選票

- ()48. 根據上述表格判斷，人民第一黨在這次立委選舉總共能獲得幾席立委席次
(A) 20 (B) 38 (C) 58 (D) 60。

◆題組

以下是候選人艾卓斯的競選文宣：

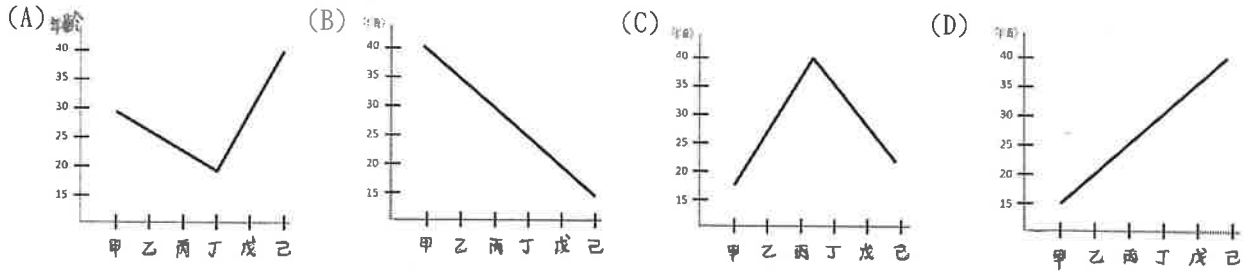
- ◎繁榮地方、刺激經濟：積極改善投資環境，吸引國內外企業投資，使我們在不景氣中仍創造出大量的就業機會。
 - ◎重視教育、在地學習：爭取設立第一所完全中學，讓學子們有在地的升學機會。
 - ◎便民服務、全面e化：落實單一窗口，同時設立網路諮詢e化服務，民眾前來洽公絕對省時又方便。
- 懇請鄉親支持，再給小弟艾卓斯機會，為我們共處的家園共創更美好的明天。

請根據上文回答第49~50題：

- ()49. 艾卓斯應該是在競選下列哪個職位？
(A)新北市貢寮區區長 (B)新竹縣縣長 (C)宜蘭市市議員 (D)立法委員。
- ()50. 艾卓斯有感於社會的政治環境太過腐敗，希望當選後能對國家社會有所貢獻。艾卓斯若順利當選，其任期應為幾年？能連任幾屆？
(A) 4年；連任一次 (B) 4年；連任無限制 (C) 2年；連任一次 (D) 2年；連任無限制。

試題結束

- () 40. (甲)參選基隆市市長 (乙)參選新北市烏來區區長 (丙)參選明誠里里長 (丁)公民投票 (戊)參選屏東縣縣長 (己)參選總統、副總統。我國在公職人員選舉及公民投票上設有年齡限制，若依照甲～己各項最低年齡限制的規定，依序畫出的連接線，最接近下列何者？



- () 41. 新聞報導：「2016 年花蓮市市長於任內因病過世，由於任期未過半，依《地方制度法》規定，必須於三個月內完成補選。」根據上述內容判斷，下列何人能依法參選？
 (A) 信邦：23 歲，大學畢業，父母皆為中華民國籍，且設籍花蓮縣多年。
 (B) 片岡：30 歲，上班族，在花蓮工作多年，時常往返台日的日籍人士。
 (C) 興仁：65 歲，曾擔任花蓮市市民代表，但因涉弊案被判褫奪公權未復權。
 (D) 瓊美：35 歲，父親為花蓮縣縣議員，將戶籍地從台北市遷至花蓮市五個月。
- () 42. 英國於 2018 年 2 月 6 日歡慶女性獲得議會選舉投票權 100 週年，首相梅伊發表談話，強調英國女性爭取男女同等選舉權的得來不易。在 1918 年以前，即使大學畢業的女性，也未能如男性一樣參與選舉，直到立法改革修法後，才允許男女均享投票權。根據上述，1918 年以前的英國選舉，違反了哪一種選舉的原則？
 (A) 普通 (B) 平等 (C) 直接 (D) 無記名。
- () 43. 中華民國消費者文教基金會致力於保障消費者權益，屬於關心公共事務的利益團體。若依據利益團體的分類來看，消費者文教基金會與下列哪一團體的類型相同？
 (A) 台灣團結聯盟 (B) 台灣鐵路工會 (C) 台灣高鐵股份有限公司 (D) 台灣環境保護聯盟。
- () 44. 西元 2016 年我國舉行第 14 屆總統大選和第 9 屆立委選舉，當天投票結束後，投票所立即開票，並由【甲】公布選舉結果。根據上文判斷，【甲】應為下列何者？
 (A) 總統 (B) 司法院院長 (C) 地方選舉委員會 (D) 中央選舉委員會。
- () 45. 以下是佑彤關於政黨制度型態的課堂筆記：
 (甲) 只有一個政黨有權執政，不允許其他政黨競爭，挑戰執政權
 (乙) 沒有任何一個政黨取得國會過多數席次，政黨會合作組成聯合政府
 (丙) 總是由某個大黨長期贏得選舉執政，其他小黨無法與其抗衡
 (丁) 兩個實力相當的主要政黨輪流執政，其他小黨無法與其競爭執政權。
 依據(甲)至(丁)的敘述，依序最有可能為以下那些國家？
 (A) 甲：中國，乙：德國，丙：新加坡，丁：美國 (B) 甲：中國，乙：美國，丙：德國，丁：新加坡
 (C) 甲：美國，乙：德國，丙：中國，丁：新加坡 (D) 甲：中國，乙：德國，丙：美國，丁：新加坡。

◆題組

下表(一)是梅花國最近一次立法院選舉結果。已知梅花國的立法院一共 150 席，其中區域立委 100 席，全國不分區立委 50 席。根據上述內容和表格，回答第 46-48 題：

政黨	人民第一黨	國家進步黨	人民團結黨	綠色環保聯盟
區域立委席次	38	52	8	2
政黨得票率(%)	40%	51%	6%	3%

表(一)梅花國立委選舉結果

- () 46. 假設梅花國選舉採用我國的「單一選區兩票制」，這是指下列何種方式？
 (A) 全國一個選區，選民可以投兩票選出兩位立法委員 (B) 全國分成多個選區，選民在每一個選區都可以投兩票選兩名立委
 (C) 全國分成多個選區和全國一選區兩種，選民其中一票在所屬選區內選出一位立法委員，另一票為全國一選區選政黨 (D) 全國分成多個選區和全國一選區兩種，選民其中一票在所屬選區內選出一位立法委員，另一票為全國一選區也選一位立委。
- () 47. 假設梅花國的立委選舉制度與我國相同，根據表格判斷能分配到席次的政黨有幾個？
 (A) 4 (B) 3 (C) 2 (D) 1。

108 學年度第一學期八年級第三次段考社會科試題答案

答案：(1~16 題地理；17~33 題歷史；34~50 題公民)

1	2	3	4	5	6	7	8	9	10
C	D	D	B	B	D	A	B	B	C
11	12	13	14	15	16	17	18	19	20
A	C	C	A	D	B	A	A	D	B
21	22	23	24	25	26	27	28	29	30
B	C	D	C	B	D	A	D	A	D
31	32	33	34	35	36	37	38	39	40
B	C	C	A	D	C	B	D	D	A
41	42	43	44	45	46	47	48	49	50
D	A	D	D	A	C	B	C	B	A

