

科目：社會

適用班級：701-707

□高中部

■國中

(1)班級、座號如為 0-9，十位請劃記『0』；班級、座號為 10、20、30...個位請劃記『0』

班級：

姓名：

座號：

一、單選題：(每題 2 分，共 50 題，總分 100 分)

地理(第 1~17 題)

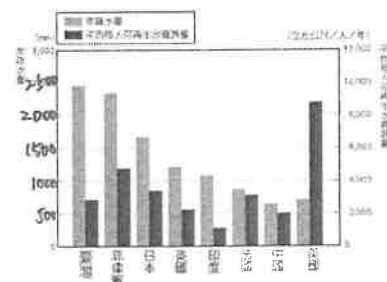
1. () 中央氣象局於 2018 年 6 月 15 日起，每日針對隔日可能發生 36°C 以上高溫的地區發布「高溫資訊」，以紅、橙、黃三種燈號來提醒民眾多加留意，而臺灣高溫常發生的區域如右圖所列。其中，影響臺北盆地出現高溫的因素最可能為下列何者？

臺灣高溫常發生的區域：

- 臺北盆地
- 屏東地區
- 花東縱谷
- 中彰及雲嘉近山區
- 臺南、高雄近山區

- (A) 緯度較高 (B) 地形封閉 (C) 距海較遠 (D) 背盛行季風。

2. () 右圖為臺灣與其他國家的降水量及可再生水資源量的比較圖，請問臺灣與其他國家平均每人可再生水資源相較的情況，與下列何項臺灣的環境特色關係最密切？



- (A) 降水量多、氣候溼潤
(B) 降水時、空分布不均
(C) 地小人稠、人口密度高
(D) 經濟發達、用水需求量大。

◎這學期的音樂課，谷鴻老師教唱的歌曲中有一段歌詞「陽光 沙灘 海浪 仙人掌 還有一位老船長」，其中「仙人掌」為早期荷蘭人佔據當地時，為了防禦工事而引進栽種。現在成為當地相當具有代表性的植物，近年配合觀光研發出仙人掌冰、仙人掌果茶、仙人掌酥……等各式各樣的特色美食、菜肴。請問第 3、4 題：

3. () 仙人掌成長於沿海沙礫地，生長的過程伴隨強勁的海風與乾燥氣候。請問下列哪一個地區的環境特徵最適合仙人掌生長？
(A) 花蓮七星潭 (B) 高雄西子灣 (C) 基隆八斗子 (D) 澎湖桶盤嶼。
4. () 當地有強勁海風、乾燥氣候的環境，並為全臺降水最少的地區，主要原因為何？
(A) 地勢較低 (B) 背盛行風 (C) 緯度較高 (D) 蒸發較強。

◎國文課時，慧文老師介紹洪醒夫這位本土小說家的作品及生平，請問第 5、6 題：

➢ 母親摺船給孩子，讓孩子在雨天裡也有笑聲，……，也許那雨一下就是十天半月，農作物都有被淋壞、被淹死的可能，母親心裡正掛記這些事，煩亂憂愁不堪，但她仍然平靜和氣的為孩子摺船，……」

節錄自洪醒夫〈紙船印象〉

➢ 「1982 年 7 月 31 日凌晨，……，風雨交加之際，一輛計程車從台中市沿著幹道往豐原方向開去，以 140 公里時速飛撞電線桿翻覆肇事，乘客及司機被彈出車外分別受輕重傷，其中正值創作壯年的小說家洪醒夫被送往醫院急救因傷重而棄世，……」

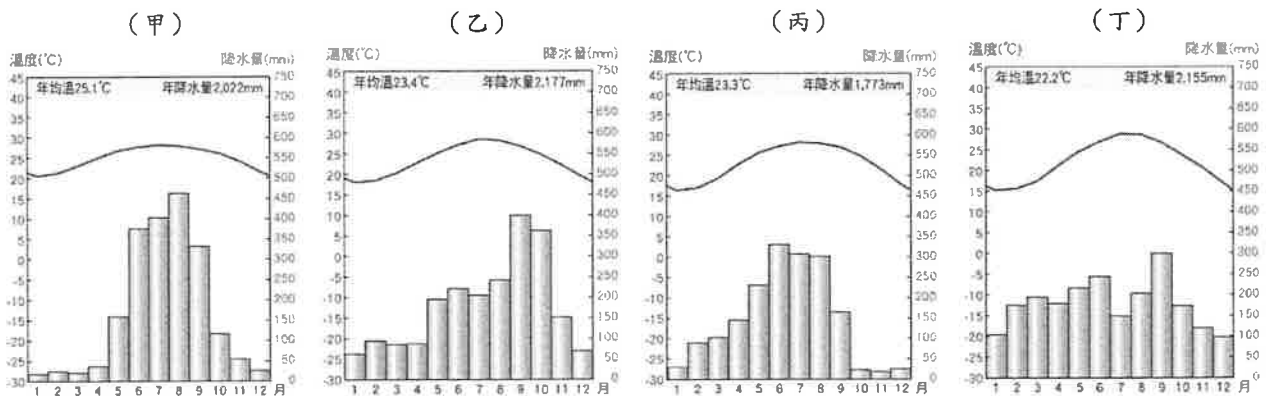
節錄自高天生《洪醒夫集》

5. () 「那雨一下就是十天半月」這種雨較符合下列何種降水類型的特徵？



6. () 作家洪醒夫1982年7月31日在一場交通事故中不幸罹難，根據《洪醒夫集》的敘述，當時風雨交加的狀況，可能是因為臺灣正遭逢下列何種氣候災害？
 (A)寒流 (B)乾旱 (C)梅雨 (D)颱風。

◎地理老師將課本上第5課的4張氣候圖複製到這次段考的試卷上，如下圖甲、乙、丙、丁，請問第7、8題：



7. () 以上4張氣候圖，若依照淡水、花蓮、臺中、恆春這4個氣象站的順序排列，依序為何？
 (A)甲丙乙丁 (B)乙甲丁丙 (C)丙丁甲乙 (D)丁乙丙甲。
8. () 由圖中資料判斷，這4張氣候圖，年溫差最大的是哪一個？
 (A)甲 (B)乙 (C)丙 (D)丁。

◎臺灣本島迄民國104年底止已設立水庫計有66座，近年暴雨頻率增加，造成水庫淤積惡化，蓄水力減弱。下列幾次氣候災害，對用水靠水庫的臺灣來說，缺水困境更是近在眼前，請問第9~12題：

1996 賀伯、1998 瑞伯颱風導致翡翠水庫淤積量增加 500 萬立方公尺。
 2004 艾利、2005 馬莎颱風造成土石崩塌，導致石門水庫淤積量增加 3000 萬立方公尺，水庫容量減少超過 9%。
 2008 辛樂克颱風重創南投，廬山溫泉從此沒落。
 2009 莫拉克颱風，造成南部曾文與南化水庫泥砂淤積量，暴增超過 1 億立方公尺。
 2015 蘇迪勒颱風造成全台河川泥砂量飆高，高雄工業區無水可取，大台北自來水變黃濁。
 然而這些事件都影響了臺灣水庫的有效容量，30 年蓋 4 座水庫，也難以搶救臺灣水情。

9. () 為了取得最純淨的水質，水庫最適合興建於河川的哪一個河段？
 (A)上游 (B)下游 (C)河口 (D)源頭
10. () 為解決臺灣水資源短缺的潛在危機，下列哪一項作法較無法有效涵養水資源、達成水資源的保育及永續利用？
 (A)加強邊坡坍方整治 (B)提高自來水費，以價制量
 (C)減少地面人工覆蓋物的面積 (D)地下水抽取量避免超出補注量。
11. () 受氣候特徵及人文活動影響，臺灣除依賴水庫蓄水，保有穩定的用水來源，亦抽取地下水作為輔助水源的地區為何？
 (A)東北部 (B)西南部 (C)西北部 (D)東南部。
12. () 「民國104年臺灣面臨68年來最嚴重的旱災，水利署破天荒在水情最糟的新北板新及桃苗地區，夜間減壓供水措施每天延長2小時，也備妥九縣市426萬戶停水計劃；如旱象未解，將啟動分區限水，最嚴重為停水二天、供水二天。」請問：臺灣每年在某一時期容易發生因為長時間連續不降雨而出現的「乾旱」現象；因此，此則新聞發生的時間最可能為下列何者？
 (A)3-4月 (B)6-7月 (C)9-10月 (D)12-1月間。

仔細檢查，把握時間。
 魔鬼藏在細節裡，祝各位同學考試順利！

◎子堯老師於 108 年 11 月 15 日帶領學校萬芳高中的同學在下圖的河濱自行車道進行戶外課程。請問第 13~17 題：

13. () 活動進行前，老師擔心活動受到天氣不穩定影響，另外規劃了雨天備案，請問：當時天氣不穩定最可能是受下列哪一項因素影響？

- (A)梅雨鋒面滯留 (B)輕度颱風來襲
(C)東北季風增強 (D)午後對流旺盛。




14. () 近年來，因經濟發展及生活水準提高，民眾對河濱公園之使用需求相對提升，因此水利處在河濱打造豐富的河川生態及完善的休閒設施，成為民眾親水、休閒、運動熱門景點，使河濱公園成為臺北市最大的後花園。請問：本次戶外課程的地點屬於下列哪一河流域的河濱公園？

- (A)濁水溪 (B)高屏溪 (C)淡水河 (D)景美溪。

15. () 課程活動中，老師讓同學分組在河濱公園放風箏，可凡這組的風箏在空中飛行的狀況如右圖，由此判斷當時的風向最可能為下列何者？

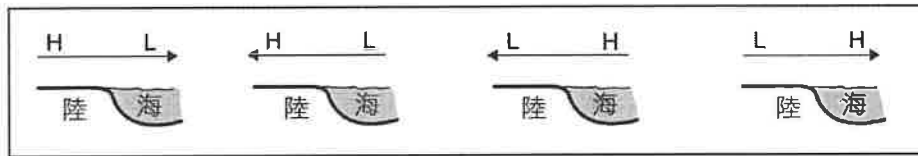
- (A)東北風 (B)西南風 (C)西北風 (D)東南風。



◎臺灣所在的季風氣候區，降水多來自於海上的潮溼氣流，受盛行季風吹送到陸地後，遇到山地沿地勢抬升，水氣凝結成雲致雨。請問第 16、17 題：

16. () 圖上→代表空氣水平流動的方向，下圖何者較符合臺灣雨季的盛行季風帶來降水的情況？

- (A) (B) (C) (D)



17. () 下列各種降水類型，何者較符合臺灣的盛行季風帶來降水的特徵？



歷史(第 18~34 題)

18. () 臺灣有些地名的命名與拓墾有關。請問台南「七股鄉」的命名與下列何者有關？

- (A)拓墾戶數 (B)開墾面積(C)合資人數 (D)拓墾順序。

19. () 「清朝道光年間，某人出任鳳山縣令時，見水路不佳，逢旱災時，農作欠收，百姓苦不堪言，甚至有些淪為盜匪。他親至田野間巡視，發現可從九曲堂引高屏溪水灌溉田地，遂遊說地方仕紳捐地出錢，召集年輕壯士掘地建埤，引水開渠，全長 130 多公里，四年共計修築九十條圳道，使鳳山的旱田從此變成適合耕作的水田，改善大高雄地區農民生計。」請問：根據上文中所述的「開渠」指的是興建哪一水利設施？

- (A)瑠公圳 (B)八堡圳 (C)貓霧揀圳 (D)曹公圳。

20. () 清朝統治時期，臺灣曾出現一種稱為「郊」的組織，依其性質推斷，這種組織較少分布在右圖中何處？

- (A)甲 (B)乙 (C)丙 (D)丁。

21. () 臺灣與中國的對渡港口配對，下列何者正確？

- (A)蚶江——鹿耳門
(B)五虎門——八里坌
(C)廈門——鹿港
(D)晉江——艋舺。

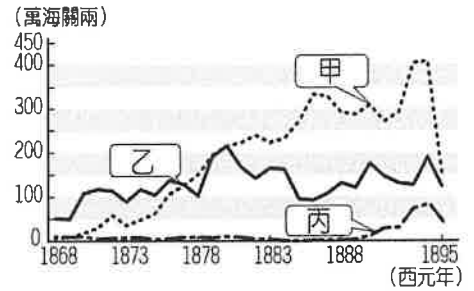


22. () 彼得是一位來華貿易的英國商人，當他聽說臺灣開放給外國人為通商口岸時，即想來臺進行貿易。請問：彼得能夠在臺灣貿易，與下列哪場戰役有關？

(A)甲午戰爭 (B)英法聯軍 (C)清法戰爭 (D)牡丹社事件。

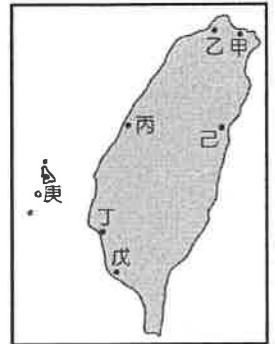
23. () 右圖是 1856-1895 年臺灣三項重要物產出口價值統計，請問根據此圖表，下列哪位同學說法正確？

(A)又恩：甲、乙、丙物產分別是樟腦、茶葉、蔗糖
(B)子翔：甲、乙物產的產地在台灣中、北部
(C)安潔：丙物產主要由淡水出口
(D)浩慶：此時臺灣經濟重心是在南部。



24. () 右上附圖是清領時期的臺灣，請問 19 世紀中葉，清廷被迫在臺灣首先開放通商的港口，除了「丁港」外，尚有哪些三個港口？

(A)甲、乙、戊
(B)甲、戊、己
(C)乙、丙、戊
(D)乙、丙、己。



25. () 附表是千毅在準備臺灣歷史段考時，所做的清帝國經濟資料整理的表格，根據表中資料所示，以及課堂所學的歷史知識，請判斷下列敘述哪些**錯誤**？「甲」商品是指茶、樟腦、糖；「乙」商品是指米、糖、鹿皮；「丁」港口為雞籠、淡水、安平、打狗；「戊」港口是府城、鹿港、艋舺。

項目	前期	後期
貿易對象	中國大陸	世界各地
主要出口商品	甲	乙
主要進口商品	紡織品	丙
商業組織	郊	洋行
重要港口	丁	戊

(A)甲乙丁戊 (B)乙丁戊 (C)甲乙 (D)丁戊。

26. () 清帝國時期臺灣民間的武力衝突頻繁，下列何者不是閩、粵械鬥與漳、泉械鬥分類的依據？

(A)商業利益 (B)宗教 (C)祖籍 (D)姓氏。

27. () 清領前期，臺灣發生反抗官府的民變的主要因素有哪些？(甲)徵收重稅 (乙)男女比例失衡 (丙)秘密結盟盛行 (丁)官員貪汙腐敗

(A)甲乙 (B)丙丁 (C)乙丙丁 (D)甲乙丙丁。

28. () 嘉義舊名諸羅，因乾隆年間，發生哪一場民變，當地民眾堅守城池，皇帝為「嘉其忠義」而將地名改為嘉義？

(A)朱一貴事件 (B)林爽文事件 (C)郭懷一事件 (D)戴潮春事件。

29. () 翔瀚看到臺灣史書上記載：「清領時期，具有血緣關係的同姓族人，通常會共同祭祀渡臺的第一代祖先或其後代。」上文所述為下列何者？

(A)開臺祖 (B)唐山祖 (C)阿立祖 (D)開山祖。

30. () 他設立理學堂大書院以及臺灣第一所女子學校——淡水女學堂，並一面為病患拔牙治病，一面傳教，故有「一手執鉗，一手執聖經」的說法。上文敘述的是何人的貢獻？

(A)馬偕 (B)甘為霖 (C)蘭大衛 (D)馬雅各。

31. () 在臺灣到處可見教堂與禮拜堂，足見受外來宗教影響頗深，關於這些外來宗教傳入臺灣的敘述，何者**錯誤**？

(A)傳教士導入新式教育，並首先創辦臺灣女子學校
(B)西方宗教在臺灣傳播較廣的是基督教長老教會
(C)傳教士傳入西方醫學，看西街醫館是臺灣第一間西式醫院
(D)清代開港通商後，傳教士首度來臺灣傳教。

32. () 諺語：「有唐山公，無唐山媽。」請問這一句諺語與清代實施哪一政策有關？

(A)畫界封山 (B)開港通商 (C)渡臺禁令 (D)海禁政策。



33. () 右圖是士泓自製的清代平埔族群遷徙圖，圖中的哪一條遷徙路線錯誤？(A)甲 (B)乙 (C)丙 (D)丁。

◆請閱讀以下三段資料，回答第 34 題：

資料一：高雄市內門區木柵里的里居民逾半是平埔族人，其姓氏為「力、東、蘭、買、兵、蒙、及、机、雞、姬」等。這些平埔族群的姓氏源自清乾隆三十三年時，台南新化發生黃教之亂，西拉雅族人因平亂有功，遷移到高雄的木柵里一帶定居，朝廷還依西拉雅族語發言，給每一家賜姓，如西拉雅姓氏「大里梛」就被改為漢姓「戴」，其他罕見姓氏也都是這樣產生的。

資料二：黃叔燾是清朝第一任的巡臺御史，於西元 1722 年來臺，在其著作《臺海使槎錄》裡的〈番俗雜記〉裡有一段文字：「社裡的番民不能說漢語，凡是繳糧、辦事都由漢人通事來處理。因而一些奸惡的通事就認為番民可以欺侮，把番社裡的所有東西都當成自己的東西，或者藉一些理由要錢，剝削番民永不知足，招來男女小孩服勞役，簡直把他們當成奴隸，甚至賣了他們；或者娶了番女為妻妾，導致番民到老都娶不到老婆，各社的人口就日漸減少。」

資料三：地方志上「埔里開發簡史」的記載：「埔里地處臺灣地理中心，為一層山巒疊翠的盆地，居南投縣中央偏北，其後原住民族群泰雅族、布農族、邵族即盤據埔里盆地與魚池、日月潭地區。……嘉慶 21 年（西元 1816 年），臺灣總兵巡閱臺灣北部，……於通往水沙連之二條主要道路設立禁碑，一處位於濁水溪河谷前往水沙連入口處的集集設立『嚴禁不容奸人，再入者斬』，一處位於烏溪河谷進入水沙連之路口，設立『原作生番屬，不造漢民巢』（寧見原住民在此繼續是『化外生番』，也不讓埔里成為漢人造反作亂的『賊窩』）」之石碑。

34. () 請從以上這三段史料說明，來判斷下列敘述何者正確？
- (A)資料一為清廷頒佈海禁政策，使原住民與漢人通婚，被漢人同化
 - (B)資料二為清廷實施開山撫番政策，導致原住民男子娶妻困難
 - (C)資料三顯示清廷在實施劃界封山的政策後，漢人仍不斷越過番界開墾
 - (D)資料一～資料三所出現的社會現象，皆發生在開港通商之後。

公民(第 35~50 題)

35. () 皮卡在報紙專欄上看到【被譽為「臺版蘇珊大嬸」的林育群從小學就參加合唱團，能模仿女高音演唱高難度的歌曲。就讀五專期間，他第一次參加歌唱比賽，肯定了自己歌唱的天分，從此立志往這條路前進。西元 2010 年，他在歌唱比賽節目中一炮而紅，甚至受邀到美國表演。】請問：他的故事展現出下列何種歷程？
- (A)追求適性學習 (B)發掘潛能 (C)參與公共事務 (D)培養人際互動。
36. () 「霸凌」一詞來自於英語 Bullying，意指有意圖的攻擊性行為，通常伴隨著長期發生與力量不對等的特性，包含身體攻擊或精神上的欺凌。霸凌的加害者可以是個人，也可以是群體。請問：以下哪一情況屬於校園中的霸凌現象？
- (A)午餐時間，小美總是搶小玉餐盒裡的雞腿
 - (B)阿呆經常沒寫作業，老師每次都罰阿呆跑操場 20 圈
 - (C)小夫跟大雄都想約靜香出去玩，兩人一言不合大打出手
 - (D)小夫不小心撞壞了靜香心愛的鉛筆盒，靜香一怒之下大罵小夫 20 分鐘。
37. () 校園霸凌是近年來最被社會大眾關注的議題之一，意指「發生在力量不對等學生間的一種有意圖的攻擊性行為」，其可以區分為六種類型。請問：下列何者屬於「關係霸凌」？
- (A)小安用偶像明星簽名照來吸引同學，要求大家不准接近大寶
 - (B)大寶趁阿明不注意時，從後方將他的褲子脫下來
 - (C)阿明因考試不理想，便把華華拉到廁所揍他消氣
 - (D)華華看到小安考試零分，便不斷嘲笑小安是白痴。
38. () 巧寧發現好友昀慕近期上課經常發呆，不知是不是與昀慕前幾週收到的信件有關，因此決定偷看信件內容來了解昀慕的煩惱到底為何。巧寧做出的行為是否恰當？
- (A)恰當，基於關心，只要昀慕沒有發現，就不算違法
 - (B)恰當，關心同學是否正常學習，是同學間應盡的責任
 - (C)不恰當，不管關係為何，未經他人同意，皆算侵犯他人的學習權
 - (D)不恰當，每個人保有如何行使自己物品的權利，不宜任意翻動。

39. () 七年一班正在討論寒假班遊要去哪裡，有人提議用校慶園遊會擺攤的收入補助大家出遊的費用，因此希望校慶園遊會時班上能多規畫一些高利潤的商品，其他同學聽了也紛紛提出自己認為能賺錢的建議。根據會議進行的正常程序，此時同學們該做什麼最為適當？
 (A)集思廣益踴躍發言，為園遊會規畫凝聚出最好的共識
 (B)提出秩序問題，請主席約束無關班遊地點的發言
 (C)提出權宜問題，將討論主題轉換為園遊會規畫
 (D)提出臨時動議，請大家繼續討論期末班遊。
40. () 洵鉸很開心的擔任萬芳國中班級會議的主席，卻也很緊張。以下是他撰寫的主席職權，但由於他過於緊張，不小心將其他人員的執掌也寫下來了。其中何者不屬於主席的職權？
 (A)宣布會議與開會目的 (B)將會議討論內容記錄下來 (C)裁示權宜問題與秩序問題 (D)宣布散會。
41. () 七年三班在班會上討論班級旅遊地點，班上同學提出了三個地方，經過附議後，這時應該如何表決？
 (A)先提名先表決 (B)後提名先表決 (C)由老師決定 (D)由主席裁定。
42. () 當會議進行時，會場發生大聲喧嘩、鼓譟的狀況，造成現場秩序混亂，此時益安可以向主席提出下列何者？ (A)臨時動議 (B)權宜問題 (C)秩序問題 (D)連署。
43. () 萬芳國中 709 班正在開班會，當「討論事項」結束後，愷佑舉手發言，提議設置「班級圖書館」，以提升讀書風氣。上述愷佑的提議，屬於下列何種程序？
 (A)秩序問題 (B)臨時動議 (C)權宜問題 (D)偶發動議。
44. () 公民課時老師提到【同學可以透過學生自治的方式，討論公共事務，培養為眾人服務的熱忱。】下列何項事務可經由學生自治來決定？ (A)教務主任的聘用 (B)科任老師的薪資 (C)學生成績的評量 (D)班級幹部的人選。
45. () 彥廷想成立桌遊社，因此列出三項實施步驟：(甲)訂定桌遊社組織章程 (乙)舉辦說書人等各項桌遊比賽 (丙)向學務處報備成立桌遊社。依據學生自治的實施步驟，正確順序應為下列何者？
 (A)甲乙丙 (B)甲丙乙 (C)丙乙甲 (D)丙甲乙。
46. () 宜美看到參考書中寫到：「某一社區的居民，對該社區的一種心理認同及休戚與共的感受，常是居民解決社區危機，或推動社區發展時，驅使居民團結的力量。」請問她在看的這句話是在描述以下何者？
 (A)居民 (B)地區 (C)社區意識 (D)社區組織。
47. () 下列何種方式可以凝聚居民的認同感？
 (A)大樓住戶為了一樓住戶發出的噪音而大吵一架 (B)居民為了社區的公共問題而定期集會、商討解決之道 (C)各人自掃門前雪，不管他人瓦上霜 (D)每天提著自己家的垃圾和回收資源交給清潔隊員。
48. () 昀珊的期末報告介紹了小米收穫祭、射耳祭、共工共享精神等內容，請問：下列何者較可能為其報告的主題？ (A)社區組織 (B)閩南族群 (C)客家族群 (D)原住民部落。
49. () 幸矜發現旅遊雜誌裡面寫到【新竹縣尖石鄉司馬庫斯部落號稱「上帝的部落」，發展出參訪巨大神木、參觀水蜜桃園區、觀光民宿和手工藝品等觀光特色。他們和每戶族人立下傳統的誓約，讓土地由部落集體使用，不得引進財團或變賣土地，並透過 來共同決定部落的未來發展，是一個實施自治的典範。】其中空格處應該是何者？
 (A)愛鄉協會 (B)文史工作室 (C)長老會議 (D)部落議會。
50. () 以往經常有將「部落」認定為「社區」的說法，但原住民族並不認同這樣的看法，關於部落的特殊性，下列敘述何者為非？
 (A)部落是原住民族的生活中心 (B)部落是原住民族的自治組織
 (C)部落無須經中央主管機關核定 (D)部落凝聚原住民族的情感。

恭喜完成本卷，認真檢查的你有一個美好的寒假！

1081 學年度七年及第二次段考社會科試題答案

答案：(1~16 題地理；17~33 題歷史；34~50 題公民)

1	2	3	4	5	6	7	8	9	10
B	C	D	A	C	D	D	D	A	B
11	12	13	14	15	16	17	18	19	20
B	A	C	C	A	C	A	C	D	D
21	22	23	24	25	26	27	28	29	30
B	B	C	A	A	B	C	B	A	A
31	32	33	34	35	36	37	38	39	40
D	C	D	C	B	A	A	D	B	B
41	42	43	44	45	46	47	48	49	50
A	B	B	D	D	C	B	D	D	C