



班級：_____ 座號：_____ 姓名：_____

共有 50 題，每題 2 分，共計 100 分

01. 下列關於「童工」的敘述，何者正確？ (A)童工的工作權益規定於《兒童及少年福利與權益保障法》
(B)童工是指 15~18 歲之間，受雇從事工作者 (C)晚間 8 點到早上 6 點之間不得讓童工工作 (D)逼不得已讓童工加班時，須給予雙倍薪資。

02. 花媽媽在多方比較各項理財工具的利弊與風險之後，選擇了投資債券。下列對債券的敘述，何者正確？
(A)是透過買賣外國貨幣，賺取匯率變動的差價
(B)由專業經理人管理操作，投資人共同承擔利潤與虧損 (C)是企業或政府為籌募資金而發行的借款憑證 (D)是企業為募集資金而按股份發給投資人的有價證券。

03. 求職廣告中常常隱藏陷阱，就讀大一的小東想利用寒假打工，請你幫他看看，下列哪項工作機會可能藏有求職陷阱？ (A)甲 (B)乙 (C)丙 (D)丁。

(A)	加油員：待遇優，享勞保，大夜班薪資加倍。
(B)	送外遞：無經驗可，跑台北市每趟 3000 元。
(C)	服務生：國中畢業，須支援廚房工作調度。
(D)	作業員：吃苦耐勞，三班制，須配合排班。

04. 前幾年有則新聞報導：「對於外界批評中央銀行(簡稱央行)的政策導致臺灣產業無法升級，總裁彭淮南特地澄清說明。」下列何者最有可能是央行總裁所說的話？ (A)負責保管國家的黃金與外匯 (B)獲取利潤是央行的主要目的 (C)會適度控制貨幣的需求量 (D)接受民間企業開立存款專戶。

05. 在臺灣，下列各項產品之價格，由「有形的手」決定的是？ (A)手機的通話費率 (B)路邊停車格的費率 (C)國際石油的價格 (D)珍珠奶茶的價格。

06. 市場可分為「有形市場」以及「無形市場」。

請問附表中有哪項項目屬於「無形市場」？

- (A)甲乙 (B)丙丁
(C)丁戊 (D)甲丙丁。

- (甲)路邊攤
(乙) 8-12 超商
(丙)電視購物
(丁)股票市場
(戊)百貨公司特賣會

07. 西元 2017 年上半年，臺灣傳出雞蛋遭到重金屬污染的新聞，民眾當時「聞蛋色變」，連帶影響雞蛋在市場上的供需狀況，請問：當時的雞蛋市場最可能出現下列哪一種現象？ (A)雞蛋供給增加，導致供過於求 (B)供不應求，導致雞蛋價格上漲 (C)雞蛋的需求增加，導致供不應求 (D)雞蛋價格下跌，廠商因而減少供給。

08. 翔翔在網站上看到「『陳偉殷 M L B 初登板限量親筆簽名球』，每顆售價新台幣 6,280 元。每顆陳偉殷親筆簽名都經由美國 STEINER SPORTS 官方授權認證，隨附官方認證卡及雷射認證標籤於棒球及包裝盒上」。由上述文字可知貨幣具有何種功能？ (A)交易媒介 (B)價值衡量 (C)價值儲存 (D)債務清償。

09. 政府未能控制市場中的貨幣數量，而長期大量印製鈔票，其結果將會如何？ (A)物價不斷上漲，消費者減少商品需求 (B)市場供過於求，生產者減少商品供給 (C)預期物價上漲，消費者搶購、囤積商品 (D)人民擁有的貨幣變多，財富迅速累積。

10. 下列何人處於失業狀態？ (A)生了一場大病，必須臥床休養的吳雙 (B)辭職後廣投履歷，還沒得到回訊的佳佳 (C)畢業後，整日待在房間裡打電動的允浩 (D)工廠倒閉，靠著打零工維生的卡司。

11. 勞動部勞動力發展署推出「台灣就業通」，提供民眾各種職業訓練的資訊與課程，以獲得專業技能或培養第二專長。勞動力發展署的此項作為，是為了幫助缺乏何種就業要素的民眾就業？ (A)缺乏求職行動者 (B)缺乏工作意願者 (C)沒有工作需要者 (D)缺乏特定工作能力者。

12. 為達成經濟目標，許多民眾會從事家庭經濟規畫。根據附圖對話內容判斷，下列何者符合綺鶯的建議？ (A)購買符合需求的保險 (B)兼差或打工增加收入 (C)養成固定儲蓄的習慣 (D)購物時應該量入為出。



13. 「某歐洲國家的政府為了籌資足夠紓困資金，避免銀行倒閉，計畫課徵存款稅，存款在 10 萬歐元以下存款戶，課稅稅率為 6.75%，超過 10 萬歐元者，稅率 9.9%。消息一出，導致國內民眾恐慌，紛紛湧至銀行提領存款。」上文所顯示的意義，應該是下列何者？ (A)銀行存款的投資風險最高 (B)任何理財工具都有風險存在 (C)資金集中可以降低投資風險 (D)投資報酬越高，風險越大。

14. 下列是流川風整理的貨幣重點，但迷糊的他有些地方弄錯了，請你幫他找出正確的重點。(甲)政府可以透過控制貨幣數量，來維持物價穩定 (乙)貨幣印製得越精美，就越能提升貨幣的價值 (丙)通貨膨脹時，人民對於本國貨幣將失去信心 (丁)顧客用大量零錢購買高價物品，店家有權拒收。正確的是 (A)甲丙 (B)乙丙 (C)甲丁 (D)乙丁。

15. 附表中有關我國目前「失業給付」的相關敘述，正確的是？

法律依據	《勞動基準法》
給付對象	所有失業者
給付期限	原則上以一年為限
立法目的	維持失業者基本生活，並輔導其儘速就業

- (A) 法律依據
- (B) 給付對象
- (C) 給付期限
- (D) 立法目的。

16. 江江國新聞報導：「政府一連串打房措施，似乎收到了成效，國內在 1 至 9 月份的房屋交易量，明顯減少，顯示房市逐漸退燒。而 10 月份的房屋交易量，比起前兩個月則有明顯回升。房仲業表示，「屋主降價」是成交量增加的主因，賣方有賺就賣的心態讓 10 月買氣回溫。」下列關於江江國的敘述，何者正確？

- (A) 江江國實施計畫經濟體制
 - (B) 屋主降價，使得供給增加，交易量增加
 - (C) 屋主降價是因為供不應求
 - (D) 房屋價格高低，是由市場供需決定。
17. 投資行為在目前社會非常普遍，下列四種對於「投資行為」的說法，何者最正確？
- (A) 賺錢機會稍縱即逝，必要時應借錢籌措投資資金
 - (B) 高風險高報酬，投資高風險的理財工具，賺得更多
 - (C) 銀行利率低，將存款都拿來投資，可以更快累積財富
 - (D) 所有理財工具，即使長期持有，也未必穩賺不賠。

18. 根據 2018 年瑞士洛桑管理學院 (IMD) 公布世界人才報告，台灣排名下滑四名，主要原因在於人才外流問題嚴重。在海外就業的人士受訪時表示，「國內的薪資水準太低，無法符合他們的期待，想回台工作也回不來了」。受訪者的說法，可以用來何種經濟概念？

- (A) 比較利益原則
- (B) 需求法則
- (C) 分散風險原則
- (D) 供給法則。

19. 右表是神機妙算投資公司的兩位理財專員，幫客戶進行股票以及外幣存款的投資操作之投資報酬率狀況。

	股票	外幣存款
大平	30%	12%
小強	18%	27%

請問：在其他條件不變的情況下，依據表格數據以及經濟學的相關原理，下列敘述何者正確？

- (A) 表中兩項理財工具的投資風險比存款還低
- (B) 大平應該幫客戶專門投資股票商品
- (C) 小強幫客戶投資外幣存款的機會成本較大
- (D) 不管投資金額多少，大平的客戶投資股票的獲利金額會高於外幣存款。

20. 玲玲在報紙上看到以下這則新聞報導—「今年的水果特別貴，主要是受到食安問題的影響，讓新鮮水果的消費市場特別熱絡。但是卻讓賣果汁的老闆大嘆，現在賣檸檬汁根本是做白工，沒有利潤。」根據新聞內容推論，下列敘述何者正確？

- (A) 新鮮水果的供給減少，導致檸檬價格上漲
- (B) 水果價格持續上漲，

果農應會增加供給量 (C) 水果漲價，果汁的銷售數量會隨之增加 (D) 檸檬汁的價格便宜，顯示檸檬汁供不應求。

21. 公民課上完「貨幣」章節後，幾位同學討論相關的內容，其中何者的說法「不正確」？

- (A) 正大：「最早的交易方式是『以物易物』，但是耗時又費力。」
- (B) 光明：「本身具有一定價值的物品，才能作為『商品貨幣』。」
- (C) 高風：「法定貨幣是政府以法令強制規定某物品當成支付的工具。」
- (D) 亮傑：「美金是國際貨幣，在各國使用，商家不得拒收。」

22. 附表是近年來叮嚀國的消費物價指數統計表，該指數反映人民的生活成本，也就是人民購買某物品所需支付的貨幣多寡。根據表中內容判斷，下列哪一項敘述最能說明叮嚀國的經濟現象？

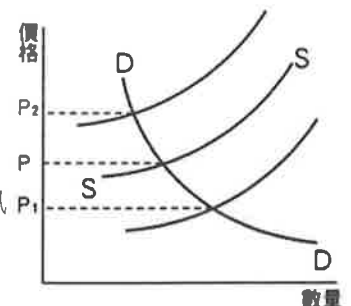
年度 (西元)	物價指數
2012	100
2013	100.2
2014	100.8
2015	180
2016	220
2017	550

- (A) 經濟成長、所得增加
 - (B) 貨幣的價值不斷貶值
 - (C) 人民的消費能力增加
 - (D) 儲蓄的意願逐漸提高。
23. 遠得要命王國沒有民營的企業，市場的一切運作是依據政府政策。根據上述內容判斷，有關遠得要命王國的經濟制度，下列敘述何者正確？
- (A) 該國採取自由經濟制度
 - (B) 沒有人買的東西，就不會有人賣
 - (C) 價格是由「無形的手」決定
 - (D) 供需無法平衡，導致資源浪費。

24. 附表是理財工具的比較表，表中敘述正確的選項是？

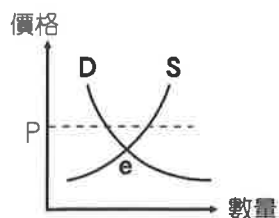
	股票	債券	基金
(A) 投資屬性	積極	保守	穩健
(B) 風險	中	低	高
(C) 獲利	不固定	固定	固定
(D) 報酬	適中	較低	最高

25. 附圖是國內高麗菜市場的供需曲線圖，在其他條件不變下，若僅依選項敘述判斷，下列有關高麗菜市場價格變化的敘述，何者正確？



- (A) 颱風過後，高麗菜受損嚴重，市場供不應求，價格會由 P 移往 P1
- (B) 農民在颱風到前就提早採收，市場供應量大增，價格會由 P 移往 P2
- (C) 農民見有利可圖，搶種高麗菜，造成供過於求，價格會由 P 移往 P1
- (D) 政府為保障消費者，釋出大量庫存的高麗菜時，價格會由 P 移往 P2。

- 26.「李媽媽在菜市場附近擺了一個挽面攤位，一捆線、一包白粉，再加上 2 張椅子，簡單工具就可以開工。美容 40 分鐘只要 200 元，吸引了愛嘗鮮的梅月上門光顧。」關於以上的敘述，下列何者正確？
 (甲)挽面攤位沒有固定店面，所以是「無形市場」
 (乙)就交易內容來說，挽面攤位屬於「商品市場」
 (丙)挽面的價格是由李媽媽決定
 (丁)200 元是梅月的消費支出。正確的是
 (A)甲丙 (B)乙丁 (C)甲乙丙 (D)乙丙丁。
- 27.在一次聚會中，曾欣跟爵晴談到理財的話題，曾欣說：「去年年初股市看漲，我跟著人家買股票，結果股市一路跌，害我賠了一大筆。」爵晴說：「聽說開早餐店的利潤很高，可是我投資的卻倒閉了，本錢只拿回一半」根據上述內容判斷，兩人在投資理財時都忽略了下列哪一種觀念？ (A)評估投資風險 (B)開源節流並重 (C)分散投資風險 (D)投資量力而為。
- 28.現代人透過使用貨幣，可以達到一些經濟目的，下列對貨幣功能的敘述，何者是正確的？ (A)愛玲到銀行開設儲蓄帳戶，作為未來的購屋基金，這是貨幣的債務清償功能 (B)天明摔壞同事手機，由天明賠償 5 千元達成和解，這是貨幣的價值衡量功能 (C)志傑不帶現金，以信用卡完成百貨公司消費之旅，這是貨幣的價值儲存功能 (D)淑貞上週以六萬元買了一臺新型的環保電動機車，這是貨幣的交易媒介功能。
- 29.小芬暑假時到韓國首爾自由行。小芬到了韓國，先在機場用美金兌換韓元，1 美金可兌換到 1,040 韓元。小芬接著買了 T-money 卡，儲值後，搭車、買東西都很方便。首爾的明洞有很多保養品店，各家競爭激烈，紛紛推出折價優惠，小芬當然買了不少。小芬和店員聊天時，發現店員是來自臺灣的留學生，畢業後在韓國定居，聽她說剛來念書的時候，一碗韓式炸醬麵折合新臺幣 50 元，現在則漲為 100 元了。請根據以上敘述，判斷下列何者不正確？ (A)小芬須先用美金兌換韓元，顯示韓元是韓國的法定貨幣 (B)1 美金可兌換到 1,040 韓元，顯示美金的價值比韓元高 (C)在韓國，T-money 卡具有貨幣的「交易媒介」功能 (D)炸醬麵價格上漲，顯示韓國面臨正面通脹
30. 附圖中，e 點代表霜淇淋市場均衡的狀況，而目前小兵店內霜淇淋的價格為 P，則小兵兵應該如何做，才能達到市場均衡？
 (A)提高霜淇淋的價格
 (B)增加霜淇淋的產量
 (C)推出買一送一活動
 (D)開設分店打知名度。



題組一

- 雙 11 購物節，實體店面以及網路商城紛紛祭出好康優惠，許多消費者買紅眼，業者的業績也屢創紀錄。不過雙 11 卻讓大陸一名王姓男子難過到想跳樓，王男表示「才剛還完太太之前的 20 萬元刷卡金（約 86.7 萬新台幣），沒想到太太今年又刷了 30 萬（約新台幣 130 萬）。一想到該如何償還卡債，真的覺得走投無路。」
 看著丈夫站在天台上，妻子相當著急，並表示真的知道錯了，不該瘋狂購物，求先生快點下來。最後王姓男子的情緒獲得緩解，在雙方家長的見證下，同意原諒妻子；王男也表示，會努力賺錢幫妻子還完購物欠下的費用。
- 31.此則新聞可以用來說明下列哪一個觀念的重要性？
 (A)開源 (B)節流 (C)分散風險 (D)隱藏成本。
- 32.根據上述，王男的太太應該如何調整其消費方式？
 (A)當現金不足時，才用信用卡支付 (B)刷卡購物時須考慮自己的支付能力 (C)設法申請提高信用卡的消費額度 (D)消費時，選擇「想要」的商品購買。
- 33.請依據王男的談話內容，以及課本中所學到的知識，判斷下列敘述何者正確？ (A)王男的太太應該是使用儲值卡進行購物 (B)該卡片具有交易媒介功能，所以等同於貨幣 (C)該卡片具有延後支付消費款項時間的功能 (D)在我國，該種卡片是由中央銀行負責發行。
- 34.雙十一購物節，業者推出折扣下殺優惠，是運用下列何種經濟學概念，希望增加銷售量？ (A)機會成本 (B)需求法則 (C)供給法則 (D)分散風險原則。

題組二

- 小琪原本是兼職的網路賣家，由於業績蒸蒸日上，決定辭掉原本的工作，專心經營網路商店。為了建立良好的商譽、做出口碑，小琪只向信譽良好的廠商進貨，出貨前會盡力做好品管，確保商品品質，並且加強售後服務。
- 35.關於小琪的敘述，下列何者正確？ (A)小琪原本兼職做網拍，是「節流」的做法 (B)不必租用店面，所以沒有籌措資金的壓力 (C)只要做出商品口碑，就可以有穩定的收入 (D)可能會獲得較高報酬，但也承擔較大風險。
- 36.小琪把自己原本的五萬元薪資算入網路商店的營運成本裡，這種做法符合何種經濟概念？ (A)機會成本 (B)供給法則 (C)需求法則 (D)分散風險。
- 37.根據小琪的經營方式，下列何項敘述最能符合其經營理念？ (A)重視職業倫理，才能長久經營 (B)持續開發新商品，吸引顧客上門 (C)降低生產成本，可以增加利潤 (D)滿足顧客的一切要求，以客為尊。

- 38.小琪本月總共賣出總價 15 萬元的商品，這 15 萬元就是小琪的 (A)消費支出 (B)銷貨收入 (C)利潤 (D)所得。

題組三

阿華在書上看到一篇文章，其部分內容如下：「從西元 1990 年起，臺灣工業因關廠、歇業或外移，導致所需勞動人口萎縮，而服務業興起，低階勞動力因無法順利移轉到服務業當中，使得勞工被迫失業。」

- 39.根據上述內容判斷，「勞工被迫失業」的最主要原因為下列何者？ (A)經濟不景氣所導致 (B)公司老闆缺乏職業道德 (C)不符合產業轉型的需求 (D)勞工缺乏工作意願。
- 40.政府採取下列哪些措施，有助於降低失業率？
(甲)提供資金援助協助創業 (乙)提供創業相關技能訓練 (丙)培訓第二專長協助轉業 (丁)提供失業津貼維持生活。正確的是 (A)甲乙丙 (B)乙丙丁 (C)甲乙丁 (D)甲丙丁。

題組四

下表為小寶上個月的主要支出項目。請問：

支出項目	金額(元)	支出項目	金額(元)
汽車貸款	5,000	銀行定存	10,000
信用卡費	3,000	網路購物	2,000
共同基金	5,000	孝親費用	10,000
繳水電費	1,000	繳交罰鍰	1,500

- 41.上表屬於「投資理財」的部分總共有多少元？
(A) 15,000 元 (B) 18,000 元 (C) 20,000 元 (D) 23,000 元
- 42.小寶須繳交罰鍰的原因最可能是下列何者？ (A)開車沒有繫安全帶 (B)使用偽鈔被警方發現 (C)不慎撞毀路旁電線杆 (D)申請補發身分證件。

題組五

小芬花了許多心力研究金融商品以及理財知識，她把資金用於四種理財工具，前些日子她將

理財工具	投資報酬率
甲	15%
乙	20%
丙	25%
丁	30%

四種工具的投資獲利情形整理如附表。

- 43.根據表中內容判斷，哪項理財工具的投資風險最高？
(A)甲 (B)乙 (C)丙 (D)丁。
- 44.小芬的姐姐秀秀，去年以10萬元投資某項理財工具，最後拿回95,000元，請問：秀秀姊投資該理財工具的報酬率是 (A)-5% (B)5% (C)9.5% (D)95%。
- 45.小芬的投資方式，符合下列何種經濟概念？ (A)分散風險原則 (B)比較利益原則 (C)需求法則 (D)供給法則。

題組六

下表是白雪國蘋果市場在自由競爭的情況下，蘋果價格的波動與市場需求量、供給量的統計表。

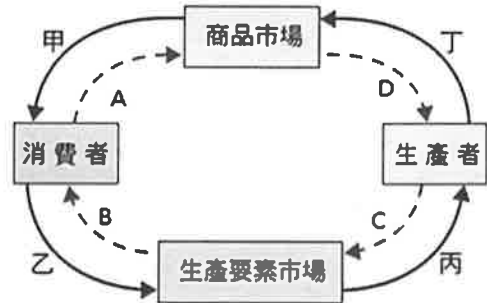
價格(元/公斤)	10	20	30	40
需求量(公斤/天)	150	120	100	10
供給量(公斤/天)	5	120	140	180

請根據表中資料回答下列問題

- 46.根據資料判斷，白雪國蘋果的均衡價格應為每公斤多少元？ (A) 10 元 (B) 20 元 (C) 30 元 (D) 40 元。
- 47.白雪國最近流行「吃蘋果減肥」，使得蘋果在市場上賣到缺貨。在其他條件不變的情形下，此時蘋果市場最可能發生何種變化？ (A)供不應求，價格上漲 (B)供不應求，價格下跌 (C)供過於求，價格上漲 (D)供過於求，價格下跌。

題組七

附圖為經濟活動循環簡圖，請根據附圖回答下列問題



- 48.因應政府的新南向政策，學者針對印度這個國家，提出數項論述，如附表。若配合經濟循環圖來看，下列說明何者正確？

論述一	印度擁有超過十二億人口，消費市場廣大
論述二	65%的人口不到 35 歲，沒有勞動力不足的問題
論述三	印度的國內企業打算大量採購機器設備

- (A)勞動力充足代表商品市場萎縮
(B)論述一顯示「甲」的數量龐大
(C)論述二是指「丁」的數量充足
(D)論述三顯示「乙」的數量成長
- 49.小裕存錢購買了一雙新球鞋，小裕的行為就是附圖中的哪一個箭頭方向？
(A)甲 (B)乙 (C)丙 (D)丁。
- 50.星星咖啡推出「第二杯半價」活動，對星星咖啡而言，該促銷活動屬於經濟活動循環簡圖中的哪個箭頭方向？ (A)甲 (B)乙 (C)丙 (D)丁。

108 學年度第一學期第 2 次段考 公民科答案

- 01. CCBAB
- 06. BDBCB
- 11. DABAD
- 16. DDDBB
- 21. DBDAC
- 26. BADD C
- 31. BBCBD
- 36. AABCA
- 41. AADAA
- 46. BABAD