

科目：社會

適用班級：801-808

□高中部

■國中部

(1)班級、座號如為0-9，十位請劃記『0』；班級、座號為10、20、30...個位請劃記『0』

班級：

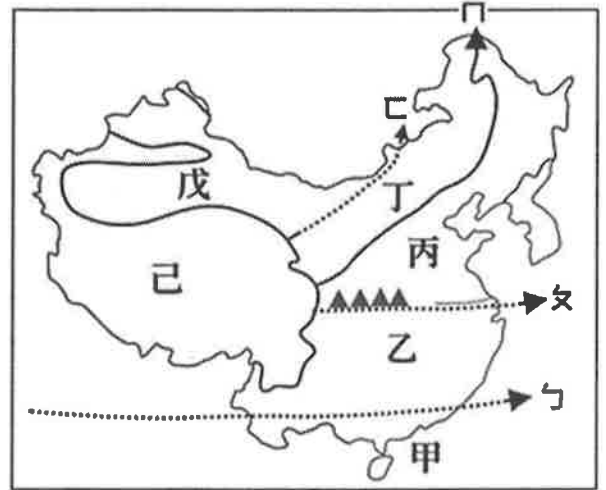
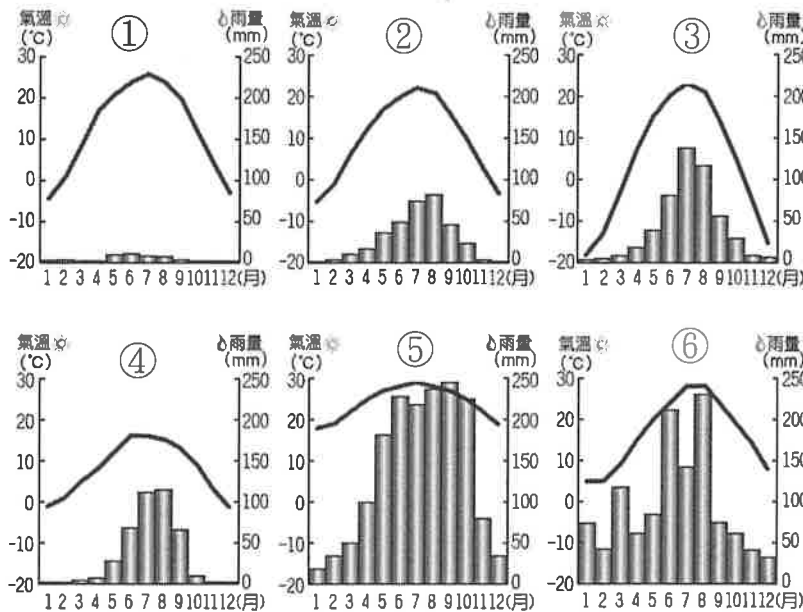
座號：

姓名：

單選題：(每題2分)

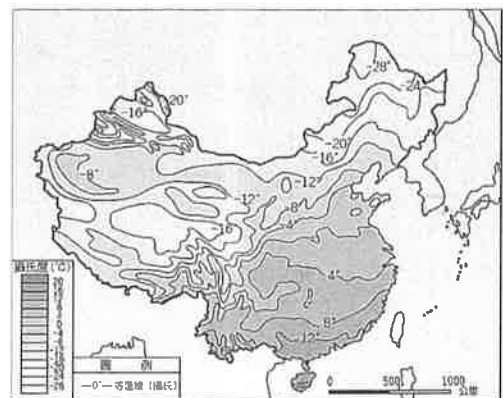
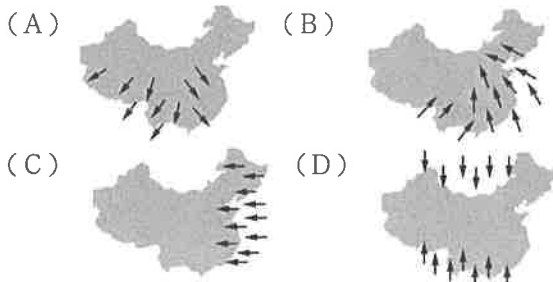
地理

※中國面積廣大，形成多樣性的氣候景觀。下列①~⑥為中國境內某六個城市的氣候圖，而圖一中甲~己為中國氣候分區。請回答下列1-4題：



圖一

- () 上圖①~⑥中的城市和所屬的氣候配對，何者『錯誤』？
(A)①：溫帶草原氣候 (B)③：溫帶季風氣候 (C)⑤：熱帶季風氣候 (D)⑥：副熱帶季風氣候。
- () ④的氣候類型應位於圖一中的何地？ (A)丙 (B)丁 (C)戊 (D)己。
- () 針對圖一中的重要氣候分界線的描述，請問下列何者正確？
(A)巾為赤道—是熱帶與副熱帶氣候的分界 (B)女為七月均溫0°C等溫線—也是南稻北麥的分界
(C)口為年降水量500mm—是季風與乾燥氣候分界 (D)丁為年降水量300mm—為草原及沙漠氣候的分界
- () 請問以下各氣候區特色與生活關係的描述，何者正確？
(A)甲區：冬天河流易結冰，水運較不發達 (B)丁區：出現『一年無四季，一日見四季』的氣候特色
(C)戊區：因為氣候乾燥，適合『窯洞』建築 (D)己區：當地居民適應氣候特色而穿著『袍子』服裝
- () 中國最主要的降雨季節受某盛行風的影響。請問下列哪一張圖最符合此盛行風的風向？

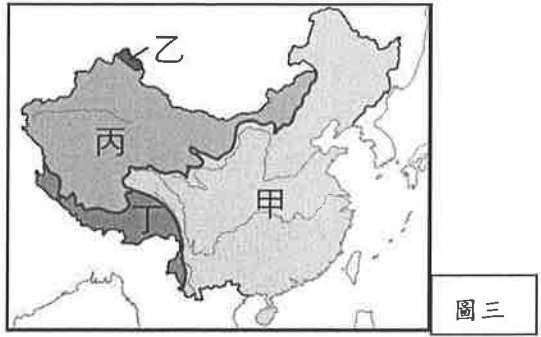


圖二

- () 下列何組地區其冬夏的季風方向是相似的？(A)華北、華中 (B)華南、臺灣 (C)東北、華中 (D)青藏、華南
- () 圖二為中國某月月均溫的等溫線分布圖，請問造成此東半部氣溫變化差異大的主要原因為何？
(A)緯度 (B)季風 (C)距海遠近 (D)地形

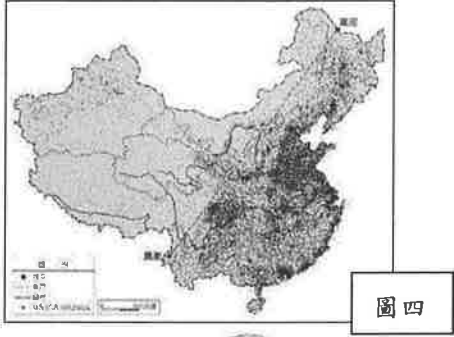
※圖三為中國外流區與內流區分布圖，請回答下列 8~9 題：

8. () 河川特性和流域內的湖泊種類關係甚大，請問鹹水湖最常出現在圖三中的哪一個水文區？
 (A) 甲 (B) 乙 (C) 丙 (D) 丁。
9. () 關於圖中四區的敘述，何者正確？
 (A) 甲區的湖泊水源多來自高山融雪
 (B) 乙區的額爾齊斯河在春季時易發生『凌汛』
 (C) 丙區有中國最長的內流河塔里木河，最後注入青海湖
 (D) 丁區的雅魯藏布江受太平洋水氣影響，水量豐沛。
10. () 圖四為中國的人口分布圖，以黑河至騰衝的連線為界線，請問以其東南半部及西北半部的特色做表格比較，下列何者選項敘述正確？



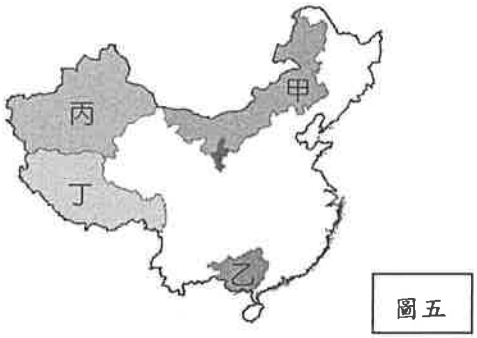
圖三

	(A) 地形	(B) 氣候	(C) 經濟發展	(D) 環境負載力
東南半部	多山地高原	乾燥高地	較低	較高
西北半部	多平原丘陵	季風	較高	較低

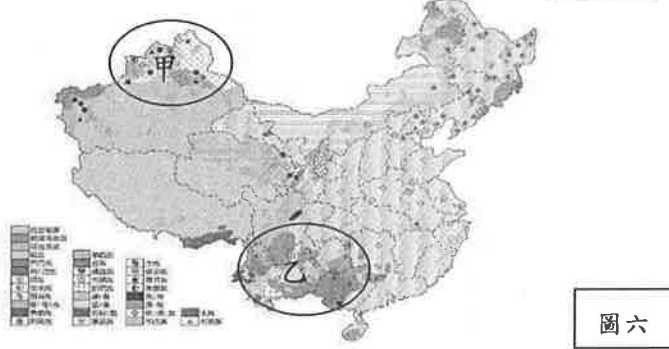


圖四

11. () 中國少數民族中，人口最多的族群分布於圖五中的哪一個行政區？(A) 甲 (B) 乙 (C) 丙 (D) 丁。

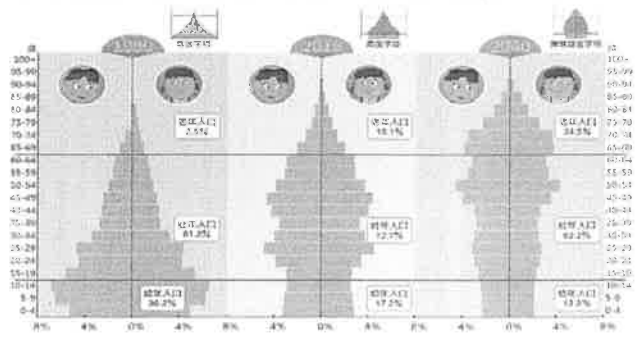


圖五



圖六

12. () 中國族群眾多，分布遍及各地，圖六為中國民族分布圖。請問造成圖中甲、乙兩地族群複雜的主要原因分別是什麼？
 (A) 甲：地處邊境；乙：氣候濕熱 (B) 甲：經濟發達；乙：交通不便
 (C) 甲：鄰國眾多；乙：地形崎嶇 (D) 甲：地處邊疆；乙：政策因素
13. () 光棍節(11月11日)是流行於中國年輕人的娛樂性節日，起源於一群男大學生找不到交往對象而自我解嘲(「光棍」的意思便是「單身」)。如果從節日流行的背景原因思考，此現象和下列何者關係最低？(A)曾經實施一胎化(B)傳統觀念重男輕女(C)性別比>100(D)勞動人口減少
14. () 電影《人在囧途》是以中國春運(春節前後的交通現象)為背景的喜劇，片中不時提到：「火車票一票難求」的現象。請問：此情境與何種現象較有關？
 (A)實施人口城鄉分隔政策 (B)西部經濟帶發展快速 (C)都市推力太強 (D)人口的城鄉移動
15. () 中國從 2013 年開始逐步調整施行逾 30 年的「一胎化」政策，即是因為長期低生育率造成如「招工難、娶妻難、養老難」等問題漸浮現，因此先後開放夫妻均為獨生子女的家庭能生育第 2 胎的「雙獨 2 胎」，到允許夫妻之一為獨生子女的家庭即能生育 2 個孩子的「單獨 2 胎」，甚至到 2016 年全面開放生育二胎，這些都是為了因應中國嚴重扭曲的人口結構形勢所採取的措施……. 請問何者『不是』文章中提及的『中國嚴重扭曲的人口結構』問題？
 (A) 少子化現象明顯 (B) 幼年人口性別比失衡
 (C) 人口素質偏低 (D) 中國邁入高齡化社會
16. () 由圖七中三個時期的人口金字塔判斷，中國政府未來亟需著手進行規畫的政策為何？
 (A) 廣設幼兒托育中心，提高托育照顧比例
 (B) 進行產業轉型升級，輔導壯年人口創業
 (C) 規畫老人安養照護，增加社會福利制度
 (D) 推廣高等教育制度，提高整體人口素質



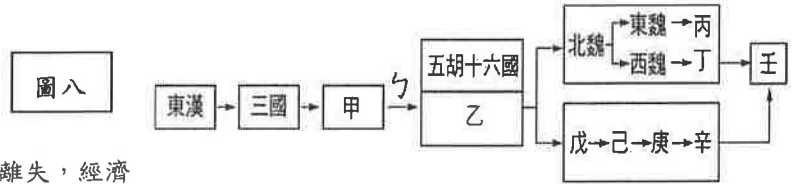
圖七

歷史

17. () 下列關於歷代任官制度的敘述何者錯誤？(A)西周採用封建制度，以確保貴族的統治權 (B)漢代施行察舉制度，造成累世當官的現象 (C)曹魏推行九品官人法，保障世族擔任高官的特權 (D)隋唐實施科舉制度，形成平民當官機會增加與世族沒落。

18. () 圖八為魏晉南北朝政權興亡的示意圖。關於下圖中的朝代敘述，錯誤的是？①甲是司馬懿結束三國所建立的西晉 ②乙是劉裕篡位而建立的東晉 ③戊己庚辛的首都皆在洛陽 ④壬為李淵結束南北朝所建立的朝代

- (A) ①② (B) ③④ (C) ②③④
(D) ①②③④。



19. () 歷史上每每發生戰亂，往往造成百姓流離失，經濟亦受到嚴重的破壞。請問造成北方經濟遭受破壞，迫使人民移居南方的戰爭或禍亂是？(甲)赤壁之戰 (乙)永嘉之禍 (丙)安史之亂 (丁)黃巢之亂 (A)甲 (B)乙丙 (C)甲乙丙 (D)甲乙丙丁。

20. () 關於隋唐的經濟文化的敘述，下列何者正確？(A)隋代為有效管理海外貿易，設立市舶司 (B)隋唐時期，佛教、景教、伊斯蘭教、摩尼教等，經由絲路進入中國 (C)中唐以後，經濟更為繁榮，為方便商旅攜帶與使用貨幣，而有紙幣的發明 (D)隋唐時期，因皇室具有胡人血統，因此胡食、胡舞、胡服等盛行。

21. () 北魏孝文帝即位後，為吸收中原文化，實施一連串的漢化措施。關於其漢化的內容，下列何項有誤？(A)遷都長安 (B)胡漢通婚 (C)改漢姓 (D)改說漢語。

22. () 南朝宋的王球曾拒絕宋文帝的詔令，以「身分不同，不相為伍」，不願和出身卑賤的徐爰交朋友。請問：王球拒絕主要原因是什麼？(A)徐爰欠債不還，結成仇家 (B)王球信佛教不屑和信道教的徐爰來往 (C)門第觀念濃厚，世族不與寒門交往 (D)兩人不同政黨，立場對立。

23. () 「竹林七賢」個個都喜愛喝酒，阮籍是其中著名的一位。司馬昭欲延攬他任官，都遭他婉拒。但他聽說在某一個軍營的廚房裡存放了許多美酒，竟然主動請求擔任步兵校尉(軍營軍官)。等他喝光軍營裡所有的酒之後，就主動辭職走人。他向來不喜歡跟當權者打交道，為了拒絕司馬家族的提親，他喝酒大醉 60 天，讓對方找不到開口的機會，使對方求親不成。而史書中對阮籍的評價為：「順任性情之自然，不受拘束，且情緒不表達在外；閱讀廣博，學識豐富，尤喜莊子、老子之學……。」從史書中對阮籍的評價，可看出魏晉時代展現何種文人風貌？(A)文以載道，獨尊儒術 (B)重視名教，謹守禮法 (C)反抗禮教，率性自然 (D)倡導實學，經世致用。

24. () 圖九為唐朝某場內亂的路線圖，此內亂加速了唐朝的敗亡。請問這是指下列哪場亂事？(A)安史之亂 (B)黃巢之亂 (C)永嘉之禍 (D)八王之亂。



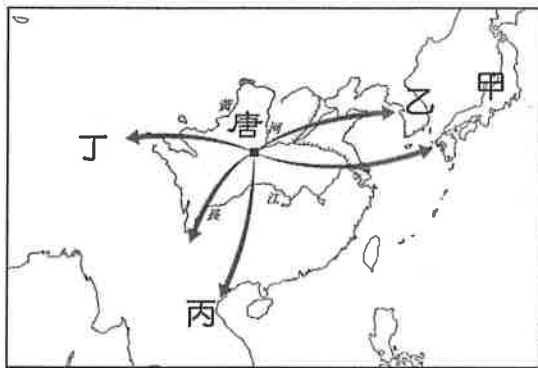
圖九



圖十

25. () 圖十為唐代長安城的平面圖，長安城是中國重要的古都。請問：有關唐代長安城的設計特色，下列何者正確？(A)坊市分離 (B)坊市合一 (C)胡漢分區 (D)官商分住。

26. () 魏晉南北朝的動盪，使人們渴望心靈寄託，因此佛、道教在此時盛行。下列有關「佛教」與「道教」的敘述，何者錯誤？(甲)佛教、道教分別於西漢末與東漢末年從西域傳入中國(乙)東漢明帝曾派使者赴西域求佛法(丙)道教在唐朝發展出五斗米道與太平道(丁)北魏把道教立為國教(戊)梁武帝曾為求佛法而三次出家，被稱為「菩薩皇帝」 (A)甲丙 (B)乙丁 (C)乙丙丁 (D)甲丙戊。
27. () 下列關於兩漢史學、科技、醫學及經營西域的配對，何者正確？
(A)司馬遷—史記；班超—漢書 (B)張衡—地動儀；蔡倫—造紙術 (C)華佗—傷寒雜病論；張機—利用麻酔來進行外科手術 (D)張騫—西漢出使西域；班固—東漢經營西域。
28. () 盛唐時期，國力發展到最高峰，但後來有些原因導致唐代由盛轉衰。請問下列何者並非唐代由盛轉衰的原因？
(A)安史之亂 (B)新舊黨爭 (C)宦官亂政 (D)藩鎮割據。
29. () 胡人，或稱胡族，中國古代漢族對外族的稱呼，主要是指歐亞大草原上的遊牧民族。請問下列哪二事件與胡人叛變有關？
(A)黃巢之亂、安史之亂 (B)永嘉之禍、八王之亂 (C)黃巾之亂、安史之亂 (D)安史之亂、永嘉之禍。
30. () 下列關於皇帝事蹟的敘述，何者正確？(A)唐太宗派兵擊滅西突厥，聲威大振，獲得天可汗的尊號
(B)唐高宗擒殺自己手足，逼父親退位，以獲得皇位，史稱玄武門之變 (C)武則天改國號為周，重視科舉，積極提拔人才，例如任用狄仁傑為相 (D)唐玄宗繼位後，任用賢能，勵精圖治，締造開皇之治。
31. () 下列何者並非秦漢防禦匈奴入侵的方式？(A)進貢 (B)築長城 (C)和親 (D)討伐。
32. () 圖十一為唐代形勢圖。請根據此圖來判斷，下列何者敘述錯誤？(A)甲為日本，孝德天皇推動大化革新
(B)乙為新羅，有君子國之稱 (C)丙是大食，唐朝軍隊因與其發生怛羅斯之役而使造紙術西傳
(D)丁是吐蕃，唐太宗將文成公主與之親。



圖十一



圖十二

33. () 隋代修築的運河影響隋唐兩代經濟甚鉅，圖十二為隋代運河圖。請問：隋煬帝想自大興至江都遊玩，他不須經過下列哪二條運河？(A)廣通渠、通濟渠 (B)通濟渠、永濟渠 (C)永濟渠、江南河 (D)江南河、邗溝。

公民

34. () 為了預防登革熱疫情擴散，新北市政府○○單位，透過網路媒體宣傳民眾要養成清理積水容器的好習慣。上述屬於地方政府的何項地方自治事務？由哪個地方單位負責？
(A)安全衛生；消防局 (B)社會服務；衛生局 (C)社會服務；社會局 (D)安全衛生；衛生局。
35. () 隨著米塔颱風的增強，基隆、台北、新北等地方政府，均依照行政院發布的《天然災害停止上班及上課作業辦法》，紛紛宣布停班、停課。這種由地方政府按照行政院發布的法規標準，再視當地的天氣情況而自行決定停班、停課的作法，應為何種制度？(A)均權制度 (B)橫向分權 (C)分權制衡 (D)三權分立
36. () 據新聞報導，台南市政府今年度的總預算案，已由相關機關審查通過。請根據下表判斷，哪個代號的政府機關，負責審查台南市政府的預算案？(A)甲 (B)乙 (C)丙 (D)丁

	地方行政機關	地方民意機關
直轄市	(甲)	(乙)
縣、市	(丙)	(丁)

37. () **圖十三**的撥款內容，屬地方政府財源的其中一部分，又根據《○○○法》的規定，地方政府也享有地方租稅的收入。上述中的《○○○法》應是下列那項法律？

- (A)《所得稅法》 (B)《營業稅法》
(C)《財政收支劃分法》 (D)《地方制度法》

38. () 某一政府機關公布明年度高考、普考和地方特考的國家考試日期，預計辦理多項公務人員考試。根據上述內容判斷，此一政府機關最可能是下列何者？

- (A)行政院文化部 (B)考試院銓敘部 (C)行政院教育部
(D)考試院考選部

39. () 中央政府為鼓勵地方政府興辦公共造產事業，特別舉辦「公共造產業務績優表揚暨觀摩會」。下列哪項地方政府施政，最可能獲得前述的表揚機會？

- (A)出售或出租地方政府的國有土地 (B)將使用率不高的泳池改為收費展演場所
(C)舉辦富地方特色的觀光節活動 (D)重罰未按法規規定任意傾倒廢棄物的廠商。

40. () 臺中捷運系統預計民國109年通車，除了替居民帶來便利的交通，也讓捷運沿線的店家創造商機，連帶提升附近房地產的價格。上述現象對於沿線商家及居民來說，是獲得了何種效果？

- (A)公共財 (B)外部成本 (C)外部效益 (D)維護經濟秩序。

41. () 海勒看到一則新聞：「外交部公告，民眾如欲在機場臨時申辦護照，非急難狀況將收費4900元，其中護照申辦費1300元，速件處理費3600元。請有出國計畫的民眾留意護照有效日期，提前完成護照換發手續。」請問：申辦護照的費用，屬於政府的何種收入來源？

- (A)租稅 (B)規費 (C)罰款 (D)公營事業收入

42. () 根據2017年修正的《長期照顧服務法》規定，長期照護的財源，仰賴調整後的遺產稅和贈與稅，但「普及照顧政策聯盟」認為，加徵遺產稅與贈與稅投入長照，雖具有社會正當性，但卻是不穩定的財源。文中的遺產稅與贈與稅，根據課稅對象判斷，屬於哪一種租稅？

- (A)所得稅 (B)財產稅 (C)銷售稅 (D)交易稅

43. () 新聞報導：「自民國107年2月修改《所得稅法》，公司全年營利事業所得金額未滿12萬元者，免徵所得稅。若公司全年營利事業所得金額超過12萬元，則所得稅將從過去的17%調升為20%。但是總統府資政吳榮義參與稅改座談會時表示，臺灣租稅負擔率是全球最低，應該調至25%。」針對新聞中所提到的稅，下列敘述何者正確？

- (A)依課稅對象來分屬於財產稅 (B)課稅機制符合負擔能力原則
(C)負責徵收稅款的單位為稅捐稽徵處 (D)此次稅法的修法單位為司法院。

44. () 「瓜瓜任職於某資訊公司，公司內部設有員工付費使用的健身房，開放社區民眾加入會員的游泳池，以及僅供員工免費使用的KTV包廂。每天下班後，瓜瓜最喜歡到公司附近的海灘欣賞夕陽餘暉。」根據上述內容判斷，何者屬於公共財？ (A)海灘 (B)游泳池 (C)健身房 (D)KTV包廂。

45. () 臺灣高鐵向南延長至屏東一案，已由交通部拍板定案，並請臺灣高鐵公司設計和興建。許多民眾誤以為臺灣高鐵公司是民間企業，但實際上，該公司是由政府和民間企業以「BOT」方式合作進行的公共建設。上述「BOT」具有下列何種意涵？

- (A)民間企業負責興建並營運，再將利潤分給政府
(B)政府委託民間企業興建，完工後政府再分期編列預算將之買回
(C)民間企業負責興建，完成後直接移轉給政府，政府再出租給其他企業經營
(D)民間企業興建和經營一段時間之後，再交還政府經營。

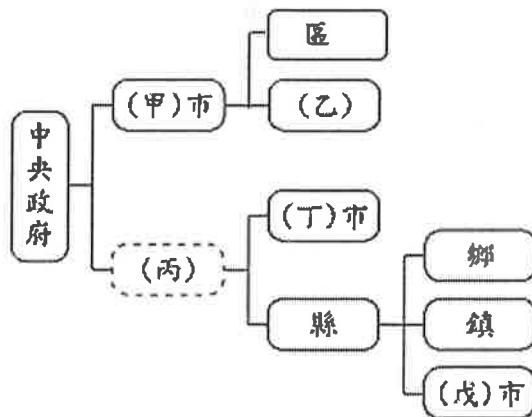
縣市	統籌稅款 (億元)	補助款 (億元)	合計 (億元)
台北市	441.17	83.71	524.88
新北市	337.48	66.64	404.12
台中市	280.49	78.26	358.75
台南市	205.97	144.82	350.79
高雄市	318.83	132.53	451.36
桃園市	214.27	48.83	263.10

圖十三 圖片來源：自由時報

46. () 根據新聞報導：「我國○○院表示，某國立大學研究發展處研發長，涉嫌兼任民營公司董事及監察人，且實際參與公司經營，就此○○院通過對該位研發長的彈劾案，並將其移送▲▲機關審議。依上述內容判斷，負責審議的▲▲機關應該是下列何者？
 (A) 行政院法務部調查局 (B) 司法院憲法法庭 (C) 監察院審計部 (D) 司法院公務員懲戒委員會。
47. () 立法院已通過的預算案，若行政院認為此預算案窒礙難行，無法接受，根據《憲法增修條文》規定，行政院可採取哪種措施制衡立法院？
 (A) 經行政院長核可，移請立法院覆議 (B) 經總統核可，移請立法院覆議
 (C) 經立法院通過，提請選舉人投票複決 (D) 經行政院務會議通過，移請立法院覆議。

※圖十四我國地方政府層級簡圖。請回答第48~50題：

48. () 在(甲)市之下，設有一地方自治團體(乙)。關於(乙)的敘述，何者正確？
 (A) (乙)稱為平地原住民區
 (B) (甲)市之下的區，都是地方自治團體
 (C) (乙)設有區公所，其區長由(甲)市市長指派
 (D) (乙)設有區民代表會，監督區公所的施政。
49. () 關於圖中的(丙)，下列敘述何者正確？
 (A) 民國86年修憲時已廢除(丙)
 (B) 屬於司法院派出機關
 (C) 屬於地方自治團體的一
 (D) 首長產生方式與行政院副院長相同。
50. () 圖中的(甲)市、(丁)市、(戊)市，皆是地方自治團體。關於這三者的組織敘述，下列何者正確？
 (A) (甲)市可能為嘉義市，設有市政府和市議會
 (B) (丁)市可能為新竹市，設有市公所和市議會
 (C) (戊)市可能為南投市，設有市公所和市民代表會
 (D) (戊)市可能是屏東市，設有市政府及市民代表會。



圖十四

題目結束，請耐心檢查

108 學年度第一學期八年級第二次段考社會科試題答案

答案：(1~16 題地理；17~33 題歷史；34~50 題公民)

1	2	3	4	5	6	7	8	9	10
A	D	C	D	B	B	A	C	B	D
11	12	13	14	15	16	17	18	19	20
B	C	D	D	C	C	D	D	B	D
21	22	23	24	25	26	27	28	29	30
A	C	C	B	A	A	B	B	D	C
31	32	33	34	35	36	37	38	39	40
A	C	C	D	A	B	C	D	B	C
41	42	43	44	45	46	47	48	49	50
B	B	B	A	D	D	B	D	D	C