

科目：社會

適用班級：701-707

高中部

國中部

(1)班級、座號如為0-9, [十位請劃記「0」]; 班級、座號為10、20、30...[個位請劃記「0」]

班級：

座號：

姓名：

一、單選題：(每題2分，共50題，總分100分)

地理(第1~17題)

1. () 下列四張為旅行社觀光宣傳海報，請問其中哪一張海報內說明的地理現象，與「外營力」最有關係？

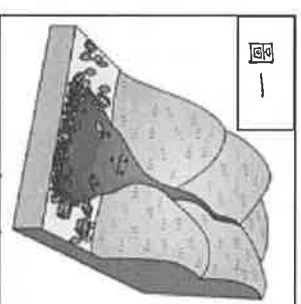
(A)

(B)

圖一

陽明山火山之旅
參觀小油坑的噴氣孔
與硫磺結晶。

大魯閣國家公園之旅
欣賞立霧溪侵蝕成山
高谷深的峽谷。



(C)

(D)

澎湖群島地質之旅
觀察桶盤嶼地質公園
裡的玄武岩石柱。

綠島機車環島之旅
到海邊泡朝日溫泉並
欣賞日出美景。

2. () 臺灣的自然環境相當優美，被稱之為「福爾摩沙」。請問下列對於臺灣地形的敘述，何者正確？

(A) 平原集中於東部 (B) 地勢的起伏不大 (C) 地質較破碎脆弱 (D) 平原面積大於山地。

3. () 圖(一)為某種地形災害的示意圖，造成臺灣此種地形災害發生頻繁的「人為」因素為何？

(A) 地震發生頻繁 (B) 土地過度開發 (C) 夏季多豪大雨 (D) 超抽地下水。

4. () 阿達跟同學們正計畫要進行為時一週的臺灣東部鐵馬行，他們打算一路從宜蘭玩到臺東，想要一次飽嘗東臺灣美麗風景。請問若按照他們計畫的路線行駛，「不可能」經過下列哪一個地方？

(A) 苗栗丘陵 (B) 海岸山脈 (C) 蘭陽平原 (D) 花東縱谷平原。

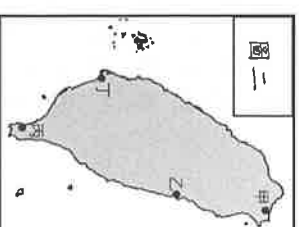
5. () 承上題，阿達的路線主要會經過下列哪一種海岸景觀？

(A) 魚塢廣布的沙岸 (B) 生態豐富的珊瑚礁海岸 (C) 多懸崖峭壁的斷層海岸 (D) 丘陵緊鄰的岬灣海岸。

6. () 臺灣島上的主要山脈大致呈南北走向，此一現象與下列哪一項地理事實有密切的關係？

(A) 板塊擠壓方向 (B) 河川侵蝕力量 (C) 火山活動影響 (D) 山地崩塌作用。

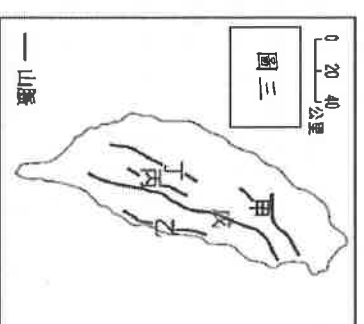
7. () 「2019鯤鯓王平安鹽祭」已於10月底舉辦，每年均吸引眾多遊客前來。早年當地沿海地帶共有七個袖珍沙洲，形狀如同七隻浮身海面的鯨魚，得名「鯤鯓」。因此將當地沙洲景觀、結合當地傳統「王爺信仰」，並以「鹽」作為活動主題之塑造，取其趨吉避兇之吉祥象徵，成為「鯤鯓王平安鹽祭」名稱之由來。請問此祭典最有可能於圖(二)中哪一段海岸舉辦？(A)甲 (B)乙 (C)丙 (D)丁。



8. () 新聞快報：「108年11月12日2時11分33秒在宜蘭縣政府東方23.3公里，發生芮氏規模4.4地震！」請問地震過後若救災人員想要了解災區受災的情形，下列何者最能提供所需的資訊？

(A) 等高線地形圖 (B) 地形剖面圖 (C) 衛星影像圖 (D) 分層設色圖。

9. () 某大學的地理系學生在畢業前，要完成攀登玉山主峰的任務。2天旅程要背負自己的飲水糧食，攀爬陡峭、崎嶇的山路，有些人可能會因為高山空氣稀薄造成頭痛而放棄登頂。請問，玉山山脈位在圖(三)何處？(A)甲 (B)乙 (C)丙 (D)丁。



10. () 下表有關沙岸和岩岸的比較，哪一項正確？

(A) 產業利用	(B) 海底深度	(C) 沿海地形	(D) 常見地形
沙岸 捕撈漁業、航運	較深	丘陵較多	沙洲、潟湖
岩岸 養殖漁業、農業	較淺	平原寬廣	灣澳、岬角

11. () 臺灣島嶼的形成原因眾多，請問圖(四)中的「丙」島嶼成為何？

(A) 海底火山噴出岩漿堆積而成 (B) 海底珊瑚礁露出海面而形成

(C) 兩個板塊擠壓而形成 (D) 沿海丘陵受到海水上升，山丘突出海面而成。

◎題組：圖(五)為某地等高線示意圖，請依圖回答第12~14題：

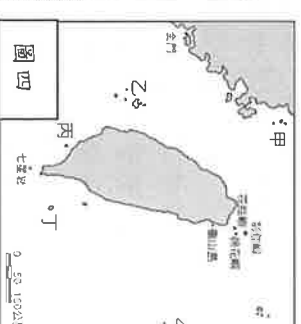
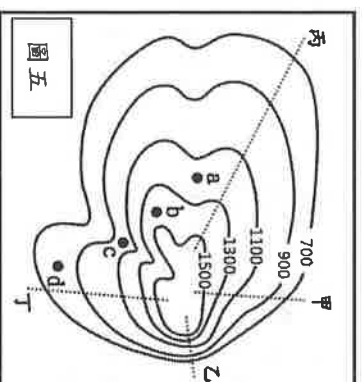
12. () 若要將圖(五)畫成分層設色圖，圖中的「b地」畫上何種顏色較為恰當？

(A) 藍色 (B) 綠色 (C) 淡黃色 (D) 棕色。

13. () 承漢想拍攝美景照片，選擇徒步揹著笨重的攝影器材走上最高處，他應該選擇走圖(五)中哪一條路線最平緩，較適合輕鬆登山？(A)甲 (B)乙 (C)丙 (D)丁

14. () 承漢成功的走上山頂最高處取景拍照，請問圖(五)中最高點的高度最可能為多少公尺？

(A) 1450m (B) 1500m (C) 1650m (D) 1700m。



請翻頁繼續作答

◎題組：圖(六)為南方澳周圍的衛星影像圖。請閱讀下列文章與圖(六)，回答第15~17題

宜蘭縣南方澳的跨港大橋，在2019年10月1日早上9點半驚傳斷裂。當時一輛油罐車正將駛出橋尾，大橋崩裂而油罐車亦墜落起火，共計有19名人員傷亡，其中6名死者皆為移工。根據蘇澳觀光旅遊網介紹，在1998年興建完工的跨港大橋是亞洲第一座雙叉式單拱橋，並作為豆腐岩岬岬及東側新建碼頭對外連絡之捷徑，是將南方澳環狀路線串起的重要地標。

15. () 請問從圖(六)中的地形判斷，南方澳的海岸地形與下列哪一個港口最類似？(A)基隆港 (B)高雄港 (C)台中港 (D)花蓮港。

16. () 請根據圖(六)中資訊判斷，下列何者是當地最可能有的產業活動？

- (A)有著大大小小鹽山的曬鹽業 (B)到處都是船隻的航運及漁業
(C)沙灘建成海水浴場的觀光業 (D)以熱帶珊瑚為主打的潛水業。

17. () 「經濟海域」為國際海洋法中為解決國家或地區之間的海域爭端而提出的一個概念，是指鄰接領海外側至距離領海基線二百浬間之海域。請問：根據南方澳附近的海域位置判斷，最容易與下列哪一個國家有經濟海域的爭端？

- (A)日本 (B)中國 (C)韓國 (D)菲律賓。

歷史(第18~33題)

18. () 施琅收復臺灣後，臺灣的「棄留問題」成為清廷爭議的焦點。康熙皇帝主要因哪一項考量，決定將臺灣納入清帝國版圖？(A)戰略地位 (B)物產豐富 (C)彈丸之地容易治理 (D)土地肥沃。

19. () 附圖中為荷蘭統治臺灣時期的臺江內海周圍圖。請問：鄭成功迫使荷蘭人退出臺灣的攻臺路線是？

- (A)甲→丙→丁 (B)甲→乙→丁 (C)丁→乙→甲 (D)丁→丙→甲。



20. () 下列有關清領時期的渡臺禁令的敘述，正確的是？(A)來臺移民僅需提出申請，不必填寫切結書 (B)渡臺禁令導致臺灣人口分布男女老少 (C)禁令執行時成效顯著，移民偷渡情形減少 (D)劉銘傳渡臺時取消渡臺禁令。

21. () 臺灣在某個時期的主要出口商品是蔗糖、鹿皮，進口的商品以軍需品、布匹為主，貿易的對象是中國(走私)、日本、東南亞、英國。請問：下列有關這個時期的臺灣敘述，何者正確？(A)這個時期的臺灣行政中心在臺灣北部 (B)當時的政府首開先例在中國沿海招募漢人來臺開墾 (C)為了解決糧食短缺的問題，當時的政府採取軍屯政策 (D)這個時期政府於臺北建了全臺第一座孔廟。

22. () 清領前期，政府雖然制定劃界封山的政策，但是漢番界線卻不斷的往山區後退。請問：這種現象反映了下列哪一項事實？(A)原住民與漢人同化的程度不斷提高 (B)原住民為了增加土地而不斷往深山開墾 (C)原住民不願受清政府的統治 (D)漢人入侵原住民生活區的情形日益嚴重。

23. () 清末沈葆楨以欽差大臣的身分來臺建設，這象徵著清朝治臺政策轉向積極。請問：下列何項並非他來臺的建設？(A)購置輪船 (B)八通關古道 (C)修築鐵路 (D)懲戡金城。

◆題組一：閱讀以下三段資料，並回答24~26題。

資料一：滬尾守將已知法軍即將來襲，決定派船載石沉入淡水河底，並在河口布滿水雷。沒多久，法國軍艦來襲，因河口布滿水雷無法進入。法軍陸戰隊在沒有軍艦砲火掩護下，在沙崙登陸了，但卻受困於沙地，導致火槍無法有效發揮，無法突破清軍的防禦線，清法軍隊激戰不久後，法軍就敗退回艦上。

資料二：琉球是一個海島，從明朝洪武年間就受中國朝廷冊封。同治十年(1871年)，有琉球人在臺灣被原住民殺害。同治十三年，日本以此為理由，出兵臺灣，後來中日簽定專約解決，條約記載：「臺灣生番曾將日本國屬民等任意殺害，故日本出兵臺灣，向生番追究責任，為琉球漁民討回公道。」

資料三：臺灣中部相傳有個「大肚番仔王」，有著大耳朵、粗眉毛，獲得了「大眉」的綽號。大肚王鼎盛時期曾統治二十七個村社，臺灣整個中部地區幾乎都是他的管區。西元1661年4月，「甲」的軍隊到達臺灣，因面臨嚴重缺糧問題，便安排軍隊至各地屯墾。為了「屯墾」，「甲」軍入侵大肚社的領土，卻敗給大肚社人。西元1670年「乙」的將領劉國軒在入侵大肚番王轄下的沙轆社，並且放火燒村社，大肚王的勢力因此逐漸式微。

24. () 請問以上資料一與資料二，指的是哪二場戰爭？(A)中法戰爭、甲午戰爭 (B)中法戰爭、朱一貴事件 (C)中法戰爭、牡丹社事件 (D)甲午戰爭、牡丹社事件。

25. () 資料三提到甲乙二人，請問此二人應是生活在哪一時代？(A)鄭氏治臺 (B)荷治時期 (C)西班牙治臺 (D)清領時期。

26. () 請依三則資料發生先後順序排序，依序是？(A)資料一→資料二→資料三 (B)資料二→資料一→資料三

(C)資料二→資料三→資料一 (D)資料三→資料二→資料一。



圖六

◆題組二：閱讀以下三段資料，並回答 27~28 題。

資料一：歷史文獻記載：內山「生番」，野性難馴，常有傷人燒屋的情形；但挑起衝突與爭端的，常是漢人。漢人拓墾者為了開墾土地，不論「生番」、「熟番」的生活區域，都會加以侵占；或是結黨入山搭建房屋，一旦看到番人獵取鹿皮，往往竊為己有。

資料二：臺灣大患有三：一是盜賊，二是械鬥，三是謀逆。三者情況不同，但作亂的人都是無業的遊民。

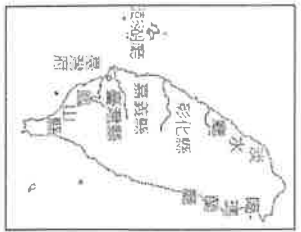
資料三：臺灣的移民們沒有親屬在身邊，這樣的人在各地總計有數十萬，其中有不少遊手好閒的人，又沒有家族的責任與牽絆，要他們不為亂也難啊！

- 27. () 資料一的論述應是清廷哪一政策施行的背景？ (A)海禁政策 (B)嚴禁渡臺 (C)劃界封山 (D)開港通商。
- 28. () 從資料二、三可知擾亂社會秩序為何者？ (A)海盜 (B)羅漢腳 (C)生番 (D)熟番。

- ◆題組三：臺灣行政區自古以來經過數次的變革。請根據圖七至十二，回答 29~31 題。
- 29. () 下列關於從圖七至圖十二的敘述，何者正確？ (A)由圖七演變至圖八與中法戰爭有關 (B)從圖九演變至圖十乃因朱一貴事件 (C)鄭氏驅逐荷蘭人後而設置的是圖十一與圖十二 (D)圖十一的行政區劃主要是在劉銘傳任內設置。

- 30. () 下列有關圖七至圖十二的臺灣行政區設置，依設置時間早晚的排序，下列何者正確？ (A)圖九→圖十二→圖七→圖十→圖十一→圖八 (B)圖九→圖十二→圖八→圖十→圖七→圖十一 (C)圖十二→圖八→圖九→圖七→圖十→圖十一 (D)圖十二→圖九→圖十→圖七→圖八→圖十一。

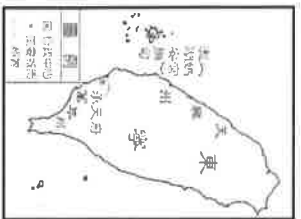
- 31. () 從圖七演變至圖十二的行政區畫來看，顯示出漢人開發臺灣的方向是？ (A)由南往北、由西向東 (B)由北往南、由東向西 (C)行政區畫皆在西部，未擴及東部 (D)行政區畫已擴及至全島。



圖七



圖八



圖九



圖十



圖十一

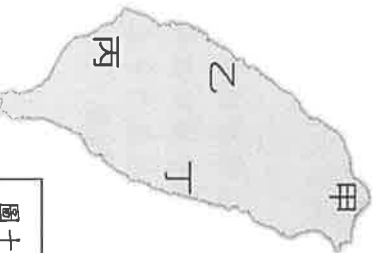


圖十二

- 32. () 下圖圖十三是十七世紀出版的新約聖經，其中，右欄的文字是以羅馬馬字母拼寫臺灣原住民的語言。請問：右欄中的文字所拼音的語言，為臺灣原住民中哪個族群的語言？ (A)馬賽人 (B)西拉雅族 (C)噶瑪蘭族 (D)凱達格族。



圖十三



圖十四

- 33. () 以下是一段 17 世紀的文獻記載：「西班牙人每年向該地的已婚原住民課徵二隻雞和三甘當米的稅，原住民感到無法忍受，所以襲擊該地的西班牙城堡，殺了 30 個西班牙人。」請問：上文所描述的原住民是位於右上圖十四中何處？ (A)甲 (B)乙 (C)丙 (D)丁。

公民(第 34~50 題)

- 34. () 沒有孩子的麥當然叔叔，上個星期經法定程序收養了一名養子，請問：麥當然叔叔和其養子依據中華民國的法律應屬於何種親屬關係？ (A)姻親 (B)自然血親 (C)法定血親 (D)沒有關係。
- 35. () 就讀於法律系的佩珊在做民法報告時查詢了以下幾種網路說法，請問下列敘述何者正確？ (A)父母年老時，子女無須扶養父母 (B)父母若未善盡照顧子女的義務，將受法律的處罰 (C)親權是指父母對成年子女具有保護及教養權利與義務 (D)父母雖對子女擁有親權，但父母不可懲戒子女。
- 36. () 自小被養父母收養的佳佳十分懂事獨立。佳佳的養父因工作忙碌委託她為出席參加家族會議，養父交代她要坐在兩位姻親的中間，請問依據下圖判斷，佳佳座位應在何處？ (A)甲 (B)乙 (C)丙 (D)丁。



請翻頁繼續作答

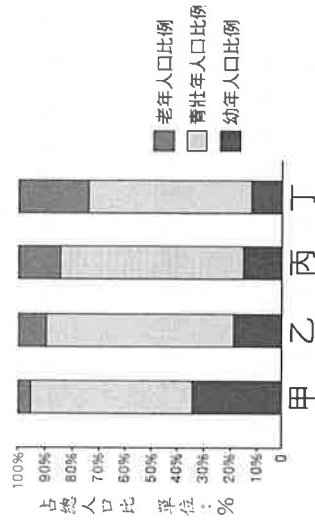
37. () 文鈞在玩密室逃脫遊戲時，看到了一個邏輯推理謎題如下表：請問以下哪一種關係會是答案？
 (A)血親 (B)直系血親 (C)旁系血親 (D)姻親。

- 有血緣關係的親屬
 是先就存在的親屬關係
 兄弟姐妹並不屬於此一範圍

38. () 一對夫妻已婚多年膝下仍無子女，他們謹慎地討論後決定到育幼院收養子女。在經過法定程序後，他們和收養的養子之間的關係以下何者為是？(A)被收養者稱做童養媳 (B)此種關係稱做擬制血親 (C)法律上仍無法成為血親 (D)如果之後這對夫妻成功生下有血緣關係的子女，則收養關係自動消滅。
39. () 家庭中如果發生暴力行為以致造成成員之間的身心傷害，被害人可以依據《家庭暴力防治法》尋求協助。請問以下何者不屬於《家庭暴力防治法》中規範的處理方式？(A)要求加害人與被害人保持特定距離 (B)禁止加害人與被害人進行非必要的聯絡 (C)要求雙方結束婚姻關係 (D)要求加害人搬離被害人的住所。
40. () 我國近年離婚率越來越高，夫妻的離婚決定也影響了子女的權益與心理成長。依我國《民法》規定，下列有關離婚的敘述何者正確？(A)子女的親權歸屬由雙方協議決定 (B)子女的親權依夫妻的最佳利益決定 (C)夫妻離婚後共同財產歸有工作收入的一方所有 (D)子女的親權歸屬無須考量未成年子女的意願。
41. () 專家預估我國約在45年之後，走在路上的人有二分之一是老人。面對高齡社會，政府應加強何種措施？(A)鼓勵老人移居國外 (B)無條件發放老人津貼 (C)建立長期照護制度 (D)鼓勵人民減少生育。
42. () 童話故事的「灰姑娘」中，灰姑娘總是遭到繼母及繼母的兩位親生女兒的欺負，長年在外工作的親生父親卻一無所知。由上判斷，灰姑娘一家的家庭型態應為下列何者？(A)大家庭 (B)重組家庭 (C)折衷家庭 (D)隔代教養家庭。
43. () 呈上題，灰姑娘如果想要請求協助，以下何者錯誤？(A)可以向警察機關或社會局求助 (B)地方法院可以核發保護令，要求灰姑娘的姊妹們不得靠近灰姑娘 (C)繼母命令灰姑娘不得吃晚餐是屬於親權的管教行為 (D)灰姑娘經過向法院舉證申請成功後，可以不需要負擔扶養繼母的義務。
44. () 下列四名國中生的對話，誰對親屬關係的了解是最正確的？(A)小玉：「堂哥和堂嫂是一家人，都是我的旁系血親。」 (B)小米：「阿姨是我的旁系血親，所以表哥是我的直系血親。」 (C)小農：「表嫂是血親的配偶，所以與我是姻親關係。」 (D)小湯：「表嫂和我沒有血緣關係，我倆不是親屬」。
45. () 虎爸(媽)指的是父(母)親對子女因有過高的期待，所以採取過度嚴厲的教育方式。近期有一名虎爸因不滿女兒學業表現不佳，接連以腳踹的方式進行管教，被法院判刑。為何法院會做出此判決？(A)法律並未賦予父母享有管教權利 (B)父母未以適當方式管教子女 (C)關心課業並不屬父母的親權範圍 (D)親子間並未做到相互扶養的義務。
46. () 玉嬌與俊明是一對情侶，當玉嬌發現自己未婚懷孕後，孩子的父親俊明就一走了之，傷心的玉嬌將孩子生下後，另與立傑交往並結婚。立傑希望能收養玉嬌的孩子，但玉嬌卻有不同的想法而未同意。若以法律的觀點評估題目中出現的親屬關係，以下敘述何者正確？(A)玉嬌與俊明是配偶 (B)俊明與立傑是連襟 (C)立傑與孩子是法定血親 (D)立傑與孩子是姻親。

◆題組：

下表呈現萬芳國在四個不同時期的人口年齡結構統計，請依據表中內容判斷，回答下列第47~50題：



47. () 從四個不同時期的幼年人口變化可以看出何種家庭功能的轉變？(A)保護與照顧功能 (B)生育功能 (C)教育功能 (D)經濟功能。
48. () 萬芳國政府想要改善日趨嚴重如圖顯示的問題，以下政策哪些有助於改善此項問題？(甲)推動長期照護政策 (乙)交通接送服務 (丙)開辦生活適應班 (丁)開辦安養中心 (A)甲乙丙 (B)乙丙丁 (C)甲丙丁 (D)甲乙丁。
49. () 根據內政部的統計，我國自民國107年起正式邁入「高齡社會」。請問：我國目前的人口結構最接近上表中的那一個時期？(A)甲 (B)乙 (C)丙 (D)丁。
50. () 我國社會和萬芳國有同樣問題，造成此現象，你覺得下列是可能的原因？(甲)醫療技術進步 (乙)生育率下降 (丙)離婚率提高 (丁)平均壽命延長 (A)甲乙丙 (B)乙丙丁 (C)甲丙丁 (D)甲乙丁。

108 學年度七年級第二次段考社會科試題答案

答案：(1~17 題地理；18~33 題歷史；34~50 題公民)

1	2	3	4	5	6	7	8	9	10
B	C	B	A	C	A	D	C	C	D
11	12	13	14	15	16	17	18	19	20
B	D	C	C	A	B	A	A	D	B
21	22	23	24	25	26	27	28	29	30
C	D	C	C	A	D	C	B	D	D
31	32	33	34	35	36	37	38	39	40
B	B	A	C	B	B	B	B	C	A
41	42	43	44	45	46	47	48	49	50
C	B	C	C	B	D	B	D	C	D