

臺北市立萬芳高級中學國中部 108 學年度第 1 學期第 1 次定期考查 9 年級歷史科試題卷

範圍：(翰林版) 第 1 章~第 2 章第 3 節

班級：

座號：

姓名：

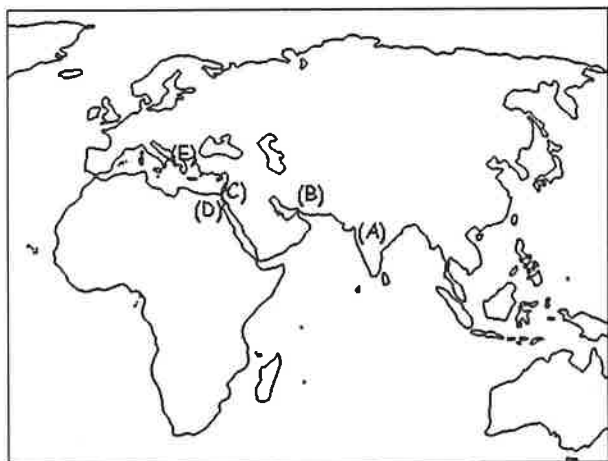
一、配合題 (共 20 題，每題 2 分)

【第 1 部份】請將以下宗教信仰的內涵，與其所屬宗教作正確配對：

(A) 婆羅門教 (B) 祆教 (C) 佛教 (D) 猶太教

1. 他坐在菩提樹下，經過七七四十九天的冥想，並戰勝來自各方的擾亂與誘惑，終於在一個月明之夜覺悟成佛，開始對大眾宣講眾生平等的觀念。他期勉人們，勿放任於輕率，亦勿耽於感官享樂，專注禪定者，可得至樂。心靈將如無泥之湖透明澄澈，生死輪迴皆已不存。
2. 人的靈魂和絕對的精神世界是最高的存在，而靈魂根據個人的「業」進行輪迴轉世、因果報應。人唯有透過祭祀才能與神溝通，而更進一步的修行擺脫物質的欲望，才能使自己保持與靈魂統一，進而與婆羅摩合而為一，得到快樂和永存，得到真正的解脫。
3. 善與惡是宇宙初生之時就存在的雙生兒。兩者在人心中不斷衝突，最後終將在他們的創造者阿胡拉馬茲達之前得到解決，這就是人死後的審判。行善者，將入至善的天堂，行惡者，前往只有無止盡痛苦的黑暗之城。
4. 「神吩咐這一切的話，說：『我是耶和華，你的神，曾將你從埃及地為奴之家領出來。除了我以外，你不可有別的神。……愛我、守我誠命的，我必向他們發慈愛，直到千代。不可妄稱耶和華的名。...』」

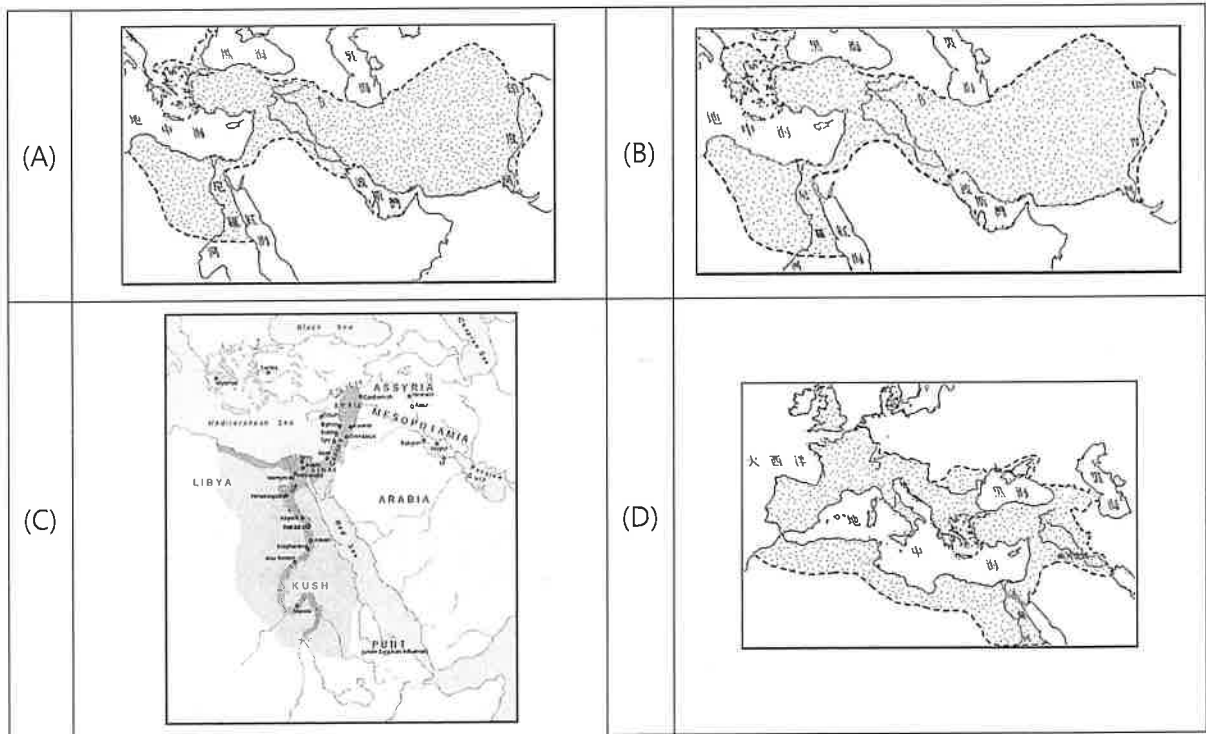
【第 2 部份】請依據下列地圖，將以下宗教信仰的內涵，與其發源地點作正確配對。



5. 「和與戰怎能由人類來決定？這事只能取決於神的意志。神與人一樣，具有需要愛情與睡眠的弱點。而除了饑餓與死亡外，凡是人類做的事，祂們都做，也都干涉。」
6. 「眾神將婆羅摩分割，祂的口是婆羅門，祂的雙臂成了剎帝利，祂的腿成為吠舍，祂的腳上則生出首陀羅。」
7. 他主張宇宙間有善、惡二神，分別代表了光明與黑暗。善惡二神自有宇宙以來便不斷的交戰與衝突，最後的結果是善神獲得勝利。
8. 「啊！尊崇的大神，……你心中蘊藏正義和真知。你為荷魯斯主持正義，……願我能來到你身邊，因我沒有犯罪，從未行詐欺之事，從未妄作偽言。請別讓罪惡趨近我，我生活在真知中，做神靈歡喜之事，我遵從神律，做神靈希冀之事。……我向眾神祈願，我已知曉再生的道理。」

[第 3 部份] 下表內容為 4 個歷史上強大政權的疆域圖，請依題目敘述內容，選出正確的圖文配對：

9. 歷史上第一個橫跨歐、亞、非三洲的大帝國。
10. 曾與中國漢朝相輝映的強大帝國。
11. 透過建立城市、鼓勵跨族群通婚等政策，打破東西文化與政治的隔閡，創造「世界一家」的新型文化。



[第 4 部份] 古文明的文化成就對後世影響深遠。請將下列文化成就，與發展出它們的民族作正確配對：

(A) 巴比倫人 (B) 西臺人 (C) 蘇美人 (D) 亞述人 (E) 加爾底亞人。

12. 編訂《漢摩拉比法典》。
13. 發明六十進位法。
14. 確立「一週七天制」，擅長觀星並藉以占卜，為許多星座命名。
15. 最早掌握冶鐵技術。
16. 善長軍事騎射，以征戰打造強大帝國，並喜以浮雕呈現其軍功與善戰英姿。

[第 5 部份] 右圖為西方文化的發源地之一，這個地區在上古時期曾建立燦爛的文明，影響後世深遠。請將下列文字描述與圖中地點做正確配對：

17. 帕德嫩神廟的所在地。
18. 荷馬史詩中所記述「木馬屠城記」的發生地點。
19. 實施軍國主義與全民皆兵制的城邦。
20. 最早發展出民主政治的城邦。

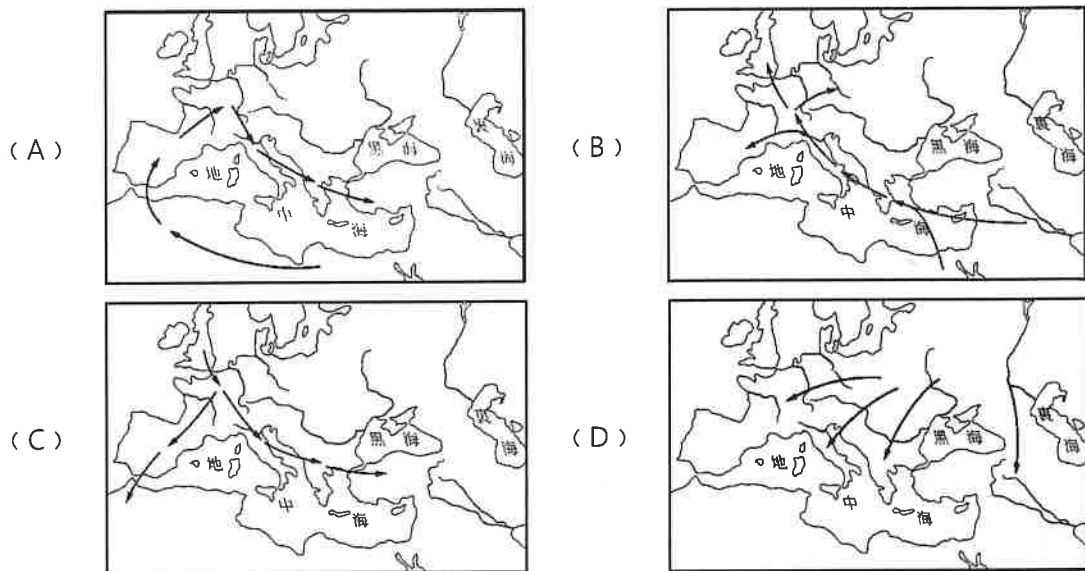


二、選擇題

21. 西元前 3000 年以後，不同的民族先後遷入兩河流域，建立政權。有些民族使用閃族語言，有的則使用印歐語言。這些民族的語言雖然不同，但此地區的文化與貿易能夠持續成長，學者認為這種情況主要是由於下列哪一個共通的重要基礎？(A) 使用鐵器 (B) 統一貨幣 (C) 楔形文字 (D) 軍事技術。



22. 出生於西元前 550 年的赫喀提亞，以自己居住的地方為世界中心（圖的圓心），大致繪製出一張「世界全圖」，如右列附圖所示。請問，他居住的地方最接近下列何處？
 (A) 兩河流域 (B) 印度半島 (C) 伊朗高原 (D) 愛琴海地區。
23. 歐洲文明的重要源流之一為古希臘羅馬文明，然而在此之前，有些地區早已發展出高度文明，因此有史學家認為：「光，來自於東方。」請問，這來自「東方」並影響古希臘羅馬的高度文明，是指下列哪些地區？
 (A) 印度、埃及 (B) 中國、印度 (C) 西亞、埃及 (D) 中國、埃及。
24. 上古西亞與兩河流域民族與政治雖然複雜，卻有其共通性，這是因為他們都繼承了哪一民族的文化遺產？
 (A) 蘇美 (B) 波斯 (C) 亞述 (D) 巴比倫。
25. 關於歐洲文明大致的發源與擴張過程，下列哪一幅圖示內容較為正確？



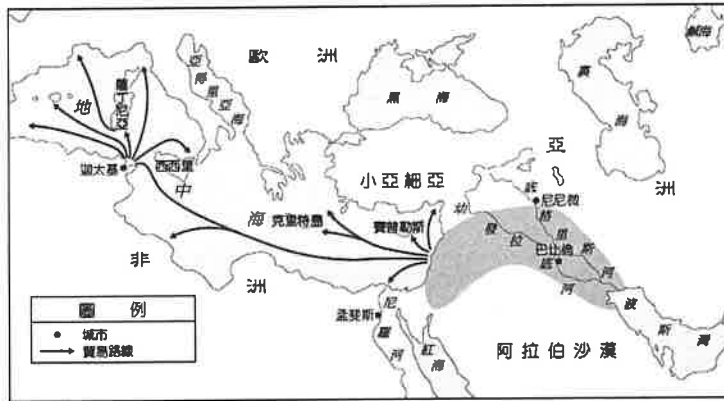
26. 西元前 349 年，一位政治家指出城邦的危機：「公民們！你們曾經多次拯救希臘人，曾經多次保衛希臘的權利，並勇於拿起武器對抗斯巴達，但現在，你們卻失去了公民精神，只想保有公民的權力，卻不願善盡義務！這是比外患更迫切的危機！」請問，這位政治家所指的城邦應該是哪一個？
 (A) 邁錫尼 (B) 馬其頓 (C) 羅馬 (D) 雅典。
27. 「此後一千年間，埃及作為一個強大的帝國捲入近東世界的爭霸鬥爭，..... 將敘利亞、巴勒斯坦和努比亞都置於自己的勢力範圍。」請問：此段文字描述的埃及歷史，應是埃及歷史的哪個階段？(A) 古王國時期 (B) 中王國時期 (C) 新王國時期 (D) 托勒密王國時期。
28. 「西亞地區商業交易頻繁，為了維持日益複雜的社會關係和經濟活動，此地區人民特別重視契約和法律觀念。」根據上述說法，下列哪一項敘述正確？(A) 法律的出現與明定條文與商業活動的繁盛有關 (B) 為求人人平等以追求經濟利益，古代西亞人特別強調守法的精神 (C) 古代西亞地區因為人人守法，故商業發達 (D) 法律用來規範複雜的社會關係，有助於階級之間的調和。
29. 萬萬正在閱讀一本希臘史書，導讀的序文中有以下敘述：「他的巨著以波希戰爭為中心。為了寫作，他收集古書、周遊列國、觀風望俗、訪問耆老。其寫作規模與考察史地的精神，正可與中國史學家司馬遷的作法相比擬。」請問，這本史書的作者應為下列何人？(A) 蘇格拉底 (B) 歐幾里得 (C) 希羅多德 (D) 阿基米德。

30. 古羅馬在歷史上曾創下偉大的文明，疆域之廣亦空前絕後，羅馬人曾自豪的說「地中海是我們的內海」，而羅馬城更被視為「永恆之城」，令後人驚嘆不已。請問，古羅馬積極對外擴張，使版圖橫跨歐、亞、非三洲，是在下列哪個時期？（A）王政時期（B）共和時期（C）帝國時期（D）東羅馬帝國時期。

31. 右圖是小花在書上看到的一幀漫畫。請問畫中內容最可能是介紹下列哪個古文明？（A）古希臘（B）古波斯（C）巴比倫（D）古埃及。



32. 下方附圖是早期西亞某個民族的航海貿易路線。根據圖中的內容判斷，這個民族應是下列何者？（A）希臘人（B）腓尼基人（C）蘇美人（D）希伯來人。



【題組 1】請閱讀以下新聞報導摘錄，回答 33~37 題：

「極端組織伊斯蘭國在 2014 年 6 月 10 日佔領伊拉克北方大城摩蘇爾，僅僅 2014~2017 三年之間，便已造成 5 萬名居民死亡、150 萬人流離失所，也因意識形態摧毀 47 處歷史與宗教建築。2015 年，更以榔頭與電鑽摧毀伊拉克摩蘇爾博物館內無價的古文物，震驚考古學界，被視為是繼 2001 年阿富汗巴米揚大佛雕像遭「神學士」組織炸毀後，全球最重大的文化浩劫。一名聖戰士（伊斯蘭國民兵）對著攝影機說：『穆斯林啊，我身後的這些文物是古人的偶像，他們敬拜這些偶像，而非阿拉。先知以神聖的手除去偶像，並將之埋葬於麥加。』他表示：『縱使它們價值數十億美元，但我們不在乎！』考古兼犯罪學家哈地指出，事實上，伊斯蘭國只有摧毀無法走私到黑市的龐大古文物。專家指出，這恐是伊斯蘭國系統性摧毀掌控區內古代遺址的開始，摩蘇爾地區有多處考古遺址，像是尼尼微省（Nineveh）的古城和尼姆魯德（Nimrud），尤其重要，也最是岌岌可危……」請問：

33. 從上文敘述中可以得知，摩蘇爾應是古代哪一古文明的首都所在？
（A）蘇美（B）巴比倫（C）波斯（D）亞述。
34. 穆斯林（伊斯蘭教的信徒）對於敬拜偶像行為的反對以及唯一真主的信仰，應是受到下列何種宗教的影響？
（A）猶太教（B）基督教（C）佛教（D）祆教。
35. 巴米揚大佛是曾經坐落在阿富汗巴米揚谷內山崖上的兩尊立佛像，建於公元六世紀，是希臘式佛教藝術的經典作品，卻於 2001 年被神學士（即塔利班，為遜尼派伊斯蘭基本教義派武裝恐怖組織）炸毀。位於中亞的阿富汗，曾有佛教的傳揚與佛教造像的遺留，應與下列何人的功蹟有關？
（A）釋迦牟尼（B）阿育王（C）漢摩拉比（D）玄奘法師。
36. 巴米揚大佛會具有希臘式的造像風格，應與下列何者有關？
（A）古波斯帝國首建橫跨歐亞非三洲的帝國（B）埃及新王國時期向外擴張疆域（C）亞歷山大東征（D）笈多王朝統治印度半島。

37. 伊拉克地區在上古時代曾經先後被哪些政權所統治？請在以下選項中選出正確的排列順序：
- (A) 巴比倫帝國→亞歷山大帝國→波斯帝國→羅馬帝國；
 (B) 波斯帝國→亞歷山大帝國→巴比倫帝國→羅馬帝國；
 (C) 羅馬帝國→巴比倫帝國→波斯帝國→亞歷山大帝國；
 (D) 巴比倫帝國→波斯帝國→亞歷山大帝國→羅馬帝國。

[題組 2] 小芳在閱讀羅馬史時，整理了幾位重要統治者的事蹟，如下列資料所述。請根據資料回答問題：

資料 1：他透過軍事力量重新統一羅馬西部與東部的領土，選定「拜占庭」加以擴建成為羅馬的新首都，以便有效統治廣大的疆土，掌握東方愈趨重要的經濟資源。

資料 2：他在結束一個多世紀的政爭與內亂後，為羅馬全境恢復和平。元老院向他獻上「奧古斯都」的封號，並許以「執政官」、「大將軍」、「祭司長」、甚至「終身護民官」等職務，集大權於一身。

資料 3：他戰功彪炳，以軍力入侵並征服高盧全境，使其成為羅馬行省，更將羅馬國界推進到萊茵河岸，使他的威望日漸高漲。後來他將軍隊開進羅馬，在內戰中獲勝，逐步奪得「獨裁官」、「執政官」與其他行政官員的權力，進行大刀闊斧的改革。然而最後卻遇刺身亡。

資料 4：這位統治者透過近二十年的努力，使羅馬的行政再次統一。卻在臨終之前，將羅馬分為東、西兩部，分別由兩個兒子繼承。羅馬遂正式分裂為東、西兩部，不再復合。

38. 請問四則資料所敘述的對象應為何人？請選出正確的組合。

	資料 1	資料 2	資料 3	資料 4
(A)	狄奧多西	君士坦丁	凱薩	屋大維
(B)	君士坦丁	屋大維	凱薩	狄奧多西
(C)	君士坦丁	凱薩	屋大維	狄奧多西
(D)	狄奧多西	屋大維	凱薩	君士坦丁

39. 請問四則資料的歷史發展順序為何？

- (A) 資料 1→資料 2→資料 3→資料 4 (B) 資料 2→資料 3→資料 1→資料 4
 (C) 資料 3→資料 2→資料 1→資料 4 (D) 資料 4→資料 1→資料 2→資料 3

40. 請問這四則資料的內容，何者處於羅馬政體從「共和」向「帝國」發展的過渡時期？

- (A) 資料 1 (B) 資料 2 (C) 資料 3 (D) 資料 4。

試題結束

萬芳高中國中部 108 學年度第 1 學期第 1 次定期考查
9 年級歷史科試題解答

1	C	2	A	3	B	4	D	5	E
6	A	7	B	8	D	9	A	10	D
11	B	12	A	13	C	14	E	15	B
16	D	17	C	18	D	19	B	20	C
21	C	22	D	23	C	24	A	25	B
26	D	27	C	28	A	29	C	30	B
31	A	32	B	33	D	34	A	35	B
36	C	37	D	38	B	39	C	40	C