

科目：地理科

適用班級：J901~J907

高中部

國中部

學生班級：_____ 學生姓名：_____ 座號：_____

◎單一選擇題：共 50 題，1 題 2 分，總分 100 分。

一、題組

西亞和中國、印度、埃及等地同為大河古文明的發源地，曾經孕育出相當偉大的文化遺跡，如空中花園等古建築。附圖(一)為西亞簡圖，甲~丁為國家，ㄅ~ㄿ為海域名稱。請依圖(一)回答第 1 題~9 題：

1. 西亞地處三大洲的接觸帶上，戰略及交通地位相當重要。這三大洲分別為下列何者？

- (A)亞洲、非洲、北美洲 (B)亞洲、歐洲、非洲
(C)歐洲、非洲、北美洲 (D)歐洲、亞洲、南美洲

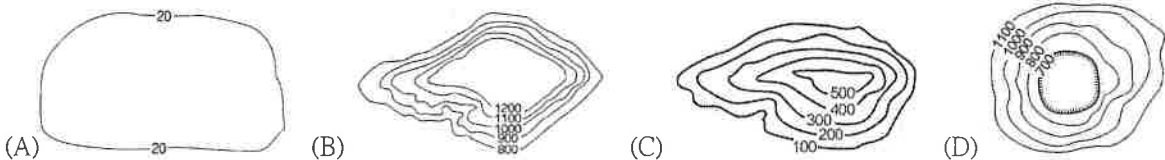
2. 西亞的兩河流域文明歷史悠久，並有「肥沃月彎」之稱。蘇美爾人在美索不達米亞平原南部開掘溝渠，依靠複雜的灌溉網，成功地利用了河水，創建了第一代文明。請問：其主要位於圖(一)中哪個國家境內？

- (A)甲 (B)乙 (C)丙 (D)丁

3. 西亞約占世界石油蘊藏量的 77% 及石油產量的 40%，請問：西亞大部分的石油蘊藏量集中於哪個海域沿岸？

- (A)ㄅ (B)ㄿ (C)ㄿ (D)ㄿ

4. 下列四張等高線地形圖中，何者最能表示「丙」國家的地形主體？



5. 小鳳分享到西亞的旅遊經歷：「那兒的文化多元，一座座雄偉華麗的清真寺、美麗的聖索菲亞大教堂，令人眼界大開。它也是世界上唯一橫跨兩大洲的城市。最特別的是搭火車經過鐵橋，或坐汽車經過海底隧道，就可以到另一洲了。」上述所指的城市可能位在下列何地區？ (A)甲 (B)乙 (C)丙 (D)丁

6. ㄿ是個呈狹長型的海域，長約 2250 公里，最寬 355 公里，其西北面通過蘇伊士運河與ㄅ海域相連。請問：下列何者是ㄿ海域的主要成因？

- (A)板塊運動 (B)冰河侵蝕 (C)河川切割 (D)人工開鑿

7. 勇松在晚自習時用功復習地理科，他看到中國新疆地區有圖(二)中的水利設施，目的是為了能更有效的利用水源。請問：此類似的引水設施在西亞何處也可見到？

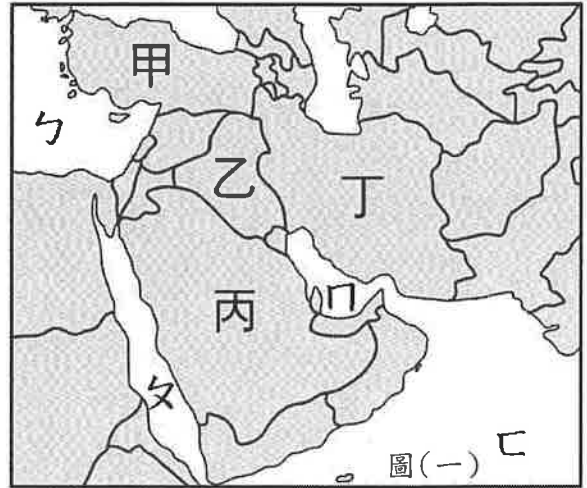
- (A)甲 (B)乙 (C)丙 (D)丁

8. 承上題，其設置地下水道(暗渠)的最主要目的為何？

- (A)淨化水質 (B)減少蒸發 (C)導出積水 (D)防止下陷

9. 西亞地區的水資源十分珍貴。為了發展農業，阿拉伯半島的沙漠區利用圖(三)的技術取用何種水資源，以灌溉農田？

- (A)雨水 (B)雪水 (C)地下水 (D)河水



➤圖(三)

附圖(四)為歐洲的簡圖，甲~丁為地理區，是歐洲四大半島。請依圖(四)回答第10題~14題：

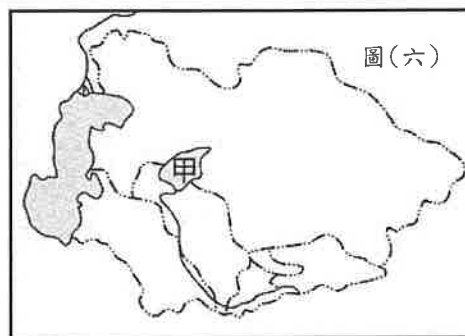
- 歐洲三面環海有如大半島，西部濱臨海域之處船隻往來頻繁，經濟繁榮。請問：歐洲西部濱臨哪個海域？
(A)大西洋 (B)太平洋 (C)北極海 (D)地中海。
- 某地的地形崎嶇且多火山、地震，當地著名的龐貝城就是被維蘇威火山噴發的火山灰所掩埋，消失於歷史中。請問上文描述的地區位在圖(四)中何地？
(A)甲 (B)乙 (C)丙 (D)丁
- 圖(四)中哪個地區有冰蝕形成的峽灣地形，利於航運與漁業的發展？
(A)甲 (B)乙 (C)丙 (D)丁
- 圖(五)的學生們畢業旅行想選擇一起前往歐洲某國，大家在討論該國著名的景點活動，由圖(五)的對話中可推測，他們要前往的國家位在圖(四)中的何處？
(A)甲 (B)乙 (C)丙 (D)丁
- 「該地陽光普照，海水湛藍，是許多旅遊者的天堂，沿途盡情欣賞愛情海上無數浪漫的小島。建築特色為藍頂、白牆，房屋大多漆成白色，用以反射陽光，維持屋內的涼爽。」根據以上對歐洲某地的描述，其位在圖(四)中的何地區？
(A)甲 (B)乙 (C)丙 (D)丁



「亞洲心臟，世界邊緣」，可以用來說明中亞的地位。圖(六)是中亞地區簡圖，表(一)為「中亞各國國內總產值比例表」。請回答第15題~18題：

國家	第一級產業	第二級產業	第三級產業
哈薩克	9%	48%	43%
吉爾吉斯	38%	27%	35%
土庫曼	27%	50%	23%
烏茲別克	36%	21%	43%
塔吉克	19%	26%	55%

表(一)



- 表(一)中五個國家中，哈薩克依賴農業發展的比例較低，第二級產業位居其產業發展的重要地位。請問：哈薩克的工業有何優良的發展條件？
(A)技術優良 (B)礦產豐富 (C)海運發達 (D)市場廣大
- 圖(六)中的甲曾名列世界第四大湖，但是此區國家曾經為前蘇聯共和國成員，居民為了使「沙漠也開花」，大量引水灌溉，自1960年代後，面積不斷地萎縮，已萎縮至原來面積的10%。「甲」湖泊為下列何者？
(A)鹹海 (B)裏海 (C)死海 (D)黑海
- 承上題，注入甲湖泊的河水被截取過多，湖水減少導致魚類大量死亡，造成生態浩劫。請問：以下那一條河會流入甲湖泊？
(A)波河 (B)阿母河 (C)多瑙河 (D)幼發拉底河
- 新聞報導：「烏茲別克是全球第五大○○出口國。每年秋天，政府會徵用約一百萬名『志願者』摘○○，而拒當強制勞工則可能被開除或逮捕。幾年前，學生還會被定期征來摘○○，其中小的只有七歲，而一些高中生的孩子現在仍會被徵招。」請問：新聞中的「○○」經濟作物為何？
(A)橄欖 (B)椰棗 (C)棉花 (D)咖啡

◎請依下述文章內容回答第 19 題~22 題：

英國脫歐：無協議脫歐前景引發四大擔憂

資料來源：BBC 中文網站 2019 年 8 月 6 日

自從約翰遜任英國首相以來，10 月 31 日有無協議也「一定脫歐」幾成英國政壇和媒體的唯一關注話題。何謂無協議脫歐？無協議脫歐，指的就是英國在未與歐盟達成任何「離婚協議」情況下，單方面脫離歐盟。

簡而言之，如果出現無條件脫歐狀況，10 月 31 日午夜一過，英國便自動退出歐盟。財政方面，英國也將停止向歐盟預算繳納約 90 億英鎊的年度成員費。

無協議脫歐之後人們普遍擔心的四大影響分別是：英歐貿易關係，北愛爾蘭邊界問題，「離婚帳單」和雙邊常住公民待遇。

反脫歐一方認為無協議脫歐將引發經濟災難，甚至警告可能由於恢復邊界而導致北愛爾蘭脫離英國和暴力重現。過去一年以來，英國各行業都大量囤積進口物資，從白紙到冷凍食物原料，擔心脫歐談判破裂影響供應鏈。支持脫歐的人士則反駁認為，任何暫時的混亂和困難都會很快過去，脫歐對英國這個以國內消費和服務為主的經濟體將影響有限。

19. 英國準備退出的歐洲聯盟為區域性經濟組織的典範。請問：下列哪個圖示是該組織的象徵旗幟？



(A)



(B)



(C)



(D)

20. 請問：下列有關歐洲聯盟的特色敘述中，何者正確？

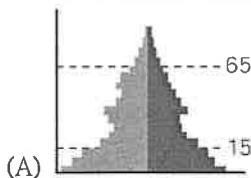
(A)發行歐元做為流通貨幣，有助商業交流 (B)規定使用英語為單一語言，利於國家間溝通

(C)會員經濟發展程度相同，利於相互交流 (D)由所有歐洲國家共同組成，不參加會被罰款

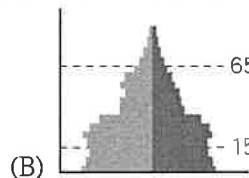
21. 依據文章中描述，英國各行業都大量囤積進口物資，主要原因是英國脫離歐洲聯盟後進口的原料價格會上漲。請問：造成上述問題的原因是歐洲聯盟會員之間有那一項貿易特性？

(A)工業產品規格統一 (B)享有免關稅的優惠 (C)開放國界自由通行 (D)可到其他會員國工作

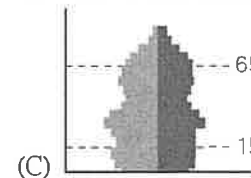
22. 英國位於歐洲西半部，國民所得高、經濟發達，因此支持脫歐的人士認為脫離歐盟對英國經濟影響有限。請問：依據英國的經濟發展程度，其人口金字塔與下列哪一種類型較為相似？



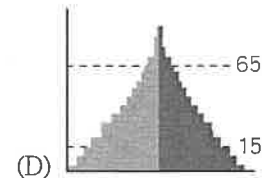
(A)



(B)



(C)



(D)

圖(七)為某購物網站的廣告宣傳。請回答第 23 題~24 題：

23. 請問：造成死海湖水鹽度高的主要原因為何？

(A)人為開發 (B)圍湖造田 (C)蒸發旺盛 (D)夏雨冬乾

24. 水資源的爭奪亦有可能引發國家間的衝突。目前某國政府在死海上游的約旦河築壩攔截取水，以灌溉中南部的農田，即引起附近國家不滿。請問：上文中的某國最可能是哪一國？

(A)以色列 (B)伊拉克 (C)土耳其 (D)沙烏地阿拉伯



WOWO 購物網

死海面膜

死海泥膜是源於中東的死海，一個最接近地心的地方，低於海平面近四百公尺，被譽為地球之臍。含鹽量最高達 33%，是一般海水含鹽量的 10 倍，死海泥含有 60% 礦物質，被譽為世界上最大最好的礦物庫，所以我們公司的死海泥面膜是高優質的護膚聖品。

圖(七)

◎請依下述文章內容回答第 25 題~28 題：

沙烏地阿拉伯開放觀光 小心誤踩禁令地雷挨罰

資料來源：改寫自自由時報網頁版 2019 年 9 月 6 日

沙烏地阿拉伯以往只允許宗教因素或商務性質的外籍人士入境，27 日宣布開放旅遊簽證，台灣旅客可選擇申請電子簽證或落地簽證，但沙國是全球最封閉的國家之一，也有「宗教警察」負責管理人民的言行，對於民眾的言行有許多嚴格規範。

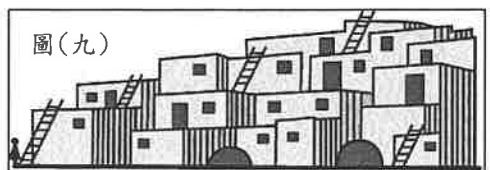
沙國政府提醒旅客遵守當地法令，以免不慎受罰，其中包含國內不可飲酒、異性之間需保持距離、公共場合不得飲食與在外需衣著整齊等規定。同時沙國也將鬆綁外國女遊客的服裝儀容限制。這項政策旨在促進沙國觀光產業，同時減少對○○的經濟依賴。

25. 依據文章中所描述的違法行為，「宗教警察」主要是按照哪一個宗教的規範來管理人民言行？
(A)佛教 (B)猶太教 (C)基督教 (D)伊斯蘭教
26. 沙烏地阿拉伯國民的生活方式受宗教信仰影響極深。有關當地的敘述，下列何者正確？
(A)教義規定不吃豬肉 (B)承認上帝耶和華是唯一真神 (C)每週要上教堂做禮拜 (D)每日向麥地那禮拜五次
27. 文章中提到沙烏地阿拉伯這項簽證政策的宗旨在減少對「○○」的經濟依賴。請問：「○○」是指下列何者？
(A)煤礦 (B)河水 (C)石油 (D)椰棗
28. 沙烏地阿拉伯當地的傳統服飾多為頭巾、寬鬆長袍，主要是為適應當地炎熱的氣候。影響該地區氣候的主要原因為何？
(A)距海遙遠 (B)高壓籠罩 (C)面積廣大 (D)對流旺盛

二、單題

29. 新生代第三紀時期，非洲古大陸板塊向北推移，使古地中海面積縮小，南歐的地貌也於此時大致形成。請問：南歐哪一個自然環境特性與非洲古大陸板塊向北推移關係最密切？
(A)半島深入海洋 (B)氣候優良適人居 (C)地形崎嶇破碎 (D)平原寬廣遼闊
30. 某旅行社的行程廣告如附圖(八)所示，請問：廣告中的國家為哪一國？
(A)希臘 (B)教廷 (C)葡萄牙 (D)西班牙
31. 花蓮的大理石加工廠老闆欲前往被稱為「世界大理石之都」的歐洲小鎮考察，了解當地大理石工業的發展及展銷方式。他應該前往何國考察較適宜？
(A)法國 (B)希臘 (C)西班牙 (D)義大利。
32. 建築的類型常反映出當地的自然與人文環境特色。圖(九)為西亞多數的房屋，其特點是牆很厚，門窗也很小。請問：西亞地區出現此種建築景觀的主要原因為何？
(A)防止盜匪的入侵 (B)阻止風沙的侵襲 (C)預防雨水滲透進屋 (D)冬天溼冷可以保暖
33. 西亞地區的衝突不斷，該區內部的宗教及族群衝突為主要原因之一，其中三個宗教聖地的示意圖如圖(十)所示。請問：該聖地最可能為下列何者？
(A)麥加 (B)羅馬 (C)伊斯坦堡 (D)耶路撒冷
34. 浩雨暑假到某國旅遊，他在社群網站上發布遊記：「這裡充滿著陽光藍天，現在是這裡的乾季。這個國家有國際知名的時尚設計中心與古羅馬文明遺跡，以及河道縱橫的水都。」請問：浩雨應該是到下列哪個國家旅遊？
(A)哈薩克 (B)以色列 (C)義大利 (D)西班牙

造訪臺灣在歐洲唯一的邦交國，同時也是全球面積最小、人口最少的國家。面積約中正紀念堂的兩倍大，素有「城中之國」的稱號。 圖(八)

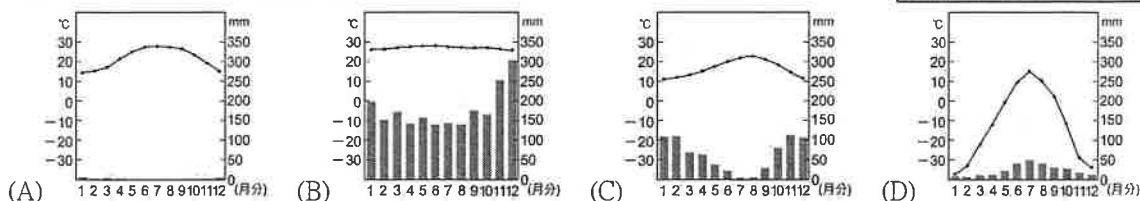
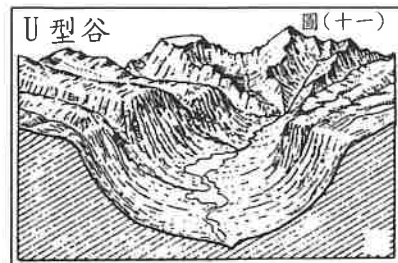


圖(九)

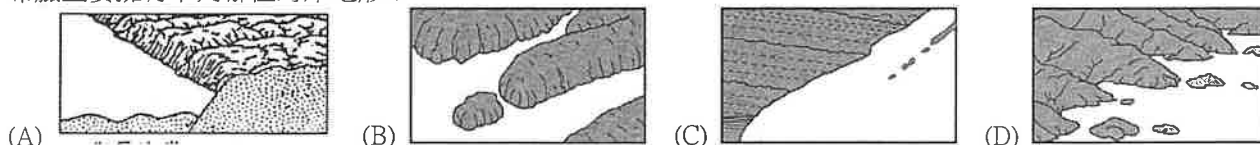



圖(十)

35. 阿德在世界地理雜誌上看到圖(十一)的地形，請問：這種地形特色最可能在哪一個地區見到？
 (A)阿爾卑斯山 (B)高加索山 (C)阿拉伯高原 (D)安納托利亞高原
36. 承上題，請問：圖(十一)中的景觀是何種作用力所造成？
 (A)火山作用 (B)風蝕作用 (C)冰河作用 (D)河川作用
37. 歐洲某區域的降水季節與生長季無法配合，因此農業活動須仰賴灌溉設施。該區的氣候類型應該為下列何張氣候圖？



38. 「貝都因」的意思是「荒漠上的游牧者」，貝都因人一般生活在沙漠邊緣的草原地帶，按照季節和固定路線進行規律的移動。請問：貝都因人主要活動於下列那一區域？
 (A)美索不達米亞平原 (B)阿拉伯高原 (C)歐洲大平原 (D)伊朗高原
39. 地球有一些國家非常缺水，最珍貴的資源莫過於水，圖(十二)為某國的儲水塔，為了解決飲水問題，該國只好採用海水淡化的辦法。海水淡化的成本很高，每生產 1 噸淡水要耗電 3 度，讓該國是世界上水最昂貴的國家。請問：此儲水塔最可能是那一國設置的？
 (A)希臘 (B)科威特 (C)英國 (D)挪威
40. 歐洲西岸是全年有雨的溫帶海洋性氣候，愈向東年溫差愈大，年降水量愈少。上文所述歐洲氣候在空間上的差異，最主要是受到下列哪一因素影響？
 (A)距海遠近 (B)緯度高低 (C)季風風向 (D)地勢高低
41. 歐洲某一區域曾長久實施共產主義，使得經濟發展受限，人民薪資所得較歐洲其他地區低許多，但目前多已轉為市場經濟，高素質、低工資的勞工反而成為吸引外商投資的有利因素。上述地區主要位於歐洲何處？ (A)北歐 (B)東歐 (C)南歐 (D)西歐
42. 西班牙栽種的蔬菜、水果大量外銷西歐、北歐，有「歐洲大菜園」之稱。請問：西班牙在歐洲具有下列哪項環境優勢，利於農業發展？
 (A)降水豐富 (B)土壤肥沃 (C)生長季長 (D)平原廣大
43. 希臘的海岸線曲折、多海灣，長達 14000 公里，自古即以航運貿易著稱，其船隊數量至今仍居世界第一。希臘主要擁有下列哪種海岸地形？



44. 中亞各國因為過度引河水灌溉形成嚴重的環境問題，若以此製作專題報告，報告名稱應以何者命名較合適？
 (A)全球暖化，海平面快速上升 (B)地球發燒，澆不熄的森林野火
 (C)增加農地，消失的熱帶雨林 (D)土壤鹽鹼化，無法耕種的大地
45. 歐洲是世界人口分布最均勻的一洲，與下列哪一項條件有關係？
 (A)沒有沙漠氣候分布 (B)自由開放的移民政策 (C)部分地區人口成長停滯 (D)行星風帶有季節性移動
46. 某湖泊是世界第一大的鹹水湖，湖的面積約 38 萬平方公里，比很多國家的國土面積還大。尤其近年來勘探出湖底蘊藏著豐富的石油和天然氣，這一地區周圍國家紛紛展開資源的爭奪。請問：上文所述的湖泊是下列何者？(A)死海 (B)鹹海 (C)裏海 (D)黑海
47. 北歐國家的氣候較同緯度溫暖而潮濕，下列哪些是影響其氣候的原因？
 (甲)洋流 (乙)信風帶 (丙)西風帶 (丁)副熱帶高氣壓帶
 (A)甲、乙 (B)乙、丁 (C)甲、丙 (D)丙、丁
48. 以色列三分之二都面積是沙漠荒地，能種植的土地只相當於兩個台南市大。但靠著利用獨特的灌溉技術，盡量節省水源，成功創造每年 180 億產值的農業，是歐洲冬天不可或缺的蔬菜供應國。請問：以色列採用的灌溉技術為下列何者？ (A)滴灌 (B)渠道 (C)坎井 (D)地下水井
49. 2022 年世界盃足球賽將在西亞國家卡達舉辦。首場比賽 11 月開踢，這項決定是為避開卡達的炎熱夏季氣候，當地夏天高溫可達到攝氏 40 多度，因此該國為世足賽建造的 8 座體育場館將全都裝有空調設備。何者最能代表卡達的氣候類型？
 (A)溫帶沙漠氣候 (B)熱帶沙漠氣候 (C)溫帶地中海型氣候 (D)熱帶季風氣候
50. 歐亞大陸佔了全球大約 75% 人口、60% 的國家生產總值以及 75% 能源資源。在這塊大陸上的歐洲與亞洲界山為何？
 (A)阿爾卑斯山、庇里牛斯山 (B)阿爾卑斯山、烏拉山 (C)高加索山、阿爾卑斯山 (D)烏拉山、高加索山

科目：地理科

適用班級：J901~J907

高中部

國中部

一題 2 分，共 50 題，滿分為 100 分。

1	2	3	4	5	6	7	8	9	10
B	B	C	B	A	A	D	B	C	A
11	12	13	14	15	16	17	18	19	20
A	D	B	C	B	A	B	C	D	A
21	22	23	24	25	26	27	28	29	30
B	C	C	A	D	A	C	B	C	B
31	32	33	34	35	36	37	38	39	40
D	B	D	C	A	C	C	B	B	A
41	42	43	44	45	46	47	48	49	50
B	C	D	D	A	C	C	A	B	D