

臺北市立萬芳高級中學 一〇八學年度第一學期八年級

■ 第一 次定期考查 □ 甄試
□ 第 次補考 □ 第 次複習考

試卷

科目：社會

適用班級：801-808

高中部

國中南部

(1)班級、座號如為0-9，十位請劃記『0』；班級、座號為10、20、30...個位請劃記『0』

班級：

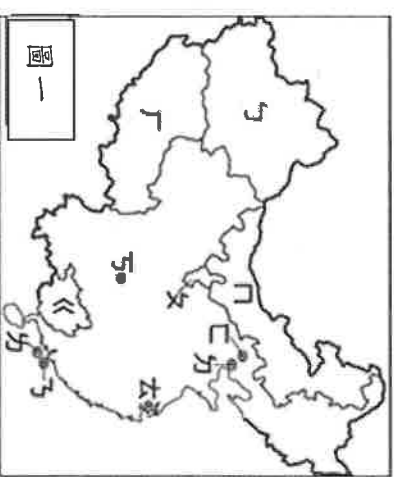
座號：

姓名：

單選題：(除33, 34題每題1分外，其餘題目每題2分，共51題，總分100分)
地理(第1~17題)

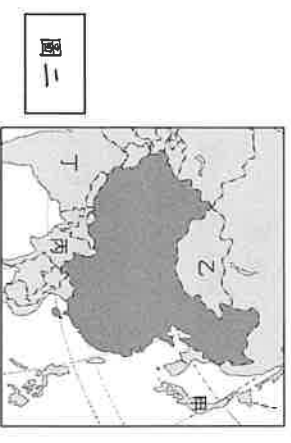
※圖一 是中國行政分區圖。請回答下列問題1~2題

- 1. () 香港《逃犯條例》爭議從6月9日開始觸發連串大規模示威，從相對和平和人數破紀錄的大遊行，逐步演變成暴力警民衝突... 請問以下針對香港的描述何者『錯誤』？
(A)位於圖一中代號乙(B)曾經被英國殖民(C)擁有自己的貨幣(D)行政地位與上海市同等級
- 2. () 針對圖一中各代號的行政區描述何項『錯誤』？
(A)乙區內曾為古絲路經過處 (B)乙區的少數民族主要信奉伊斯蘭教
(C)乙區為中國面積最大的直轄市 (D)丁區的主要地形有『世界屋脊』之稱



圖一

- 3. () 圖二 為中國與其鄰國分布圖。下列有關圖中各代號國家的配對，何者正確？
(A)甲：南韓 (B)乙：俄羅斯 (C)丙：泰國 (D)丁：印度。



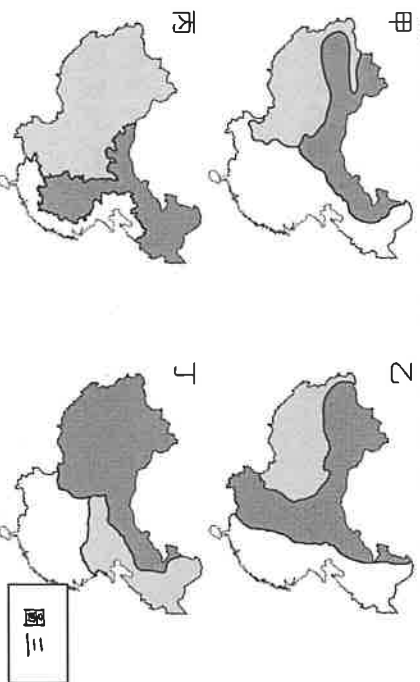
圖二

- 4. () 下列何者可用來表示中國正確的經緯度位置？
(A) (B) (C) (D)

- 5. () 新一季的《中國好歌聲》在2019年7月19日21:00於浙江衛視(120°E)首播，並於某網站同時直播節目；請問當時家住烏魯木齊(87°E)的於慶想要同步看這個節目首播，那麼他應於當日何時開啟網站觀賞？
(A)21:00 (B)17:00 (C)22:00 (D)18:00

- 6. () 中國哪一個地區可以同時找到省、自治區、直轄市、特別行政區等4種行政區劃？
(A)北部地區 (B)青藏地區 (C)南部地區 (D)西部地區。
- 7. () 因為釣魚台的主權問題常引起中國與日本雙方對峙，過去曾有千艘中國漁船前往釣魚台海域進行抗議活動，請問此海域應屬於中國的哪一緣海範圍？
(A)東海(B)渤海(C)黃海(D)南海

- 8. () 圖三 是中國依不同因素所劃分的地理區圖。請問圖中何者最適合呈現中國經濟發展的區域特色？(A)甲 (B)乙 (C)丙 (D)丁
- 9. () 下列哪種地理現象與中國西高東低的地勢起伏較「沒有」直接的因果關係？(A)海洋氣流能向西深入內陸 (B)東半部的山脈走向 (C)東部沿海地區人口較多 (D)大河流多由西往東流



圖三

- 10. () 大雄在觀察中國的地形與人類活動關係時，發現某地區的建築特色與土地利用方式受地形影響而出現如圖四照片。請問：他最可能正在觀察圖五中的哪一個地區？
(A)甲 (B)乙 (C)丙 (D)丁。



圖四



圖五

請翻頁繼續作答

11. () 中國山地地形的面積比例最高，其主要成因為板塊擠壓所造成。請問歐亞板塊和印澳板塊接觸帶所造成的山脈走向為何？



(A)

(B)

(C)

(D)

※**圖六**是中國主要盆地與高原地形分布圖(①~④是盆地，甲~丁是高原)，請依圖回答下列12~14題：

12. () 中國四大高原因為不同的營力作用而呈現出多樣的風貌景觀。請問下列敘述何者『錯誤』？

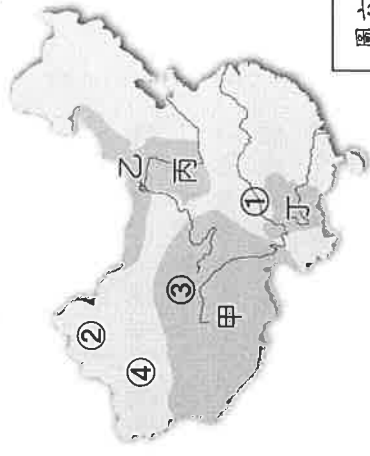
- (A) 甲—冰蝕作用旺盛，目前寒漠遍布
 (B) 乙—冬季高氣壓的發源地，易受風蝕作用影響，地表崎嶇
 (C) 丙—風積黃土遍布且受流水侵蝕，地表千溝萬豁
 (D) 丁—溶蝕作用旺盛，不利農耕

13. () 請問關於中國四大盆地的位置與特色配對何者正確？

- (A) ①—礦產豐富被譽為『聚寶盆』、『鹽的世界』。
 (B) ②—位於天山南側，近年來因石油的開採，而有『希望之海』之稱。
 (C) ③—四周多高山，形勢封閉，進出不易，昔日有『蜀道難，難於上青天』之嘆。
 (D) ④—深居內陸，氣候乾燥，境內有中國最大的「塔克拉瑪干沙漠」

14. () 香雅去中國旅遊，她將旅遊日記寫在IG上和親友分享：「…桂林風光以石灰岩地形聞名，地面山奇水秀，洞穴中鐘乳石姿態萬千，…」根據上文，香雅應是去圖中何地旅遊？

- (A) 甲 (B) 乙 (C) 丙 (D) 丁。



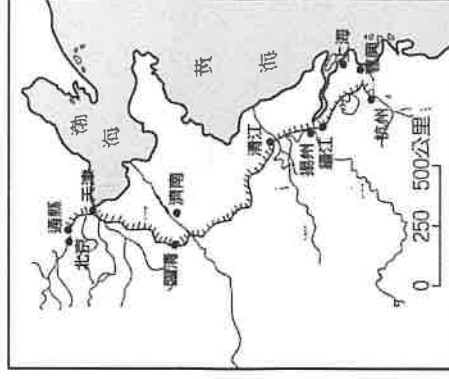
圖六

15. () **圖七**為中國的京杭大運河分布示意圖，請由圖中資料加以判斷，該運河所經過的區域大致為下列哪些地理區？

- (A) 華北平原—長江中下游平原 (B) 華北平原-珠江三角洲
 (C) 東北平原—東南丘陵 (D) 遼東丘陵—長江中下游平原
 () 來自中國的觀光客到臺灣某處海岸遊覽，他們發現當地的海岸型態和其故鄉—珠江三角洲地區的海岸極為

類似；請問這些觀光客應是到**圖八**中的臺灣何處

海岸旅遊？(A) 甲 (B) 乙 (C) 丙 (D) 丁。



圖八

17. () 右圖為根據真人真事改編的公益電影《走路上學》

的海報，此片講述生活在怒江邊上的瓦娃和娜香

姊弟，為了到江對面的學校上學，不得不每天命懸

一線、溜索過江的紀錄片，請問此片最有可能拍攝於下列哪個地區？

- (A) 四川盆地 (B) 青藏高原 (C) 橫斷山脈 (D) 黃河流域

走路上學
WUJIANG SCHOOL



歷史(第 18~35 題)

18. () 歷史老師要同學描繪出新石器時代人類的生活特徵，以確定同學能區分該時期與舊石器時代的不同。下列哪張圖片無法顯示新、舊石器代的差別？



(A)



(B)



(C)



(D)

19. () 「這個史前文化距今約五千多年前，當時人類住在半穴居建築中，使用磨製石器，又亮又薄的黑陶是其特色。」上文描述的史前文化，分布於右圖九的哪個區域？


- (A) 甲 (B) 乙 (C) 丙 (D) 丁。



圖九

請翻頁繼續作答

20. () 下列哪一遺址出土碳化稻米，住屋型態如附圖十？



圖十

(A)仰韶文化 (B)半坡文化 (C)龍山文化 (D)河姆渡文化。

21. () 黃帝之後，仁德的堯傳位給孝順的舜，舜傳位給治水有功的禹。請問：後人稱這種制度為何？
(A)禪讓制度 (B)部落推選 (C)封建制度 (D)君位世襲制。


22. () 沐恩上課認真，回家還自行製作三代的比較表如下，請問表格內容中哪一項有寫錯的地方？

朝代	夏	商	周
(A)首都	安邑	盤庚定都於殷	鎬京
(B)開國者	啟	湯	武王
(C)特色	中國史上第一個王朝	中國信史的開始	確立封建制度
(D)意義	三代為使用青銅器的鼎盛時期		

23. () 思明在考前將商代的重點整理成下表，不過粗心的他，不小心寫錯了一個地方，其中哪項的觀念錯誤？

項目	內容
甲 農業	農業發達，有多餘糧食可釀酒
乙 宗教	崇拜天神、地祇與人鬼
丙 文字	出現象形文字，已擺脫圖畫，為現今發現最早的中國文字
丁 天文曆法	以天干地支記日，並懂得置閏月

(A)甲 (B)乙 (C)丙 (D)丁。



圖十一

24. () 1959 年秋，考古學家徐旭生在河南省偃師市挖掘一座古代宮殿基址，其規模約兩平方公里，開創中國宮殿建築傳統的先河。右上圖十一即為這座宮殿復原想像圖。請問：這座宮殿遺址應是哪一文化？

(A)河姆渡文化 (B)二里頭文化 (C)仰韶文化 (D)龍山文化。
下列關於西周封建制度、宗法制度、禮樂制度、井田制度的說明，何者正確？
(A)封建制度是指分封商王的宗室、親戚與功臣於各地，以達到保衛王室的目的
(B)宗法制度規定由長子優先繼承，且區分大宗、小宗
(C)禮樂制度規範不同的身分階級、區別嫡庶尊卑，須按照身分等級遵守規範
(D)井田制度的私田是指土地所有權為農民所有，可自由買賣。

26. () 「周公東征」為西周的重大史事，對西周政權與勢力的維持有深遠的影響。請問：周公為何東征？

(A)剷除封建勢力 (B)犬戎入鎬京 (C)商人群起叛變 (D)管蔡之亂爆發。

27. () 歷史老師請同學在黑板上寫下西周至東周的變遷表(如附表)，表中項目何者正確？

項目	西周→東周
(甲)政治	尊王攘夷→爭霸爭雄
(乙)社會	世襲貴族→平民崛起
(丙)經濟	土地私有→井田制度
(丁)思想	私人講學→百家爭鳴

(A)甲 (B)乙 (C)丙 (D)丁。

28. () 漢武帝要求地方長官推舉孝子和廉吏等人才到中央，確立政府選拔人才的制度。請問此制度稱為？
(A)禪讓制度 (B)封建制度 (C)皇帝制度 (D)察舉制度。

29. () 美姿與同學玩桌遊拿到如附圖的四張手牌，如果遊戲規則是要按照事件發生先後出牌。請問：美姿出牌的順序應為何？(A)甲丙乙丁 (B)乙丙甲丁 (C)丙甲乙丁 (D)丁丙甲乙。



請翻頁繼續作答

30. () 下列四幅漫畫中，哪一個是屬於道家的思想？

視人如己，
崇尚和平。



(A)

清淨無為，
順應自然。



(B)

擅用權術，
建立權威。



(C)

有教無類，
因材施教。



(D)

31. () 下列何者非秦始皇所推動的措施？ (A)廢封建，行郡縣 (B)車同軌，書同文 (C)創年號，尊儒術 (D)修馳道，築長城。

32. () 每個朝代的滅亡，往往都有一些決定性的因素存在。請問：造成西漢與東漢衰亡皆有的原因為下列何者？

(A)宦官亂政 (B)外戚干政 (C)人民叛亂 (D)武官政變。

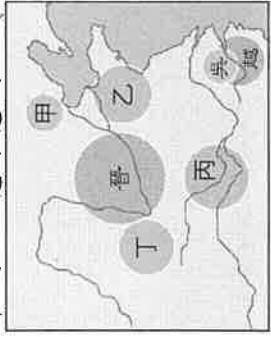
◆題組：請根據圖(十二)春秋各國形勢圖與圖(十三)與戰國時期的地圖，回答回答33~35題：(33~34每題1分，35題2分)

33. () 下圖(十二)是春秋時期各國形勢圖。請問：圖中哪一國因為任用管仲為相，而成為首位霸主？ (A)甲 (B)乙 (C)丙 (D)丁。

34. () 於西元前221年，統一天下的是圖(十三)中哪個國家？ (A)甲 (B)乙 (C)丙 (D)丁。

35. () 圖(十二)所代表的時代，發展到圖(十三)所代表的時代，我們可以看出下列哪種歷史發展的趨勢？

(A)國家數目愈來愈高 (B)國家數目愈來愈少，平民地位愈來愈低 (C)國家數目愈來愈多，平民地位愈來愈高 (D)國家數目愈來愈少，平民地位愈來愈高。



圖(十二)



圖(十三)

公民(第36~51題)

36. () 日本島根縣舉行「竹島之日」紀念典禮，典禮上宣稱日本擁有竹島(南韓稱獨島)的所有權。日本此舉一出，引發同樣也宣稱擁有該島所有權的南韓強烈不滿，向日本進行示威抗議。根據上述判斷，兩國的衝突，主要是下列哪項因素引起？

(A)人民國籍的取得 (B)領土管轄權的紛爭 (C)經濟海域的劃分 (D)統治機關的設立。

37. () 因應各縣市人口增減，我國依法進行選區重劃，西元2020年舉行的立法委員選舉，高雄、屏東各少一席，引發有意競選連任的現任立委的抗議，並研議推動修憲以解決根本問題。根據憲法規定，關於修憲的過程，下列敘述何者是正確的？

(A)立法院提案表決通過後即完成修憲 (B)立法院提案通過後，尚需經憲法法庭審理 (C)司法院提案通過後，須經公民投票程序 (D)立法院提案通過後，須經公民投票程序。

38. () 苗栗縣最後一位紋面國寶，柯菊蘭女士近日因病與世長辭。苗栗縣政府為留下珍貴文化資產，前幾年和花蓮縣政府已將「紋面傳統」登錄無形文化資產，並與文化部文化資產局合作推動「紋面傳統與紋面耆老保存維護計畫」，拍攝記錄紋面耆老口述歷史。根據上述內容判斷，政府的做法有助於達成國家成立的何種目的？

(A)發展社會福利 (B)保存文化傳統 (C)保障人民安全 (D)伸張司法正義。

39. () 凱西是美國國民，因為來臺灣從事美語教學工作而認識尹先生，兩人結婚後生下女兒茵茵。根據我國《國籍法》的規定，下列敘述何者正確？

(A)因為是在我國領土內出生，所以茵茵能成為我國國民 (B)茵茵必須申請歸化，才能成為我國國民 (C)父親尹先生是我國國民，茵茵即是我國國民 (D)因為母親凱西是美國人，造成茵茵不能成為我國國民。

40. () 圖1照片是西元2018年4月27日，兩個相鄰國家元首，在高峰會中握手的合照。此次會議是兩國睽違11年來，難得聚首的領袖對話，獲得國際媒體高度關注。在會議中，雙方主要討論無核化與建立永久和平等議題。根據上述內容判斷，下列關於兩國的「國體」敘述何者正確？

(A)一是民主國，一是獨裁國 (B)兩者都是民主國 (C)一是共和國，一是君主國 (D)兩者都是共和國

41. () 國家的分類可以國體、政體來區分。下列何人的說法正確？

(A)耀光：「有選舉的國家一定是民主國家。」 (B)名宏：「有君主的國家一定不民主。」 (C)啟民：「存在世襲元首的國家，人民難以參與政治。」 (D)晶和：「在民主的國家，政府施政要對人民負責。」

42. () 新聞報導：「桃園地區瞬間雨量過大，造成桃園機場聯外道路中斷，及第二航廈地下室淹水、停電等災情。交通部部長到立法院報告相關防災應變措施與檢討，並對於這次事件造成旅客及社會大眾不便，鞠躬向社會致歉。」上述交通部部長向社會鞠躬道歉的行為屬於何種責任？

(A)道德責任 (B)政治責任 (C)法律責任 (D)民意責任。



圖1(圖片來源：中央社)

43. () 根據我國憲法規定，中央政府五院中，下列哪些人員的產生方式相同？(甲)法官 (乙)審計長 (丙)立法委員 (丁)監察委員
- (A)乙丙 (B)乙丁 (C)甲丙 (D)甲丁。
44. () 近年來地方政府為解決居住問題，有意將國有地開發為社會住宅。為此，台北市政府都市發展局曾召開「文山區興隆路二三期基地」公聽會，邀集地方民眾提出想法與建議，作為決策參考。上述做法展現出何種民主政治的特色？
- (A)民憲政治 (B)法治政治 (C)責任政治 (D)政黨政治。
45. () 育奇為準備考試，將「三權分立」與「五權分立」兩個觀念加以整理比較。以下是育奇整理的內容，正確的敘述為何者？
- (A)「三權分立」的三權不包含司法權、監察權 (B)「五權分立」主張政府各部門要彼此監視與競爭 (C)「五權分立」將考試權與監察權獨立出來 (D)歐美政府運作目前多採用「五權分立」制度。
46. () 圖 2 是馨珮在課本上看到的一段敘述——
- 根據上述內容判斷，在民主政治中，政府機關的權力運作應更加重視何種原理？
- (A)人民直選 (B)主權在民 (C)政黨輪替 (D)權力分立。
47. () 2019年9月21日為「921地震」屆滿20年，回憶當時地震發生後，政府為因應重大災變，根據憲法增修條文規定，國家或人民遭遇緊急危難或財政經濟上重大變故，得經「甲」會議之決議，由「乙」發布「丙」，並於10日內提交「丁」追認。下列關於甲、乙、丙、丁的說明，何者正確？
- (A)甲指國家安全局 (B)乙指行政院院長 (C)丙指戒嚴命令 (D)丁指立法院。
48. () 警儀收看電視政論節目，節目來賓討論我國中央政府(甲)官員時提到：「對於(甲)違法或失職，(乙)機關相關人員得依法提案，一旦彈劾案通過，即交由司法院大法官審理。」根據來賓的說法，(甲)官員和(乙)機關為下列何者？
- (A)總統、行政院 (B)總統、立法院 (C)行政院長、立法院 (D)行政院長、司法院。
49. () 新聞報導：「立法委員就屏東縣居民最關心的交通議題，高鐵是否延長至屏東縣，質詢交通部部長，建請政府正視人民的期待。」根據上述內容判斷，立法委員質詢的對象應為下列哪個單位的官員？
- (A)監察院 (B)司法院 (C)行政院 (D)總統。
50. () 下列是玉娟和巧芳正在談論最近的政治動態——
- 玉娟：「最近行政院和立法院為了政策內容，鬧得不可開交，每天吵來吵去的。」
- 巧芳：「如果立法院對行政院的施政不滿意，可以對行政院院長提出不信任案，讓行政院院長換人做。」
- 玉娟：「如果這樣的話，立法院的權力會不會太大呢？」
- 巧芳：「不會啦！因為行政院院長也可以呈請總統解散立法院！」
- 從上述對話內容中，可以察覺我國政治運作的哪項設計原則？
- (A)分工合作以提高施政效率 (B)分權制衡以預防政府濫權 (C)主權在民以實現人民需求 (D)獨立運作以落實權責相符。
51. () 下表上公民課時，四位學生分別上台提出專題報告，內容如下表所示。這些問題顯示出國家應加強下列哪兩項國家成立的目的？(甲)保障人民安全 (乙)維護社會秩序 (丙)保存文化傳統 (丁)發展社會福利
- (A)甲乙 (B)甲丁 (C)乙丙 (D)乙丁。

發表人	內容
小琪	無薪假人數增加，許多家庭陷入經濟困境。
廷尹	離婚率上升，單親家庭需要社會協助照顧孩子。
巧柔	酒後駕車肇事增加，民眾缺乏用路的安全感。
可興	網路詐騙層出不窮，民眾不易察覺常受騙。

試題結束

