

科目：社會

適用班級：701-707

高中部

國中部

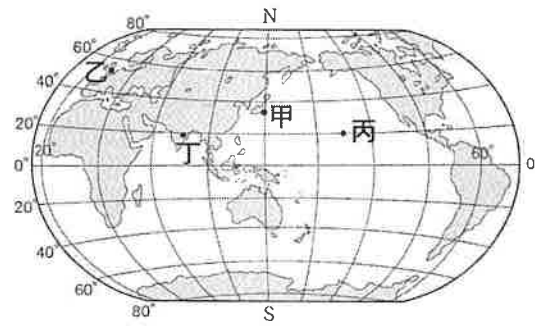
學生班級：_____ 學生姓名：_____ 座號：_____

一、單題

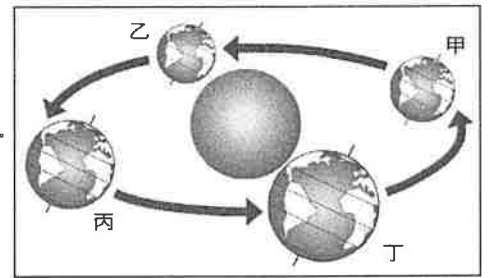
- 有一則房屋銷售的廣告，標榜此建案為地標首席，下列廣告中的內容，何者符合「絕對位置」的敘述？
 (A)公園正對面 樹海當鄰居 (B)鄰近捷運站 黃金行動力
 (C)夜市百貨旁 時尚便利購 (D)銷售中心：永和區永平路 308 號。
- 圖(一)為臺灣行政區圖，甲、乙、丙、丁四個行政區中哪一個的行政層級與其他三者不同？
 (A)甲 (B)乙 (C)丙 (D)丁。
- 我們這一家正為了「地球」的海陸分布特徵爭論不休。根據圖(二)的資訊判斷，誰的說法與事實不符？
 (A)花媽：「依據計算，全球陸地面積占地球的 2/3 以上。」 (B)柚子：「世界最大的海洋位於圖中丙處。」
 (C)花爸：「以陸地面積來說，北半球陸地所占的比例較大。」 (D)橘子：「乙地所在的位置是歐洲。」



▲圖(一)

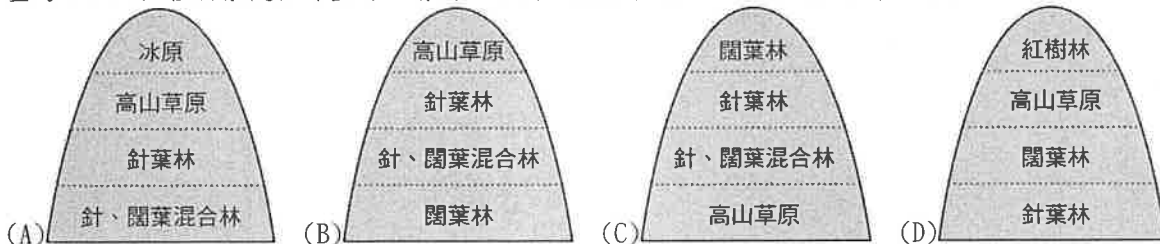


▲圖(二)



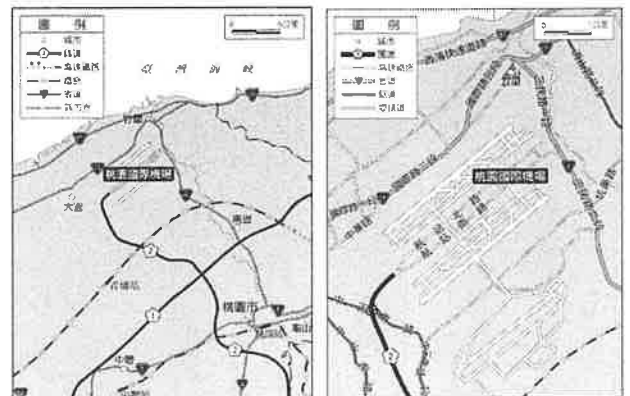
▲圖(三)

- 兩週前的星期一(9/23)地理老師在課堂上說：「今天正值秋分，從明天開始，我們進入晝短夜長的半年。」因此，地球現在正在圖(三)地球公轉示意圖中哪的兩個點之間運行？
 (A)甲—乙 (B)乙—丙 (C)丙—丁 (D)丁—甲。
- 臺灣山區天然植物景觀相當豐富。請問：下列四張由平地至山區的植物分布示意圖，何者正確？



- 甲、乙兩圖為使用不同比例尺繪製桃園附近相同地點的地圖，關於這兩張地圖的比較，下列何者正確？

	甲圖	乙圖
(A) 北方位置	上方	下方
(B) 圖中內容	詳細	簡略
(C) 涵蓋範圍	小	大
(D) 比例尺大小	小	大



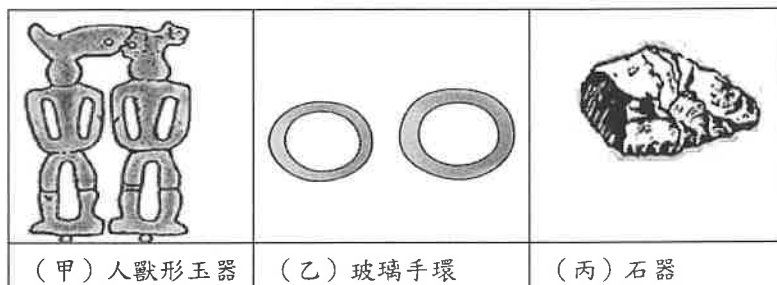
▲甲圖

▲乙圖

- 16 世紀末葉，漢人及日本人活動地從澎湖轉移至臺灣本島是由於什麼原因？
 (A)臺灣地理環境優越 (B)臺灣本島發現金礦
 (C)明朝駐兵澎湖 (D)原住民以利誘之。

8. 附圖是育安參觀臺灣史前文化文物展所看到的物品。若依照文化的演變來看，圖中三項文物出現的時間順序為何？

- (A) 甲乙丙 (B) 甲丙乙
(C) 乙甲丙 (D) 丙甲乙。



9. 在清領時期的臺灣地方縣志中，常可看到以「生番」、「熟番」的名詞來稱呼原住民，當時清朝政府區分生、熟番的標準是？

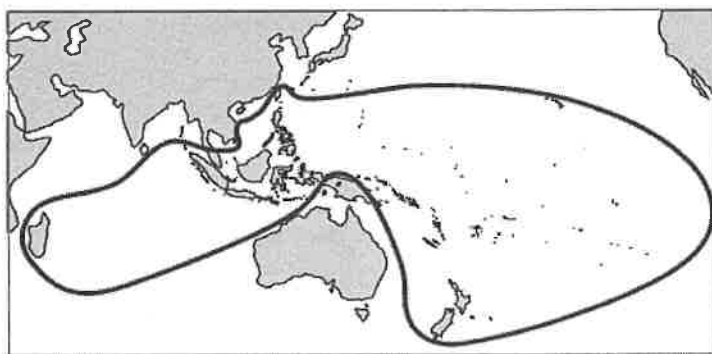
- (A) 是否納稅與服勞役 (B) 識字程度
(C) 打獵或農耕的生活型態 (D) 以種族血統來區分。

10. 考古學家依照史前時代人類使用器具的材質和製作不同，而分為舊石器時代、新石器時代及金屬器時代等三個階段。請問「陶器」最早出現在哪一個階段？

- (A) 舊石器時代 (B) 新石器時代 (C) 金屬器時代 (D) 青銅器時代。

11. 右圖(四)是聶貞看到的一幅圖，若要給這幅圖一個圖名，下列何者最適合？

- (A) 南亞語族分布圖 (B) 歐亞語族分布圖
(C) 南島語族分布圖 (D) 漢藏語系分布圖。



▲圖(四)

12. 西太平洋海域上有一群人，他們的組成成分複雜，除日本人以外，大多為漢人。他們的活動範圍很廣，從東北亞、東亞至東南亞都見到他們的蹤跡。他們成立武裝船隊，掌握經濟及貿易路線，在東亞各地進行貨物交流，例如：顏思齊、鄭芝龍等人都是當時的代表人物。請問：上文中的這群人他們成立武裝船隊，掌握經濟及貿易路線，後代學者基於其亦盜亦商的性質，而稱呼他們為何？

- (A) 海商 (B) 倭寇 (C) 移民 (D) 華僑。

13. 我們在學習一個族群的歷史時，會透過各種資料去說明與解釋。在理解原住民的歷史時，人們大多是使用傳說故事的方式，何者為解釋此現象較合理的原因？

- (A) 原住民的傳說故事可信度最高 (B) 原住民的文字不足以作為歷史考據
(C) 原住民僅留下傳說故事供後人參考 (D) 傳說故事可能反映出早期原住民族的生活與想法。

14. 近期傳出企業裁員消息，勞動部表示，勞工若遭裁員，可至公立就業服務機構申請「失業給付」，協助勞工在後續求職過程中可以維持基本生計。請問：政府提供「失業給付」，主要是在維護人性尊嚴的哪一項內涵？

- (A) 個人擁有自我決定的能力與機會 (B) 個人享有身為人應有的生存條件
(C) 個人的生命與身體應該維持完整 (D) 個人具備價值選擇的自由與權利。

15. 「性別不平等」的問題，有些來自個人過去習慣，有些則來自於整體社會制度。在公民課下課後，有四位同學持續討論性別不平等的議題。請判斷四位同學的敘述，何者有助於消彌性別不平等的現象？


(A)	小竹	學校應該要多鼓勵女同學參加烹飪社培養能力
(B)	阿韻	政府立法改善女性的工作權，是對男生不公平
(C)	豪豪	男生也應該要有育嬰假，一起照顧家中的小孩
(D)	小紫	哺乳室要設置在女廁是因為媽媽才有哺乳的需求

16. 對於自我發展與人性尊嚴的關聯，下列敘述何者錯誤？

- (A) 兩者都強調「做自己」與實現理想的生活 (B) 保障人性尊嚴是維護自我發展的其中一種方式
(C) 人性尊嚴是天生固有的，每個人都應受平等尊重 (D) 無論是否有達到自我發展，人性尊嚴都應受到維護。

17. 下方為一四格漫畫(順序 1-4)，請問漫畫中所呈現的是何種概念？

- (A) 性別刻板印象 (B) 社會性別 (C) 性別偏見 (D) 性別歧視。



18. 謝祥鉸小時候因為家境清寒導致個性自卑內向，常被同學取笑「陰柔」，但他選擇做自己，國中報考舞蹈班，且在舞蹈班練習的過程中逐漸找回自信，現在的他立志要成為舞蹈老師，畢業後回鄉教舞，並用一生來守護舞蹈藝術。上述劃線的這段話，我們可以了解到謝祥鉸實現了自我發展的哪一階段？

- (A) 肯定自我 (B) 展現自我 (C) 自我評估 (D) 認識自我。

19. 一個重視人權的國家，會透過法律的制定具體落實人權保障的內容。下列哪項法律之立法目的與保障人權無關？

	法律名稱	立法目的
(A)	性別工作平等法	為保障性別工作權之平等，貫徹憲法消除性別歧視、促進性別地位實質平等之精神。
(B)	原住民族基本法	為保障原住民族基本權利，促進原住民族生存發展，建立共存共榮之族群關係。
(C)	消費者保護法	為保護消費者權益，促進國民消費生活安全，提昇國民消費生活品質。
(D)	勞動基準法	為規定勞動條件最低標準，保障勞工權益，加強勞雇關係，促進社會與經濟發展。

20. 芳芳錄取了一個新的工作，以下是芳芳和家人的對話：

芳芳：爸，我考取了新的工作，是航空公司的空服員！

爸爸：真是太好了，女生當空服員，可以展現溫柔的氣質，恭喜妳~

芳芳：而且跟你們說，這次考上的 10 位空服員中，有 6 位男生喔！

媽媽：甚麼！男生當空服員真是太可笑了，男生應該沒辦法那麼細心吧？！

請問：媽媽的想法可以用來說明下列何種概念？

- (A)性別平等 (B)社會性別 (C)性別偏見 (D)性別歧視。

21. 右圖(五)是新聞報中的標題，若新聞中的受害者要尋求權利救濟，下列哪一項法律最能提供他們協助？


▲圖(五)



- (A)《性別平等教育法》
 (B)《性別工作平等法》
 (C)《校園霸凌防制準則》
 (D)《兒童及少年福利與權益保障法》。

22. 右圖(六)為萬芳高中校園的一隅，下列有關圖中設施的敘述何者最為恰當？

- (A)該設施建立的目的是為了維護身心障礙者的自我發展
 (B)該設施是為了某些人所設，所以對學生來說是不公平的
 (C)該設施主要服務的對象與「性別友善廁所」完全相同
 (D)該設施的設置展現了維護所有同學人性尊嚴的重要性。



▲圖(六)

23. 為保障不同性別工作權之平等，我國制定了《性別工作平等法》，依據該法律：雇主對求職者或受僱者之招募、甄試、進用、分發、配置、考績或陞遷等，不得因性別或性傾向而有差別待遇。請問：下列哪些徵才廣告的用詞違反該法律的立法精神？(A)甲乙 (B)丙丁 (C)甲乙丙 (D)乙丙丁。

(甲)

(乙)

(丙)

(丁)

萬芳飯店
誠徵 服務人員

1. 相關科系畢業
2. 年滿 20 歲
3. 具外語能力佳
4. 細心溫柔吃苦耐勞

文山社區
誠徵 保全大哥

1. 月休 8 天
2. 需輪夜班
3. 薪水 35000 起

TEL: (02)2230-9585

美人刷刷鍋
(木柵店)誠徵
工作夥伴
洗碗人員
限女性，有經驗佳

豪豪喝果汁吧
誠徵
外送人員
(如懷孕需自動離職)

24. 「台灣人權促進會」是國內專門關注人權議題的組織，近年來，除了針對個案提供協助外，也關注集會遊行權、網路自由與隱私、居住權等議題。請問：下列何者與「台灣人權促進會」所關注的內容最不相關？

(A)

(B)

(C)

(D)

推動「紫錐花運動」
拒絕毒品在校園氾濫
濫維護學生健康

擴大桃園「航空城」
的開發可能造成的
大規模迫遷問題

立法院在《集會遊行
法》中關於「許可制」
與「報備制」的修訂

將全民健康資料釋
出給第三方作應用
及跟其他檔案串連

25. 閱讀以下文字，並回答問題：

2017年爆出好萊塢名製作人哈維·韋斯坦(Harvey Weinstein)涉嫌性侵害、性騷擾數十名女性。許多藝人現身指控當年拍電影時，哈維·韋斯坦利用導演和製作人的身分，要求到飯店「特別指導」。有些人礙於情勢，難以拒絕，以致遭到性侵；有些人勇於拒絕，卻遭到換角，甚至接不到其他公司的電影角色。這事件爆發之後，陸續有多位藝人、製作人被指控有過類似性騷擾和性侵害的行為。

阿莉莎·米蘭諾(Alyssa Milano)以「Me Too」，作為自己網路媒體的狀態(#Me Too)將訊息散布出去，希望大家能凝聚力量並給予受害者支持。因此，透過社群媒體的快速傳播，引發了各國的重視，揭發許多過去藏於檯面下的性別暴力事件。

根據上述內容，下列用來解釋「受害者當時不敢說，而是在事件爆發後才開始陸續指控」的原因，何者最不恰當？

- (A) 因為對方是製作人與導演，掌握工作機會，很多人擔心會失去工作機會
- (B) 性侵害和性騷擾都是由被害人主觀認定，在法律上獲得勝訴的機會不大
- (C) 事件爆發之後，媒體和社會大眾譴責加害者，才讓受害者願意出面指控
- (D) 事件發生的地點通常都很隱密，有時很難作為有力的證據，缺乏說服力。

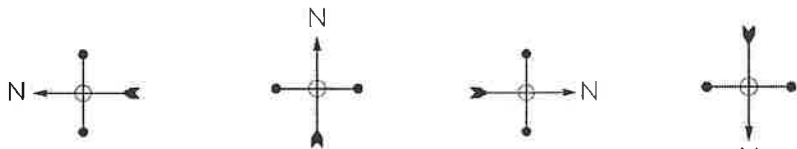
二、題組

(一) 圖(七)為一幅東亞地圖，請問 26~27 題：

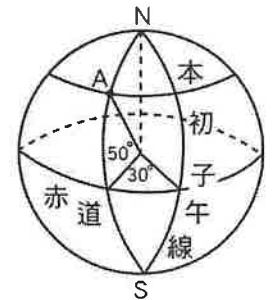
26. 依照實際的情況，此圖的方向標應為下列何者？



▲圖(七)



- (A) (B) (C) (D)
27. 依照圖中的資訊判斷，關於下列各地位置的敘述，何者與實際情況較相符？
- (A) 日本在臺灣的西北方
 - (B) 菲律賓在臺灣的東方
 - (C) 越南在臺灣的西南方
 - (D) 臺灣在中國的東北方。



▲圖(八)

(二) 圖(八)為一地球儀。請問 28~30 題：

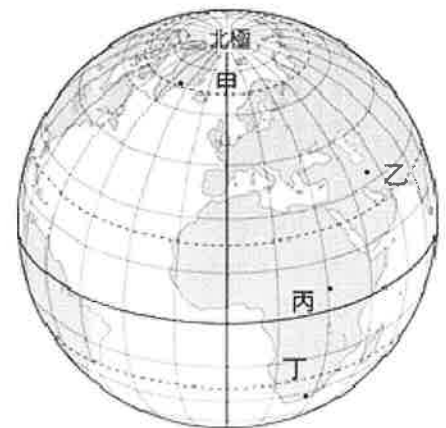
- 28. 根據經緯線所示，A 點的位置為何？
(A) 30°E, 50°N (B) 50°W, 30°N (C) 30°W, 50°N (D) 30°E, 50°S。
- 29. 現在臺灣時間為 10 月 8 日 11:00，則 A 點所在位置現在的時間為何？
(A) 10 月 8 日 1:00 (B) 10 月 8 日 5:00 (C) 10 月 8 日 17:00 (D) 10 月 8 日 21:00。
- 30. 有一隻螞蟻在地球儀上繞著地球由東向西爬行。以同樣的速度沿著下列哪條緯線爬行一圈，需要花費最多的時間？
(A) 0 度 (B) 23.5 度 (C) 66.5 度 (D) 90 度。

(三) 圖(九)為地球經緯線座標網，「·」代表甲、乙、丙、丁四地所在的位置。請問 31~32 題：

- 31. 若只考慮所在位置，圖中何地的氣候最寒冷？
(A) 甲 (B) 乙 (C) 丙 (D) 丁。
- 32. 圖中何地所在的位置，季節和臺灣正好冬、夏相反？
(A) 甲 (B) 乙 (C) 丙 (D) 丁。

(四) 造成臺灣物種多樣的原因包含：(甲)位於大陸邊緣、(乙)寒暖洋流交會、(丙)溫熱帶氣候交界、(丁)位於板塊接觸帶、(戊)孤立的島嶼環境。請問 33~35 題：

- 33. 臺灣鄰近海域的漁業資源豐富，造就了臺灣自古以來近海捕撈的活動相當活躍。臺灣近海有著不同的魚類洄游，帶給臺灣豐富的漁產，主要的因素與下列何項臺灣的地理特性關係最密切？
(A) 甲 (B) 乙 (C) 丙 (D) 丁。



▲圖(九)

34. 圖(十)為台江國家公園的標誌，圖中呈現出當地為國際級保育動物「黑面琵鷺」等眾多鳥類重要的棲息地。黑面琵鷺每年9月至隔年3月會南飛到東亞及東南亞地區度冬，其中台灣為世界最大黑面琵鷺度冬區。請問：臺灣成為成千上萬的候鳥南遷北返時之中間驛站或目的地，主要是因為何種地理特性？

- (A)甲 (B)乙 (C)丙 (D)戊。

35. 圖(十一)的「熊讚」(英語: Bravo)是一隻臺灣黑熊，他是第二十九屆夏季世界大學運動會吉祥物，後來成為臺北市政府的吉祥物。此外，臺灣黑熊曾被票選為臺灣最具代表性的野生動物，不少公司、企業、地方政府，選用臺灣黑熊作為吉祥物。臺灣黑熊是臺灣的特有種生物，臺灣有高比例的特有種生物主要原因為下列何者？

- (A)甲 (B)丙 (C)丁 (D)戊。



▲圖(十)



▲圖(十一)



▲圖(十二)



▲圖(十三)



▲圖(十四)

(五) 圖(十二)為臺灣地區重要史前遺址分布圖，請依附圖回答第36~38題：

36. 圖(十二)中哪個史前文化遺址曾出土各種磨製大型石器；另有貝塚，保存了大量食用後棄置的貝殼、獸骨、魚骨等；而且從石器的類型可判斷當時已經有進步的農業。請問：以上應為圖中哪一文化遺址？

- (A)甲 (B)乙 (C)丙 (D)丁。

37. 圖(十三)為某史前遺址所挖掘出來的煉鐵作坊遺跡。請問：此遺跡最可能位於圖中的何處？

- (A)甲 (B)乙 (C)丙 (D)丁。

38. 臺灣史前遺址，甲~丁依時間順序排列是？

- (A)甲乙丙丁 (B)乙丁甲丙
(C)丙乙丁甲 (D)丁丙乙甲。

(六) 圖(十四)是十七世紀歐洲人在東亞據點分布圖。請依據圖回答第39~40題：

39. 十六至十七世紀時，葡萄牙人占領圖中哪一個地方，作為與中國貿易的據點？

- (A)甲 (B)乙 (C)丙 (D)丁。

40. 亨利是當時隨著荷蘭艦隊來到東方貿易的商人，當時荷蘭人的統治據點在附圖中哪一個地方？

- (A)甲 (B)乙 (C)丙 (D)丁。

(七) 右圖是《圖解臺灣史》一書的其中一篇作者序節錄。請仔細閱讀以下文章之後，回答以下第41~45題問題：

41. 這篇文章寫作於西元2016年，請問應是民國幾年？

- (A)民國108年 (B)民國107年
(C)民國106年 (D)民國105年。

曾經，我很討厭台灣史。我不喜歡它的血淚斑斑，不喜歡它的悲慘過往，也不喜歡它的忿忿不平，因為那總讓我在悲傷與憤怒的情緒之外，更感受到深深地無力。曾經，我對它的態度是視而不見，聽而不聞，希望一直來一直來的未來，能將那些過往沖淡到終致消逝，留給我(們)一個嶄新的、充滿可能性的時空。

然而，慢慢地，隨著年齡的增長，我開始發現社會一切的根源，都離不開過往。社會與人一樣，正是因為有著那樣的過去，所以很多事情，才會是現在的模樣。而活在一個社會裡，有很多問題不能不去追問；而在追問之下，前方都會出現名為「台灣史」的標示。慢慢地，我開始學習撇開情緒。而隨著台灣研究的日漸昌盛，更多不那麼傷痕累累的面相顯露出來了。閱讀文學，實際上也是閱讀著歷史的切片與倒影。逐漸地，我發現過往其實如同現今，有喜有悲，有幸有難。我開始覺得自己就像萬言中那摸象的瞎子，只因之前摸到的部位滿是血腥，便拒絕相信那其中還有滿溢美好的可能。幸好，感謝一路上有師長學友照拂，有書籍論文可讀，使我終不致於盲目到此棄之不顧。最終，歷史還是那部歷史，我卻不是那個我了。

台灣大學台灣文學研究所博士候選人

王
w
y
y

二〇一六年十月十九日夜，於台北

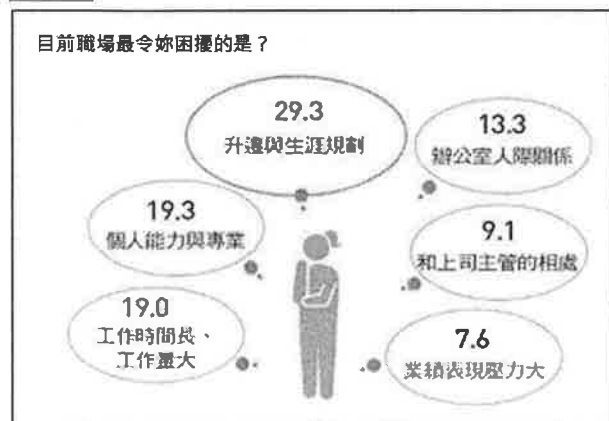
42. 若以中國干支記年來說，這篇文章寫作於歲次何年？（註：今年歲次己亥）
 (A) 甲午年 (B) 丙寅年 (C) 丙申年 (D) 戊戌年。
43. 作者認為，「透過文學，實際上也是閱讀著歷史的切片與倒影」。可見，文學作品，也是「歷史」；請問，文學作品應是屬於哪一層面的「歷史」呢？
 (A) 歷史事件 (B) 歷史紀年 (C) 歷史紀錄 (D) 歷史研究。
44. 作者說，「感謝一路上有師長學友照拂，有書籍論文可讀」，所以終究沒有放棄學業。請問，這裡的「書籍論文」，又應是屬於哪一層面的「歷史」呢？
 (A) 歷史事件 (B) 歷史紀年 (C) 歷史紀錄 (D) 歷史研究。
45. 作者最後說，「歷史還是那部歷史，我卻不是那個我了。」這句話中的「歷史」，指的是什麼層面的「歷史」含意呢？
 (A) 歷史事件 (B) 歷史紀年 (C) 歷史紀錄 (D) 歷史研究。

(八) 閱讀以下資料，並回答 46~48 題：

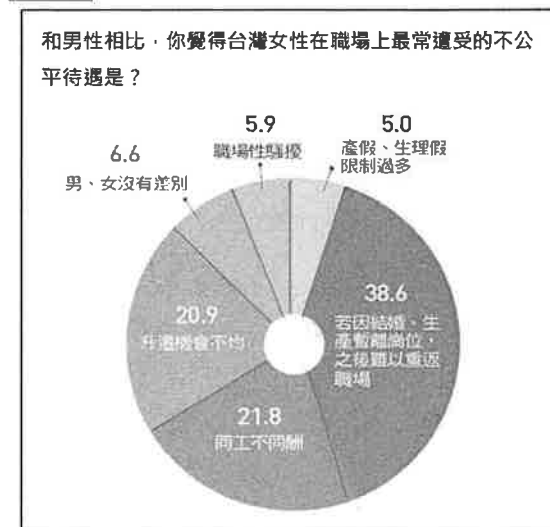
資料一 國際間民意代表、主管及經理人員女性之比率（資料來源：勞動部）

項目別	單位：%										
	2007	2008	2009	2010	2011	2012	2013	2014	2015	2016	2017
中華民國	17.5	17.9	19.4	20.5	21.6	23.2	25.0	25.4	25.3	26.8	27.7
韓國	8.8	9.5	8.6	9.4	10.1	11.0	11.5	11.1	10.3	9.9	12.5
新加坡	30.4	31.4	31.3	34.3	33.9	33.8	33.7	33.9	34.0	35.2	34.5
日本	9.2	9.3	10.7	11.1	11.4	11.0	11.2	11.3	12.4	12.9	13.2
美國	42.7	42.7	42.7	43.0	43.1	43.7	43.4	43.7	43.6	43.8	44.0
法國	37.8	38.5	38.1	38.5	39.3	39.3	36.0	32.7	31.7	32.9	33.4
德國	28.7	29.2	29.7	29.9	30.3	28.6	28.9	29.0	29.3	29.3	29.2
義大利	33.7	33.4	33.8	32.8	25.1	26.0	26.9	26.6	26.6	27.6	27.5
英國	34.4	34.8	35.6	35.7	34.6	34.4	34.0	35.3	35.4	36.0	36.2
荷蘭	28.0	28.1	28.5	28.6	29.3	28.8	24.6	25.4	26.0	25.4	26.6
比利時	33.9	32.7	34.0	34.1	29.9	32.5	31.3	31.7	32.6	32.6	33.4
瑞典	31.6	32.1	32.5	31.3	34.3	35.6	35.6	37.0	39.8	39.2	39.0
瑞士	30.4	30.2	31.5	33.0	33.7	33.7	33.4	34.5	35.6	35.9	34.0
挪威	31.6	31.5	34.0	34.4	31.5	32.2	32.8	35.4	36.0	37.6	38.4
冰島	29.9	32.7	33.3	34.5	40.0	41.2	36.8	35.3	41.2	35.0	30.0

資料二 2018 台灣女性職場生活大調查（單位：%）



資料三 2018 台灣女性職場生活大調查（單位：%）



46. 請從資料一中的內容判斷，下列敘述何者最為正確？
 (A) 從歷年資料來看中華民國女性工作能力遠不及於男性
 (B) 2017 年，韓國性別不平等的現象可能比中華民國嚴重
 (C) 各國女性比率均提高，表示職場上無性別偏見與歧視
 (D) 亞洲國家對女性人性尊嚴的維護比歐美國家來的更好。

47. 請從資料二及資料三的內容判斷，下列敘述何者正確？

- (A)我國《性騷擾防治法》是用來解決資料三中所有的不公平處境
- (B)我國《憲法》中所保障的人權，並不包含「性別平等」的概念
- (C)女性認為升遷及生涯規劃是他們的困擾，是因為她們能力不足
- (D)由資料中可發現，仍有一些人在資源或機會的分配上處於弱勢。

48. 若要解決上述資料中的不公平處境，則下列哪些作法是可行的？(甲)個人：應充分了解與性別平等相關之法律，以保障自己的權利 (乙)社會：鼓勵女性以家務為主，行有餘力再從事兼職工作 (丙)雇主：確立公司升遷及晉用辦法，讓兩性有公平的競爭機會 (丁)政府：建立完善的性別平等法律，並確實稽查企業之作為

- (A)甲乙丙 (B)甲乙丁 (C)甲丙丁 (D)乙丙丁。

(九)閱讀下列選文，並回答 49~50 題：

鍾明軒是網路上知名 Youtuber，2012 年因翻唱歌曲《煎熬》在網路上爆紅，如今，他已經是 19 歲的大學生，鍾明軒不但以「國際美人」的稱號在網路掀起話題，其 Youtube 上的頻道也累積了超過 63 萬的訂閱，儼然成為時下的網路紅人。

鍾明軒雖然是個男生，但個性較為陰柔，所以小時候就常被欺負。回想起國小，他說「班上男生很喜歡模仿我的動作，像是學我走路內八的方式。那時候只要一個人走路，我就會怕有人要捉弄我。我當時還學怎麼走路外八，想把自己弄 Man 一點，變成這個社會喜歡的樣子，想說這樣可能比較不會被弄。」

鍾明軒的媽媽自始至終，都是家中最支持他「做自己」的人，為了他的夢想與快樂，媽媽選擇繼續在鍾明軒身邊默默支持。就算常常因此被爸爸罵，她也只是苦笑一下，從來沒有勉強鍾明軒改變。

小時候的經歷讓鍾明軒備受煎熬，不過他仍然選擇自己想要的生活。他的夢想是要當一個明星，因此在他 18 歲時自己花錢做了一首單曲，這首歌也讓他在網路上打開知名度。在一則專訪中他說「我從不認為生命中做出的任何決定是場錯誤。我也依舊感激自己在追求夢想的路上，一直付出這麼大的努力。我就是一個喜歡表演的人。Everything 都喜歡。我是國際美人鍾明軒。喜歡我的人就喜歡，不喜歡就滾開。」現在的他一掃過去的陰霾，時常透過影片分享生活，成為大家耳熟能詳的「國際美人，鍾明軒」。

49. 文中提及鍾明軒的媽媽很支持他的選擇，讓他可以安心的「做自己」。若從自我發展與人性尊嚴的角度來看，有關「做自己」的意涵下列敘述何者不適當？

- (A)透過人性尊嚴的維護鍾明軒才能保障自我的發展
- (B)鍾明軒能夠自由選擇做自己就是人性尊嚴的展現
- (C)媽媽讓鍾明軒安心做自己就是保障他的自我發展
- (D)鍾明軒只能達成自我發展才能享有基本人性尊嚴。

50. 若以「保障人性尊嚴」的角度來判斷，上文中鍾明軒試圖學習外八的走路方式，讓自己看起來 Man 一點，是讓下列何項人性尊嚴的內涵無法受到維護？

- (A)個人擁有自我決定的能力與機會
- (B)個人享有身為人應有的生存條件
- (C)個人的生命與身體應該維持完整
- (D)個人條件不足須由國家提供資源。

臺北市立萬芳高級中學 一〇八學年度第1學期

第 1 次定期評量

競試

第 次補考

第 次複習考

答案卷

科目：社會

適用班級：701-707

高中部

國中部

1	2	3	4	5	6	7	8	9	10
D	D	A	D	B	D	C	D	A	B
11	12	13	14	15	16	17	18	19	20
C	A	D	B	C	B	D	A	C	C
21	22	23	24	25	26	27	28	29	30
A	D	A	A	B	A	C	C	A	A
31	32	33	34	35	36	37	38	39	40
A	D	B	C	D	C	A	D	B	D
41	42	43	44	45	46	47	48	49	50
D	C	C	D	A	B	D	C	D	A